






| | | | | | |
|-----|--|-----|---|--|---|
| 4+1 |  <p>합이 5인 덧셈식을 찾아서 접어보아요.</p> | 1+5 | | <p>찾고, 접고, 확인해요.</p> <p>@summer anne</p> | 5 |
| 2+4 | | 0+5 | 5 | | 5 |
| 5+0 | | 1+3 | | | |
| 3+1 | | 1+4 | 5 | | |
| 5+1 | | 3+3 | | | |
| 2+3 | | 2+1 | | | |
| 4+3 | | 2+2 | | | |
| 4+2 | | 3+2 | 5 | | |

| | | | | | |
|-----|--|-----|---|--|---|
| 4+4 |  <p>합이 6인 덧셈식을 찾아서 접어보아요.</p> | 4+2 | 6 | <p>찾고, 접고, 확인해요.</p> <p>@summer anne</p> | |
| 6+0 | | 2+3 | | | 6 |
| 3+4 | | 1+5 | 6 | | |
| 5+2 | | 2+2 | | | |
| 5+1 | | 0+6 | 6 | | |
| 4+4 | | 4+3 | | | |
| 3+2 | | 3+3 | 6 | | |
| 2+4 | | 6+1 | | | |

| | | | | | |
|-----|--|-----|---|--|---|
| 0+7 |  <p>합이 7인 덧셈식을 찾아서 접어보아요.</p> | 2+4 | | <p>찾고, 접고, 확인해요.</p> <p>@summer anne</p> | 7 |
| 4+4 | | 6+1 | 7 | | |
| 3+4 | | 3+2 | | | 7 |
| 2+3 | | 2+5 | 7 | | |
| 3+3 | | 3+5 | | | |
| 1+6 | | 7+0 | 7 | | 7 |
| 1+7 | | 4+3 | 7 | | |
| 5+2 | | 6+2 | | | 7 |

| | | | | | |
|-----|--|-----|---|--|---|
| 6+2 |  <p>합이 8인 덧셈식을 찾아서 접어보아요.</p> | 0+8 | 8 | <p>찾고, 접고, 확인해요.</p> <p>@summer anne</p> | 8 |
| 3+4 | | 7+1 | 8 | | |
| 5+3 | | 4+4 | 8 | | 8 |
| 2+7 | | 6+3 | | | |
| 5+4 | | 2+6 | 8 | | |
| 1+7 | | 5+2 | | | 8 |
| 3+3 | | 4+1 | | | |
| 8+0 | | 3+5 | 8 | | 8 |

| | | | | | |
|-----|--|-----|---|--|---|
| 9+0 |  <p>합이 9인 덧셈식을 찾아서 접어보아요.</p> | 4+5 | 9 | <p>찾고, 접고, 확인해요.</p> <p>@summer anne</p> | 9 |
| 2+7 | | 8+1 | 9 | | 9 |
| 6+2 | | 5+3 | | | |
| 6+3 | | 3+6 | 9 | | 9 |
| 7+1 | | 4+4 | | | |
| 1+8 | | 0+9 | 9 | | 9 |
| 7+3 | | 5+4 | 9 | | |
| 7+2 | | 6+4 | | | 9 |

| | | | | | |
|------|---|-----|----|--|----|
| 8+2 |  <p>합이 10인 덧셈식을 찾아서 접어보아요.</p> | 3+6 | | <p>찾고, 접고, 확인해요.</p> <p>@summer anne</p> | 10 |
| 5+4 | | 1+9 | 10 | | |
| 7+3 | | 4+6 | 10 | | 10 |
| 10+0 | | 7+4 | | | 10 |
| 8+3 | | 2+8 | 10 | | |
| 9+1 | | 3+9 | | | 10 |
| 6+5 | | 5+5 | 10 | | |
| 6+4 | | 3+7 | 10 | | 10 |


| | | | | | |
|-----|---|------|----|--|----|
| 7+4 | <h1>11</h1> <p>합이 11인 덧셈식을 찾아서 접어보아요.</p> | 9+2 | 11 | <p>찾고, 접고, 확인해요.</p> <p>@summer anne</p> | 11 |
| 8+3 | | 8+4 | | | 11 |
| 5+5 | | 5+6 | 11 | | |
| 6+5 | | 6+3 | | | 11 |
| 8+4 | | 3+8 | 11 | | |
| 2+9 | | 7+5 | | | 11 |
| 3+7 | | 4+7 | 11 | | |
| 9+3 | | 10+1 | 11 | | |

| | | | | | |
|------|---|------|----|--|----|
| 6+7 | <h1>12</h1> <p>합이 12인 덧셈식을 찾아서 접어보아요.</p> | 7+3 | | <p>찾고, 접고, 확인해요.</p> <p>@summer anne</p> | |
| 4+8 | | 3+9 | 12 | | 12 |
| 6+6 | | 7+5 | 12 | | 12 |
| 9+2 | | 5+9 | | | |
| 10+2 | | 11+1 | 12 | | 12 |
| 8+5 | | 6+4 | | | |
| 5+7 | | 9+3 | 12 | | 12 |
| 3+8 | | 8+4 | 12 | | |

| | | | | | |
|------|--|-----|----|--|----|
| 6+7 |  <p>합이 13인 덧셈식을 찾아서, 접어보아요.</p> | 7+6 | 13 | <p>찾고, 접고, 확인해요.</p> <p>@summer anne</p> | 13 |
| 8+7 | | 8+6 | | | |
| 3+10 | | 5+8 | 13 | | 13 |
| 7+5 | | 9+4 | 13 | | |
| 8+5 | | 9+5 | | | 13 |
| 4+9 | | 7+4 | | | 13 |
| 7+7 | | 7+6 | 13 | | |
| 11+2 | | 4+8 | | | 13 |

| | | | | | |
|------|--|------|----|--|----|
| 2+12 |  <p>합이 14인 덧셈식을 찾아서, 접어보아요.</p> | 9+5 | 14 | <p>찾고, 접고, 확인해요.</p> <p>@summer anne</p> | 14 |
| 5+9 | | 9+4 | | | 14 |
| 8+5 | | 12+2 | 14 | | |
| 7+7 | | 9+6 | | | 14 |
| 9+3 | | 6+8 | 14 | | |
| 3+11 | | 8+4 | | | 14 |
| 8+7 | | 6+7 | | | |
| 8+6 | | 4+10 | 14 | | 14 |

| | | | | | |
|------|---|------|----|--|----|
| 8+7 |  <p>합이 15인 덧셈식을 찾아서 접어보아요.</p> | 9+6 | 15 | <p>찾고, 접고, 확인해요.</p> <p>@summer anne</p> | 15 |
| 9+7 | | 7+6 | | | |
| 2+13 | | 7+8 | 15 | | 15 |
| 7+7 | | 12+3 | 15 | | |
| 4+9 | | 6+8 | | | |
| 10+5 | | 4+11 | 15 | | 15 |
| 5+9 | | 8+9 | | | |
| 6+9 | | 14+1 | 15 | | 15 |


| | | | | | |
|------|---|------|----|--|----|
| 7+9 |  <p>합이 16인 덧셈식을 찾아서 접어보아요.</p> | 5+9 | | <p>찾고, 접고, 확인해요.</p> <p>@summer anne</p> | 16 |
| 1+15 | | 12+4 | 16 | | 16 |
| 8+7 | | 8+8 | 16 | | |
| 5+11 | | 9+8 | | | 16 |
| 8+4 | | 14+2 | 16 | | |
| 9+6 | | 7+8 | | | |
| 3+13 | | 10+6 | 16 | | 16 |
| 7+7 | | 9+7 | 16 | | |

| | | | | | | |
|------|---|------|----|--|----|----|
| 8+8 |  <p>합이 17인 덧셈식을 찾아서 접어보아요.</p> | 8+9 | 17 | <p>찾고, 접고, 확인해요.</p> <p>@summer anne</p> | | |
| 4+13 | | 2+15 | 17 | | 17 | |
| 6+9 | | 9+7 | | | | |
| 9+8 | | 12+5 | 17 | | 17 | 17 |
| 5+9 | | 10+7 | 17 | | 17 | |
| 16+1 | | 9+9 | | | | 17 |
| 7+9 | | 14+3 | 17 | | 17 | |
| 6+11 | | 7+8 | | | | 17 |

| | | | | | | |
|------|---|------|----|--|----|----|
| 13+4 |  <p>합이 18인 덧셈식을 찾아서 접어보아요.</p> | 12+6 | 18 | <p>찾고, 접고, 확인해요.</p> <p>@summer anne</p> | | |
| 16+2 | | 15+2 | | | | 18 |
| 14+5 | | 4+14 | 18 | | 18 | |
| 9+8 | | 9+9 | 18 | | 18 | |
| 8+10 | | 7+9 | | | | 18 |
| 3+15 | | 1+17 | 18 | | 18 | 18 |
| 8+8 | | 6+13 | | | | |
| 5+13 | | 11+7 | 18 | | 18 | 18 |

| | | | | | |
|------|---|------|----|--|----|
| 7+8 |  <p>합이 19인 덧셈식을 찾아서 접어보아요.</p> | 10+9 | 19 | <p>찾고, 접고, 확인해요.</p> <p>@summer anne</p> | |
| 2+17 | | 8+9 | | | 19 |
| 13+7 | | 16+3 | 19 | | |
| 5+14 | | 7+12 | 19 | | |
| 9+9 | | 10+8 | | | |
| 17+4 | | 18+1 | 19 | | |
| 6+13 | | 5+15 | | | 19 |
| 8+11 | | 15+4 | 19 | | 19 |

| | | | | | |
|------|---|-------|----|--|----|
| 9+11 |  <p>합이 20인 덧셈식을 찾아서 접어보아요.</p> | 14+6 | 20 | <p>찾고, 접고, 확인해요.</p> <p>@summer anne</p> | 20 |
| 9+9 | | 16+3 | | | |
| 2+18 | | 10+10 | 20 | | 20 |
| 14+8 | | 5+15 | 20 | | |
| 16+4 | | 13+6 | | | 20 |
| 12+9 | | 7+13 | 20 | | |
| 12+8 | | 19+1 | 20 | | 20 |
| 3+17 | | 14+5 | | | 20 |

| | | | | | |
|-----|--|-----|----|--|----|
| 2+2 |  <h1>더블</h1> <p>같은 수를 더하여 답을 말하고 종이를 접어 확인해보세요.</p> | 4+4 | 8 | <p>답을 생각하고, 접어서, 확인해요.</p> <p>@summer anne</p> | 4 |
| 3+3 | | 6+6 | 12 | | 6 |
| 4+4 | | 9+9 | 18 | | 8 |
| 5+5 | | 3+3 | 6 | | 10 |
| 6+6 | | 5+5 | 10 | | 12 |
| 7+7 | | 2+2 | 4 | | 14 |
| 8+8 | | 8+8 | 16 | | 16 |
| 9+9 | | 7+7 | 14 | | 18 |

| | | | | | |
|-----|--|-------|----|--|----|
| 2+2 |  <h1>더블</h1> <p>같은 수를 더하여 답을 말하고 종이를 접어 확인해보세요.</p> | 10+10 | 20 | <p>답을 생각하고, 접어서, 확인해요.</p> <p>@summer anne</p> | 4 |
| 3+3 | | 11+11 | 22 | | 6 |
| 4+4 | | 12+12 | 24 | | 8 |
| 5+5 | | 13+13 | 26 | | 10 |
| 6+6 | | 14+14 | 28 | | 12 |
| 7+7 | | 15+15 | 30 | | 14 |
| 8+8 | | 16+16 | 32 | | 16 |
| 9+9 | | 17+17 | 34 | | 18 |