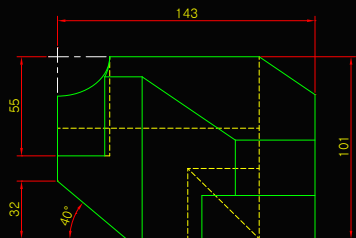
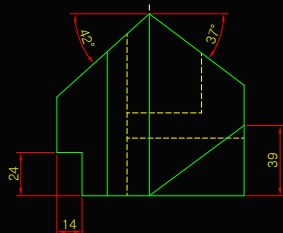


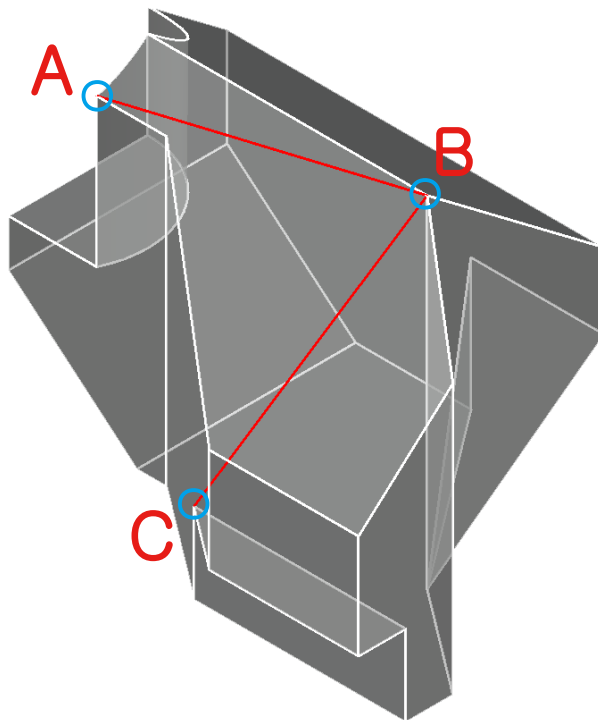
⊙ 평면도



⊙ 정면도



⊙ 우측면도



본 시험 문제의 저작권은 한국생산성본부에 있으며 동의 없이 임의의 편집 및 상업적인 사용을 금합니다.

5. 주어진 문제도면을 보고 3D 모델을 작성한 후, A~C까지의 길이 값을 구하시오.(10점)
(소수점 4자리), 답 입력 시 (12.12 = X, 12.1234 = O)

6. 작성한 3D 모델의 체적을 구하시오.(15점)
(소수점 4자리), 답 입력 시 (123456.12 = X, 123456.1234 = O)