

[11~12] 다음 글을 읽고, 물음에 답하십시오.

가 지우야, 미안.

나 안녕, 나는 석빈이야.
어제 쉬는 시간에 내가 네 필통을 실수로 떨어뜨렸어. 미안. 그건 준영이가 쫓아오는 바람에 그런 거지 처음부터 네 필통을 건드리려고 했던 것은 아니야. 네 필통이 책상 바깥으로 아슬아슬하게 나와 있었거든.

다 지우야, 안녕? 나는 석빈이야.
네 색연필이 망가져서 많이 속상했지?
너의 소중한 물건을 떨어뜨려서 정말 미안해. 앞으로는 조심할게. 똑같은 물건이 될 수는 없지만 다시 사 주고 싶어. 그렇게 해서라도 네 마음이 풀렸으면 좋겠어.
정말로 미안해.

11 **가~다**에 대한 설명으로 알맞은 것은? ()

- ㉠ **가**는 누가 썼는지, 무엇을 사과하려는지 구체적으로 알 수 없다.
- ㉡ **나**는 미안한 마음을 강조하고 있다.
- ㉢ **나**는 받는 사람이 누구인지 알 수 있다.
- ㉣ **다**는 사과하는 글로 가장 알맞다.

- ① ㉠, ㉡ ② ㉠, ㉣
- ③ ㉡, ㉢ ④ ㉡, ㉣

12 **나**를 고쳐 쓰기 위해, 조언할 수 있는 내용으로 알맞은 것은? ()

- ① 누가 쓴 글인지 밝히면 좋겠어.
- ② 미안하다고 사과하는 표현을 쓰면 좋겠어.
- ③ 인사말을 넣어서 더 친근하게 쓰면 좋겠어.
- ④ 변명만 하지 말고, 상대의 마음을 헤아리며 진심으로 미안한 마음을 담으면 좋겠어.

[13~14] 다음 시를 읽고, 물음에 답하십시오.

방학 때 나도 몰래
이사 간 친구

떨어진 은행잎에
담은 이야기

이사 간 친구에게
띄워 보낸다

동동동 은행잎
흘러가다가

어쩌면 내 편지
보지 않을까?

㉠ 편지 보고 가끔은
내 생각 날까?

13 이 시를 읽고 떠올릴 수 있는 경험으로 알맞은 것은? ()

- ① 친구들과 간식을 먹었던 경험
- ② 은행잎이 떨어진 길을 청소했던 경험
- ③ 친구들과 공원에서 나뭇잎을 주웠던 경험
- ④ 전학 간 친구가 생각나서 보고 싶었던 경험

14 ㉠에 담긴 말하는 이의 마음으로 알맞은 것은? ()

- ① 신기한 마음
- ② 즐거운 마음
- ③ 그리운 마음
- ④ 지루한 마음

[15~16] 다음 글을 읽고, 물음에 답하십시오.

1902년에는 콜레라가 크게 유행했다. 콜레라는 제대로 치료받지 못하면 목숨을 잃을 수도 있는 무서운 병이다. 사람들은 무서운 병이 옮을까 봐 환자를 돌보기는커녕 그 근처에도 가지 않으려 했다.

딸랑딸랑.

조용한 마을에 당나귀 방울 소리가 들려왔다. 그 소리를 들은 환자들이 닫혀 있던 문을 힘겹게 열었다.

“선생님, 의사 선생님. 정말로 와 주셨군요! 제발 저희를 치료해 주세요.”

“그럼요. 환자가 있는 곳이라면 어디든 가야죠.”

사람들은 험한 곳을 제 발로 찾아가는 에스더가 고마우면서도 걱정스러웠다.

“선생님은 콜레라가 무섭지도 않으세요?”

“저도 두려워요. 그렇지만 그렇게 많은 사람이 저를 기다리고 있는걸요. 저분들을 치료하는 게 제 일입니다.”

에스더는 집집마다 들어서 환자들의 병을 살펴보고 최선을 다해 치료했다.

15 이 글에서 인물들이 처한 상황으로 알맞은 것은? ()

- ① 많은 사람이 콜레라에 걸렸다.
- ② 콜레라는 쉽게 치료할 수 있었다.
- ③ 사람들이 활기차게 살아가고 있었다.
- ④ 많은 의사가 아픈 사람들을 돌봐 주었다.

16 이 글의 분위기로 알맞은 것은? ()

- ① 놀랍고 신비롭다.
- ② 차분하고 평화롭다.
- ③ 불안하고 우울하다.
- ④ 활기차고 소란스럽다.

[17~18] 다음 글을 읽고, 물음에 답하십시오.

가 여러분은 자전거를 탈 때 안전모를 착용하나요? 요즘 자전거를 타는 어린이는 많지만 안전모를 바르게 착용하는 어린이는 적습니다. 한 기관의 조사에 따르면, 자전거를 탈 때 안전모를 쓰는 사람은 다섯 명 가운데 한 명밖에 되지 않는다고 합니다. 자전거를 탈 때에는 꼭 안전모를 착용해야 합니다.

나 자전거를 탈 때 왜 안전모를 써야 할까요? 자전거를 타다가 넘어지면 바닥에 머리를 먼저 부딪치는 일이 많아 머리를 다치기 쉽기 때문입니다. 안전모는 머리와 얼굴을 보호해 주어 큰 부상을 막을 수 있습니다. 2023년 질병관리청의 자료에 따르면, ㉠자전거를 탈 때 안전모를 쓰면 두 명 가운데 한 명은 머리 다치는 것을 예방할 수 있다고 합니다. 특히 비가 오거나 눈이 오는 날, 흙길처럼 미끄러운 길에서는 효과가 더 큼니다.

17 나 의 중심 내용으로 알맞은 것은? ()

- ① 자전거를 타면 좋은 점
- ② 자전거 탈 때 안전모를 써야 하는 까닭
- ③ 자전거 탈 때 발생할 수 있는 여러 가지 사고
- ④ 자전거를 타기에 좋은 장소와 좋지 않은 장소

18 ㉠의 출처로 알맞은 것은? ()

- ① 안전모 판매점
- ② 한 기관의 조사
- ③ 안전모를 쓴 사람
- ④ 2023년 질병관리청의 자료

19 글에서 활용한 자료의 출처를 밝히면 좋은 점으로 알맞은 것은? ()

- ① 글을 쉽게 이해할 수 있다.
- ② 글쓴이의 마음에 공감할 수 있다.
- ③ 상황을 실감 나게 표현할 수 있다.
- ④ 글에서 활용한 자료가 믿을 만한지 확인할 수 있다.

21 다음 ㉠~㉣ 가운데 상황에 맞는 대화 예절로 알맞은 것은? ()

㉠ 잘 들릴 수 있게 항상 큰 소리로 대화한다.
 ㉡ 웃어른과 대화할 때에는 공손한 태도로 대화한다.
 ㉢ 즐거운 대화를 하기 위해 대화 주제와 관련 없는 말을 해도 좋다.
 ㉣ 여럿이 놀 때 껏속말을 하면 다른 친구가 소외감을 느낄 수 있으니 주의한다.

- ① ㉠, ㉡
- ② ㉠, ㉣
- ③ ㉡, ㉣
- ④ ㉡, ㉢

20 다음 ㉠과 ㉡에 들어갈 말로 알맞은 것은? ()

높임 표현을 사용하는 상황

높임 표현은 여러 가지 상황에서 사용할 수 있습니다. 먼저, ㉠ 껏는 높임 표현을 사용해야 합니다. 또 평소에는 반말을 하는 친구 사이일지라도 회의나 발표와 같은 ㉡ 상황에서는 높임 표현을 사용해야 합니다. 처음 만난 사이처럼 가깝지 않은 사이에서는 주로 높임 표현을 사용합니다.

- | | |
|-------|------|
| ㉠ | ㉡ |
| ① 친구 | 일상적 |
| ② 친구 | 공식적 |
| ③ 웃어른 | 공식적 |
| ④ 웃어른 | 비공식적 |

22 <보기>의 낱말에서 바뀌지 않는 부분과 기본형에 해당하는 것은? ()

보기

넓고 넓어서 넓지 넓으면 넓은

- | | |
|------------------|------------|
| <u>바뀌지 않는 부분</u> | <u>기본형</u> |
| ① 넓 | 넓다 |
| ② 넓 | 넓어 |
| ③ 넓어 | 넓어서 |
| ④ 넓어 | 넓었다 |

23 <보기>의 낱말을 국어사전에 실린 차례대로 바르게 나열한 것은? ()

보기

고양이 고추 반지 가방

- ① 가방 - 고추 - 고양이 - 반지
- ② 가방 - 고양이 - 고추 - 반지
- ③ 고양이 - 반지 - 고추 - 가방
- ④ 반지 - 고추 - 고양이 - 가방

25 이 글과 같이 의견을 제시하는 글을 쓰는 방법으로 알맞지 않은 것은? ()

- ① 문제 상황에 어울리는 의견을 제시한다.
- ② 의견을 뒷받침하는 적절한 이유를 쓴다.
- ③ 다양한 이유를 중복되지 않게 제시한다.
- ④ 문제 해결에 도움이 되지 않는 의견을 제시해도 괜찮다.

[24~25] 다음 글을 읽고, 물음에 답하시오.

급식 시간에 편식을 하는 친구들이 종종 있습니다. 어떤 친구는 자기가 좋아하는 반찬만 골라 먹고 싫어하는 반찬은 아예 먹지 않기도 합니다. 하지만 저는 음식을 골고루 먹어야 한다고 생각합니다. 그 이유에 대해 살펴보겠습니다.

첫째, 음식을 골고루 먹어야 우리 몸에 필요한 여러 영양소를 얻을 수 있습니다. 근육을 만드는 데에는 고기, 생선, 콩 종류가 필요하고, 몸을 움직이는 힘을 얻기 위해서는 곡물 종류가, 몸의 다양한 기능을 조절하기 위해서는 과일, 채소가 필요합니다. 그래서 편식을 하면 우리 몸이 성장하는 데 필요한 영양소를 골고루 공급받지 못할 수 있습니다.

둘째, 자신이 경험해 보지 못한 다양한 음식을 즐길 수 있습니다. 자신이 싫어하는 재료가 들어간 음식이라도 요리 방법에 따라 입맛에 맞을 수 있습니다. 저는 김치를 싫어했는데 김치볶음밥을 맛있게 먹고 난 뒤 김치를 좋아하게 되었습니다. 따라서 싫어하는 음식이라도 가리지 않고 먹어 보는 습관을 들여야 합니다.

24 이 글에서 글쓴이가 제시한 의견으로 알맞은 것은? ()

- ① 음식을 골고루 먹어야 한다.
- ② 급식실에서 질서를 지켜야 한다.
- ③ 직접 요리하는 경험을 가져야 한다.
- ④ 우리 몸에 필요한 영양소에 대해 공부해야 한다.

♣ 수고하셨습니다. ♣

답안지에 답을 정확히 표기하였는지 확인하시오.

초등학교 4학년 기초학력 진단검사

사회

제 2 교시

() 초등학교 4학년 () 반 () 번 이름 ()

※ 검사지의 문항 수(25문항)와 면수(6면)를 확인하시오.
 ※ 답안지에 학교명, 반, 번호, 이름을 정확히 쓰시오.

1 (가), (나)에 대한 설명으로 알맞은 것은? ... ()

(가)



(나)



- ① (가)는 과일을 수확할 수 있는 곳이다.
- ② (가)는 질병을 예방할 수 있는 곳이다.
- ③ (나)는 다양한 책을 읽을 수 있는 곳이다.
- ④ (나)는 친구들과 노래를 부를 수 있는 곳이다.


2 다음 선생님의 질문에 대한 학생들의 대답을 통해 알 수 있는 것으로 알맞지 않은 것은? ()

선생님: 여러 장소에 대한 경험을 발표해 볼까요?



학교 화단에 핀 벚꽃을 봤는데, 참 예뻐요.

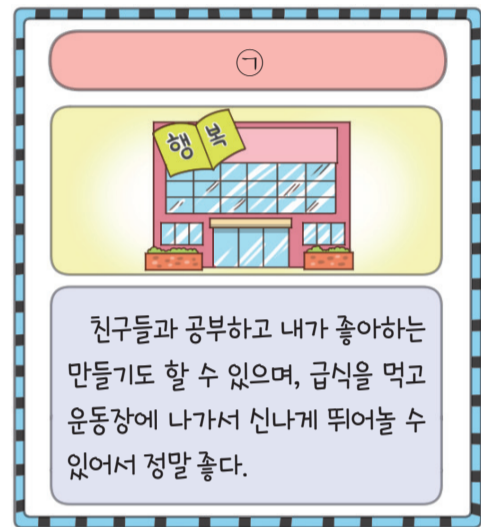
분식집에서 맛있는 떡볶이를 먹어서 좋았어요.



수영장에서 자유형을 배웠는데 재미있었어요.

- ① 우리는 여러 장소에서 다양한 경험을 한다.
- ② 장소에서의 경험과 관련된 자신의 생각을 말할 수 있다.
- ③ 장소가 달라도 사람들이 생각하거나 느끼는 것은 모두 같다.
- ④ 주변 장소에 대한 경험을 떠올리며 장소에 대한 느낌을 말할 수 있다.

3 다음 장소 카드의 ㉠에 들어갈 장소로 알맞은 것은? ()



- ① 시장
- ② 학교
- ③ 병원
- ④ 미술관

4 우리 생활에 도움을 주는 장소를 찾기 위해 디지털 영상 지도를 활용하는 방법으로 알맞지 않은 것은? ()

- ① 찾은 장소의 위치를 확인한다.
- ② 인터넷을 활용하여 국토 정보 맵에 접속한다.
- ③ 찾고 싶은 장소의 이름을 입력하여 검색한다.
- ④ 확대나 축소가 어려워서 한 장소만 볼 수 있다.

5 우리가 사는 곳을 더 살기 좋은 곳으로 만들기 위해 노력한 모습 중 다음 사진과 관련 있는 것은? ()



- ① 자전거 전용 도로를 만들었다.
- ② 차가 다니지 않는 도로를 만들었다.
- ③ 물건을 살 수 있는 상가를 만들었다.
- ④ 안심하고 다닐 수 있는 지하 차도를 만들었다.

6 우리가 사는 곳을 더욱 살기 좋은 곳으로 만들기 위해 필요한 것으로 알맞지 않은 것은? ()

- ① 안전한 시설이 많아져야 한다.
- ② 깨끗한 환경을 위한 시설이 많아져야 한다.
- ③ 어른들만 이용할 수 있는 시설이 많아져야 한다.
- ④ 문화생활을 즐길 수 있는 시설이 많아져야 한다.


7 시간을 나타내는 말에 대한 설명으로 알맞은 것을 <보기>에서 모두 고른 것은? ()

보기


- ㉠ 과거는 이미 지나간 시간을 말한다.
- ㉡ 세기는 10년 동안을 세는 단위이다.
- ㉢ 현재는 앞으로 다가올 시간을 말한다.
- ㉣ 연도는 어느 한 해 동안을 가리키는 말이다.
- ㉤ '내일', '나중에' 등은 아직 오지 않은 시간을 말한다.

- ① ㉠, ㉡
- ② ㉠, ㉢
- ③ ㉠, ㉢, ㉤
- ④ ㉡, ㉣, ㉤

8 나에게 일어난 중요한 일을 중심으로 연표를 만들기 위해 자료를 조사하는 방법으로 알맞지 않은 것은? ()



① ▲ 육아 일기 읽어 보기



② ▲ 사진이나 영상 살펴보기

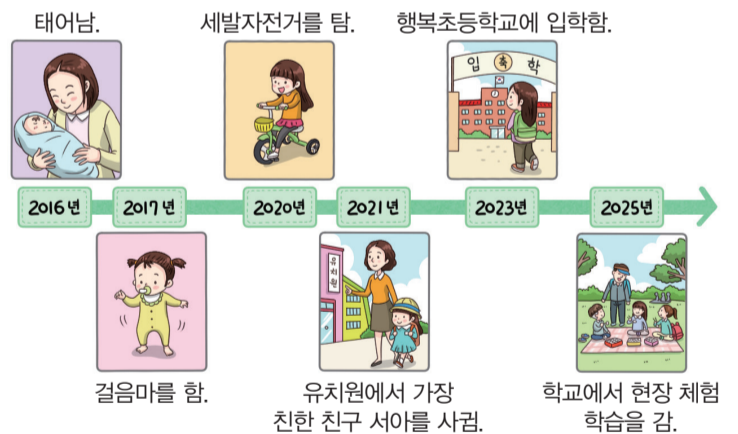


③ ▲ 할머니와 함께 그림책 읽기



④ ▲ 예전에 쓰던 물건 확인하기

9 다음 해인이가 만든 '연표'에 대한 설명으로 알맞지 않은 것은? ()



- ① 일이 일어난 순서를 알 수 있다.
- ② 미래에 일어날 일을 알 수 있다.
- ③ 중요한 사건을 한눈에 알아볼 수 있다.
- ④ 시간의 흐름에 따라 달라진 모습을 알 수 있다.

10 옛날 사람들이 사용하던 물건과 그 이름을 바르게 짝지은 것은? ()

(가)



(나)



(다)



(라)



- ① (가) - 풍금
- ③ (다) - 타자기

- ② (나) - 라디오
- ④ (라) - 도시락

11 오래된 물건이나 자료를 찾을 때 주의할 점을 바르게 설명한 학생은? ()

- ① 준현: 요즘 만든 물건만 찾아볼 거야.
- ② 승후: 너무 오래된 물건이나 자료는 찾아보지 않을 거야.
- ③ 서아: 내가 좋아하는 새로운 물건들을 중심으로 찾아볼 거야.
- ④ 이안: 오래된 물건이나 자료가 훼손되지 않도록 조심할 거야.

12 다음 대화를 통해 알 수 있는 내용으로 알맞지 않은 것은? ()

할아버지께서 사셨던 광양의 옛날 모습과 오늘날의 모습은 어떻게 달라졌어요?

옛날에는 바닷가에서 김을 채취하거나 고기를 잡았던 사람들이 많았는데, 요즘에는 제철소가 생기면서 그곳에서 일하는 사람들이 많아졌다.



- ① 옛날에는 바다를 이용하여 생활했다.
- ② 광양 사람들이 주로 하는 일이 달라졌다.
- ③ 문헌으로 지역의 달라진 모습을 확인하고 있다.
- ④ 증언으로 지역의 달라진 모습을 조사하고 있다.

13 지역의 달라진 모습을 조사하기 위한 방법으로 알맞지 않은 것은? ()

- ① 우리 가족 사진첩 만들기
- ② 시·군·구청 누리집 검색하기
- ③ 인터넷에서 사진이나 영상 자료 찾아보기
- ④ 관련 장소에 직접 찾아가서 사진이나 영상 찍기

14 ㉠, ㉡에 들어갈 말을 바르게 짝지은 것은? ()

태어나는 아이의 수가 점점 줄어들어 출산율이 감소하는 현상을 (㉠)이라고 하고, 전체 인구 중에서 65세 이상인 노인의 수가 차지하는 정도가 커지는 현상을 (㉡)이라고 한다.

- | | |
|-------|-------|
| ㉠ | ㉡ |
| ① 저출산 | 고령화 |
| ② 저출산 | 세계화 |
| ③ 고령화 | 저출산 |
| ④ 고령화 | 지능정보화 |

16 다음 밑줄 친 노력으로 알맞지 않은 것은? ()

서로 다른 문화를 가진 다양한 사람들이 함께 어울려 살아가기 위해 여러 가지 노력이 필요하다.

- ① 서로 다른 문화를 존중하는 태도를 가진다.
- ② 서로의 문화를 체험할 수 있는 행사를 연다.
- ③ 나와 다른 문화를 구분하고 다르게 대우한다.
- ④ 서로 간의 차이를 인정하고 차별하지 않는다.

15 우리 사회에 (가), (나)와 같은 문제점이 발생하는 데 영향을 준 사회 변화로 알맞은 것은? ()



- ① 저출산
- ② 고령화
- ③ 세계화
- ④ 지능정보화

17 반려동물과 함께 사는 사람들이 많아지면서 나타난 문화로 알맞은 것은? ()

- ① 반려동물을 위한 시설이 줄어들고 있다.
- ② 반려동물과 관련된 직업이 줄어들고 있다.
- ③ 버려지는 반려동물의 수가 크게 줄어들었다.
- ④ 여행이나 운동 등 여가 활동에 반려동물과 함께 하는 경우가 늘어나고 있다.

18 옛날과 오늘날의 놀이를 비교한 내용으로 알맞지 않은 것은? ()

- ① 오늘날에는 혼자서 하는 놀이가 많아졌다.
- ② 옛날에는 계절에 따라 하는 놀이가 달랐다.
- ③ 옛날에는 남자와 여자가 주로 하는 놀이가 달랐다.
- ④ 오늘날에는 주로 자연이나 생활 주변에서 놀이 도구를 찾거나 직접 만든다.

19 다음은 옛날의 결혼식 모습을 나타낸 것이다. 이에 대해 설명한 내용으로 알맞은 것은? ()



- ① 결혼식이 끝나면 신혼여행을 떠난다.
- ② 신랑과 신부 둘만 참여하여 혼례를 치른다.
- ③ 신부가 신랑 집안의 어른들께 폐백을 드린다.
- ④ 결혼식장에서 턱시도와 웨딩드레스를 입는다.

20 명절과 세시 풍속을 알맞게 짝지은 것은? ()

- ① 단오: 쥐불놀이
- ② 추석: 부채 주고받기
- ③ 설날: 복조리 걸어두기
- ④ 정월 대보름: 창포물에 머리 감기

21 ㉠에 들어갈 말로 알맞지 않은 것은? ()



교통이 발달하면서 우리 생활이 매우 편리해졌어.

맞아. (㉠)



- ① 먼 곳까지 더 빠르게 갈 수 있게 되었어.
- ② 사람들의 생활 범위가 점점 좁아지고 있어.
- ③ 한 번에 더 많은 사람을 태울 수 있게 되었어.
- ④ 다른 지역에서 만든 물건을 빠르게 받아 볼 수 있게 되었어.

22 ㉠에 들어갈 교통수단으로 알맞은 것은? ... ()

〈교외 체험 학습 보고서〉	
체험 일시	2000년 00월 00일
체험 장소	제주도
이용한 교통수단	㉠
느낀 점	<ul style="list-style-type: none"> • 편리하게 이동할 수 있었다. • 하늘에서 바라본 구름이 멋있었다.

- ① 가마
- ② 나룻배
- ③ 비행기
- ④ 자전거

23 다음 주제와 관련된 발표 내용으로 알맞지 않은 것은? ()

주제: 교통의 변화로 생긴 문제를 해결하기 위한 노력

- ① 생태 통로를 없앤다.
- ② 방음벽을 도로 주변에 설치한다.
- ③ 친환경 에너지를 사용하는 교통수단을 이용한다.
- ④ 보행자와 운전자가 지켜야 할 안전 수칙을 만든다.

24 ㉠~㉣에 해당하는 옛날의 통신수단을 바르게 짝지은 것은? ()



- | | | |
|------|------|------|
| ㉠ | ㉡ | ㉢ |
| ① 서찰 | 파발 | 봉수 |
| ② 서찰 | 신호 연 | 봉수 |
| ③ 방 | 북 | 신호 연 |
| ④ 방 | 신호 연 | 북 |

25 오늘날 통신수단의 변화에 따라 달라진 생활 모습으로 알맞지 않은 것은? ()

- ① 물건을 사려면 시장에 가야만 한다.
- ② 병원에 직접 가지 않아도 진료를 받을 수 있다.
- ③ 먼 곳에 있는 사람들과 화상 회의를 할 수 있다.
- ④ 모바일 메신저로 친구들과 실시간으로 대화를 나눌 수 있다.

♣ 수고하셨습니다. ♣
 답안지에 답을 정확히 표기하였는지 확인하십시오.

초등학교 4학년 기초학력 진단검사

수 학

제 3 교시

() 초등학교 4학년 () 반 () 번 이름 ()

※ 검사지의 문항 수(25문항)와 면수(6면)를 확인하십시오.
 ※ 답안지에 학교명, 반, 번호, 이름을 정확히 쓰시오.

1 지범이와 아영이가 말하는 수를 바르게 쓴 것은?
 ()

100이 3개, 10이 5개,
1이 2개인 수야.



지범

100이 2개, 10이 35개,
1이 8개인 수야.



아영

- ① 지범: 352, 아영: 558
- ② 지범: 352, 아영: 243
- ③ 지범: 351, 아영: 558
- ④ 지범: 351, 아영: 538

2 4장의 수 카드 중에서 3장을 골라 한 번씩만 사용하여 세 자리 수를 만들려고 한다. 만들 수 있는 가장 큰 수와 가장 작은 수의 합은? ()



- ① 1132 ② 1489
- ③ 1547 ④ 1962

3 다음 중 선분인 것은? ()

- ①
- ②
- ③
- ④

4 다음 <보기> 중 직각이 있는 것을 모두 찾은 것은?
 ()



- ① ㉠, ㉡ ② ㉡, ㉢
- ③ ㉢, ㉣ ④ ㉡, ㉣

5 길이가 36 cm인 철사를 남김없이 사용하여 가장 큰 정사각형을 만들려고 한다. 만들 수 있는 정사각형의 한 변의 길이는? ()



- ① 8 cm ② 9 cm
- ③ 10 cm ④ 11 cm

14 다음 나눗셈식에서 나머지가 큰 것부터 순서대로 기호를 쓴 것은? ()

㉠ $76 \div 3$ ㉡ $45 \div 6$ ㉢ $96 \div 7$

- ① ㉠, ㉡, ㉢ ② ㉡, ㉠, ㉢
 ③ ㉢, ㉡, ㉠ ④ ㉢, ㉠, ㉡

15 다음 나눗셈은 나머지가 없이 나누어떨어진다. 1부터 9까지의 수 중에서 ♥에 들어갈 수 있는 수 중 가장 큰 수는? ()

$4 \overline{) 15 \heartsuit}$

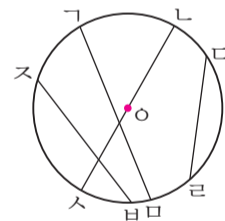
- ① 3 ② 4
 ③ 5 ④ 6

16 다음 나눗셈식에 대하여 잘못 말한 사람은? ()

$86 \div 6$

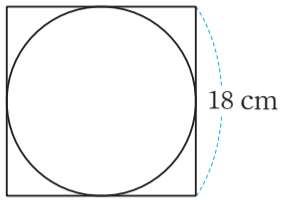
- ① 영지: 나눗셈식의 몫은 14야.
 ② 제니: 나눗셈식의 나머지는 2야.
 ③ 지수: $6 \times 14 = 84$, $84 + 2 = 86$ 으로 계산이 맞는지 확인해 볼 수 있어.
 ④ 다라: 나누는 수는 86, 나누어지는 수는 6이야.

17 점 O이 원의 중심일 때 길이가 가장 긴 선분은? ()



- ① 선분 ㉠ ② 선분 ㉡
 ③ 선분 ㉢ ④ 선분 ㉣

18 다음 그림과 같이 정사각형 안에 원을 꼭맞게 그렸을 때 원의 반지름의 길이는? ()



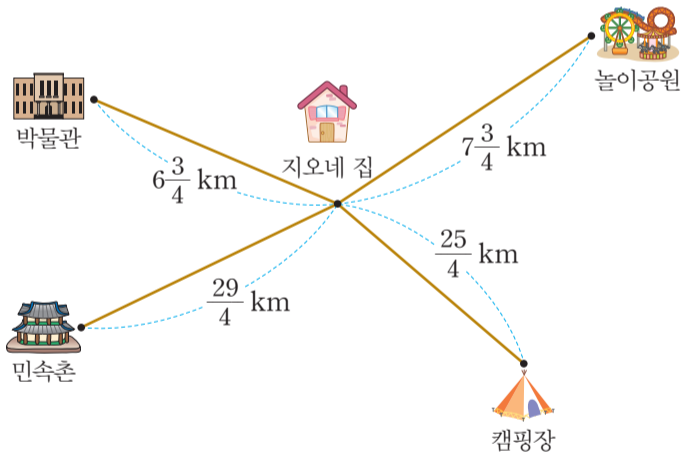
- ① 18 cm
- ② 12 cm
- ③ 9 cm
- ④ 8 cm

20 다음을 보고 소윤이가 피아노 연습을 몇 시간 동안 했는지 바르게 구한 것은? ()

소윤: 12시간의 $\frac{1}{6}$ 만큼 피아노 연습을 했어.

- ① 1시간
- ② 2시간
- ③ 3시간
- ④ 4시간

19 다음 그림에서 지오네 집에서 가장 가까운 곳은? ()




- ① 박물관
- ② 민속촌
- ③ 놀이공원
- ④ 캠핑장

21 무게가 2 kg 510 g인 빈 가방에 짐을 넣고 무게를 재었더니 4 kg 800 g이 되었다. 가방 안에 넣은 짐의 무게는? ()

- ① 2010 g
- ② 2150 g
- ③ 2290 g
- ④ 3290 g

22 사과, 참외, 복숭아, 배 중에서 가장 가벼운 과일은?
..... ()



- ① 사과
- ② 참외
- ③ 복숭아
- ④ 배

23 연우네 반은 단체 티셔츠를 맞췄다. 티셔츠 한 장의 무게는 50g이고 연우네 반 학생은 모두 20명일 때 연우네 반 학생들의 티셔츠의 무게는 모두 몇 kg인지 바르게 구한 것은? ()

- ① 0.5 kg
- ② 1 kg
- ③ 1.5 kg
- ④ 2 kg

[24~25] 다음은 봉어빵 가게에서 오늘 종류별로 팔린 봉어빵 수를 조사하여 그림그래프로 나타낸 것입니다. 물음에 답하세요.

종류별 팔린 봉어빵 수

종류	봉어빵 수
피자 봉어빵	
슈크림 봉어빵	
딸 봉어빵	
초코 봉어빵	

100개 10개 1개

24 내가 만약 봉어빵 가게의 사장이라면 내일 어떤 재료를 가장 많이 준비하면 좋을지 고른 것은?
..... ()

- ① 피자
- ② 슈크림
- ③ 딸
- ④ 초코

25 가장 많이 팔린 봉어빵과 가장 적게 팔린 봉어빵의 개수의 차는? ()

- ① 305개
- ② 276개
- ③ 267개
- ④ 186개

♣ 수고하였습니다. ♣

답안지에 답을 정확히 표기하였는지 확인하시오.

초등학교 4학년 기초학력 진단검사

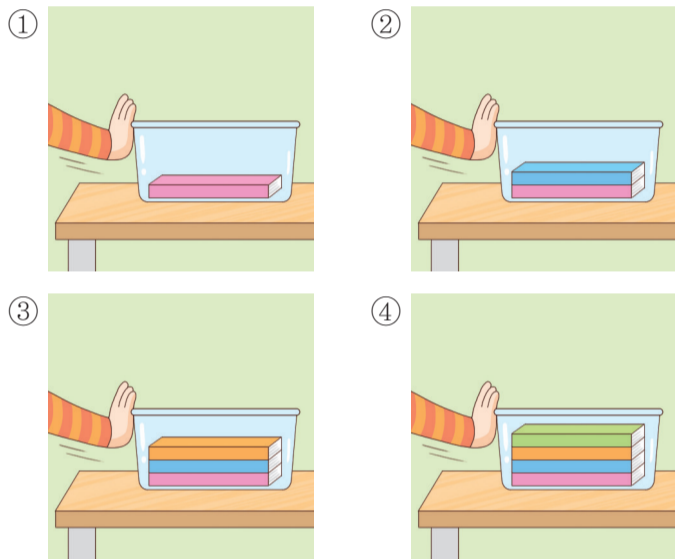
과학

제 4 교시

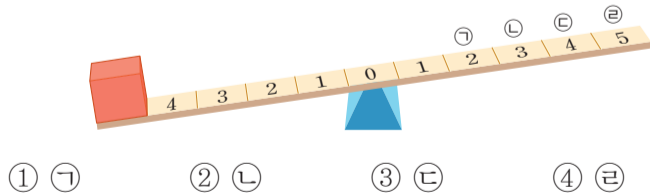
() 초등학교 4학년 () 반 () 번 이름 ()

※ 검사지의 문항 수(25문항)와 면수(6면)를 확인하십시오.
 ※ 답안지에 학교명, 반, 번호, 이름을 정확히 쓰시오.


1 다음과 같이 책을 넣은 플라스틱 통을 손으로 밀 때, 가장 큰 힘이 드는 것은? ()



2 무게가 같은 두 개의 나무토막 중 한 개를 수평대에 올렸다. 수평을 잡기 위해 남은 나무토막을 올려놓을 위치로 알맞은 것은? ()




3 전자저울의 각 부분에 대한 설명으로 알맞지 않은 것은? ()



- ① ㉠은 무게를 측정하고자 하는 물체를 올려놓는 부분이다.
- ② ㉡은 물체의 무게가 숫자로 표시되는 부분이다.
- ③ ㉢은 전자저울의 전원을 켜거나 끄는 부분이다.
- ④ ㉣은 저울의 수평을 맞추는 부분이다.


4 빗면을 이용한 예로 알맞지 않은 것은? ()



▲ 시소



▲ 경사로



▲ 사다리차



▲ 구불구불하고 비스듬한 산길

14 다음의 두 물체를 이루고 있는 공통적인 물질로 알맞은 것은? ()



- ① 나무 ② 유리
- ③ 금속 ④ 플라스틱

15 고체, 액체, 기체의 성질에 대한 설명으로 알맞지 않은 것은? ()


- ① 고체는 일정한 모양과 부피를 가진다.
- ② 액체는 담은 그릇에 따라 부피가 변한다.
- ③ 액체는 흐르며, 담은 그릇에 따라 모양이 변한다.
- ④ 기체는 공간을 차지하고, 담은 그릇에 따라 모양이 변한다.

16 자전거를 만들기 위한 물질의 성질에 대해 잘못 말한 학생은? ()



- ① 몸체는 단단한 금속으로 만들면 좋겠어.
- ② 손잡이는 손으로 잡아도 미끄러지지 않는 고무 재질이 잘 맞을 것 같아.
- ③ 페달은 투명한 유리로 만들어서 반짝이게 해야겠어.
- ④ 바퀴는 고무로 만들고 공기를 넣어서 모양을 유지하도록 해야겠지.

17 다음과 같은 모습으로 알 수 있는 사실로 알맞은 것은? ()



- ① 바람은 물속에서만 생긴다.
- ② 지구는 공기로 둘러싸여 있다.
- ③ 바람이 불어도 물체는 전혀 움직이지 않는다.
- ④ 공기는 항상 눈에 보이고 손으로 잡을 수 있다.

18 바닷가 지형이 아닌 것을 <보기>에서 모두 고른 것은? ()



- ① ㉠ ② ㉠, ㉡
③ ㉢, ㉣ ④ ㉡, ㉢, ㉣

19 다음과 같은 갯벌의 소중함을 알리는 홍보물에 들어갈 내용으로 알맞지 않은 것은? ()



- ① 갯벌은 다양한 생물의 서식지이다.
② 갯벌은 물을 깨끗하게 해주는 중요한 자연환경이다.
③ 갯벌은 개발하여 공장 부지로 만드는 것이 훨씬 좋다.
④ 갯벌은 자연체험 학습장으로 이용할 수 있는 소중한 자원이다.

20 소리의 성질에 대한 설명으로 알맞지 않은 것은? ()

- ① 소리가 나는 물체는 무겁다.
② 소리가 나는 물체는 떨림이 있다.
③ 소리가 나는 소리굽쇠에 손을 대면 떨림이 느껴진다.
④ 여러 가지 물체를 이용하여 다양한 소리를 낼 수 있다.

21 다음은 수중 발레 선수들이 물속에서 스피커의 음악 소리를 들으며 연습하고 있는 모습이다. 이때 음악 소리는 무엇을 통해 전달되는가? ()



- ① 물 ② 손
③ 공기 ④ 물안경

초등학교 4학년 기초학력 진단검사



제 5 교시

영 어

() 초등학교 4학년 () 반 () 번 이름 ()

※ 검사지의 문항 수(25문항)와 면수(6면)를 확인하십시오.
※ 답안지에 학교명, 반, 번호, 이름을 정확히 쓰시오.

1번부터 21번까지는 듣고 답하는 문제입니다. 녹음 내용을 잘 듣고, 물음에 답하기 바랍니다. 내용은 한 번만 들려줍니다.

1 다음을 듣고, 그림과 첫소리가 같은 단어를 고르시오. ()




- ① ② ③ ④

2 다음을 듣고, 그림과 일치하는 단어를 고르시오. ()




- ① ② ③ ④

3 다음을 듣고, 그림에 진열되어 있지 않은 과일을 고르시오. ()



- ① ② ③ ④

4 다음을 듣고, 남자 어린이가 좋아하는 동물을 고르시오. ()



5 다음을 듣고, 그림에 가장 어울리는 말을 고르시오. ()



- ①
- ②
- ③
- ④

7 다음을 듣고, 그림에 가장 어울리는 대화를 고르시오. ()



- ①
- ②
- ③
- ④

6 다음을 듣고, 그림에 어울리는 대답으로 알맞은 것을 고르시오. ()



- ①
- ②
- ③
- ④

8 다음을 듣고, 그림에 가장 어울리는 대화를 고르시오. ()



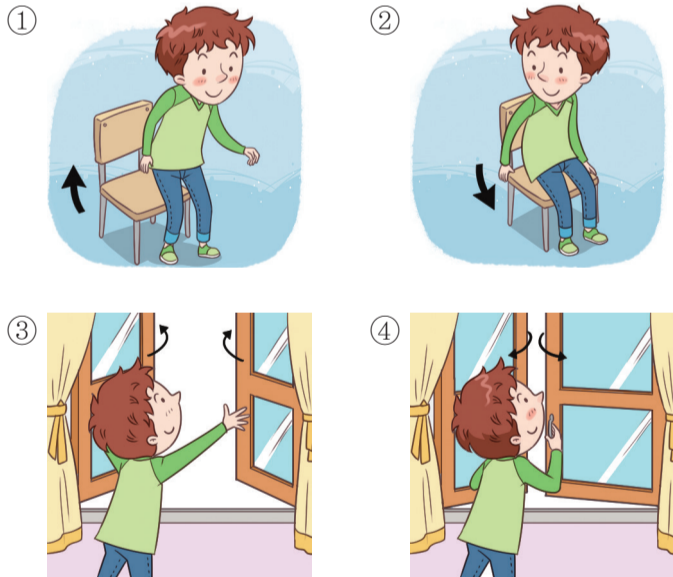
- ①
- ②
- ③
- ④

9 다음을 듣고, 그림에 가장 어울리는 대화를 고르시오. ()



- ①
- ②
- ③
- ④

10 대화를 듣고, 남자 어린이가 할 행동으로 알맞은 것을 고르시오. ()




11 다음을 듣고, 그림 속 남자 어린이가 한 말로 가장 적절한 것을 고르시오. ()



- ①
- ②
- ③
- ④

12 다음을 듣고, 그림 속 남자 어린이가 할 말로 가장 적절한 것을 고르시오. ()



- ①
- ②
- ③
- ④

13 다음을 듣고, 내용과 일치하지 않는 것을 고르시오. ()

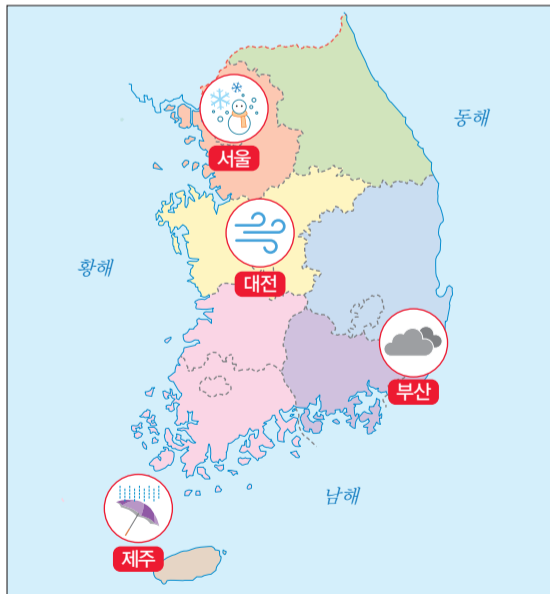
이름: 박지민
 나이: 10세
 좋아하는 과일: 사과
 할 수 있는 것: 수영

- ① ② ③ ④

14 대화를 듣고, 자전거의 색깔로 알맞은 것을 고르시오. ()

- ① 빨강 ② 주황 ③ 노랑 ④ 파랑

15 다음을 듣고, 지도에서 제주의 날씨로 알맞은 것을 고르시오. ()

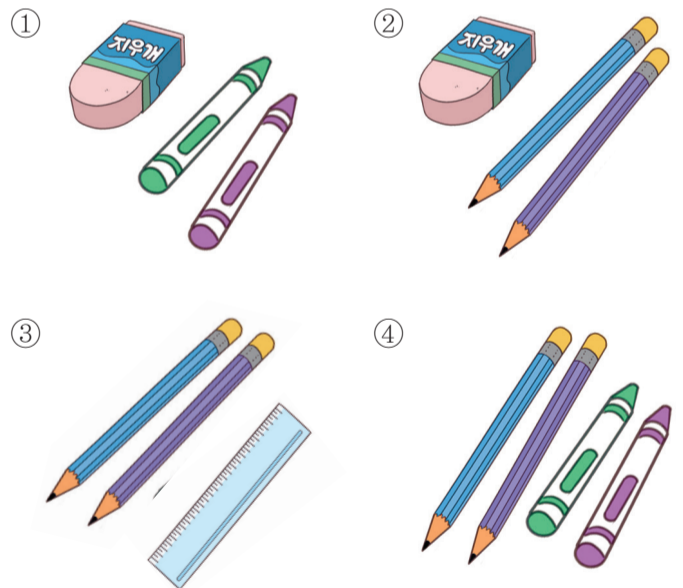


- ① ② ③ ④

16 대화를 듣고, 사진에서 민지가 소개하고 있는 사람을 고르시오. ()



17 대화를 듣고, 여자 어린이가 가지고 있는 물건을 고르시오. ()



18 대화를 듣고, 두 어린이가 각각 좋아하는 색깔을 고르시오. ()

	지훈	수지
①	보라	흰색
②	보라	보라
③	흰색	보라
④	흰색	흰색


19 대화를 듣고, 여자 어린이가 할 수 있다고 말한 것을 고르시오. ()



20 대화를 듣고, 대화가 이루어지는 장소를 고르시오. ()

- ① 학교
- ② 극장
- ③ 병원
- ④ 농장

21 다음을 듣고, 그림에 어울리는 대담으로 알맞은 것을 고르시오. ()



- ①
- ②
- ③
- ④

이제 듣기 문제가 모두 끝났습니다. 22번부터는 검사지의 지시에 따라 답하기 바랍니다.

22 다음 중 대문자와 소문자가 바르게 짝지어지지 않은 것을 고르시오. ()

- ① L - l ② M - m
- ③ P - p ④ Q - q

23 그림을 보고, 단어의 첫소리 글자를 넣어 바르게 쓴 것을 고르시오. ()



nk

- ① enk ② ink
- ③ ank ④ jnk

24 다음을 읽고, 우리말 뜻으로 알맞은 것을 고르시오. ()

umbrella

- ① 우산 ② 가방
- ③ 공 ④ 가위

25 다음 단어를 소문자로 바르게 고쳐 쓴 것을 고르시오. ()

MELON

- ① melon ② melou
- ③ nelon ④ meion

♣ 수고하셨습니다. ♣
답안지에 답을 정확히 표기하였는지 확인하시오.