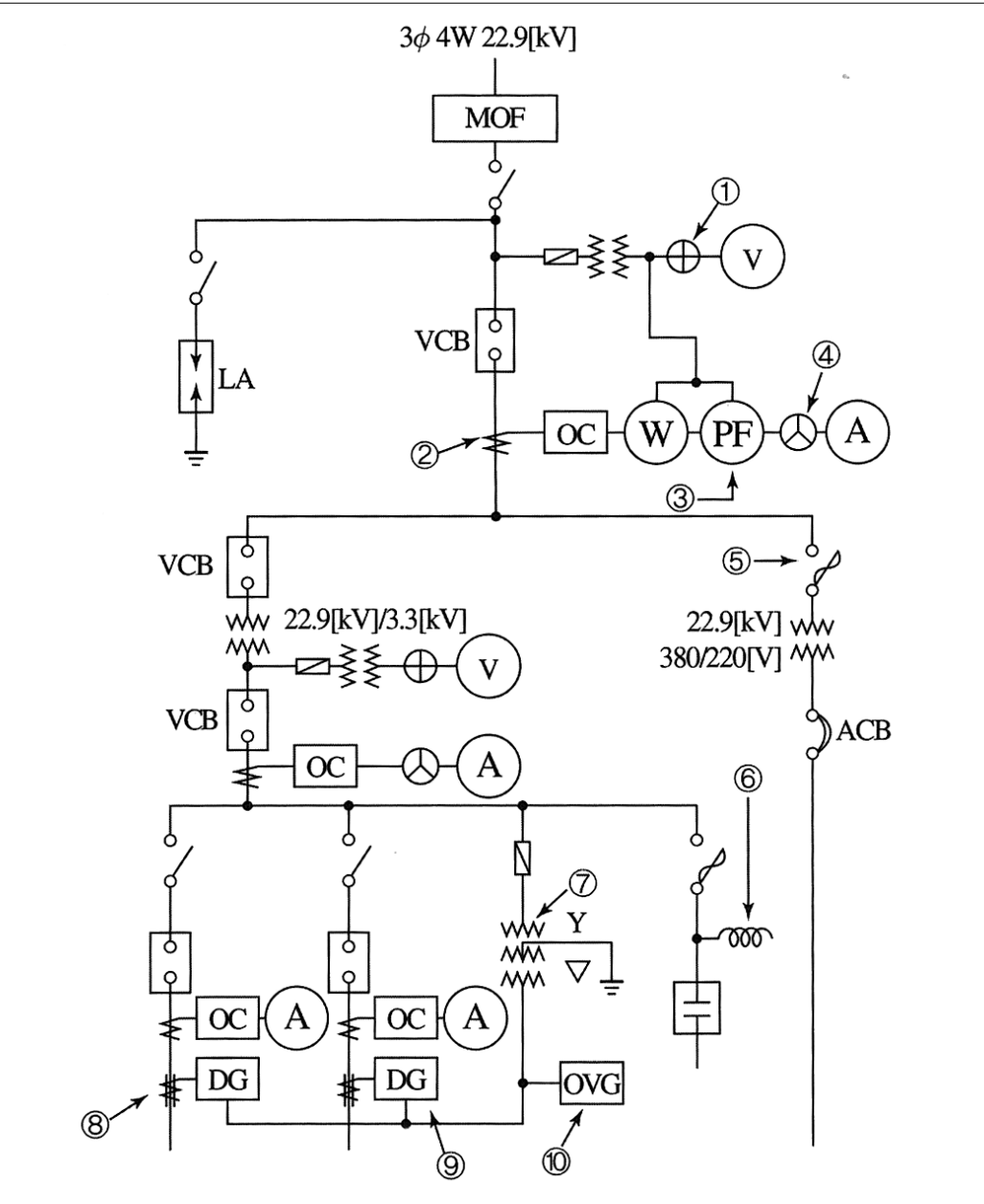


7교시 7.2KV VCB 판넬 내부이해하기 과제

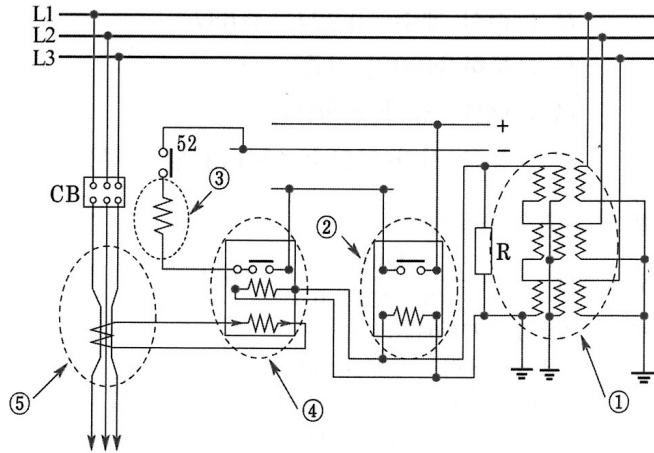


1) 3상4선식 22.9[KV] 수변전실 단선 결선도이다. 그림에서 표시된 ①~⑩까지의 명칭을 쓰시오



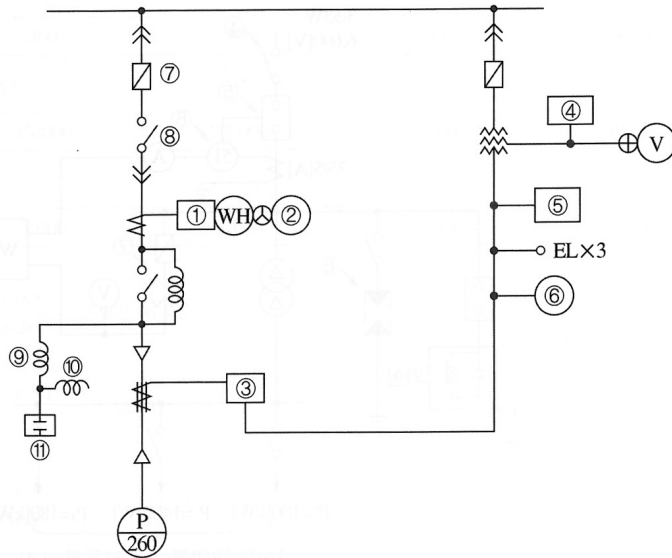
번호	명칭	용도
1		
2		
3		
4		
5		
6		
7		
8		
9		
10		

2) 다음 도면을 보고 물음에 답하십시오



1) ①~⑤의 명칭을 쓰시오

①	
②	
③	
④	
⑤	



(1) ①~⑥으로 표시된 보호 계전기 및 기기의 명칭을 쓰시오.

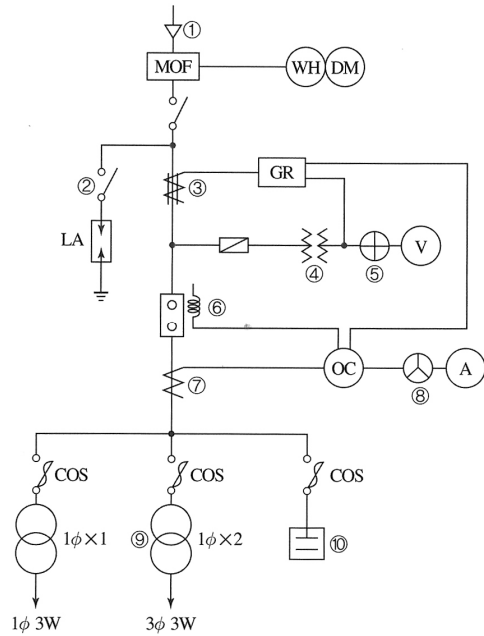
①	
②	
③	
④	
⑤	
⑥	

(2) ⑦~⑪로 표시된 전기기계 기구의 명칭과 용도를 간단히 기술하십시오.

번호	명칭	용도
⑦		
⑧		
⑨		
⑩		
⑪		

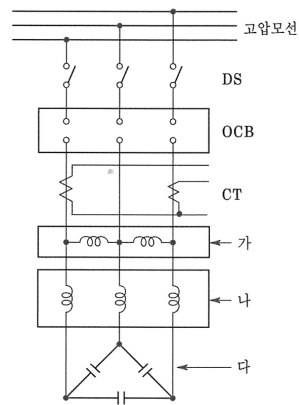


3) 다음 도면을 보고 물음에 답하시오



1) ①~⑩ 의 약호와 명칭을 쓰시오

번호	약호	명칭
①		
②		
③		
④		
⑤		
⑥		
⑦		
⑧		
⑨		
⑩		



(1) 가.나.다의 명칭과 역할을 간단히 설명하시오

	명칭	역할
가		
나		
다		

