

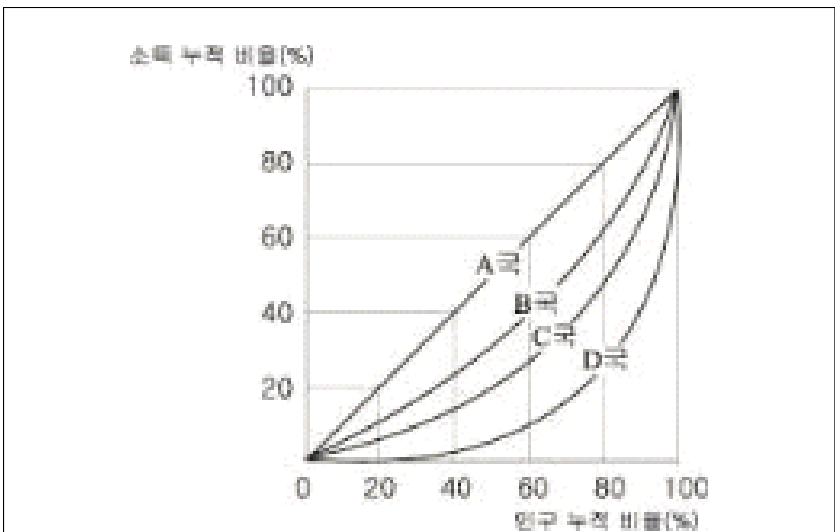
5. 다음 신문 기사의 내용을 바르게 이해한 사람을 <보기>에서 모두 고른 것은? [3점]

미국 달러화에 대한 원화 환율이 1,200원대에서 보름만에 1,040원대로 하락했다. 24일 서울 외환 시장에서 달러화는 전날보다 1.5원 낮게 거래되기 시작하여, 전날보다 2.1원 떨어진 1,048.4원에 거래를 마쳤다.
-○○일보, 2004. 12. 25-

〈 보기 〉
갑 : 달러에 대한 원화 가치가 하락했어요.
을 : 변동환율제도에서 나타나는 현상이군요.
병 : 한국인의 미국 여행 경비가 증가하겠어요.
정 : 이런 추세라면 대미 상품 수출이 감소하겠군요.

- ① 갑, 을 ② 갑, 병 ③ 을, 병
- ④ 을, 정 ⑤ 병, 정

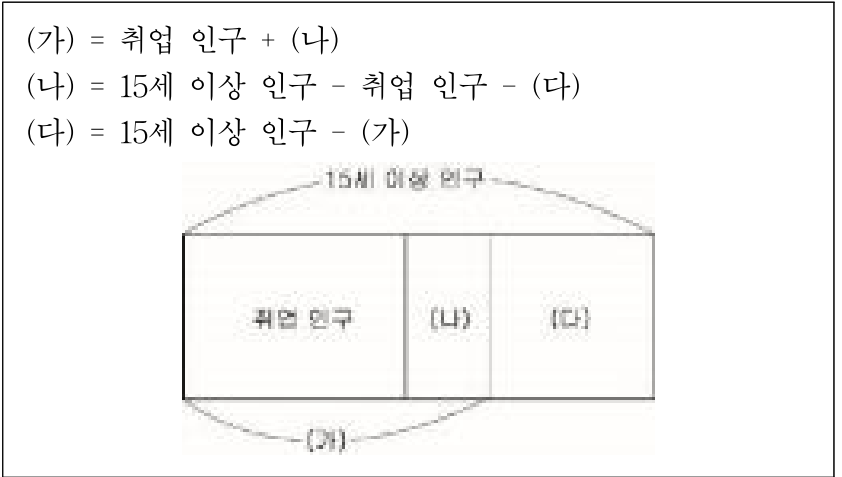
6. 다음은 로렌츠 곡선과 그에 대한 교사의 설명이다. 빈 칸에 들어갈 내용으로 적절한 것은? [3점]



로렌츠 곡선은 한 사회에서 가장 가난한 사람으로부터 가장 부유한 사람까지 차례로 누적한 비율을 가로축에 잡아 놓고, 가장 가난한 사람부터 소득 점유 비율을 합산하여 세로축에 표시한 다음 소득 분포의 누적 백분율을 실선으로 나타낸 것이다. 그림에서 보면, 가장 불평등한 나라는 (가)이고, 모든 사람의 소득이 동일한 국가는 (나)이다. C국에서 사회 보장 제도가 확대 실시될 경우, (다)와 유사한 상황을 보일 수 있다.

- | | | | | | | |
|------|-----|-----|--|------|-----|-----|
| (가) | (나) | (다) | | (가) | (나) | (다) |
| ① A국 | D국 | B국 | | ② A국 | D국 | D국 |
| ③ D국 | C국 | B국 | | ④ D국 | A국 | D국 |
| ⑤ D국 | A국 | B국 | | | | |

7. 그림은 한 나라의 고용 수준을 파악하기 위한 정보이다. (가)~(다)에 대한 설명으로 타당한 것은? [3점]



- ① (가)에는 전업 주부, 학생 등이 포함된다.
- ② 실업률은 (나)를 (가)로 나눈 백분율이다.
- ③ 고도 성장기에는 (다)의 크기가 증가한다.
- ④ 여성의 사회 참여가 증가할수록 (가)는 감소한다.
- ⑤ (나)에는 일하려는 의지가 없는 사람이 포함된다.

8. 다음은 어느 나라의 2005년 대내외 경제 상황을 예측한 것이다. 이에 대비한 경제 정책으로 타당한 것을 <보기>에서 모두 고른 것은?

- 수출 : 증가율 둔화
- 민간 소비 : 침체 지속
- 건설 경기 : 위축세 본격화

〈 보기 〉
ㄱ. 흑자 예산을 편성한다.
ㄴ. 기업 관련 규제를 완화한다.
ㄷ. 투자 활성화 대책을 시행한다.

- ① ㄱ ② ㄴ ③ ㄷ
- ④ ㄱ, ㄴ ⑤ ㄴ, ㄷ

9. 다음 글이 시사하는 바로 가장 적절한 것은?

덕치의 실현을 이상으로 삼았던 조선 정부는 국가의 재정이나 국방과 같은 국가 경영의 현실적 문제에 소홀하였다. 선비로 대표되는 지배 계층은 부의 축적을 여색(女色)에 빠지는 것과 함께 가장 경계해야 할 일이라고 여겼던 것이다. 따라서 고려 시대까지만 해도 성행하였던 상공업 활동과 대외 무역이 조선 시대에 들어와 극도로 위축되었다.

- ① 유교적 가치관은 자본주의의 발달을 촉진시킨다.
- ② 문화와 예술은 인간의 정신적·육체적 피로를 풀어준다.
- ③ 경제 성장을 위해서는 형평성보다는 효율성이 중요하다.
- ④ 소비자의 선택이 생산량과 생산 방법의 종류를 결정한다.
- ⑤ 한 사회의 경제 활동은 사회·문화적 배경에 따라 달라진다.

사회탐구영역

경제

10. 다음 제도를 도입한 공통된 목적으로 볼 수 없는 것은? [3점]

- 생산자 책임 재활용 제도 : 제품 생산자에게 일정량의 재활용 의무를 부과하고, 이를 이행하지 않을 경우 재활용에 소요되는 비용 이상의 재활용 부담금을 생산자에게 부담하게 하는 제도
- 폐기물 부담금 제도 : 특정 유해 물질 또는 유독물을 함유하고 있거나 재활용이 어렵고 폐기물 관리상 문제를 일으킬 수 있는 제품, 재료, 용기에 대해 그 폐기물의 처리에 소요되는 비용을 제조업자와 수입업자에게 부담하도록 하는 제도

- ① 자원 절약을 도모한다.
- ② 제품의 수요 증가를 유도한다.
- ③ 기업의 사회적 책임을 확대한다.
- ④ 친환경적 제품 개발을 촉진한다.
- ⑤ 환경에 대한 인식의 전환을 권장한다.

11. 다음의 경제 현상들과 관련된 경제 문제 또는 해결 기준을 <보기>에서 모두 고른 것은?

- 인건비 상승으로 △△기업 사장은 통신 기기 부품 생산 과정에서 자동화 공정률을 높이기로 하였다.
- 가죽 제품을 생산하는 ○○기업은 자사 제품의 경쟁력을 높이기 위해 토지 이용료와 임금이 저렴한 개성 공단으로 공장을 이전할 계획이다.

〈 보기 〉

ㄱ. 기회 비용은 얼마인가?
 ㄴ. 무엇을 얼마나 생산할 것인가?
 ㄷ. 어떤 방법으로 생산해야 하는가?

- ① ㄱ ② ㄷ ③ ㄱ, ㄴ
- ④ ㄱ, ㄷ ⑤ ㄴ, ㄷ

12. 그림은 운동화의 가격 구성을 나타낸 것이다. (가)~(라)에 대한 타당한 설명을 <보기>에서 모두 고른 것은? [3점]



〈 보기 〉

ㄱ. (가)는 재화를, (나)는 용역을 생산한다.
 ㄴ. (나)와 (다)는 재화의 부가 가치를 증가시킨다.
 ㄷ. (라)는 (가), (나), (다)에 조세를 부과한다.
 ㄹ. (가), (나), (다), (라)의 활동은 생산에 해당된다.

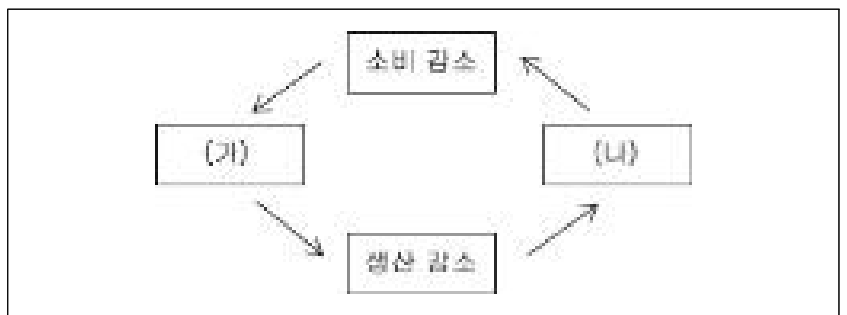
- ① ㄱ, ㄴ ② ㄷ, ㄹ ③ ㄱ, ㄴ, ㄷ
- ④ ㄴ, ㄷ, ㄹ ⑤ ㄱ, ㄴ, ㄷ, ㄹ

13. 다음 글에 나타난 문제를 해결하기 위한 정부 정책으로 적절하지 않은 것은? [3점]

○○ 연구원 보고서에 의하면, 하위 20% 소득 계층의 교육 투자율(총소비 지출에서 차지하는 교육비의 비율)이 다른 계층의 교육 투자율보다 낮았다. 이에 따라 빈곤층 비율이 증가할수록 교육에 대한 투자가 부진하게 돼 1인당 국민 소득이 감소한다고 한다. 연구원측은 우리나라의 경우 “소득 양극화가 원활한 인적 자본 축적을 방해하고 사회·경제적 불안을 일으키기도 한다.”라고 주장하였다.

- ① 실직자에 대한 재취업 교육 지원
- ② 빈곤 계층에 대한 장학 혜택 확대
- ③ 저소득층을 위한 무료 과외방 설치
- ④ 저소득층 자녀에 대한 교육비 감면
- ⑤ 총교육비 지출에 대한 세금 공제 확대

14. 다음은 교사가 경제 활동의 여러 측면들의 상호 관계를 설명하기 위해 학생들에게 제시한 그림이다. (가), (나)에 들어갈 내용으로 적절한 것은? [3점]



- | | | | |
|---------------|---------------|---------------|---------------|
| (가) | (나) | (가) | (나) |
| ① 저축 증가 임금 상승 | ② 실업 증가 저축 증가 | ③ 저축 감소 재고 감소 | ④ 재고 감소 고용 증가 |
| ⑤ 재고 증가 실업 증가 | | | |

15. 다음은 20세기에 직면했던 경제 문제를 해결하기 위해 어느 경제학자가 제시한 비유이다. 이를 통해 도출할 수 있는 결론으로 타당한 것은?

정부는 빈 항아리에 돈을 가득 담아 땅 속에 묻는다. 그리고 기업들로 하여금 항아리 속에 묻어 둔 돈을 마음대로 파가도록 한다. 기업은 사람을 고용하고 굴삭기를 사들여서 땅을 파고 항아리 속의 돈을 꺼낸다. 일자리를 얻은 사람들은 받은 월급으로 옷도 사입고 먹을 것도 구입한다. 그렇게 되면 의류 공장과 식료품 공장이 살아나고, 다른 산업도 덩달아 활기를 띠게 된다.

- ① 경제 성장을 위해서는 절약을 통한 저축이 필요하다.
- ② ‘보이지 않는 손’이 사회 전체의 부(富)를 증진시킨다.
- ③ 경제 문제를 해결하기 위해 정부는 시장에 개입해야 한다.
- ④ 복지 국가의 부작용을 줄이기 위해 작은 정부를 지향해야 한다.
- ⑤ 지속적인 경제 발전을 위해 공평한 분배가 이루어져야 한다.

16. 표는 최근 우리나라의 국제 수지 동향을 나타낸 것이다. 이에 대한 설명으로 타당한 것을 <보기>에서 모두 고른 것은? [3점]

(단위 : 백만 달러)

	2004년 10월	2004년 11월
경 상 수 지	2,403.0	2,942.8
상 품 수 지	2,820.1	3,517.3
서 비 스 수 지	-538.5	-662.1
소 득 수 지	154.6	322.5
경상이전수지	-33.2	-234.9

< 보 기 >

ㄱ. 수출보다 수입이 많았다.
 ㄴ. 경상 수지 흑자폭이 커졌다.
 ㄷ. 서비스 수지의 경우 외화의 수취보다 지급이 많았다.
 ㄹ. 경상 이전 수지의 개선으로 경상 수지가 증가하였다.

- ① ㄱ, ㄴ ② ㄱ, ㄷ ③ ㄱ, ㄹ
 ④ ㄴ, ㄷ ⑤ ㄷ, ㄹ

[17-18] 다음 글을 읽고 물음에 답하시오.

이 경제 체제에서 경제적 의사 결정은 개인이 스스로 자신과 자신의 가족을 위해 ㉠최대의 이익을 얻을 수 있는 것을 선택함으로써 이루어진다. 즉, 개인들이 ㉡생산 요소를 소유하고, ㉢무엇을 생산하고 어떻게 생산할지를 결정한다. 또한 개인들은 생산 요소를 ㉣생산 요소 시장에 제공한 대가로 얻은 소득으로 ㉤생산품을 구매한다.

17. 위의 경제 체제와 관련된 설명으로 타당한 것을 <보기>에서 모두 고른 것은?

< 보 기 >

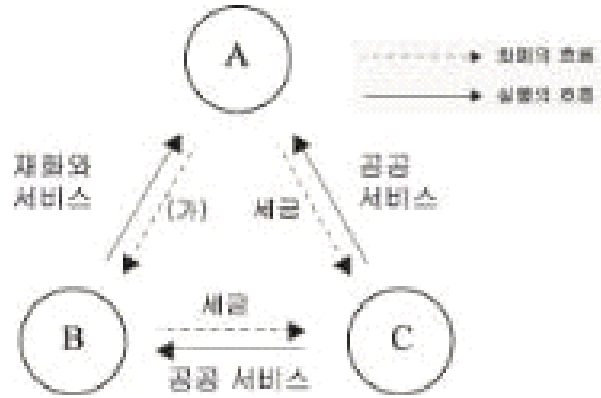
ㄱ. 이윤 동기에 기초해 생산 활동이 이루어진다.
 ㄴ. 소비자와 생산자 모두 합리적 선택을 추구한다.
 ㄷ. 가격의 변화가 구매와 생산의 신호등 기능을 한다.
 ㄹ. 관습에 의해 생산물의 종류와 생산 방법이 결정된다.

- ① ㄱ, ㄴ ② ㄴ, ㄷ ③ ㄱ, ㄴ, ㄷ
 ④ ㄴ, ㄷ, ㄹ ⑤ ㄱ, ㄴ, ㄷ, ㄹ

18. 밑줄 친 ㉠~㉤에 대한 설명으로 옳지 않은 것은?

- ① ㉠의 목적은 형평성의 실현에 있다.
 ② ㉡은 토지, 노동, 자본 등이 있다.
 ③ ㉢은 경제 생활에서 직면하는 문제들이다.
 ④ ㉣에는 임금, 이자, 지대 등이 포함된다.
 ⑤ ㉤은 가계 소비의 대상이 된다.

19. 그림은 국민 경제에서 경제 주체들의 상호 관계를 나타낸 것이다. 이에 대한 옳은 설명을 <보기>에서 모두 고른 것은?



< 보 기 >

ㄱ. A와 B는 민간 부문, C는 정부 부문에 속한다.
 ㄴ. A와 B는 수익성보다 공익성을 더 중시한다.
 ㄷ. 사회 안전망 구축을 위해서는 C의 역할이 중요하다.
 ㄹ. (가)는 경제 주체에게 요소 소득이 분배되는 과정이다.

- ① ㄱ, ㄴ ② ㄱ, ㄷ ③ ㄴ, ㄷ
 ④ ㄴ, ㄹ ⑤ ㄷ, ㄹ

20. 밑줄 친 시스템의 가동이 경제에 미칠 영향을 추론한 것으로 적절하지 않은 것은?

정보 인식용 주파수 식별 태그(RFID)칩을 모든 제품에 부착시켜 계산대만 거치면 자동으로 인식되는 새로운 시스템이 개발되었다. 칩의 크기는 깨알만한데도 칩에는 물건의 제조 과정, 가격, 유통 과정 및 사후 서비스를 위한 구매 관련 정보가 저장된다. 지금까지 대형 소매점에서는 그동안 바코드를 물건에 인쇄하고 리더기로 일일이 인식시켜야 했다.

- ① 유통 과정이 투명해질 것이다.
 ② 생산자 책임을 완화시킬 것이다.
 ③ 거래에 드는 시간이 단축될 것이다.
 ④ 소비 유형을 파악하기 쉬워질 것이다.
 ⑤ 판매 관련 인건비를 절감할 수 있을 것이다.

※ 확인 사항

○ 문제지와 답안지의 해당란을 정확히 기입(표기)했는지 확인하시오.