

제 4 교시

# 사회탐구 영역(사회·문화)

성명  수험 번호

1. 밑줄 친 ㉠~㉣과 같은 현상의 일반적인 특징에 대한 설명으로 옳은 것은?

얼마 전 ㉠ 지리산에 사는 반달가슴곰의 영상이 공개되었습니다. 최근 태어난 다섯 마리 새끼에 관한 영상입니다. 앞으로 ㉡ 유전적 다양성을 확보하기 위해 추가 방사를 한다면 안정적으로 번식할 수 있을 것으로 보입니다. ㉢ 겨울잠에서 깨어난 곰들이 왕성한 활동을 하고 있으므로, 국립공원 관리 공단은 등산객들에게 ㉣ 곰들이 출몰할 가능성이 있는 구역의 출입을 자제해 줄 것을 당부했습니다.



- ① ㉠과 같은 현상은 ㉡과 같은 현상과 달리 불가치적이다.
- ② ㉡과 같은 현상은 ㉢과 같은 현상과 달리 당위 법칙을 따른다.
- ③ ㉢과 같은 현상은 ㉣과 같은 현상과 달리 개연성으로 설명된다.
- ④ ㉣과 같은 현상은 ㉠과 같은 현상과 달리 필연성의 원리가 적용된다.
- ⑤ ㉠, ㉢과 같은 현상은 ㉡, ㉣과 같은 현상에 비해 특수성이 강하다.

2. 사회·문화 현상을 바라보는 갑~병의 서로 다른 관점에 대한 설명으로 옳은 것은?

사회자: 최근 증가하고 있는 아동 학대 사건의 원인에 대한 의견을 말씀해 주십시오.  
 갑: 자녀를 학대하는 부모들만의 문제가 아닙니다. 가족, 학교, 사회가 모두 제 기능을 못하고 있어 발생한 문제입니다.  
 을: 최근 사건을 보면 대부분 빈곤층에서 발생하고 있어요. 자녀 양육에 필요한 사회적 자원을 기득권층에서 독점하는 구조가 문제입니다.  
 병: 이 문제는 제도적 결함이나 구조적 불평등에서 비롯된 것이 아닙니다. 자녀의 행동에 대한 부모의 잘못된 상황 정의와 부모와 자녀 간의 왜곡된 상호 작용이 원인입니다.

- ① 갑의 관점은 을의 관점과 달리 행위 주체인 인간이 부여하는 의미를 중시한다.
- ② 을의 관점은 갑의 관점에 비해 사회 구성원들 사이의 사회적 합의를 중시한다.
- ③ 병의 관점은 갑의 관점과 달리 다양한 제도들이 상호 의존하는 관계에 주목한다.
- ④ 병의 관점은 을의 관점에 비해 사회적 희소가치 배분의 불평등 구조에 주목한다.
- ⑤ 갑, 을의 관점은 병의 관점과 달리 사회·문화 현상을 사회 구조적 측면에서 바라본다.

3. 표에 제시된 자료 수집 방법 A~D의 일반적 특징에 대한 설명으로 옳은 것은? (단, A~D는 각각 면접법, 실험법, 질문지법, 참여 관찰법 중 하나이다.) [3점]

| 연구 조건                        | 적합한 자료 수집 방법 |
|------------------------------|--------------|
| 면대면 대화를 통해 깊이 있는 정보를 수집한다.   | A            |
| 일상생활에서 나타나는 연구 대상의 행동을 관찰한다. | B            |
| 대규모 집단을 대상으로 계량화된 자료를 수집한다.  | C            |
| 인위적으로 통제된 상황에서 변수의 효과를 관찰한다. | D            |

- ① A는 B보다 예상하지 못한 변수의 통제가 어렵다.
- ② B는 C보다 시간과 비용 측면에서의 효율성이 높다.
- ③ C는 D보다 문맹자에게 사용하기 어렵다.
- ④ D는 A보다 연구자의 주관적 가치 개입 가능성이 높다.
- ⑤ A, B는 C, D와 달리 양적 연구에서 주로 사용된다.

4. 밑줄 친 ㉠~㉣에 대한 설명으로 옳은 것은? [3점]

㉠ 같은 ㉡ 아버지의 권유로 ㉢ 직업 훈련소에서 기술을 배웠다. 회사에 입사한 후, ㉣ 야간 대학에서 만난 ㉤ 아내와 결혼하여 맞벌이를 하고 있다. 갑은 해외 지사 근무를 꿈꾸며 외국어 공부를 하였다. 최근 갑은 다른 회사로부터 ㉥ 해외 지사 근무를 조건으로 한 영입을 제안 받았다. 갑은 국내에 남으라는 어머니와 해외로 떠나라는 아버지 사이에서 ㉦ 누구의 의견을 따라야 할지 고민에 빠져 있다.

- ① ㉠은 선천적으로 주어진 지위이다.
- ② ㉡과 ㉣은 2차적 사회화 기관이며 공식적 사회화 기관이다.
- ③ ㉤은 ㉠의 지위로서 수행한 역할 행동이다.
- ④ ㉥은 갑의 준거 집단이자 소속 집단이다.
- ⑤ ㉦은 갑이 가진 두 가지 지위에서 발생하는 역할 갈등이다.

5. 표는 질문 (가)~(다)를 활용하여 사회 변동을 보는 관점 A, B를 구분한 것이다. 이에 대한 설명으로 옳은 것은? (단, A와 B는 각각 진화론과 순환론 중 하나이다.)

| 관점 \ 질문 | (가) | (나) | (다) |
|---------|-----|-----|-----|
| A       | 아니요 | 예   | 예   |
| B       | 예   | 아니요 | 예   |

- ① A가 진화론이면 (가)에는 “서구 중심적 사고라고 비판을 받는가?”가 적절하다.
- ② B가 순환론이면 (다)에는 “사회 변동을 사회 발전으로 인식하는가?”가 적절하다.
- ③ (나)가 “사회 변동은 주기적으로 동일한 과정을 반복하는가?”이면, B는 순환론이다.
- ④ (다)에는 “사회 변동은 일정한 방향을 가지고 있는가?”가 적절하다.
- ⑤ (가)가 “제국주의를 정당화하는 근거로 사용되었는가?”이면, (나)에는 “사회 변동 과정에서 문명이 퇴보할 수 있는가?”가 적절하다.

6. 다음 두 사례를 종합하여 내린 결론으로 가장 적절한 것은?

- 남성 우위 문화가 지배적인 A국에서 살던 갑은 여성 우위 문화가 지배적인 B국으로 이주하였다. 그 결과 갑은 남성으로서 누리던 우월한 지위를 상실하고 사회적 불이익을 받게 되었다.
- C지역의 다수 민족 출신인 을은 D지역으로 이주하면서 소수 민족에 속하게 되었다. D지역에 널리 퍼져 있는 소수 민족 차별의 사회적 관행으로 인해 을은 자신의 민족 언어와 문화를 포기해야 할 지경에 이르렀다.

- ① 사회적 소수자가 되는 기준은 상대적이다.
- ② 사회적 소수자는 수적으로 열세에 놓인 집단이다.
- ③ 성별에 따른 차별이 출신에 따른 차별보다 강하다.
- ④ 사회적 소수자에 대한 차별은 주류 집단의 정체성을 약화시킨다.
- ⑤ 사회적 소수자 집단에서 벗어나려면 성취 지위의 변화가 필수적이다.

7. 밑줄 친 ㉠~㉣에 대한 설명으로 옳은 것은? [3점]

갑은 다문화 가정 자녀들의 ㉠ 학교생활 만족도에 ㉡ 차별 경험 정도가 미치는 영향을 알아보기 위한 ㉢ 연구를 하였다. 이를 위해 ㉣ OO지역 고등학교 다문화 가정 자녀들 중 설문에 자발적으로 참여한 100명을 대상으로 설문 조사를 실시하였다. ㉤ 수집된 자료를 분석한 결과, 차별 경험 정도가 학교생활 만족도에 유의미한 영향을 미친다는 ㉥ 결론을 도출하였다. 두 변수의 관계는 그림과 같다.

- ① ㉠은 독립 변수, ㉡은 종속 변수이다.
- ② ㉢은 질적 연구 방법에 기초하였다.
- ③ ㉣에 대한 연구 결과를 모집단에 일반화할 수 있다.
- ④ ㉤에서 ㉥을 도출하는 과정은 귀납적이다.
- ⑤ ㉥은 독립 변수와 종속 변수가 양(+)의 관계에 있음을 보여준다.

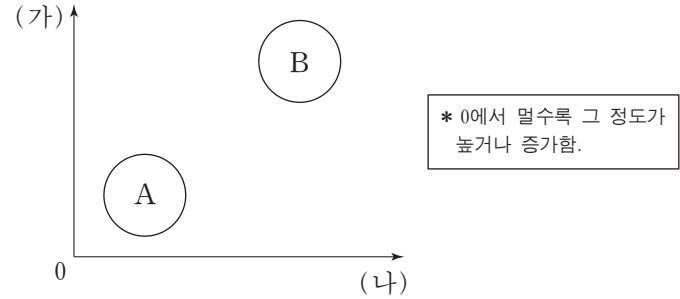
8. (가)에 들어갈 적절한 내용을 <보기>에서 고른 것은?

갑은 외국인에 대한 한국인의 태도가 피부색에 따라서 달라지는지 알아보기 위한 연구를 수행하였다. 갑은 피부색이 서로 다른 외국인 여성 을과 외국인 남성 병을 섭외하여 각각 길거리에서 한국인들에게 휴대전화를 빌리는 실험을 진행하였다. 실험 결과에 따르면 을의 성공률은 70%, 병의 성공률은 30%였다. 이를 통해 갑은 "한국인은 외국인의 피부색에 따라 외국인에 대한 태도가 상이하다."라는 결론을 내렸다. 연구와 관련된 내용 일체를 연구 대상자에게 알리지 않은 채, 갑은 연구 결과를 학회에서 발표하였다. 그러나 이 연구에는 (가) 라는 문제점이 있다.

- <보기> —
- ㄱ. 연구 대상자에게 연구와 관련된 정보를 제공하지 않았다.
  - ㄴ. 피부색 이외에 다른 변수가 미치는 영향을 고려하지 않았다.
  - ㄷ. 사생활 관련 정보를 연구 목적 이외의 용도로 활용하였다.
  - ㄹ. 실험 집단과 통제 집단 간의 성별 동질성을 확보하지 않았다.

- ① ㄱ, ㄴ    ② ㄱ, ㄷ    ③ ㄴ, ㄷ    ④ ㄴ, ㄹ    ⑤ ㄷ, ㄹ

9. 그림은 A, B의 일반적 특징을 비교한 것이다. 이에 대한 옳은 설명만을 <보기>에서 있는 대로 고른 것은? (단, A와 B는 각각 산업 사회와 정보 사회 중 하나이다.) [3점]



- <보기> —
- ㄱ. A가 산업 사회라면 (가)에는 '정보 확산의 속도', (나)에는 '구성원 간 익명성'이 적절하다.
  - ㄴ. B가 정보 사회라면 (가)에는 '관료제 조직의 비중', (나)에는 '사회의 다원화 정도'가 적절하다.
  - ㄷ. (가)가 '비대면 접촉 비중', (나)가 '3차 산업의 비중'이라면, A는 B보다 사회 변동 속도가 느리다.
  - ㄹ. (가)가 '직업의 이질성', (나)가 '일터와 가정의 결합 정도'라면, B는 A보다 전자 상거래 비중이 낮다.

- ① ㄱ, ㄴ    ② ㄱ, ㄷ    ③ ㄴ, ㄹ
- ④ ㄱ, ㄷ, ㄹ    ⑤ ㄴ, ㄷ, ㄹ

10. 다음 자료에 대한 옳은 분석만을 <보기>에서 있는 대로 고른 것은? [3점]

다음은 문화 변동의 요인을 (가)~(다)로 구분하고, 이를 통해 갑국과 을국의 문화 변동 사례를 분석한 자료이다. 갑국과 을국은 상호 교류 이외에 다른 제3의 국가와는 교류를 하지 않았다. 단, (가)~(다)는 각각 발명, 직접 전파, 자극 전파 중 하나이다.

| 구분                                  | (가) | (나) | (다) |
|-------------------------------------|-----|-----|-----|
| 문화 변동의 외재적 요인인가?                    | 아니오 | 예   | 예   |
| 타 문화로부터 아이디어를 얻어 새로운 문화 요소가 만들어졌는가? | 아니오 | 예   | 아니오 |

<갑국과 을국의 문화 변동>

```

    갑국: [O] --(가)--> [O□] --(나)--> [O□☆]
    을국: [●] --(나)--> [●△] --(다)--> [◎△□]
    
```

\* O, ●, □, △, ☆은 서로 다른 문화 요소를 의미함.  
\*\* ◎는 O와 ●가 결합하여 나타난 제3의 문화 요소임.

- <보기> —
- ㄱ. (가)는 발명, (나)는 직접 전파이다.
  - ㄴ. 을국에서는 (다)로 인한 문화 융합이 나타났다.
  - ㄷ. 갑국에서 창조된 문화 요소가 을국으로 전달되었다.
  - ㄹ. 을국은 1차, 2차 변동에서 모두 갑국의 영향을 받았다.

- ① ㄱ, ㄴ    ② ㄱ, ㄹ    ③ ㄴ, ㄷ
- ④ ㄱ, ㄷ, ㄹ    ⑤ ㄴ, ㄷ, ㄹ

11. 문화를 이해하는 갑~병의 태도에 대한 설명으로 옳은 것은?



- ① 갑의 태도는 문화 제국주의로 변질될 가능성이 높다.
- ② 을의 태도는 모든 문화가 동등한 가치를 지닌다고 본다.
- ③ 병의 태도는 자기 문화에 대한 객관적 이해를 가능하게 한다.
- ④ 갑의 태도와 달리 병의 태도는 특정 문화를 기준으로 문화의 우열을 판단한다.
- ⑤ 을의 태도와 달리 병의 태도는 다문화 사회에서 문화 갈등을 초래할 수 있다.

12. 사회 조직의 유형 A~C에 대한 설명으로 옳은 것은? (단, A~C는 각각 공식 조직, 비공식 조직, 자발적 결사체 중 하나이다.) [3점]

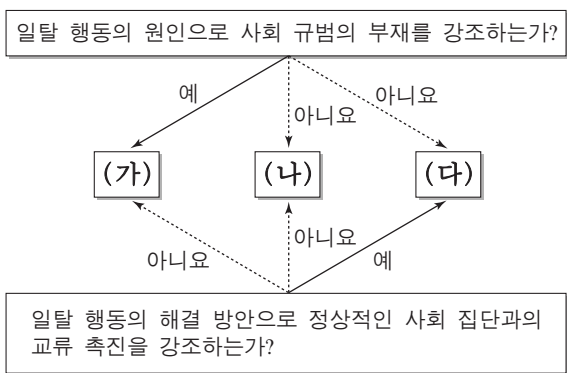
○ A는 공동의 목표를 가진 사람들의 자유의사에 따라 결성되며, B 혹은 C의 형태를 띌 수 있다.

○ B는 C를 기반으로 출현하여, C에 긍정적 혹은 부정적으로 작용하기도 한다.

○ C에 해당하는 사회 조직은 B에 속하지 않으나, B의 구성원은 C의 구성원이다.

- ① A는 1차 집단의 성격이 강하며, 2차 집단의 성격은 나타나지 않는다.
- ② B에서는 형식적·수단적인 인간관계가 지배적으로 나타난다.
- ③ B는 C에 비해 조직의 규모가 크고, 구성원이 이질적이다.
- ④ C는 A와 달리 구성원의 의지와 무관하게 자연 발생적으로 형성된 집단이다.
- ⑤ C는 B에 비해 구성원에 대한 공식적 통제의 정도가 강하다.

13. 그림의 일탈 이론 (가)~(다)에 대한 설명으로 옳은 것은? (단, (가)~(다)는 각각 낙인 이론, 아노미 이론, 차별적 교체 이론 중 하나이다.) [3점]



- ① (가)는 일탈 행동이 급격한 사회 변동으로 인해 촉발된다고 본다.
- ② (나)는 일탈을 규정하는 객관적 기준이 존재한다고 본다.
- ③ (다)는 일탈 행동 자체보다 일탈 행동에 대한 사회적 반응을 중시한다.
- ④ (가)는 (나)와 달리 일탈 행동의 해결 방안으로 불평등 구조의 근본적 변화를 강조한다.
- ⑤ (다)는 (나)와 달리 일탈 행동이 문화적 목표와 제도적 수단 간의 괴리에서 비롯된다고 본다.

14. 교육을 바라보는 갑, 을의 서로 다른 관점에 대한 옳은 설명을 <보기>에서 고른 것은?

갑: 교육이 인력 양성과 사회 질서 유지에 기여한다는 주장도 있지만, 누가 인재로 양성되며 누구를 위한 질서 유지인지 생각해 본다면 사회적 합의의 산물로 볼 수 없습니다. 결국 교육은 지배 이념을 정당화하는 수단입니다.

을: 교육은 사회적으로 필요한 인재를 양성해 적재적소에 배치하는 역할을 담당합니다. 사회가 필요로 하는 가치를 내면화하고, 직업 세계에서 필요로 하는 기능을 습득하도록 하는 것이 교육의 목적입니다.

— <보기> —

- ㄱ. 갑의 관점은 교육이 개인에게 사회 이동의 기회를 제공한다는 것을 강조한다.
- ㄴ. 을의 관점은 교육이 지위 세습을 강화하고 그 결과를 고착시킨다고 본다.
- ㄷ. 갑의 관점은 을의 관점과 달리 교육이 사회 불평등 구조를 재생산하여 확대시킨다고 본다.
- ㄹ. 을의 관점은 갑의 관점과 달리 교육이 사회 안정과 통합에 기여한다고 본다.

- ① ㄱ, ㄴ    ② ㄱ, ㄷ    ③ ㄴ, ㄷ    ④ ㄴ, ㄹ    ⑤ ㄷ, ㄹ

15. 다음 자료에 대한 설명으로 옳은 것은? (단, A와 B는 각각 신문과 뉴미디어 중 하나이다.) [3점]

표는 시민들을 대상으로 매체의 이용률과 신뢰도를 조사한 결과와 각 매체의 특징을 제시한 것이다. 각 매체별 이용률은 뉴스를 접하기 위해 이용한다고 응답한 사람의 비율(복수 응답 가능)이며, 신뢰도는 매체에 대한 신뢰도 점수(100점 만점)의 평균값이다.

| 매체   | 특징               | 이용률(%) | 신뢰도(점) |
|------|------------------|--------|--------|
| A    | 심층적인 정보 전달에 유리함. | 31     | 49     |
| 텔레비전 | (가)              | 94     | 66     |
| B    | 양방향 정보 전달에 유리함.  | 75     | 25     |
| 라디오  | (나)              | 20     | 38     |


- ① A는 시각 정보 또는 청각 정보를 활용하는 다른 모든 매체들보다 신뢰도가 높다.
- ② B는 텔레비전보다 정보의 생산자와 소비자 간의 경계가 뚜렷하다.
- ③ (가)에는 '정보 전달의 동시성이 높음.', (나)에는 '시각 정보를 제공할 수 있음.'이 적절하다.
- ④ 이용률 대비 신뢰도는 청각 정보만 전달하는 매체가 인쇄 매체보다 높다.
- ⑤ 뉴미디어를 이용한다고 응답한 비율에 비해 나머지 세 가지 매체를 함께 이용한다고 응답한 비율이 높다.

16. 다음은 사회 불평등 현상을 설명하기 위해 사회학자 갑과 을이 조사 대상자 A~D를 분류한 것이다. 이에 대한 설명으로 옳지 않은 것은?

| 〈갑의 분류〉 |         |       | 〈을의 분류〉 |        |        |        |
|---------|---------|-------|---------|--------|--------|--------|
| 구분      | 생산 수단   | 소유 여부 | 구분      | 경제적 요인 | 정치적 요인 | 사회적 요인 |
| 자본가     | A       |       | 상층      | A      | A, C   | C      |
| 노동자     | B, C, D |       | 중층      | B, C   | D      | A, B   |
|         |         |       | 하층      | D      | B      | D      |

- ① 을의 분류에서 A~D는 모두 지위 불일치의 사례에 해당한다.
- ② 을의 분류에서 상층에 속한 모든 대상자는 갑의 분류에서 자본가이다.
- ③ 갑은 을과 달리 사회 불평등 현상을 이분법적으로 파악한다.
- ④ 을은 갑과 달리 다차원적 측면에서 사회 불평등 현상을 파악한다.
- ⑤ 갑과 을의 분류에는 모두 경제적 요소가 반영되어 있다.

17. (가), (나)는 갑국의 사회 복지 제도 변화를 나타낸 것이다. 이에 대한 분석으로 옳은 것은? [3점]



\* 최저 생계비는 중위 소득 40%와 동일함.  
 \*\* 개별 가구의 월 소득 인정액 이외의 다른 조건은 모두 동일함.  
 \*\*\* 중위 소득: 전체 가구를 소득 순으로 나열했을 때 한가운데 위치한 가구의 소득

- ① (가)는 선별적 복지보다는 보편적 복지의 성격이 강하다.
- ② (나)에서 교육 급여를 받을 수 있는 기준은 월 소득 인정액 1,400달러 이하이다.
- ③ (나)에서 월 소득 인정액 1,000달러인 가구는 의료 급여를 받을 수 있다.
- ④ (가)는 (나)와 달리 상대적 생활수준을 반영한 기준을 적용한다.
- ⑤ 월 소득 인정액 900달러인 가구는 (가)에서는 모든 급여를 받았으나 (나)에서는 교육 급여만 받을 수 있다.

18. 밑줄 친 ㉠~㉣에 대한 옳은 설명을 <보기>에서 고른 것은?

갑국에는 다양한 ㉠ 이민자 집단의 문화가 존재한다. 그 중 일부는 갑국의 보편적 문화로 자리 잡았다. 그 대표적인 사례를 음식과 ㉡ 음악에서 찾을 수 있다. 한 때 토마토소스는 '마녀의 피'라고 불리며 ㉢ 문화인이라면 먹어서는 안 되는 야만적인 식재료로 간주되었으나, 오늘날 갑국에서 토마토소스를 사용한 ㉣ 요리는 누구나 즐겨 먹는 음식이 되었다. 하층 계급 이민자들의 정서를 표현하고 있어 ㉤ 과거 대다수 사람들이 저속하다고 여기던 재즈(Jazz)와 블루스(Blues)도 주류 음악과 융합하여 변형되면서 갑국의 대중음악으로 자리 잡았다.

— <보기> —

- ㉠은 갑국의 주류 문화에 대항하는 반문화이다.
- ㉡에서 '문화'는 넓은 의미, ㉢에서 '문화'는 좁은 의미로 사용되었다.
- ㉣은 물질문화, ㉤은 비물질문화에 해당한다.
- ㉤은 문화가 고정되어 있지 않고 변화하는 것임을 보여 준다.

- ① 가, 나    ② 가, 다    ③ 나, 다    ④ 나, 라    ⑤ 다, 르

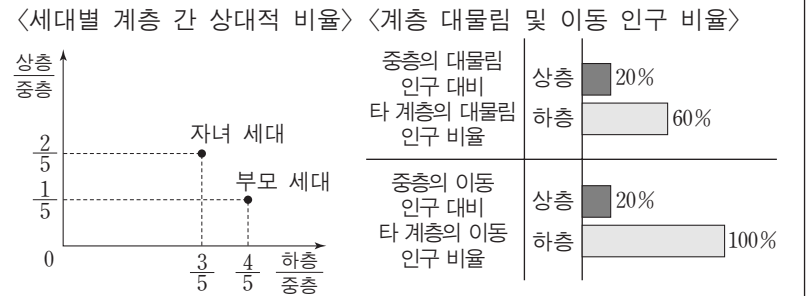
19. (가), (나)는 개인과 사회의 관계를 바라보는 서로 다른 관점이다. 이에 대한 설명으로 옳은 것은?

(가) 날로 심각해지는 도심의 교통 혼잡 문제로 인하여 사회적 자원이 낭비되고 있다. 이를 해결하기 위한 방안으로 운전자의 자발적 협조는 기대할 수 없으므로, 도심에 진입하는 차량에 대하여 고액의 통행료를 부과하고 홀·짝수로 구분하여 차량을 운행하도록 하는 제도를 실시해야 한다.  
 (나) 최근 현대인의 무분별한 생활 습관으로 인한 각종 질환의 증가, 사소한 증상으로도 병원을 찾는 경향, 금전적 이익을 위한 위장 입원 등으로 인해 국민 건강 보험의 재정이 악화되고 있다. 이는 개인의 잘못된 행위에서 비롯된 것이므로 개인 스스로의 의식 개선 없이는 해결할 수 없다.

- ① (가)의 관점은 사회 정책으로 인간 행동을 바꿀 수 있다고 본다.
- ② (나)의 관점은 사회 문제의 발생 원인을 제도적 측면에서 찾는다.
- ③ (가)의 관점은 (나)의 관점과 달리 인간을 주체적이고 능동적인 존재로 본다.
- ④ (나)의 관점은 (가)의 관점과 달리 사회를 개인의 단순한 집합체 그 이상으로 본다.
- ⑤ (가), (나)의 관점은 모두 사회 구조가 개인에 대하여 불가항력적 존재라고 본다.

20. 다음 자료에 대한 옳은 분석을 <보기>에서 고른 것은? [3점]

다음은 성인 자녀 1명을 둔 가구주 100명을 대상으로 부모 세대와 자녀 세대의 계층 비율과 계층 이동 현황을 조사한 결과이다. 계층은 상층, 중층, 하층으로만 구분된다.



\* '중층의 대물림 인구 대비 타 계층의 대물림 인구 비율'은 부모가 중층이면서 자녀도 중층인 인구 대비 타 계층에서 세대 간 계층이 일치하는 인구의 비율(%)임.  
 \*\* '중층의 이동 인구 대비 타 계층의 이동 인구 비율'은 부모는 중층이지만 자녀는 다른 계층인 인구 대비 타 계층에서 세대 간 계층 이동이 일어난 인구의 비율(%)임.

— <보기> —

- ㉠ 부모 세대 계층 대비 계층 대물림 비율은 하층이 가장 높다.
- ㉡ 부모 세대와 자녀 세대는 모두 다이아몬드형 계층 구조이다.
- ㉢ 부모 세대와 자녀 세대 간 계층 이동한 사람은 계층이 대물림된 사람보다 많다.
- ㉣ 부모가 하층이었던 자녀 중에 상승 이동한 사람 수는 부모가 상층이었던 자녀 중에 하강 이동한 사람 수의 4배이다.

- ① 가, 나    ② 가, 다    ③ 나, 다    ④ 나, 르    ⑤ 다, 르

\* 확인 사항  
 ○ 답안지의 해당란에 필요한 내용을 정확히 기입(표기)했는지 확인하십시오.