

6. 다음 (가), (나)의 자료와 관련된 민족 운동에 대한 설명으로 옳은 것은?

(가) 머리를 깎이고 의복 제도를 바꾸니 나라의 풍속은 오랑캐로 변하였구나. 국모를 시해하고 임금을 협박하니 갑오·을미의 원수를 아직 갚지 못하였다.

(나) (우리의 본 뜻은) 안으로는 탐학한 관리의 머리를 베고, 밖으로는 횡포한 강적의 무리를 내쫓고자 함이라. 양반과 부호의 앞에 고통을 받는 민중들과 수령의 밑에 굴욕을 받는 소리(小吏)들은 조금도 주저치 말고 일어 서라.

- ① (가) - 일제 강점기의 무장 독립 투쟁으로 발전하였다.
- ② (가) - 만민 공동회를 통해 열강의 이권 침탈을 규탄하였다.
- ③ (나) - 근대 입헌 군주제의 시행을 주장하였다.
- ④ (나) - 양전 사업의 실시와 지계의 발급을 요구하였다.
- ⑤ (가), (나) - 봉건적 사회 질서를 타파하려 하였다.

7. 다음 자료들은 개항 이후의 근대화에 관련된 것이다. 자료에서 보이는 취지를 계승한 운동은?

○ 대체로 회사란 여러 사람이 자본을 합하여 농·공·상업의 사무를 잘 아는 사람에게 맡겨 운영하는 것이다. 각국 정부는 어떤 회사가 국가의 이로운 것으로 판단되면, 여러 가지 방법으로 장려한다.

- 한성순보 -

○ 이 회사는 외국 사람들이 자본을 사만 원 내고, 조선 사람들이 삼만 오천 원을 내어 두 자본을 합해 회사를 설립하고 이 회사에 자본금들을 보내어 증서를 맡아두면 첫째 조선 백성들이 먹고 살 생계가 생길 터이고, 둘째 자본금 낸 사람들이 큰 이득을 볼 터이다.

- 독립신문 -

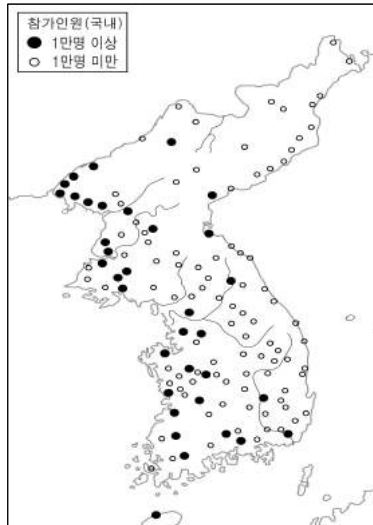
- ① 위정 척사 운동 ② 의회 설립 운동 ③ 실력 양성 운동
- ④ 동학 농민 운동 ⑤ 농촌 진흥 운동

8. 다음 학설로 극복하고자 했던 식민 사관의 내용으로 가장 적합한 것은?

(우리나라는) 삼국 시대의 노예제 사회, 통일 신라기 이래의 동양적 봉건 사회를 거쳐 개항 이후의 이식 자본주의 사회로 이행해왔다.

- ① 조선과 일본은 같은 조상에서 나온 본래 하나의 민족이다.
- ② 일본 야마토 정권이 한반도 남부에 임나일본부를 설치하였다.
- ③ 조선 민족의 분열주의는 당쟁으로 나타나 조선 왕조를 멸망 시켰다.
- ④ 조선 민족은 1902년까지 고대 사회의 가족 경제 단계에 정체되어 있었다.
- ⑤ 반도에 위치한 조선은 대륙이나 해양 세력에 의해 타율적으로 움직일 수밖에 없는 운명이다.

9. 다음 자료와 관련된 민족 운동에 대한 설명으로 옳지 않은 것은?



피고들에 대한 공소 사실은 다음과 같다. 피고들은 지난 2월부터 3월까지 손병희 외 33인이 조선 독립을 목적으로 조선이 독립국임과 조선 민족이 자유민임을 누누이 기술한 불온 문서를 다수 인쇄·배포하여 조선인을 선동하였다. 이에 많은 사람들이 가담하여 정치에 관한 불온한 언동을 함으로써 치안을 방해하였다.

- ① 일제가 문화 통치를 실시하는 계기가 되었다.
- ② 신간회가 전국적인 항일 운동으로 확산시켰다.
- ③ 아시아의 반제국주의 민족 운동에 영향을 주었다.
- ④ 비폭력 평화 시위에서 폭력 투쟁의 형태로 발전하였다.
- ⑤ 비밀 결사 형태의 항일 운동이 대중적 차원으로 발전한 것이다.

10. 다음 선언문에서 제기한 방략과 유사한 주장을 <보기>에서 모두 고른 것은? [3점]

민족 전선은 우리의 전 민족적 역량으로써 일본 제국주의 세력을 구축하자는 것만이 유일한 역사적 임무이다. 우리의 연합 전선은 오직 대외 투쟁을 목적인 것이므로 대내 투쟁을 절대로 거부한다. 계급적이 아니고 민족적이다.

- < 보 기 > -

- ㄱ. 우리는 '외교', '준비' 등의 미봉을 버리고 민중 직접 혁명의 수단을 취함을 선언하노라.
- ㄴ. 우리는 일본의 통치권을 승인하는 조건 밑에서 일대 정치적 결사를 조직하여야 한다.
- ㄷ. 우리는 민족주의 세력에 대하여 동맹자적 성질을 인정하고 그들이 타락하지 않는 한 적극적으로 제휴한다.
- ㄹ. 동일한 목적과 성공을 위해 투쟁하는 혁명자들은 반드시 하나의 기치아래 모여 단결해야만 효과를 거둘 수 있다.

- ① ㄱ, ㄴ ② ㄱ, ㄷ ③ ㄴ, ㄷ
- ④ ㄴ, ㄹ ⑤ ㄷ, ㄹ

사회 탐구 영역

한국근현대사

11. 다음은 식민지 근대화론에 대한 가상 좌담회 장면이다. □에 들어갈 내용으로 적절하지 않은 것은? [3점]

갑 : 조선 총독부는 철도 부설, 관개 시설 정비, 토지 조사 등의 사업을 실시하여 조선의 근대화에 기여하였습니다. 또한 조선이 높은 경제 성장률을 달성하도록 하였고 인구도 증가시켰습니다. 취학률을 높여 근대 교육을 보급하고 문맹율도 낮추었습니다.

을 : 저는 다르게 생각합니다.

- ① 조선인에게 개량 서당과 야학만 허용하고 고등 교육은 금지시켰습니다.
- ② 철도 시설의 증가는 주로 식민지 수탈과 병참 보급을 위한 것이었습니다.
- ③ 중화학 공업 시설의 증가는 일제의 대륙 침략 전쟁을 위한 것이었습니다.
- ④ 산미 증식 계획으로 오히려 조선인의 1인당 쌀 소비량은 감소하였습니다.
- ⑤ 토지 조사 사업으로 총독부의 재정이 늘고 일본인의 토지가 증가하였습니다.

12. 조선 총독부가 아동용으로 추천한 영화의 시나리오이다. 이 영화가 제작된 시기에 목격할 수 있었던 장면이 아닌 것은? [3점]


S# 1 교사 뒤편 목공실
소 사 * : (책상을 고치며 흥얼거린다) 신고산이 우르르 화물차 가는 소리에, 지원병 보낸 어머니 가슴만 쥐어뜯고요~
교사 마쓰다 : (노래 소리에 놀라며) 조선어 노래를 부르면 별로 국방 헌금 1전을 내시오. 노래가 부르고 싶으면 일본 노래를 부르시오.

S# 2 운동장
학 생 A : (군사훈련 중 못에 찢려 피투성이가 된 발을 가리키며) 어떤 곤경에 부딪혀도 쓰러질 때까지 황군의 길을 가겠습니다.
교관 키타무라 : (만면에 미소를 띠며) 훌륭한 일본 군인이 되겠다.

* 소사 : 학교 잡일을 보는 사람

- ① 남산의 조선 신궁에 참배하러 간 부녀회 간부들
- ② 운동장에 서서 황국 신민 서사를 외우는 학생들
- ③ 항공기와 기관총을 일본군에 헌납하는 기업가
- ④ 조선어 연구회의 한글 강습을 감시하는 헌병
- ⑤ 일본식으로 이름을 바꾸라고 강요하는 순사

13. 다음은 국외 독립군의 활동을 답사하기 위한 경로이다. 각 지역별 독립군의 활동에 대한 탐구 주제로 옳지 않은 것은? [3점]



- ① (가) - 대조선 국민 군단의 활동
- ② (나) - 북로군정서군과 대한 독립군의 활약
- ③ (다) - 대한 독립군단의 결성
- ④ (라) - 소련군에 의한 독립군의 무장 해제
- ⑤ (마) - 한국 독립군과 중국군의 연합 작전

14. 다음과 같은 광고를 유행시킨 민족 운동에 대한 설명으로 옳은 것은?



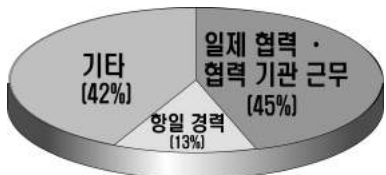
- ① 일제는 회사령을 제정하여 탄압하였다.
- ② 민족 기업 육성을 통한 경제적 자립을 꾀하였다.
- ③ 일제의 남면 북양 정책에 대항하기 위해 일어났다.
- ④ 사회주의자들이 노동자의 이익을 위해 적극 지지하였다.
- ⑤ 조선 상품의 경쟁력을 높여 일본 기업의 조선 진출을 막았다.

15. 다음 각 시기별 농민과의 가상 인터뷰 내용으로 옳지 않은 것은? [3점]

1945	1950	1961	1970	1994
(가)	(나)	(다)	(라)	(마)
광복	농지 개혁 시작	5·16 군사 정변	새마을 운동 시작	우루과이 라운드 타결

- ① (가) - 일본인에서 신한공사로 지주만 바뀐 꼴이 되어 광복 전과 다를 게 없어졌네.
- ② (나) - 처음에는 내 땅이 생겨 좋아했으나 땅 값을 갚지 못해 땅을 다시 팔아버렸지.
- ③ (다) - 미국 원조 농산물이 점점 늘어나서 벼농사를 포기해야겠어.
- ④ (라) - 마을 길도 넓히고 주택도 개량하여 우리 마을의 걸 모양이 확 달라졌어.
- ⑤ (마) - 값싼 외국 농산물이 쏟아져 들어올텐데 앞으로 농사 지어 먹고 살 일이 걱정이야.

16. 다음 그래프와 같은 현상이 나타나게 된 원인을 <보기>에서 모두 고른 것은?



고위 관료의 해방 이전 경력
(제1공화국 ~ 제3공화국)

- ① 가, 나 ② 가, 다
④ 나, 다 ⑤ 다, 다

— < 보 기 > —
 가. 미군정의 통치 정책
 나. 좌우 합작 운동의 전개
 다. 반민 특위 활동의 실패
 라. 건국 준비 위원회의 결성

- ③ 나, 다

17. 다음 자료와 관계 깊은 정부에 대한 옳은 설명을 <보기>에서 모두 고른 것은?

구 분	민주당	사회 대중당	자유당	한국 사회당	통일당	기타	무소속
민의원 의석수	175	4	2	1	1	1	49
참의원 의석수	31	1	4	1	0	1	20
합 계	206	5	6	2	1	2	69

— < 보 기 > —
 가. 행정 수반은 국회에서 선출한 국무총리였다.
 나. 대통령이 국회의원의 일부를 임명할 수 있었다.
 다. 이전 정부보다 언론의 자유를 폭넓게 보장하였다.
 라. 강력한 집권 여당의 출현으로 체제가 안정되었다.

- ① 가, 나 ② 가, 다 ③ 나, 다
④ 나, 다 ⑤ 다, 다

18. 다음 밑줄 친 부분에 해당하는 사실은?

안으로는 야당 세력의 성장으로 선거에 의한 집권 연장이 어렵게 되었고, 밖으로는 미국의 월남전 개입 축소, 미국 대통령의 중국 방문 등으로 국제 정세가 급변하고 있었다. 이러한 상황에서 정부 당국은 남북 관계를 개선하는 한편 영구 집권과 독재 권력 강화를 위한 체제 개편을 준비하였다.

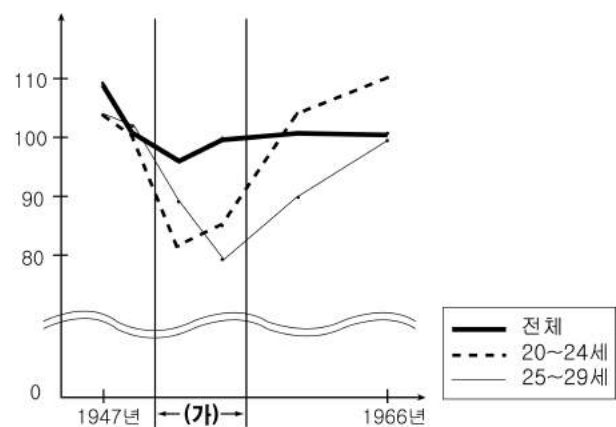
- ① 남북이 동시에 국제 연합(UN)에 가입하였다.
 ② 금강산 관광 사업 등 남북의 경제 협력이 추진되었다.
 ③ 남북이 한반도 비핵화에 관한 공동 선언을 채택하였다.
 ④ 남한의 대통령과 북한의 국방위원장이 정상 회담을 하였다.
 ⑤ 남북이 자주, 평화, 민족 대단결의 3대 통일 원칙을 합의하였다.

19. 역대 정권의 국정 운영 방향을 정리한 것이다. 시기 순으로 옳게 나열한 것은? [3점]

(가)	<ul style="list-style-type: none"> ○ 부정 선거 책임자의 처벌 ○ 민주주의의 실현 ○ 경제 재건과 경제 개발
(나)	<ul style="list-style-type: none"> ○ 북진 통일 ○ 국토 방위와 전쟁 복구 ○ 사회 안정과 질서 확보
(다)	<ul style="list-style-type: none"> ○ 제1차 경제 개발 5개년 계획의 달성 ○ 반공 태세와 국가 안보 확립 ○ 부패 일소와 민생 안정
(라)	<ul style="list-style-type: none"> ○ '한국적 민주주의'의 토착화 ○ 조국의 평화적 통일 기반 조성 ○ 중화학 공업화의 추진

- ① (가)-(나)-(다)-(라) ② (가)-(다)-(라)-(나)
 ③ (나)-(가)-(다)-(라) ④ (나)-(다)-(라)-(가)
 ⑤ (다)-(가)-(나)-(라)

20. 다음 자료의 (가)시기에 나타난 성비 변동의 원인으로 옳은 것은?



< 성비의 변화 >

* 성비 : 여성을 100으로 보았을 경우 남성의 수

- ① 해외 이민의 증가
 ② 한국군의 베트남 파병
 ③ 독일 광산 노동자로 해외 취업
 ④ 6·25 전쟁으로 인명 피해 발생
 ⑤ 토지 개혁으로 북한 사람들 남하

※ 확인 사항

○ 문제지와 답안지의 해당란을 정확히 기입(표기)했는지 확인하시오.