


제 4 교시

사회탐구 영역(경제 지리)

성명 수험 번호

- 자신이 선택한 과목의 문제지인지 확인하시오.
- 문제지에 성명과 수험 번호를 정확히 써 넣으시오.
- 답안지에 성명과 수험 번호를 써 넣고, 또 수험 번호와 답을 정확히 표시하시오.
- 과목을 선택한 순서대로 풀고, 답은 답안지의 '제1선택'란에서부터 차례대로 표시하시오.
- 문항에 따라 배점이 다르니, 각 물음의 끝에 표시된 배점을 참고하시오. 3점 문항에만 점수가 표시되어 있습니다. 점수 표시가 없는 문항은 모두 2점입니다.

1. <산업 발달과 세계 경제의 지역차>를 학습하면서 제시한 그림이다. 그림이 의미하는 지리적 특성을 알아보기 위한 적절한 자료를 <보기>에서 모두 고른 것은?



<보 기>

ㄱ. 국가별 문맹률	ㄴ. 국가별 인구 밀도
ㄷ. 국가별 평균 수명	ㄹ. 국가별 천연 자원 매장량
ㅁ. 국가별 산업 구조에서 생산자 서비스업의 비중	

- ① ㄱ, ㄴ, ㄹ ② ㄱ, ㄷ, ㄹ ③ ㄱ, ㄷ, ㅁ
 ④ ㄴ, ㄷ, ㅁ ⑤ ㄴ, ㄹ, ㅁ

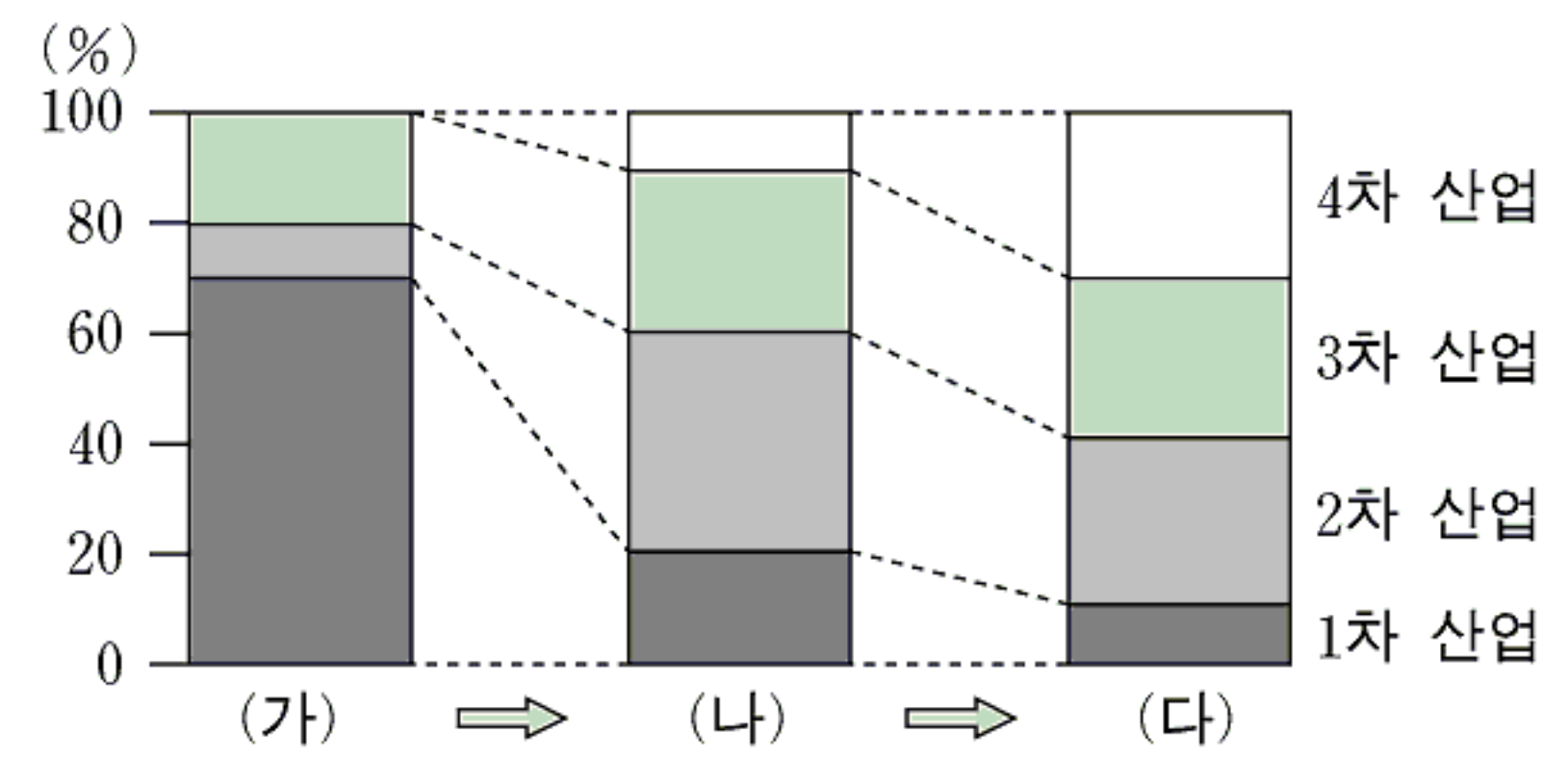
2. 국가별 에너지 소비 구조를 나타낸 표이다. A~E 자원에 대해 바르게 설명한 것은? [3점]

(2004년 1차 에너지원 기준, 단위: %)

국가/자원	프랑스	오스트레일리아	알제리	사우디아라비아	노르웨이
A	4.8	45.7	2.6	0	1.5
B	15.3	18.6	62.5	42.0	10.5
C	35.7	32.6	34.6	58.0	24.6
D	5.6	3.1	0.3	0	63.4
E	38.6	0	0	0	0

- ① A는 최근 보급이 확대되고 있는 청정 에너지이다.
 ② B는 폐기물 처리 문제로 갈등이 일어나기도 한다.
 ③ C는 냉동 액화 기술 발달로 운송이 원활해지고 있다.
 ④ D는 지형적 영향을 많이 받아 시설 입지가 제한된다.
 ⑤ E는 산업 혁명 직후부터 대량으로 사용되고 있다.

3. 종사자 수에 따른 산업 구조의 변화 단계를 나타낸 그래프이다. 이를 보고 사회의 변화 양상을 추론한 것으로 적절하지 않은 것은?



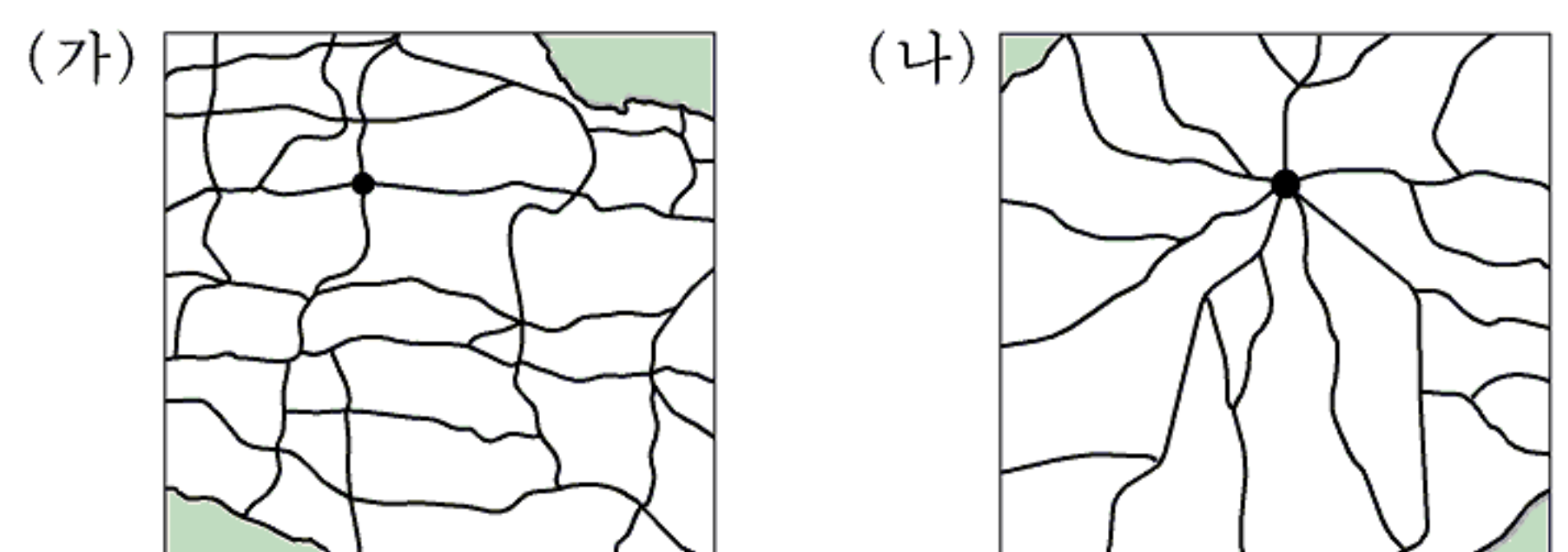
- ① (가) 단계에서 주요 활동 공간은 공동체적 촌락이었을 것이다.
 ② (가)에서 (나)로 변함에 따라 주요 생산 요소는 자본과 에너지에서 토지와 노동으로 바뀌었을 것이다.
 ③ (나) 단계의 주요 교통 및 정보 통신 수단은 도로, 철도, 전화 등이었을 것이다.
 ④ (나)에서 (다)로 변함에 따라 주요 수출품은 중화학 제품에서 첨단기술 제품으로 바뀌었을 것이다.
 ⑤ (다) 단계에서 생산의 주요 장소는 지식·정보를 창출하는 연구소, 대학 등을 포함할 것이다.

4. 동아시아 국가들의 주요 산업 변천에 관한 표이다. 이에 대한 추론으로 적절하지 않은 것은?

	1950년대	1960년대	1970년대	1980년대	1990년대	2000년대
일본	노동집약형	자원가공형	자본집약형	기술집약형	→	→
한국	-	노동집약형	자원가공형	자본집약형	기술집약형	→
중국	-	-	노동집약형	자원가공형	자본집약형	기술집약형(?)

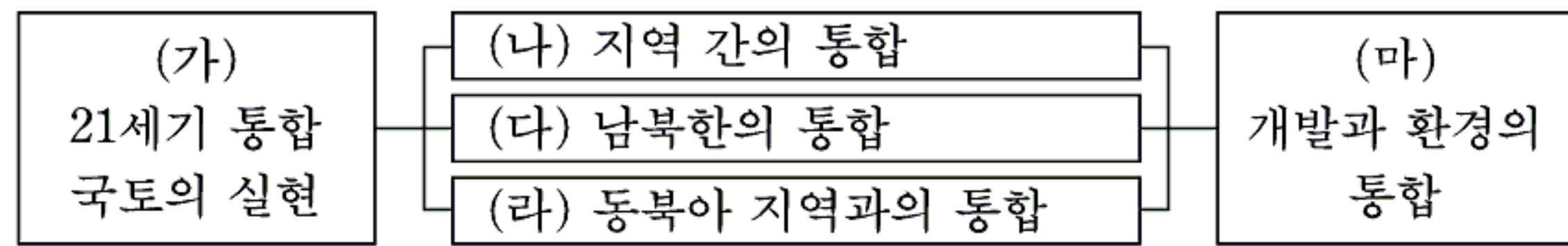
- ① 국가 간 설비 이전이 산업 변천에 다소 기여했을 것이다.
 ② 각국의 경제는 점차 고부가가치 산업 구조로 변했을 것이다.
 ③ 1950년대 일본은 기계 공업이 경제 성장을 주도했을 것이다.
 ④ 1970년대 한국은 중화학 공업의 비중이 크게 증가했을 것이다.
 ⑤ 1990년대 중국은 한국의 제철 공업 성장의 사례를 일부 응용했을 것이다.

5. (가), (나)지역의 교통망에 대한 추론으로 가장 적절한 것은? (단, 축척은 동일함)



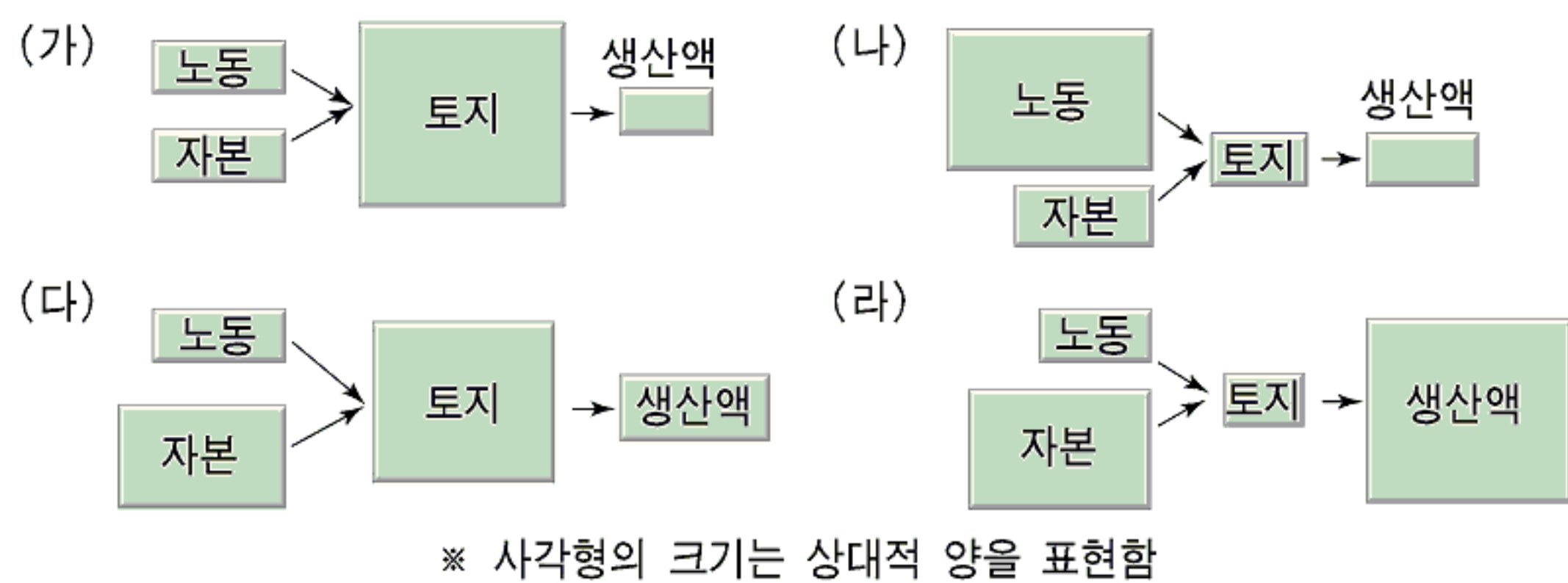
- ① (가)는 중주도시가 발달한 지역에서 잘 나타날 것이다.
 ② (가)는 (나)보다 교통 체증시 우회로를 찾기 어려울 것이다.
 ③ (나)는 균형 발전이 이루어진 지역에서 잘 나타날 것이다.
 ④ (나)는 (가)보다 모든 교차지점 간 교류가 원활할 것이다.
 ⑤ (나)는 (가)보다 주변과 중심 간 평균 이동 거리가 짧을 것이다.

6. 제4차 국토종합계획의 기초를 나타낸 것이다. 이에 대한 설명으로 적절하지 않은 것은?



- ① (가)는 세계화와 지식 기반 사회의 등장 등 사회 여건의 변화에 주도적으로 대응할 필요를 반영하고 있다.
- ② (나)는 제1~3차에 걸친 국토종합개발계획의 시행을 통해 지역 간 균형 발전이 이루어졌음을 전제로 한다.
- ③ (다)는 통일을 실현 가능한 것으로 인식하고 한반도 전체에 대한 계획을 추구하고 있다.
- ④ (라)는 동북아시아와 세계를 겨냥한 국제 교통 기반 시설의 구축을 포함하고 있다.
- ⑤ (마)는 친환경적 국토 관리 강화를 위한 국토 통합 생태 네트워크의 구축을 도모한다.

7. 농업의 유형을 생산 요소와 생산액에 근거하여 구분한 그림이다. (가)~(라) 유형의 사례를 <보기>에서 골라 바르게 짝지은 것은? [3점]



<보기>
 가. 캐나다 프레리의 상업적 목축업
 나. 캄보디아의 자급자족적 벼농사
 다. 에티오피아의 자급자족적 유목
 라. 네덜란드의 상업적 화훼농업

- | | | | | | | | | | |
|---|-----|-----|-----|-----|---|-----|-----|-----|-----|
| | (가) | (나) | (다) | (라) | | (가) | (나) | (다) | (라) |
| ① | 가 | 나 | 다 | 라 | ② | 나 | 다 | 라 | 가 |
| ③ | 다 | 나 | 가 | 라 | ④ | 라 | 가 | 나 | 다 |
| ⑤ | 가 | 라 | 다 | 나 | | | | | |

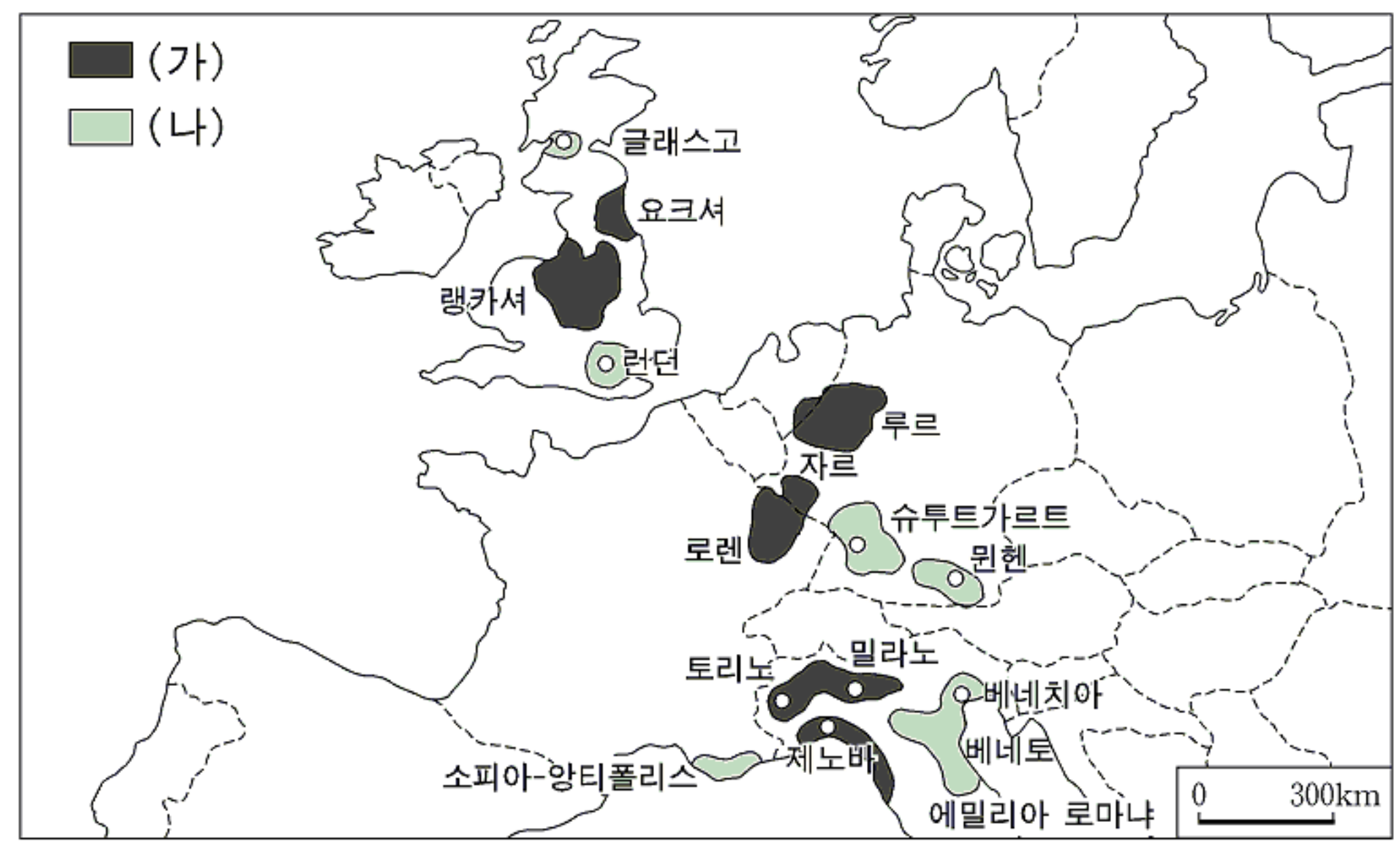
8. 제시된 지역 축제에 나타난 지역 개발의 특성으로 옳은 것을 <보기>에서 모두 고른 것은?

- ○○에서는 매년 '○○ 국제 탈춤 페스티벌'이 개최되고 있다. 특히 1999년 영국 여왕의 방문을 계기로 관광객이 늘어나고 있다.
- □□에서 매년 개최되는 '□□ 나비 축제'는 나비의 친환경적 이미지를 활용하여 홍보함으로써 성공을 거두고 있다.

<보기>
 가. 지역의 문화 특성과 발전 여건을 활용하고 있다.
 나. 장소 마케팅을 통해 경제 활성화를 도모하고 있다.
 다. 중앙 정부 주도의 전형적인 하향식 개발 사업이다.
 라. 주민들의 자발적 참여와 지역 정체성을 강조하고 있다.
 마. 대규모 투자의 효율성과 개발의 파급 효과를 중시한다.

- | | | |
|-----------|-----------|-----------|
| ① 가, 나, 라 | ② 가, 다, 라 | ③ 가, 다, 마 |
| ④ 나, 다, 마 | ⑤ 나, 라, 마 | |

9. 지도에서 (가), (나)로 구분된 주요 공업 지역의 특성을 적절하게 비교한 것을 <보기>에서 모두 고른 것은? [3점]



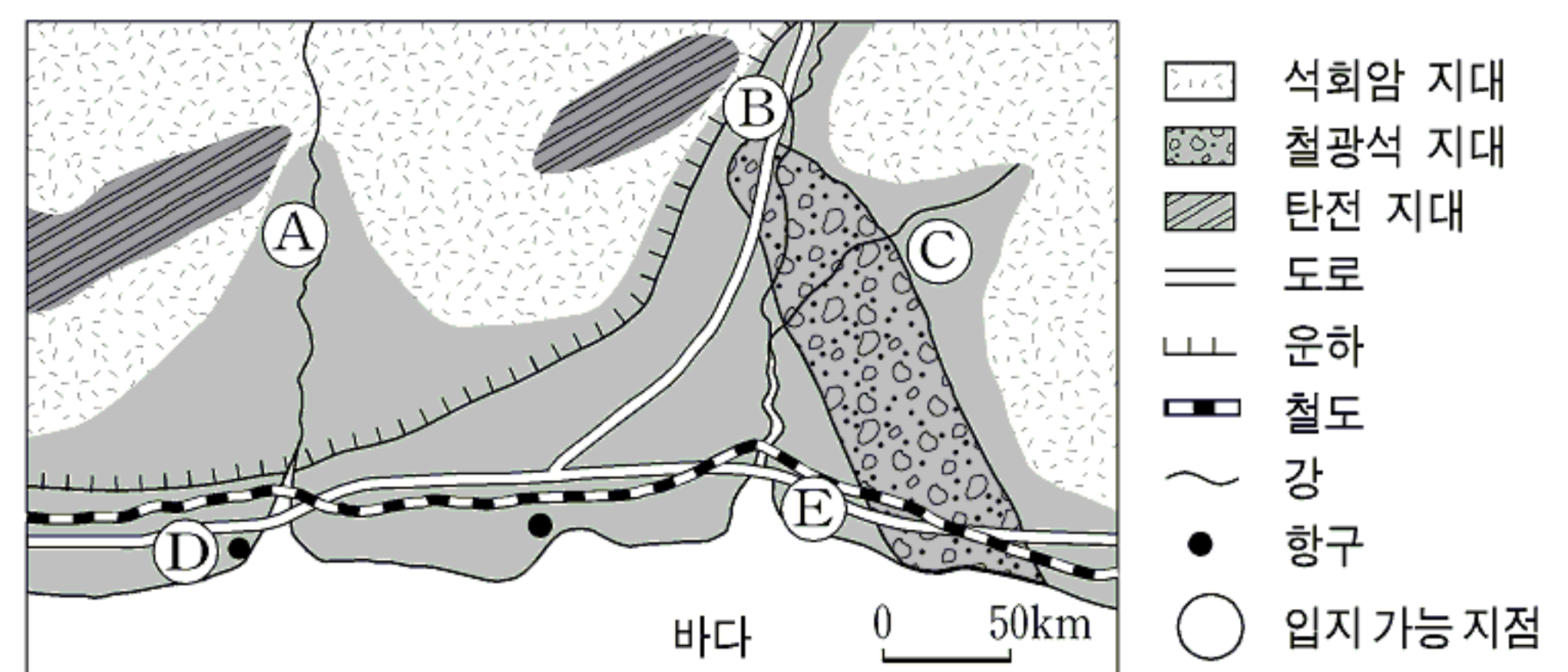
<보기>

(가)	(나)
ㄱ. 다품종 소량 생산 지향	소품종 대량 생산 지향
ㄴ. 원료와 교통 중시	지식과 정보 중시
ㄷ. 분산 지향적	집적 지향적
ㄹ. 중화학 공업 위주	첨단기술 산업 위주

- | | | |
|-----------|-----------|--------|
| ① ㄱ, ㄷ | ② ㄴ, ㄹ | ③ ㄷ, ㄹ |
| ④ ㄱ, ㄴ, ㄷ | ⑤ ㄱ, ㄴ, ㄹ | |

10. 탐구활동 시간에 제시한 자료이다. (가)와 (나)에 들어갈 적절한 지점(A~E)을 바르게 짝지은 것은?

(1) 철강 공업과 관련된 입지 조건



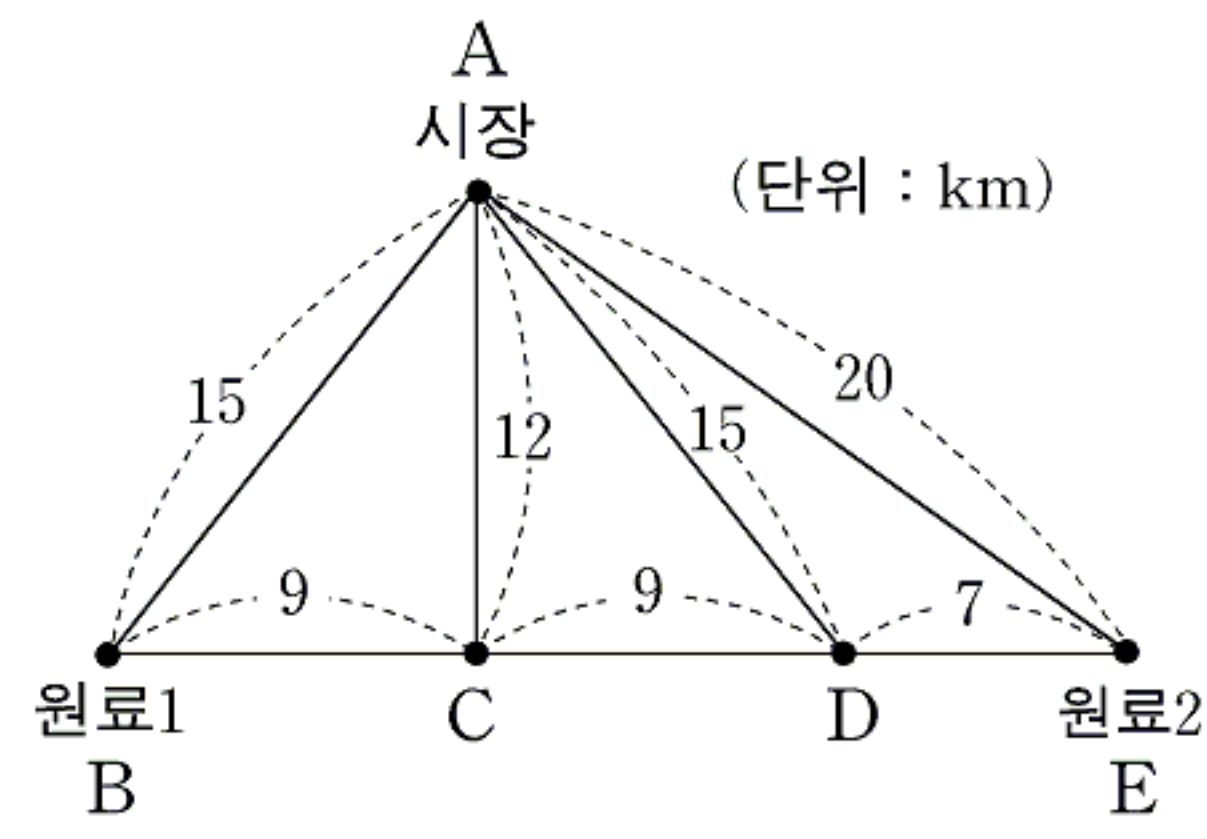
(2) 철강 공업의 입지 특성과 변화

입지 요인	1830년대	1990년대
원료	석회석, 석탄, 용수, 철광석	석회석, 용수, 수입된 석탄과 철광석
동력	물, 석탄	전력
교통	마차, 운하	선박, 기차
시장	국지적 시장	해외 시장과 전국적 시장
최적 입지	(가)	(나)

- | | | | |
|-----|-----|-----|-----|
| (가) | (나) | (가) | (나) |
| ① A | C | ② B | D |
| ③ C | E | ④ D | A |
| ⑤ E | B | | |

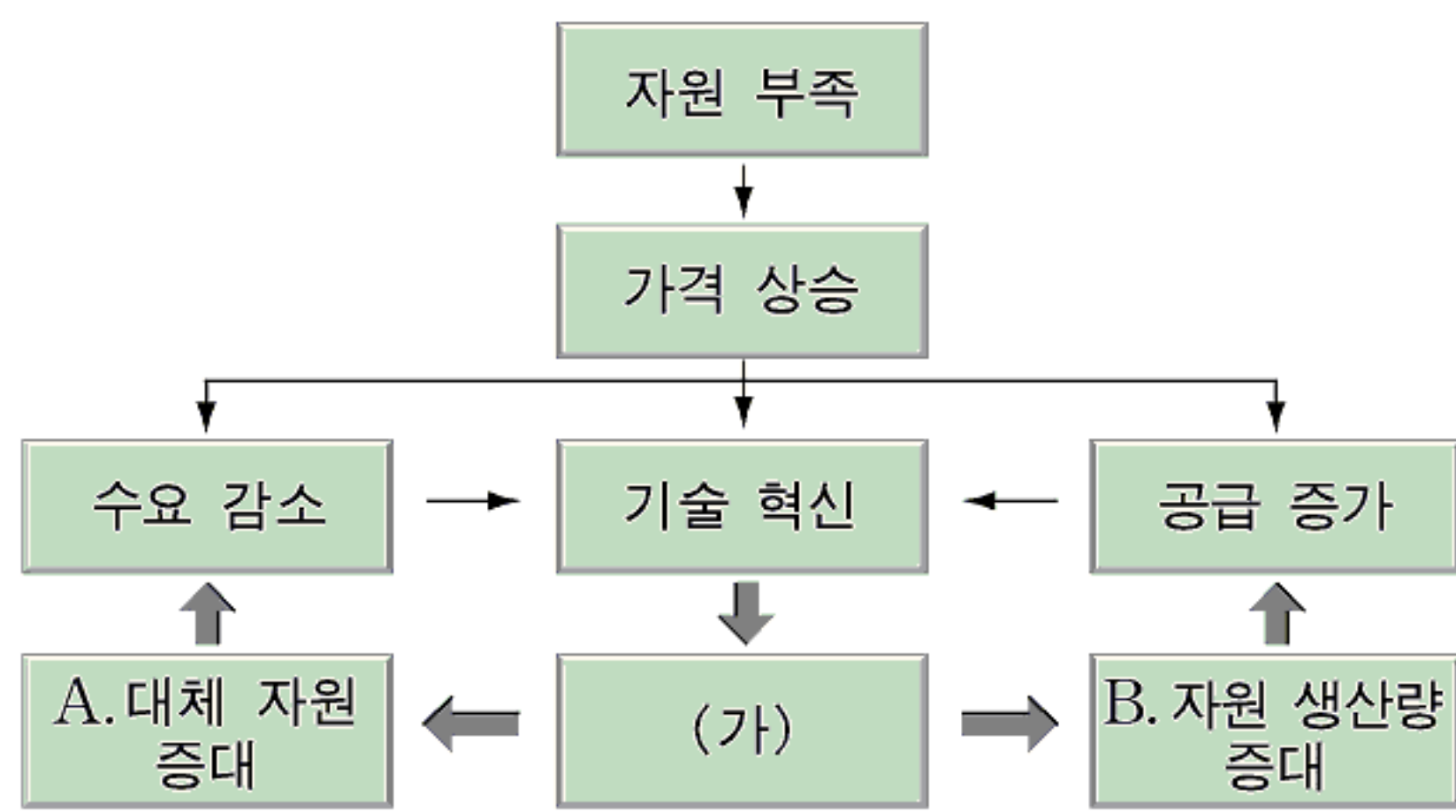
11. 표에 근거하여 공장이 입지하기에 가장 적합한 곳을 그림의 A~E에서 찾으시오. (단, 다른 요인들은 지역별 차이가 없음) [3점]

구분	원료 1	원료 2	제품
제품 1톤 생산에 필요한 양(톤)	2	3	-
운송비 (천원/톤·km)	3	2	4



- ① A ② B ③ C ④ D ⑤ E

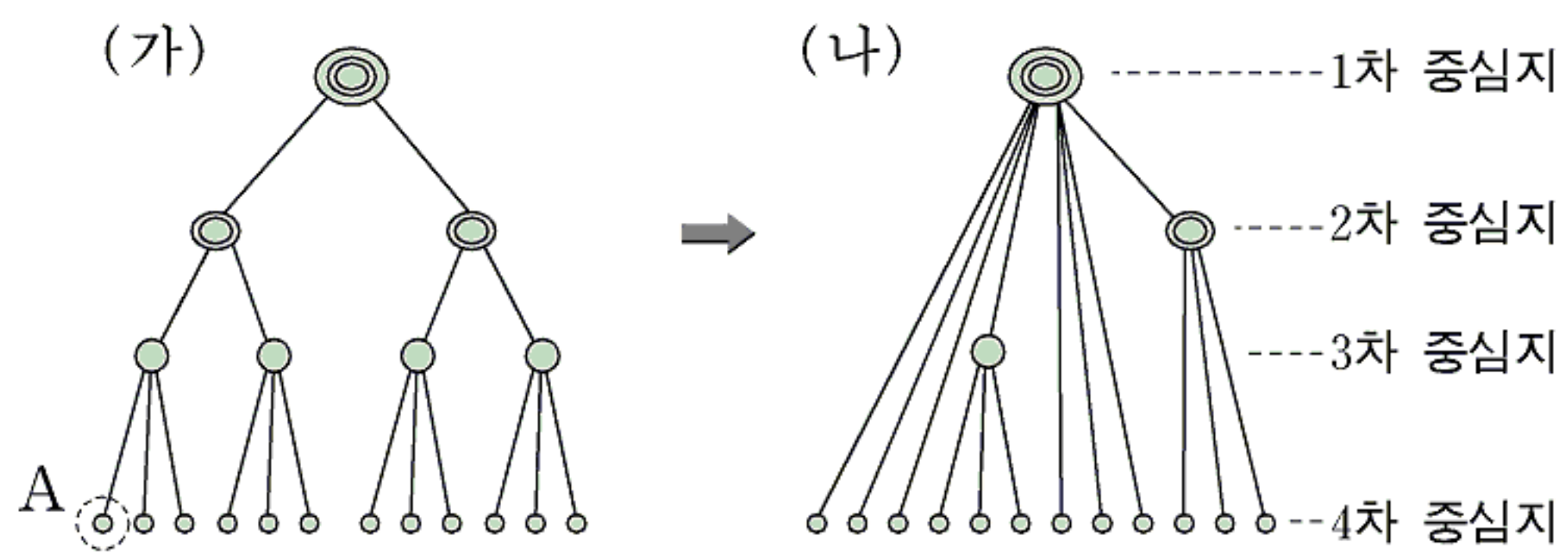
12. 어떤 자원의 부족과 가격 상승에 대한 기술적 대응을 나타낸 것이다. A 또는 B의 효과를 얻을 수 있는 (가)의 적절한 사례를 <보기>에서 모두 고른 것은?



- <보기>
 ㄱ. 태양 전지 개발 ㄴ. 폐광지 관광 개발
 ㄷ. 매립장 시설 개선 ㄹ. 채굴 효율성 향상
 ㅁ. 자원 매장지 개척

- ① ㄱ, ㄷ ② ㄴ, ㅁ ③ ㄱ, ㄴ, ㄹ
 ④ ㄱ, ㄹ, ㅁ ⑤ ㄷ, ㄹ, ㅁ

[13~14] 중심지 계층 체계를 나타낸 그림이다. 이를 보고 물음에 답하시오.



13. A에 있는 한 상점의 거리에 따른 수익과 비용을 나타낸 표이다. 이 상점에 관한 설명으로 적절하지 않은 것은? [3점]

(단위: 백만원)

거리	0km	1km	2km	3km	4km	5km	6km	7km	8km	9km	10km
수익	0	1.2	3.0	4.0	5.2	6.3	7.0	7.8	8.5	9.0	9.3
비용	1.5	2.4	3.0	3.6	4.1	5.0	6.0	7.2	8.5	10.0	12.0

- ① 상권이 1.5km로 한정된다면, 이 상점은 도산하게 된다.
 ② 최소요구치 범위는 2km이고, 재화의 도달범위는 8km이다.
 ③ 지점별 순수익은 2km를 지나 증가하여 5km에서 최대가 된다.
 ④ 교통의 발달로 배후지의 접근성이 개선되면, 상권은 8km를 넘어가게 된다.
 ⑤ 인구밀도가 균등하게 증가하면, 최소요구치 범위는 3km 이상으로 확장된다.

14. (가)에서 (나)로의 변화에 대한 설명으로 적절한 것을 <보기>에서 모두 고른 것은?

- <보기>
 ㄱ. 주민의 소득 향상으로 중심지 간 거리가 좁아졌다.
 ㄴ. 교통 및 통신 기술의 발달로 전자 상거래가 활발해졌다.
 ㄷ. 국토의 균형 발전으로 중간 계층의 중심지가 강화되었다.
 ㄹ. 다목적 통행의 증가로 다양한 상품을 구비한 곳이 유리하게 되었다.

- ① ㄱ, ㄴ ② ㄱ, ㄷ ③ ㄴ, ㄷ ④ ㄴ, ㄹ ⑤ ㄷ, ㄹ

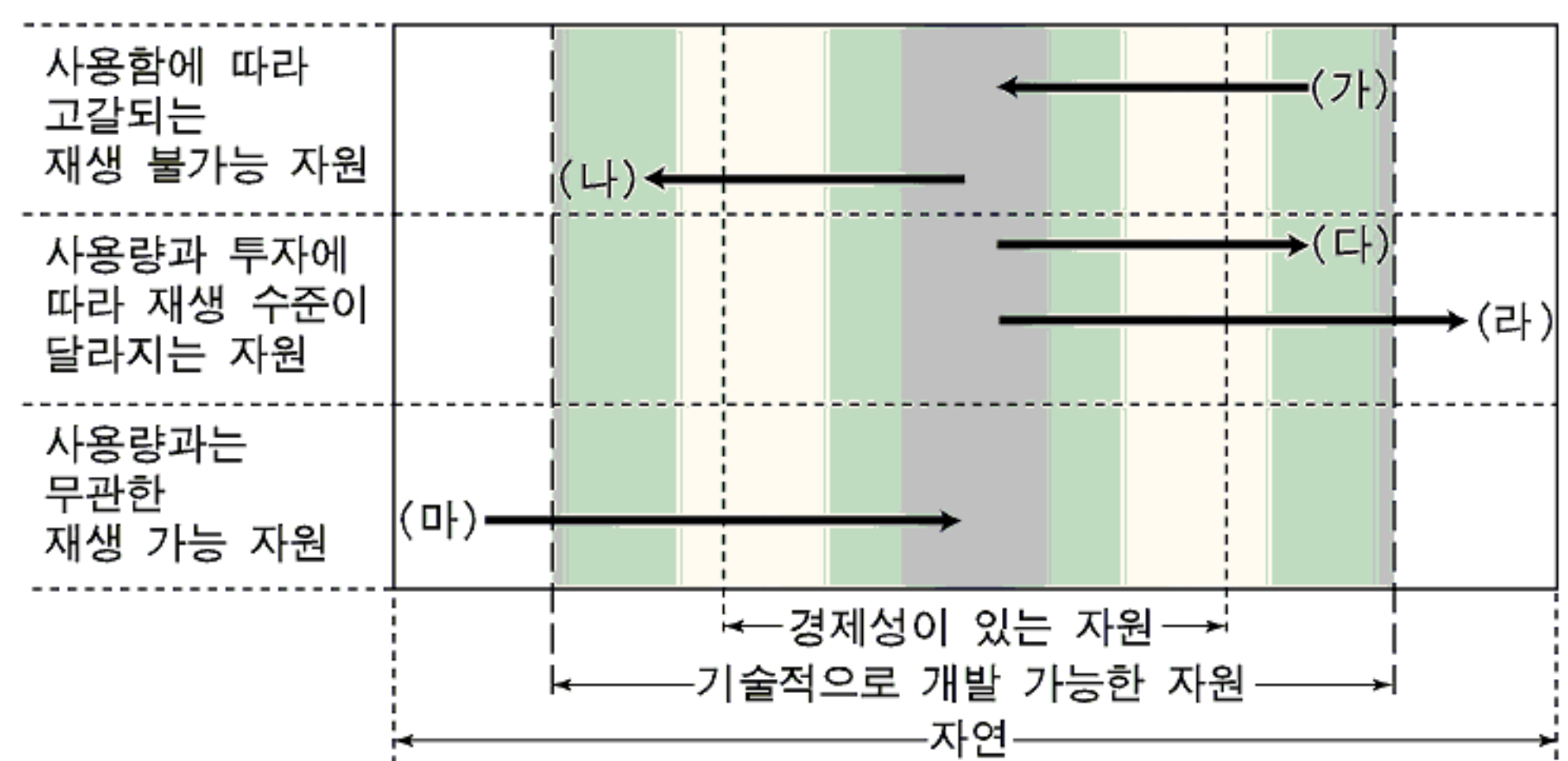
15. 자료의 ㉠~㉢에 관해 바르게 설명한 학생을 <보기>에서 모두 고른 것은? [3점]

2003년 9월 멕시코 칸쿤에서 ㉠ 세계무역기구(WTO) 제5차 각료 회의가 ㉡ 도하개발의제(DDA)라는 무역 체제에 관한 협정을 논의하기 위해 개최되었다. 이 회의에 세계 각국의 정부와 ㉢ 비정부기구(NGO)의 관심이 집중되었다. 왜냐하면, ㉢ 이 협정이 체결되면 농업, 서비스업 등의 전면 개방이 지구적 차원에서 실시되겠지만, 이로 인해 경쟁력이 없는 국가의 농업은 살아남기 어렵게 될 것이기 때문이다.

- <보기>
 갑수: ㉠은 2차 대전 직후 세계 무역 질서를 위해 만들어진 조직이야.
 남희: ㉡은 국가 중심의 무역 체제를 회복하기 위한 것이지.
 덕준: ㉢은 새로운 세계 무역 질서의 수용 여부를 둘러싸고 갈등을 빚고 있어.
 문선: ㉢은 초국적 식량 기업과 농산물 수출국에게 유리하게 되어 있지.

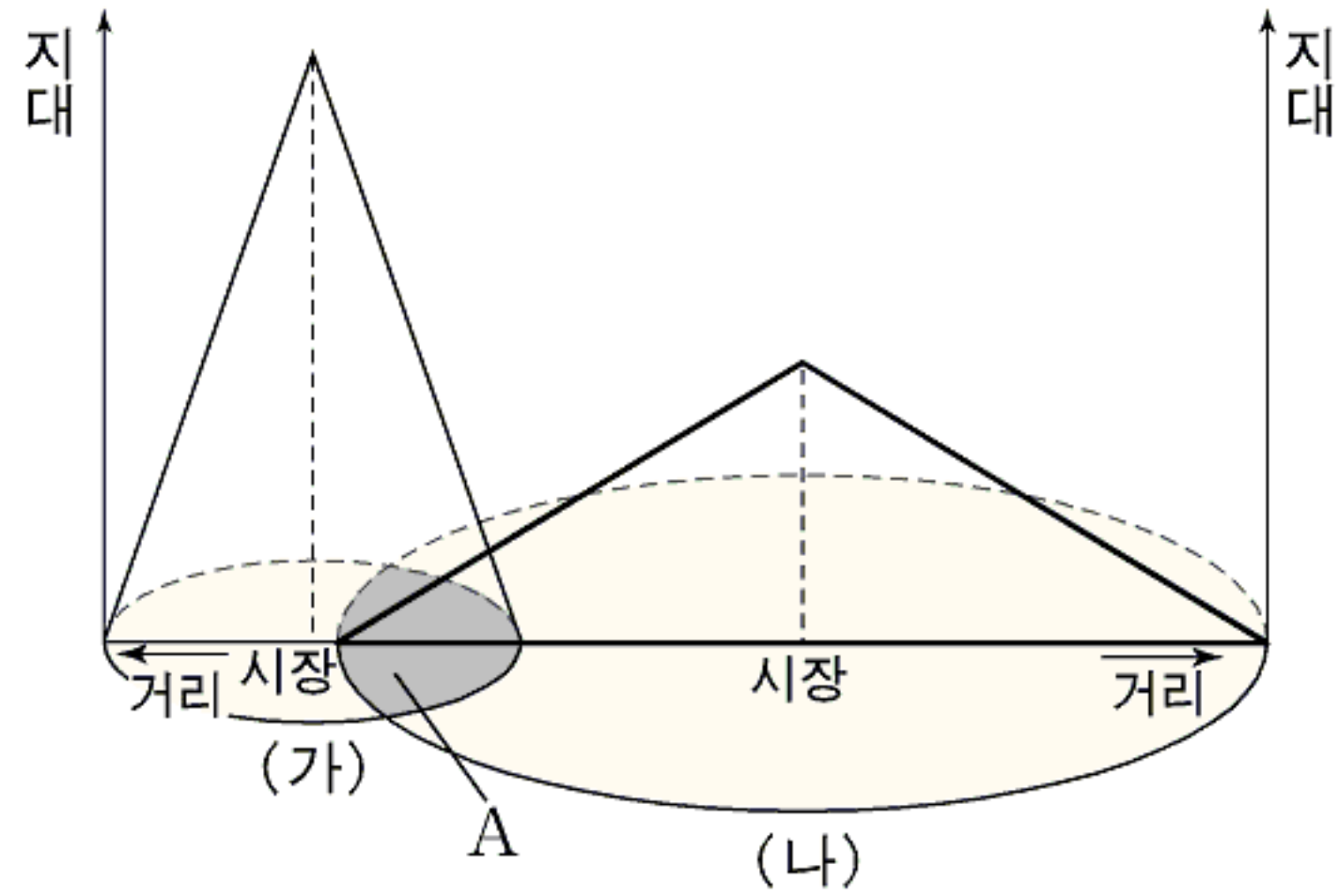
- ① 갑수, 남희 ② 갑수, 덕준 ③ 남희, 덕준
 ④ 남희, 문선 ⑤ 덕준, 문선

16. 어떤 자원의 사용에 따른 유형 변화를 화살표로 나타낸 그래프이다. (가)~(마)의 사례로 적절한 것은? [3점]



- ① (가): 바람을 이용한 풍력 발전이 점차 대체 에너지로서 각광을 받게 되었다.
 ② (나): 오래된 탄광에서 지하 깊숙이 매장된 석탄은 더 이상 기술적으로 채굴할 수 없게 되었다.
 ③ (다): 과거 제철 공업의 주요 연료였던 나무는 열 효율성이 낮아 다른 연료로 대체되었다.
 ④ (라): 석기시대에는 무의미했던 철광석이 오늘날 제철 산업의 주요 원료가 되었다.
 ⑤ (마): 한 때 사용이 급감했던 연탄이 석유 가격의 폭등으로 다시 사용되게 되었다.

17. 어떤 한 작물의 시장과 입지 지대에 따라 구분한 상권 (가), (나)를 나타낸 그림이다. 이에 대한 설명으로 옳은 것은? (단, 입지 지대 = 시장 가격 - 생산비 - 거리 × 운송비율. 단위 면적당 생산량과 생산비는 동일함) [3점]



- ① (가)는 (나)보다 교통이 더 발달하여 운송비율이 낮다.
- ② A 지역의 모든 농부는 (가), (나)의 어느 시장을 이용하든지 동일한 지대를 얻는다.
- ③ 운송비율은 변화가 없고, (가)의 시장 가격이 낮아지면 (나)의 범위는 축소된다.
- ④ 시장 가격은 변화가 없고, (나)의 운송비율이 올라가면 (가)의 범위는 확대된다.
- ⑤ 운송비율은 변화가 없고, (가), (나)의 시장 가격이 같은 액수만큼 변하면 (가), (나)의 범위는 변하지 않는다.

18. ○○ 기업의 임원인 홍길동씨가 임원 회의를 위해 준비한 자료이다. (가)~(마)에 들어갈 내용으로 적절하지 않은 것은?

○○ 기업의 조직 재배치 계획

1. 기업의 조직이 복잡해지고, 여러 기능들이 분화됨
 → (가)

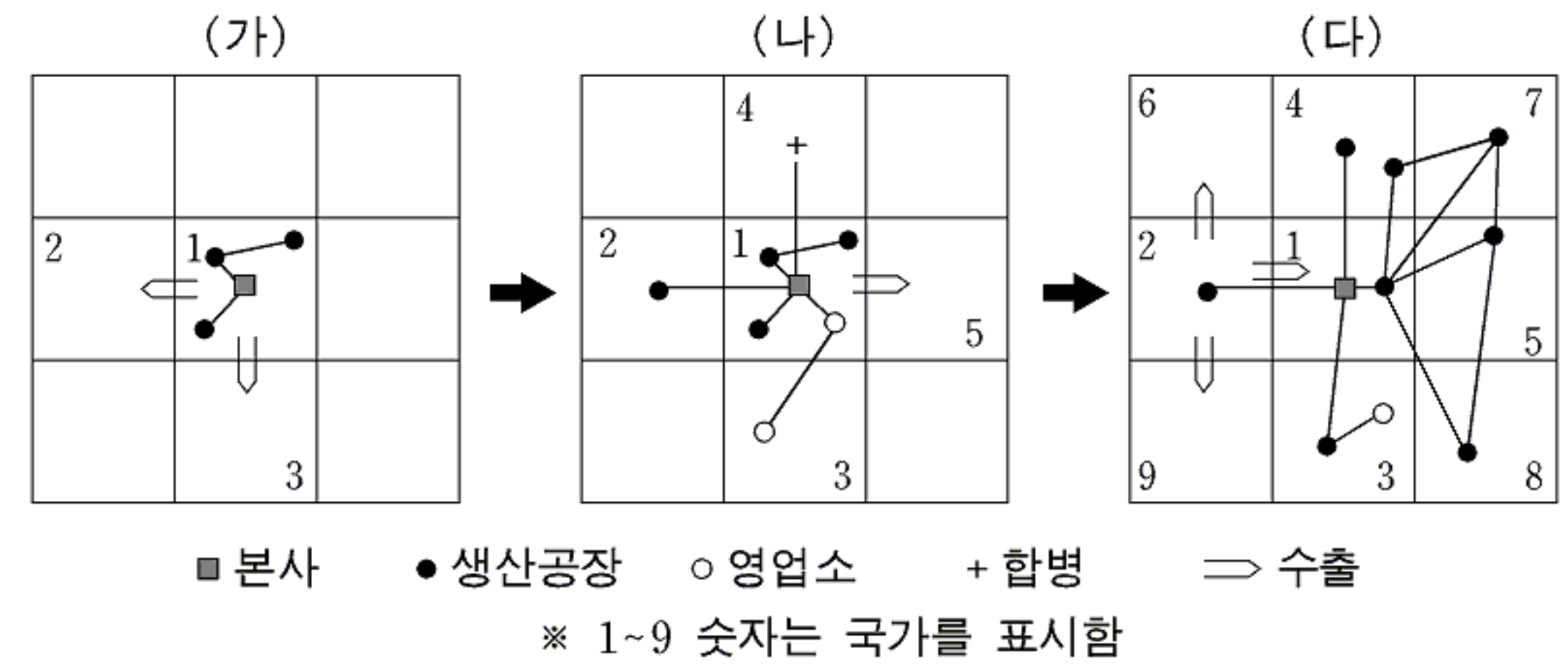
2. 이러한 조직 재배치를 가능하게 하는 조건 :
 (나)

3. 이에 따른 기업 내부 조직의 재배치 계획

본사 : 핵심 대도시		
금융 시설 및 정보 접근 용이		
연구 개발 부서 : 대도시 주변	제품 생산 시설 : 지방 공업 도시	창고, 물류 시설 : 고속국도 IC 부근
입지 요인 : (다)	입지 요인 : (라)	입지 요인 : (마)

- ① (가): 기능들 간 공간적 분업 필요
- ② (나): 교통과 정보 통신 기술의 발달
- ③ (다): 저임금 노동력 확보
- ④ (라): 넓은 토지 및 용수 조달
- ⑤ (마): 접근성과 운송의 편리성

19. 제조업체의 성장과 입지 구조의 변화에 관한 그림이다. 이에 대한 설명으로 옳은 것을 <보기>에서 모두 고른 것은? [3점]

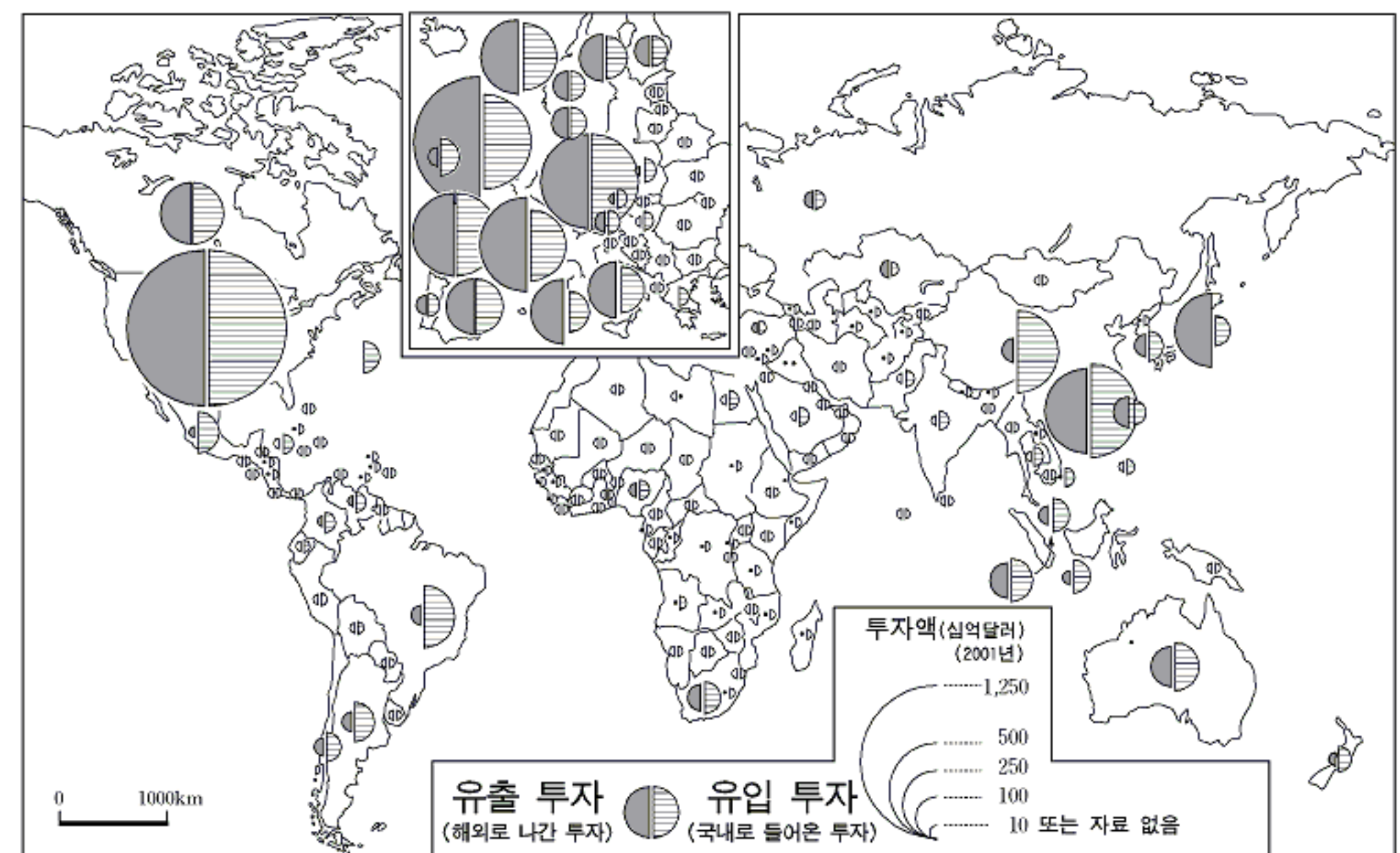


<보 기>

- ㄱ. (가)단계는 단일 공장 기업으로, 해외에 상품을 수출한다.
- ㄴ. (나)단계에서 국가 2로의 해외 진출은 주로 기술 및 연구 개발을 위한 것이다.
- ㄷ. (다)단계에서 본사의 통제·관리 기능이 보다 확대된다.
- ㄹ. (가)~(다)단계로 변하는 과정에서 생산 체계의 국가 간 연계가 형성되고 있다.
- ㅁ. (가)~(다)단계로 변하는 과정에서 국가 3은 해당 제품에 대한 시장 수요의 지속적인 증가를 보이고 있다.

- ① ㄱ, ㄴ ② ㄷ, ㄹ ③ ㄱ, ㄴ, ㄹ
- ④ ㄴ, ㄷ, ㅁ ⑤ ㄷ, ㄹ, ㅁ

20. 세계 국가들의 해외 직접 투자를 나타낸 지도이다. 이에 대한 설명으로 옳은 것을 <보기>에서 모두 고른 것은? [3점]



<보 기>

- ㄱ. 미국은 유출·유입 투자가 균형을 이루고 있다.
- ㄴ. 해외 직접 투자는 지역 간 균등하게 이뤄지고 있다.
- ㄷ. 라틴아메리카의 대부분 국가들은 유입 투자국이다.
- ㄹ. 일본은 유입 투자, 중국은 유출 투자에 치우쳐 있다.
- ㅁ. 서유럽의 선진국은 다른 선진국보다 개발도상국에 대한 투자를 선호한다.

- ① ㄱ, ㄷ ② ㄴ, ㄹ ③ ㄱ, ㄷ, ㄹ
- ④ ㄱ, ㄷ, ㅁ ⑤ ㄴ, ㄹ, ㅁ

* 확인 사항
 ○ 답안지의 해당란에 필요한 내용을 정확히 기입(표기)했는지 확인 하시오.