

제 4 교시

사회탐구 영역(국사)

성명		수험 번호							
----	--	-------	--	--	--	--	--	--	--

- 자신이 선택한 과목의 문제지인지 확인하십시오.
- 문제지에 성명과 수험 번호를 정확히 써 넣으시오.
- 답안지에 성명과 수험 번호를 써 넣고, 또 수험 번호와 답을 정확히 표시하십시오.
- 과목을 선택한 순서대로 풀고, 답은 답안지의 '제1선택'란에서부터 차례대로 표시하십시오.
- 문항에 따라 배점이 다르니, 각 물음의 끝에 표시된 배점을 참고하십시오. 3점 문항에만 점수가 표시되어 있습니다. 점수 표시가 없는 문항은 모두 2점입니다.

1. 다음 자료를 활용한 탐구 활동의 주제로 적절한 것을 <보기>에서 모두 고른 것은?

○ 옛 성인들은 예(禮)·악(樂)으로 나라를 흥하며 번성하게 하고 인의로 가르쳤으며, 괴상한 힘이나 난잡한 귀신을 말하지 않았다. 그러나 제왕들이 일어날 때는 반드시 보통 사람과 다른 것이 있는 뒤에 기회를 타서 대업을 이루는 것이다. …(중략)… 그러나 삼국의 시조들이 모두 신기한 일로 태어났음이 어찌 괴이하겠는가. 이것이 신이(神異)로써 다른 편보다 먼저 놓는 까닭이다.

○ 요동에 또 하나의 천하가 있으니, 중국의 왕조와 뚜렷이 구분된다. 큰 파도가 출렁이며 3면을 둘러싸고, 북으로는 대륙으로 면면히 이어졌다. 가운데에 사방 천리 땅 여기가 조선이니, 강산의 형승은 천하에 이름났다.

<보 기>

- |                 |                 |
|-----------------|-----------------|
| ㄱ. 한국 문화의 개방성   | ㄴ. 고려 시대의 유학 사상 |
| ㄷ. 고려 후기의 역사 의식 | ㄹ. 한국 문화의 독자성   |

- ① ㄱ, ㄴ    ② ㄱ, ㄷ    ③ ㄴ, ㄷ    ④ ㄴ, ㄹ    ⑤ ㄷ, ㄹ

2. 어느 고등학교 학생이 쓴 답사 기행문이다. (가)에 들어갈 제목으로 적절한 것은?

(가)

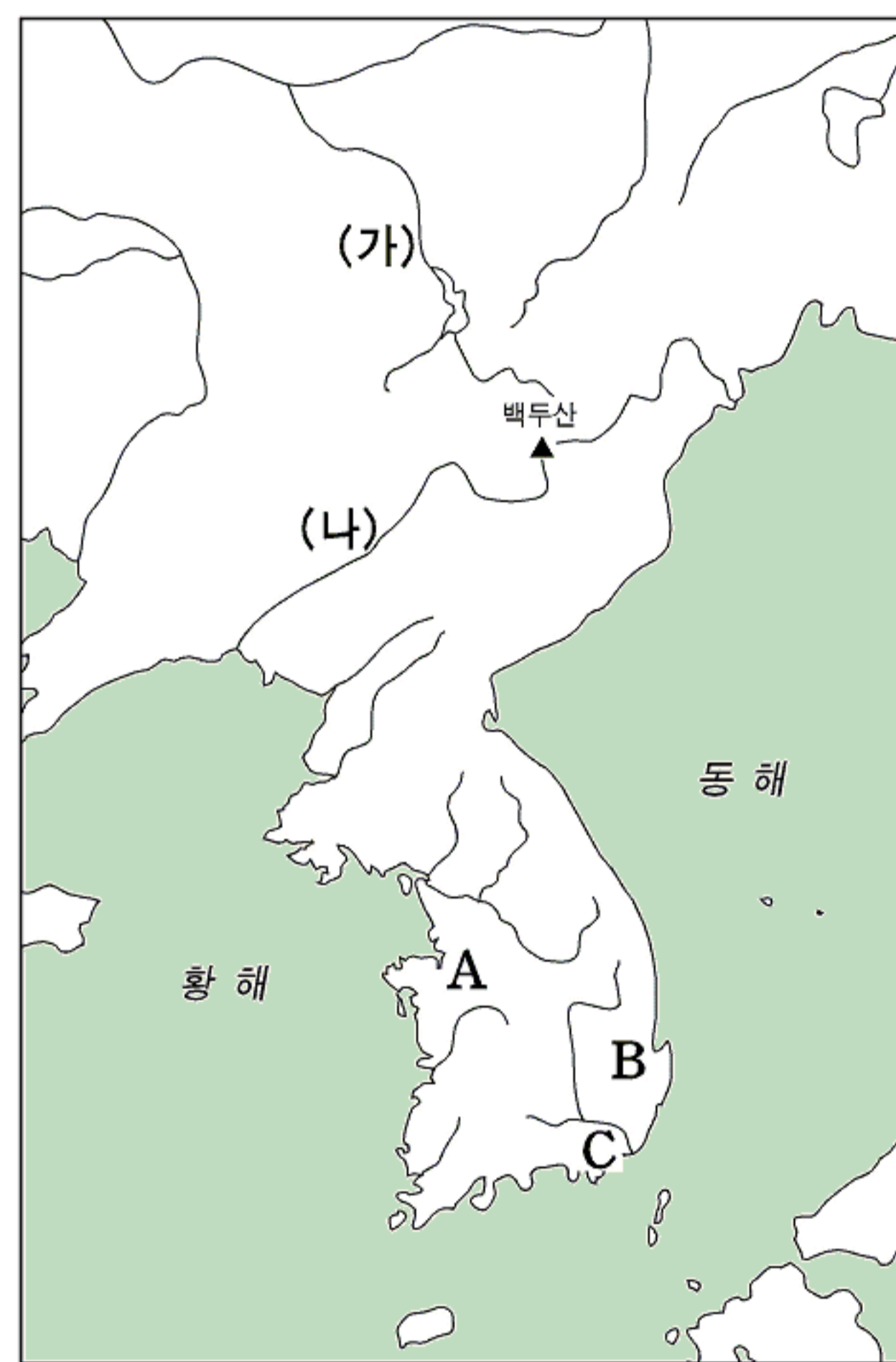
서울에서 벗어나 4시간 쯤 지나자 목적지에 도착했다. 건축물의 외관은 시원 같기도 하고 주택 같기도 한 것이 자연과 어우러져 독특한 아름다움을 뽐내고 있었다. 안으로 들어가니 왕이 내려 주었다는 현판이 강당에 걸려 있었다. 또 강당을 중심으로 사당과 기숙 시설 등이 갖추어져 있었다.

- |                 |                 |
|-----------------|-----------------|
| ① 사람의 본거지, 서원   | ② 관학의 최고봉, 성균관  |
| ③ 지방 행정의 중심, 관아 | ④ 기록 문화의 보고, 사고 |
| ⑤ 왕실 제사의 현장, 종묘 |                 |

3. 다음 대화에서 '갑'과 '을'이 답사한 지역을 지도에서 골라 바르게 짝지은 것은?

갑 : 나는 우리 역사의 숨결이 남아 있는 중국의 동북 지방을 다녀왔어. 내가 둘러본 곳은 지형이 평탄하고, 낮은 구릉과 넓은 못이 많았어. 이 지역에서 성립한 나라는 12월에 '영고'라는 제천 행사를 지냈고, 살인자에 대해서는 가족까지 연좌제를 적용해서 처벌했대.

을 : 내가 간 곳은 삼한 가운데 하나가 있었던 곳인데, 특히 철이 많이 생산되어 주변의 여러 나라에 수출했대. 그리고 중국과 일본을 잇는 해상 교통의 요지에 자리 잡고 있어서 일찍부터 중계 무역이 발달했다는군.



- |   |     |   |
|---|-----|---|
|   | 갑   | 을 |
| ① | (가) | A |
| ② | (가) | B |
| ③ | (가) | C |
| ④ | (나) | A |
| ⑤ | (나) | C |

4. 표는 어느 집안의 상속 현황을 정리한 것이다. 당시의 사회상에 대한 추론으로 옳은 것을 <보기>에서 모두 고른 것은? [3점]

	남자 중(명)	여자 중(명)	논(두락)	밭(두락)
제사 비용	8	10	155	15
장남	41	44	203	368
장녀	41	45	332	292
차남	42	43	328	250
서자 1	5	6	72	59
서녀 1	5	3	26	35
서녀 2	4	4	34	53
서자 2	6	5	58	30

<보 기>

- ㄱ. 적·서의 차별이 없었을 것이다.
- ㄴ. 아들들은 동성 마을에 모여 살았을 것이다.
- ㄷ. 딸은 결혼 후 자기 재산을 따로 관리했을 것이다.
- ㄹ. 재산 상속에서 아들과 딸의 차별이 없었을 것이다.

- ① ㄱ, ㄴ    ② ㄱ, ㄷ    ③ ㄴ, ㄷ    ④ ㄴ, ㄹ    ⑤ ㄷ, ㄹ



5. 다음 모의가 성사되어 왕이 바뀌었다. 새 왕에 의해 기능이 약화된 정치 기구를 <보기>에서 모두 고른 것은? [3점]



<보 기>

ㄱ. 6조	ㄴ. 의정부
ㄷ. 사간원	ㄹ. 승정원

- ① ㄱ, ㄴ    ② ㄱ, ㄷ    ③ ㄴ, ㄷ    ④ ㄴ, ㄹ    ⑤ ㄷ, ㄹ

6. 다음 사례를 통해 당시의 과거 제도에 대해 학생들이 토론하였다. 발표한 내용으로 적절하지 않은 것은?

- 훈구 대신 이극돈의 한 아들은 역과에 합격하였다.
- 최세진은 역과에 합격한 뒤 다시 문과에 합격하여 벼슬이 동지중추부사에까지 올랐다.
- 고성 사람 안중손은 노비 둘을 데리고 농사를 지으면서 공부하여 문과에 합격한 뒤에 현령이 되었다.
- 윤치관의 아들 윤효손은 아버지가 서리로 고생하는 것을 보고 분발하여 문과에 합격한 뒤 재상이 되었다.

- ① 갑 : 잡과에 합격하고 다시 문과에 응시할 수 있었어.  
 ② 을 : 몇몇 특정한 가문에서 과거 합격을 독차지했어.  
 ③ 병 : 고관이 되기 위해서는 문과에 합격하는 것이 유리했어.  
 ④ 정 : 양인이 문과에 합격하면 양반이 될 기회가 보장되었어.  
 ⑤ 무 : 과거에 응시할 수 있는 자격은 천인을 제외하고 특별한 제한이 없었어.

7. 다음 주장을 펼친 사람에 대한 설명으로 옳은 것을 <보기>에서 모두 고른 것은? [3점]

- 인간은 본래 신령스러움을 타고나기 때문에 사물보다 월등히 뛰어난 존재이며, 사물을 이용할 권리를 갖는다.
- 하늘은 짐승에게 발톱과 뿔과 발굽과 이빨 등을 주었는데 사람에게만은 벌거숭이로 제 생명도 구하지 못하게 하였다. 어찌하여 하늘은 천한 짐승에게는 후하게 하고 귀한 인간에게는 박하게 하였는가? 인간에게는 지혜로운 생각이 있으므로 기예(기술)를 익혀서 제 힘으로 살게 한 것이다.

<보 기>

ㄱ. 충청도 출신의 호론 계열 학자이다.	ㄴ. 배다리를 설계하고 중두법을 실험하였다.
ㄷ. 노론 명문 출신으로 상공업의 진흥을 주장하였다.	ㄹ. 전통적인 화이관을 고수하면서 외래 문화를 배격하였다.
ㅁ. 서양의 과학 기술을 받아들여 현실에 활용하고자 하였다.	

- ① ㄱ, ㄴ    ② ㄱ, ㄹ    ③ ㄴ, ㄷ    ④ ㄴ, ㅁ    ⑤ ㄷ, ㅁ

8. 다음은 고려 시대에 어떤 승려가 말한 내용이다. 이 승려에 대한 설명으로 옳은 것은?

전에는 제가 공(公)의 문하에 있었지만 지금은 공이 우리 절에 왔으니, 공은 불교의 유생이고 저는 유교의 불자입니다. 서로 손님과 주인이 되고 스승과 제자가 되는 것은 옛날부터 있었던 일입니다. 불교와 유교는 그 이름만을 생각한다면 아주 다르지만, 그 실체를 알면 다른 것이 아닙니다.

- ① 법화 신앙에 중점을 둔 불교 결사를 제창하였다.  
 ② 화엄 사상을 정비하고 보살의 실천행을 가르쳤다.  
 ③ 유불 일치설을 주장하고 심성의 도야를 강조하였다.  
 ④ 경전의 이해를 강조하되 수행을 아울러 중시하였다.  
 ⑤ 단번에 깨닫고 꾸준히 실천해야 한다는 이론을 창시하였다.

9. (가)에 들어갈 해설 기사의 제목으로 가장 적절한 것은? [3점]

한국사신문    1833년 ○월 ○일

한성에 난리나다

쌀값 폭등에 항의해

어제 한성에서 빈민들이 난리를 일으켜 시내의 쌀가게와 강변의 여각에 보관하던 쌀을 불태웠다. 조정에서는 객주 김재순이 쌀을 사들인 뒤 한성 반입과 판매를 방해하여 쌀값이 폭등한 것이 난리의 원인이라고 밝혔다.

(가)

이번 사건은 그동안 묵인되었던 독점 상인의 비양심적 거래 관행이 불러온 것이다. 오늘날 한성에서 어용 상인의 독점은 거의 사라졌지만, 이제는 사상의 독점 행위가 문제가 되고 있다.

- ① 육의전 독점, 폐단과 대책  
 ② 도고의 횡포, 이대로 좋은가  
 ③ 보부상의 폐단, 그 실태와 대안  
 ④ 비대해진 공인, 더 이상은 안돼  
 ⑤ 시전 상인의 독점권, 이제는 폐지할 때

10. 다음 자료에서 추론할 수 있는 당시의 사회상으로 옳지 않은 것은?

- 이양하는 노동을 직파하는 노동에 비하면 5분의 4가 적게 든다. 그러므로 일손이 많은 자는 한없이 경작할 수 있지만, 일손이 없는 자는 빌리기도 어렵다. -『성호사설』-
- 서울 근교와 지방의 대도시 주변의 파 밭, 마늘 밭, 배추 밭, 오이 밭에서는 10무(畝)의 땅으로 수만 전(錢)의 수입을 올린다. …(중략)… 논농사 최고의 수입과 비교하더라도 그 이익이 10배에 달한다. -『여유당전서』-

- ① 일부 농민은 경작지의 규모를 확대하였을 것이다.  
 ② 농민층은 부농과 몰락 농민으로 분화되었을 것이다.  
 ③ 노비를 활용한 대규모 농장 경영이 일반화되었을 것이다.  
 ④ 경작지를 잃은 농민은 임노동자로 흡수되기도 하였을 것이다.  
 ⑤ 상품 화폐 경제의 발달에 따라 상업적 농업이 활기를 띠었을 것이다.



11. 다음 밑줄 친 ‘이 지역’에 대한 정책으로 옳은 것을 <보기>에서 모두 고른 것은? [3점]

이 지역은 본래 우리 땅이었는데 중간에 여진족에게 점거되었다. 태조가 이 지역에 처음으로 부를 설치하였다. 태종 때 야인이 침입해 와서 백성들을 경성군으로 옮기고 그 땅은 비워 두었다. 세종 때 이 지역을 되찾기로 하고 정벌하여 회복하였다.

- <보 기>
- ㄱ. 토착민을 토관으로 임명하였다.
  - ㄴ. 조세 운반을 위하여 조창을 설치하였다.
  - ㄷ. 무역소를 설치하고 국경 무역을 허락하였다.
  - ㄹ. 삼남 지방의 일부 주민들을 이주시켜 살게 하였다.

- ① ㄱ, ㄴ                      ② ㄱ, ㄹ                      ③ ㄴ, ㄷ
- ④ ㄱ, ㄷ, ㄹ                ⑤ ㄴ, ㄷ, ㄹ

12. 다음은 조선 후기 정치 상황에 대한 설명이다. (가)에 들어갈 내용으로 적절한 것은?

숙종 때에 이르면 봉당 정치가 변질되고 그 폐단이 심화되면서 일당 전제화의 경향이 나타났다. 이에 영조와 정조는 특정 봉당의 권력 장악을 견제하고 왕권을 강화하기 위하여 탕평 정치를 추진했다. 그러나 정조가 죽자, (가)

- ① 잦은 환국으로 정치적 혼란이 계속되었다.
- ② 봉당 간의 대립적인 정치 구도가 강화되었다.
- ③ 서인이 5군영을 설치하고 지휘권을 장악하였다.
- ④ 왕위 계승의 정당성을 둘러싸고 예송이 일어났다.
- ⑤ 일부 유력한 가문이 비변사의 요직을 장악하였다.

13. 다음 자료와 관련된 설명으로 옳지 않은 것은? [3점]

진평왕 30년, 왕은 ㉠고구려가 빈번하게 강역을 침벌하는 것을 근심하다가 수나라에 병사를 청하여 고구려를 정벌하고자 하였다. 이에 ㉡원광에게 군사를 청하는 글을 짓도록 명하니, 원광이 “자기가 살려고 남을 죽이도록 하는 것은 승려로서 할 일이 아니나, 제가 대왕의 토지에서 살고 대왕의 물과 풀을 먹으면서, 어찌 감히 명령을 좇지 않겠습니까?”라고 하며, 곧 글을 지어 바쳤다. …(중략)… 33년에 왕이 수나라에 사신을 보내어 표문을 바치고 출병을 청하니, ㉢수나라 양제가 이를 받아들이고 군사를 일으켰다.

-『삼국사기』 신라본기-

- ① 호국을 강조하는 신라 불교의 특색이 반영되어 있다.
- ② 당시 신라는 백제와 동맹을 맺어 고구려의 남진에 대처하고 있었다.
- ③ ㉠-고구려는 한강 유역을 되찾기 위해 신라를 자주 공격하였다.
- ④ ㉡-원광은 세속오계를 지어 화랑도의 행동 규범을 제시하였다.
- ⑤ ㉢-고구려는 살수에서 대승을 거두고, 수나라의 침략을 격퇴하였다.

14. 표는 백제 관등제의 내용을 정리한 것이다. 이와 관련된 설명으로 적절하지 않은 것은? [3점]


등급	관등명	관복 색깔	허리띠 색깔	기타 장식	
1	좌평	자주색	자주색	은화 관식을 부착함	
2	달솔				
3	은솔				
4	덕솔				
5	한솔				
6	나솔				
7	장덕	빨간색	검은색	내용이 전하지 않음	
8	시덕				
9	고덕				붉은색
10	계덕				푸른색
11	대덕	노란색	노란색		
12	문독				
13	무독	푸른색	흰색		
14	좌군				
15	진무				
16	극우				

\*은화 관식 : 은으로 만들어진 모자 장식

- ① 관등의 명칭과 관복의 색깔 구분을 통해 볼 때, 관리들은 크게 세 부류로 나뉘었다.
- ② 은화 관식이 나솔 이상 관등 소지자의 높은 지위를 강조하는데 이용되었다.
- ③ 중국 제도의 영향으로 문·무의 관등 체계가 이원적으로 구성되었다.
- ④ 나솔부터 무독까지는 관복이나 허리띠의 색깔로 관등이 구별되었다.
- ⑤ 최고 관등인 좌평은 국정을 총괄하는 관직의 이름이기도 하였다.

15. 조선 시대 미술에 대하여 어느 학생이 작성한 보고서의 일부이다. 첨부할 자료로 가장 적절한 것은?

조선 후기 사회의 모습을 사실적이고 때로는 풍자적으로 보여주는 이 양식의 그림은 양반 이외에도 중인, 서얼, 서리 등 다양한 출신의 애호가에게 사랑을 받았다. 서울 광통교 아래에서 그림을 팔았는데, 도화서 일급 화원들이 그린 이러한 양식의 작품들이 가장 많았다고 한다.





[16~17] 다음 자료를 읽고 물음에 답하시오.

(가) 불교를 믿는 것은 수신(修身)의 근본이요, 유교를 받드는 것은 치국(治國)의 근원입니다. 수신은 내세의 생을 위한 것이고, 치국은 오늘날의 중요한 일인데, 오늘날은 아주 가깝고 내세는 아주 멀리 있으니, 가까이 있는 것을 버리고 멀리 있는 것을 구하는 것은 그릇된 행동이 아니겠습니까?  
-『고려사절요』-

(나) 고려 말에 조준 등이 아뢰기를, “태조께서 즉위한 뒤 신하들에게 ‘㉠최근 민에 대한 수탈이 가혹하여 사람들이 너무 살기가 어렵다. 지금부터는 수확량의 10분의 1을 걷도록 하라.’고 하셨습니다. …(중략)… 그러나 ㉡근래에 토지 1무(畝)의 주인이 5, 6명이 넘고, 1년의 조(租)를 8, 9번씩이나 거두어 무고한 백성들이 사방으로 유랑하고 있으니 이것이 사전의 폐해입니다. …(중략)…”라고 하였다.  
-『고려사』-

(다) 전하(조선 태조)께서 즉위하기 전에 ㉢국내의 토지를 몰수하여 국가에 귀속시키고 식구 수를 헤아려 토지를 나누어 주어서 옛날의 올바른 전제(田制)를 회복하려 하였다. 그러나 당시 세족들이 온갖 방해를 하여 백성들로 하여금 혜택을 입지 못하게 하였으니, 어찌 한스러운 일이 아니겠는가. ㉣하지만 뜻을 같이 하는 대신들과 함께 이전 시대의 법을 연구하고 현실을 참작하여 국내의 토지를 측량한 다음 관리들에게 지급하였다.  
- 정도전, 『조선경국전』 -

16. (가)와 (나)의 ㉠에 공통적으로 반영된 사상에 대하여 탐구 활동을 하려고 한다. 탐구 주제로 가장 적절한 것은?

- ① 연등회와 팔관회의 의미
- ② 북진 정책의 사상적 근거
- ③ 지주 전호제의 폐단과 개선안
- ④ 민본 이념을 바탕으로 한 정치 사상
- ⑤ 이기(理氣)와 심성에 대한 철학 사상

17. 학생들이 (나)와 (다)를 읽고 고려 말의 전제 개혁에 대해 토론하였다. 발표 내용으로 옳은 것을 <보기>에서 모두 고른 것은? [3점]

<보 기>

㉡. ㉢은 같은 토지에서 여러 사람이 조를 거두어 가는 실태를 말한 것이야.  
㉣. ㉢은 고려 시대의 토지 제도인 전시과 제도를 회복하려 하였다는 것이야.  
㉤. ㉢은 전제 개혁의 결과 과전법 제도가 성립되었음을 말하는 것이야.  
㉥. (다)에는 백성들에게 토지를 나누어 주지 못한 데 대한 아쉬움이 나타나 있어.

- ① ㉡, ㉢                      ② ㉡, ㉣                      ③ ㉢, ㉤
- ④ ㉡, ㉣, ㉤                ⑤ ㉢, ㉣, ㉤

18. 다음은 고구려 후기의 조세 제도에 관한 자료이다. 이에 대한 추론으로 옳은 것을 <보기>에서 모두 고른 것은? [3점]

○포목 5필과 곡식 5섬을 인세(人稅)로 낸다. 유인(遊人)의 경우, 3년에 한 번씩 열 사람이 합쳐서 가는 배 1필을 낸다.  
○조(租)는 상호가 1섬을 내고, 그 다음이 7말이며, 하호는 5말을 낸다.  
-『수서』-

<보 기>

㉦. 이 시기 수취의 중심을 이룬 것은 인세였다.  
㉧. 인세의 수취는 3년마다 일률적으로 이루어졌다.  
㉨. 조의 수취는 호의 등급을 기준으로 이루어졌다.  
㉩. 일반 민에 비해 유인의 조세 부담이 상대적으로 컸다.

- ① ㉦, ㉨                      ② ㉦, ㉣                      ③ ㉢, ㉤
- ④ ㉡, ㉣, ㉤                ⑤ ㉢, ㉣, ㉤

19. 다음 자료의 ○○과 같은 사람들로 구성된 정치 세력에 대한 설명으로 옳은 것은?


이름은 ○○이다. 증조 할아버지와 할아버지는 모두 자기 고장의 향리였고, 아버지는 과거에 급제했지만 벼슬길에 오르지 않았다. ○○은 과거에 급제하여 관리가 되었으며, 밀직사와 첨의부의 관직을 역임하였다. 관동 지방을 유람하면서 경기체가를 지었다.

- ① 문벌 제도와 적서 차별의 폐단을 고치려 하였다.
- ② 골품 제도의 신분 제약을 극복하고자 노력하였다.
- ③ 국왕을 도와 호족 세력을 약화시키는 데 앞장섰다.
- ④ 성리학을 수용하여 사회의 모순을 시정하려 하였다.
- ⑤ 향약을 통해 향촌 사회의 질서를 유지하고자 하였다.


20. (가)~(다)의 불상에 대한 설명으로 옳은 것은? [3점]



(가)



(나)



(다)

- ① (가)가 만들어진 시기에는 철로 만든 불상이 함께 유행하였다.
- ② (나)는 현세에서 고난을 구제받으려는 관음 신앙과 관련이 깊다.
- ③ (다)는 지방 세력가들의 재정적 지원을 받아 조성되었다.
- ④ (가)와 (나)는 같은 왕조에서 만들어졌다.
- ⑤ (다)→(나)→(가)의 순서로 만들어졌다.

\* 확인 사항

○ 답안지의 해당란에 필요한 내용을 정확히 기입(표기)했는지 확인하시오.