

제 4 교시

# 사회탐구영역(경제)

성명

수험번호

- 먼저 수험생이 선택한 과목의 문제지인지 확인하시오.
- 선택 과목은 반드시 응시 원서 작성시 자신이 선택한 과목의 문제를 풀어야 합니다.
- 문제지에 성명과 수험 번호를 정확히 기입하시오.
- 수험표에 표기된 선택 1, 선택 2, 선택 3, 선택 4의 과목에 대한 문제를 순서대로 풀어 해당란에 답을 표기하시오.
- 문항에 따라 배점이 다르니, 각 물음의 끝에 표시된 배점을 참고하시오. 3점 문항에만 점수가 표시되어 있습니다. 점수 표시가 없는 문항은 모두 2점입니다.

1. 다음 글을 읽고 추론할 수 있는 것 중 가장 적절한 것은?

과거에는 아무런 대가를 지불하지 않고서도 어디서나 깨끗한 물을 쉽게 구할 수 있었다. 하지만 산업화 과정에서 사람들의 무관심과 욕심으로 환경 오염이 심해지면서 깨끗한 물을 쉽게 구할 수 없게 되었고, 이제는 깨끗한 물을 구하고자 할 때 그 값을 치르게 되었다.

- ① 자유 거래는 모든 사람을 이롭게 한다.
- ② 같은 비용이면 편익이 큰 것을 선택한다.
- ③ 모든 재화는 시장에서 거래가 이루어진다.
- ④ 시장에서는 분업의 원리가 작용하고 있다.
- ⑤ 재화의 희소성으로 선택의 문제가 발생한다.

2. 다음 두 사람의 대화에서 밑줄 친 부분에 들어갈 답변으로 가장 거리가 먼 것은?

상욱 : 우리나라와 같이 작은 나라가 대외 개방을 한 상태에서는 큰 나라에서 발생하는 충격에 무방비로 당할 수밖에 없어. 외국과의 교역이나 자본의 거래에 일정한 제약을 가해야만 원천적으로 이러한 충격에서 우리 경제를 방어할 수 있다고 봐.

유진 : 외국과의 거래를 제한하자는 주장은 자원이 풍부한 큰 나라에는 맞을 지도 모르지만, 자원이 부족하여 자급자족이 불가능한 우리나라에 적용할 수는 없어. 더구나 전 세계가 개방화, 글로벌화되고 있는 시대적 조류에도 맞지 않아.

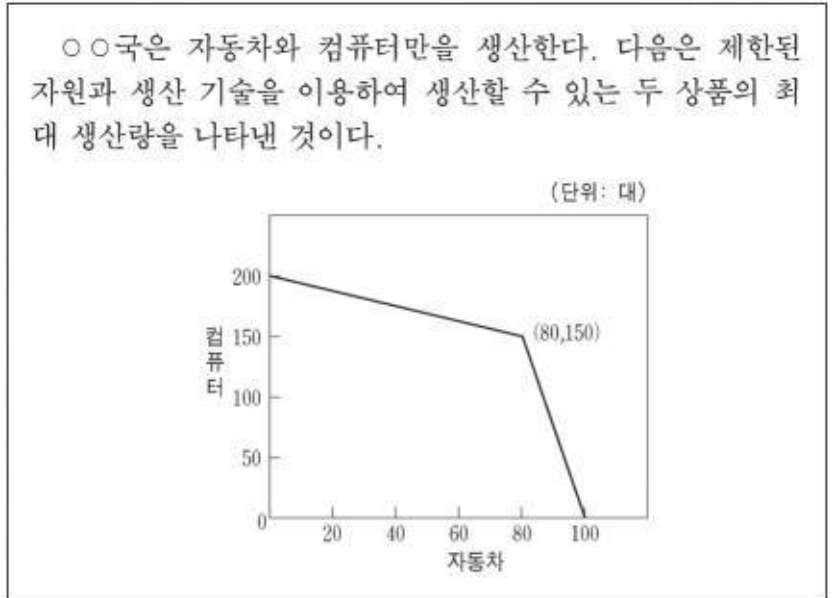
상욱 : 그럼 대외 개방을 한 상태에서 우리가 어떻게 대응해야 하지?

유진 : \_\_\_\_\_

- ① 수출품의 품질 경쟁력을 향상시켜야지.
- ② 해외 자본이 이동할 때 세금을 부과해야지.
- ③ 기업의 경영 관행을 국제 기준에 맞추어야지.
- ④ 금융 시장이 수요·공급의 원칙에 따라 운영되어야지.
- ⑤ 경제협력개발기구(OECD) 기준에 따라 정부 규제를 조정해

야지.

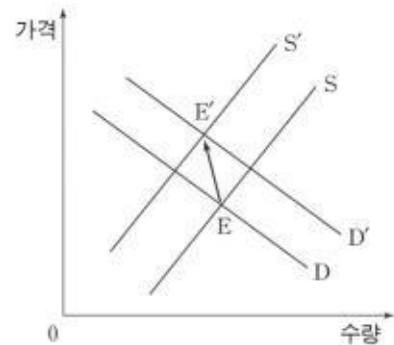
3. 다음 자료에서 추론할 수 있는 내용을 <보기>에서 모두 고른 것은? [3점]



- <보기>
- ㄱ. 자동차 80대의 기회비용은 컴퓨터 150대이다.
  - ㄴ. 컴퓨터 생산이 증가할수록 포기해야 하는 자동차의 수는 줄어든다.
  - ㄷ. 자동차 80대와 컴퓨터 100대가 생산되었다는 것은 자원이 비효율적으로 사용되었음을 의미한다.
  - ㄹ. 컴퓨터 생산 기술이 향상되면 자동차 80대를 생산하면서도 150대 이상의 컴퓨터 생산이 가능하다.

- ① ㄱ, ㄴ    ② ㄱ, ㄹ    ③ ㄴ, ㄷ    ④ ㄴ, ㄹ    ⑤ ㄷ, ㄹ

4. 다음은 쇠고기 시장에 대한 수요 곡선과 공급 곡선을 나타낸 것이다. 쇠고기 시장의 균형점이 E에서 E'로 이동하였을 경우, 그 원인들을 <보기>에서 바르게 고른 것은?



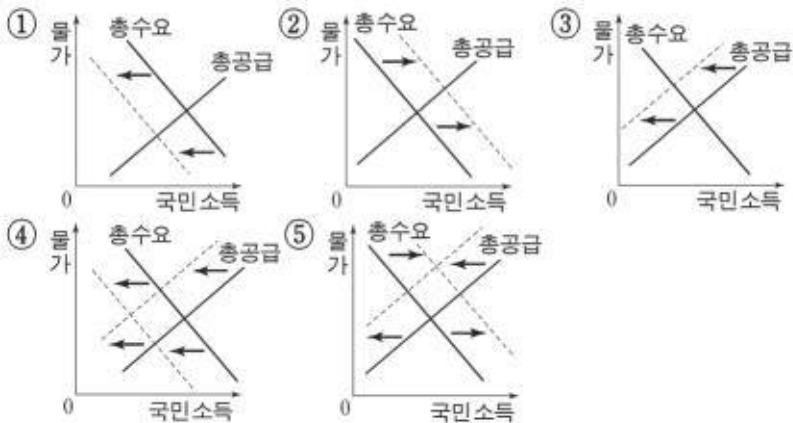
- <보기>
- ㄱ. 소의 사료 값이 대폭 인하되었다.
  - ㄴ. 쇠고기와 대체 관계에 있는 돼지고기 가격이 인상되었다.
  - ㄷ. 광우병이 발생한 국가로부터의 쇠고기 수입이 전면 금지되었다.
  - ㄹ. 육류 섭취를 많이 할수록 성인병에 걸릴 확률이 높아진다는 연구 보고서가 발표되었다.

- ① 가, 나 ② 가, 다 ③ 나, 다 ④ 나, 르 ⑤ 다, 르

5. 다음 글의 내용을 그림으로 적절하게 나타낸 것은? [3점]

도시 지역 2,000 가구를 방문해 조사한 결과, 6개월 전과 현재를 비교해 생활 형편, 소비 지출, 경기 상황 등에 대한 소비자들의 판단을 나타내는 '소비자 평가지수'가 67.3을 기록하였다.

※ 소비자 평가지수는  $\frac{\text{호전 응답 가구 수} - \text{악화 응답 가구 수}}{\text{전체 응답 가구 수}} \times 100 + 100$ 의 공식으로 계산하며, 0에서 200사이의 값을 가진다.



6. 다음 글에 나타난 정부의 가격 정책과 성격이 같은 것을 <보기>에서 바르게 짝지은 것은? [3점]

아파트 분양 시장의 과열로 분양가를 규제한다.

- <보기>
- 가. 저임금 근로자를 위해 최저 임금 제도를 시행한다.
  - 나. 공급 과잉이 나타난 농산물의 가격을 일정 수준에서 지지하여 준다.
  - 다. 휴가철 숙박업소의 바가지 요금을 없애기 위해 숙박 요금을 규제한다.
  - 르. 서민 대출의 이자 부담 완화를 위해 금융기관의 이자율 상한을 설정한다.

- ① 가, 나 ② 가, 르 ③ 나, 다 ④ 나, 르 ⑤ 다, 르

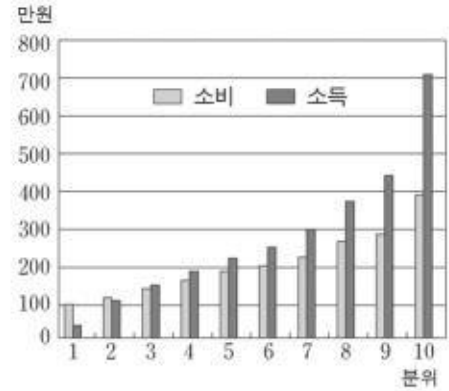
7. 미국의 경제 조치에 대한 기사이다. 밑줄 친 부분에 들어갈 수 있는 것을 <보기>에서 모두 고른 것은?

미국 연방준비제도이사회(FRB)가 지난 6월 30일 연방기금 금리를 연 1%에서 1.25%로 0.25%포인트 올렸다. 그러나 인상된 1.25%의 금리도 1960년대 이후 가장 낮은 수준이어서 경제 전문가들은 올해 말까지 2.25%까지 상승할 것으로 예상하고 있다. 경제 전문가들의 전망이 이처럼 금리 인상에 무게를 두는 것은 \_\_\_\_\_

- <보기>
- 가. 도시 지역을 중심으로 실업률이 증가하고 있기 때문이다.
  - 나. 최근 미국 경제가 상당한 속도로 성장하고 있기 때문이다.
  - 다. 중국을 비롯한 신흥국과의 무역 분쟁이 증가하고 있기 때문이다.
  - 르. 유가 및 식품 가격의 강세로 인하여 물가 상승률이 높아지고 있기 때문이다.

- ① 가, 나 ② 가, 다 ③ 나, 다 ④ 나, 르 ⑤ 다, 르

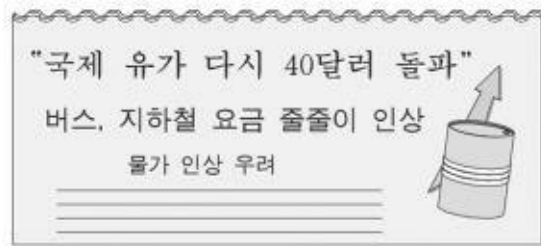
8. 소득 10분위별 월 소득과 소비를 보여주는 그림이다. 이에 대한 올바른 해석을 <보기>에서 모두 고른 것은? [3점]



- <보기>
- 가. 소비는 소득에 비례한다.
  - 나. 소득 1, 2분위 계층은 소득 이상으로 소비를 한다.
  - 다. 빈곤할수록 소득에서 차지하는 소비의 비중이 낮다.
  - 르. 부유할수록 소득에서 차지하는 저축의 비중이 높다.

- ① 가, 나 ② 나, 다 ③ 나, 르 ④ 가, 나, 르 ⑤ 나, 다, 르

9. 다음 기사를 읽고, 이 상황을 더욱 악화시킬 수 있는 것을 <보기>에서 모두 고른 것은?

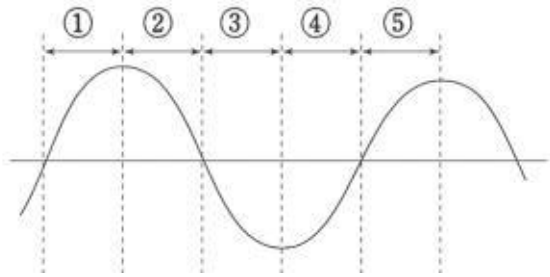


- <보기>
- 가. 저축보다 소비를 권장한다.
  - 나. 통화량을 늘려서 실업 문제를 완화한다.
  - 다. 노사 화합으로 기업의 경쟁력을 향상시킨다.
  - 르. 기업은 신기술 개발로 원가 절감에 노력한다.

- ① 가, 나 ② 가, 르 ③ 나, 다 ④ 나, 르 ⑤ 다, 르

10. 다음은 ○○년에 발표된 일련의 경제 정책들이다. 종합적으로 판단할 때, 이러한 정책들을 시행하기에 가장 적절한 경기 순환의 국면은? [3점]

- 일자리 창출 종합 대책
- 승용차, 에어컨 등에 대한 특별소비세 인하
- 고용 창출형 창업 투자 활성화 대책
- 토지 규제 완화 방안
- 건설 경기 진작 방안



11. 다음은 어느 항공사의 회의 내용이다. (A), (B)에 들어갈 내용을 바르게 짝지은 것은? [3점]

사장 : 현재 회사는 ○○-△△ 구간 요금을 4만원으로 책정하여 운행 중에 있으나 계속 적자를 면치 못하고 있습니다. 적자를 타개하기 위한 기획실장의 좋은 의견을 부탁드립니다.

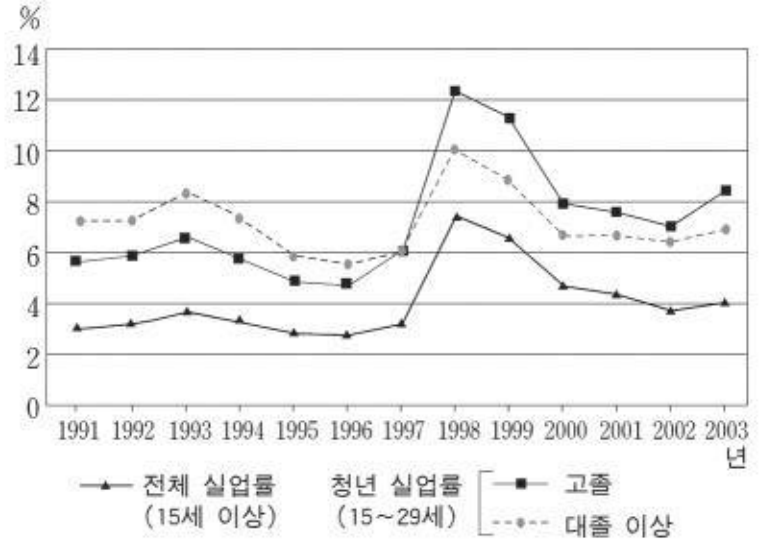
기획실장 : 현 시점에서 우리가 할 수 있는 최선의 대안은 가격 조정이라고 생각합니다. 다음 자료는 가격 조정 시 이용객 변화를 예상한 것입니다.

항공료(만원)	이용객(만명)
3	11
4	10
5	9

따라서 항공기 운행 비용의 변화가 없다고 가정할 때, 가격을 (A)한다면 수입 구조가 개선 될 것으로 예상됩니다. 왜냐하면 우리 회사 이용객의 수요는 가격에 대해 (B)이기 때문입니다.

- | (A)  | (B)   |
|------|-------|
| ① 인상 | 탄력적   |
| ② 인상 | 비탄력적  |
| ③ 인상 | 단위탄력적 |
| ④ 인하 | 탄력적   |
| ⑤ 인하 | 비탄력적  |


12. 다음은 실업률 변화를 나타낸 그림이다. 바르게 설명한 것을 <보기>에서 모두 고른 것은? [3점]



- <보기>
- ㄱ. 30세 이상 실업률은 전체 실업률보다 높다.
  - ㄴ. 1997년 외환 위기 직후 실업률이 급격하게 증가하였다.
  - ㄷ. 1997년 외환 위기 이후 청년 실업률의 학력 간 역전 현상이 나타났다.
  - ㄹ. 1997년 외환 위기 이전 대졸 이상 청년 실업자가 고졸 청년 실업자보다 많았다.

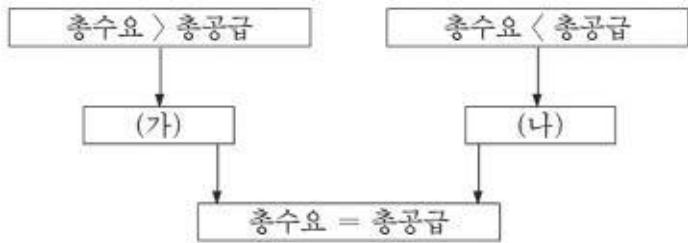
- ① ㄱ, ㄹ                      ② ㄴ, ㄷ                      ③ ㄱ, ㄴ, ㄷ  
 ④ ㄴ, ㄷ, ㄹ                      ⑤ ㄱ, ㄴ, ㄷ, ㄹ

13. 다음은 세 나라의 경제 관련 자료이다. 이를 통해 해석한 내용으로 가장 적절한 것은?



- ① 일본은 여전히 장기적인 경기 침체에 빠져 있다.
- ② 최근 경제 성적은 '중국 > 한국 > 일본'의 순이다.
- ③ 중국의 경제 성장은 외자 유치와 설비 투자에 힘입었다.
- ④ 일본은 동북아 경제에서 한국과 중국의 추격으로 경쟁력을 상실하고 있다.
- ⑤ 한국은 국가 신용 등급의 안정적 유지로 외자 유치에 상대적으로 성과를 거두고 있다.

14. 총수요와 총공급의 흐름을 나타낸 그림이다. 정부가 추진할 정책으로 (가), (나)에 해당하는 것은? [3점]



- (가)
- ① 세율 인상
  - ② 통화량 감소
  - ③ 국·공채 매각
  - ④ 정부 지출 확대
  - ⑤ 흑자 예산 편성
- (나)
- 정부 지출 축소
  - 국·공채 매각
  - 세율 인하
  - 통화량 증가
  - 이자율 인상

15. 다음 글의 밑줄 친 부분에 해당되지 않는 것은?

이론적으로는 가장 효율적인 자원 배분이 가능한 시장 형태가 존재한다. 이 시장에서는 수요자와 공급자가 가격을 주어진 것으로 받아들인다. 그러나 이 시장은 몇 가지 조건을 충족시켜야 하기 때문에 현실에서 그 사례를 찾는다는 것은 매우 어렵다.

- ① 시장에 진입과 탈퇴의 자유가 보장되어야 한다.
- ② 다수의 수요자와 공급자가 시장에 참여하여야 한다.
- ③ 수요자와 공급자 모두 완전한 정보를 보유해야 한다.
- ④ 하나의 상품에 여러 개의 시장 가격이 존재하여야 한다.
- ⑤ 시장에서 거래되는 상품이 질적으로 차이가 없어야 한다.

16. 다음 두 사람의 주장이 타당한 지를 입증하기 위해 필요한 자료로 가장 거리가 먼 것은?

윤정 : 갑, 을 두 사람이 있다고 생각해 봐. 갑은 직업이 있고 을은 없어. 이때 갑이 하루 8시간 일하는 대신 갑과 을이 4시간씩 나눠서 일하면, 갑은 쉬는 시간이 많아서 좋고(물론 수입은 줄겠지만) 을은 일자리가 생겨서 좋을 거야. 또 갑은 쉬었다 일을 하니 일하는 속도가 더 빨라질 것이고, 일자리가 없어서 돈을 한 푼도 쓰지 못했던 을은 번 돈으로 먹을 것과 입을 것을 살 수 있지.

이렇게 되면 갑 혼자 돈을 쓸 때보다 물건을 사는 사람이 많아지고, 따라서 물건이 더 많이 팔리니 공장은 늘어날 거야.

형우 : 하지만 그렇게 장밋빛 결과만 나올 수 있는 것은 아닐 거야. 기업에서는 한 사람이 하던 일을 두 사람에게 나눠서 시키면, 한 사람이 일할 때와 똑같은 돈이 들지는 않을 거야. 우선 사람을 뽑는 데 돈이 들 테고 신입 사원을 일에 익숙하게 만들려면 교육이 필요하지. 이들을 위해 자리도 마련해줘야 할 거고, 결과적으로 돈이 더 많이 들 거야.

그러면 어느 기업이 새로운 사람을 쓰려고 하겠어? 기업들은 사람 대신 기계 설비 등을 확충하려고 할 거야.

- ① 임금
- ② 취업률
- ③ 노동 생산성

- ④ 조세 부담률
- ⑤ 기업 설비 투자

17. 다음은 원/달러 환율과 엔/달러 환율의 자료이다. 환율 변동의 효과에 대한 설명으로 옳은 것을 <보기>에서 모두 고른 것은?

[3점]

	원/달러	엔/달러
과거	1,200	125
현재	1,100	100

<보기>

- ㄱ. 미국이 한국과 일본에 수출하는 제품의 가격 경쟁력은 낮아졌다.
- ㄴ. 일본산 부품을 사용하는 우리나라 기업의 생산 비용은 상승하였다.
- ㄷ. 미국에 수출하는 우리나라 제품의 가격 경쟁력은 일본보다 낮아졌다.
- ㄹ. 달러 표시 채무를 가지고 있는 우리나라 기업의 원리금 상환 부담은 감소하였다.

- ① ㄱ, ㄴ    ② ㄱ, ㄷ    ③ ㄴ, ㄷ    ④ ㄴ, ㄹ    ⑤ ㄷ, ㄹ

[18~19] 다음에 나타난 정부 역할의 변화 과정에 대한 자료를 보고 물음에 답하시오.



18. (가), (나), (다) 단계에 대한 설명으로 타당하지 않은 것은?

- ① (가) 시기에는 '보이지 않는 손'의 기능을 신봉하였다.
- ② (나) 시기에는 정부의 중립적 역할을 중시하였다.
- ③ (다) 시기에는 아담 스미스의 이론에 바탕을 둔 고전 경제학의 원리를 다시 강조하게 되었다.
- ④ 세계 대공황은 (가)에서 (나)로 전환하는 계기가 되었다.
- ⑤ (나)와 (다)의 시기는 혼합경제체제에 해당한다.

19. (A)는 (가)로 인해 나타난 문제이고, (B)는 (나)로 인해 나타난 문제이다. 그 사례를 바르게 짝지은 것은?

- | (A)       | (B)        |
|-----------|------------|
| ① 관료주의    | 공기업 민영화    |
| ② 독과점 폐해  | 정부의 지나친 간섭 |
| ③ 공공재 부족  | 외부효과       |
| ④ 소득 불균형  | 독과점 폐해     |
| ⑤ 공기업 민영화 | 관료주의       |

20. 다음은 두 나라 사이의 교역에 대한 자료이다. (가), (나)의 상황에 대한 설명으로 맞지 않는 것은? [3점]

다른 조건이 동일하다고 할 때, 프랑스산 밀 1kg의 생산 가격이 1달러인데 반해 영국산 밀 1kg의 생산 가격은 2달러이다.  
(가) 프랑스산 감자의 1kg당 생산 가격이 5달러인데, 영국산 감자의 생산 가격은 1kg당 1달러이다.  
(나) 프랑스산 감자의 1kg당 생산 가격이 10달러인데, 영국산 감자의 생산 가격은 1kg당 15달러이다.

- ① (가)의 경우, 영국은 감자 생산에 특화한다.
- ② (가)의 경우, 프랑스는 밀 생산에 특화한다.
- ③ (나)의 경우, 영국은 감자 생산에 절대 우위가 있다.
- ④ (나)의 경우, 프랑스는 밀 생산에 절대 우위와 비교 우위가 모두 있다.
- ⑤ 절대 우위론에 따르면, (가)의 경우에는 영국과 프랑스의 교역이 가능하지만 (나)의 경우에는 불가능하다.

\* 확인 사항  
○ 답안지의 해당란에 필요한 내용을 정확히 기입(표기)했는지 확인 하시오.