

운전면허 필기시험 예상문제

〈유형 1〉

1. 차량을 매매할 때는 5일 이내에 _____ 로 보고해야 한다.
- DMV(차량국).....
 - 보험회사.....
 - 자동차 클럽.....

2. 이 표지판이 뜻하는 것은?



- 다른 차량이 있을 때에 한해 정지한다.....
- 매회 정지한다.....
- 한계선 2피트 전에 정지한다.....

3. 다음 중 교통흐름의 개선을 위한 최선의 방법은?

- 속도제한을 높인다.....
- 대중교통을 이용한다.....
- 거리간격을 무시한다.....

4. 좌회전을 할 때는 항상 모터사이클이 있는지 잘 살펴보아야 한다. 왜냐하면:

- 모터 사이클은 교차로에서 우선권을 가진다.....
- 차체가 작기 때문에 잘 보기가 힘들다.....
- 모터 사이클이 주행차선을 다른 차량과 공유하는 것은 법규위반이다.....

5. 이때 모퉁이에 서 있는 보행자는 우선권을 가진다

- 거리에 횡단보도 표시가 되어 있는 경우에 한하여.....
- 신호 교차로에 한하여.....
- 횡단보도의 표시 유무에 상관없이.....

6. 다음 진술 중 대형트럭에 관한 옳은 설명은?

- 트럭은 승용차보다 근거리 능력이 떨어진다.....
- 트럭은 정지 및 출발시 더 많은 공간이 필요하지 않다.....
- 트럭은 회전시 더 많은 공간이 필요하지 않다.....

7. 빨간불일 때, 경관이 통과하라고 지시한다. 어떻게 해야 하나?

- 차선을 변경하고 저속으로 운전한다.....
- 경관이 지시하는 대로 따른다.....
- 파란불이 켜지기를 기다린다.....

8. 안개속에서의 운전에 대한 최상의 조언은 “하지 말라”이다. 그러나 불가피하게 안개속에서 운전을 해야 한다면:

- 주치등만 켜다.....
- 규칙적으로 비상등을 사용한다.....
- 헤드라이트를 켜다.....

9. 앞차의 바로 뒤에서 정지하게 되었다. 이유는?

- 너무 가까이 따라간 것이다.....
- 차선을 너무 이리저리 바꾸어 달렸다.....
- 너무 자주 백미러를 들여다 보았다.....

10. 이 표지판이 의미하는 것은?



- 오른쪽 차선 끝남.....
- 전방에 휴게소 있음.....
- 전방에 제한구역 있음.....

11. 운전 안내서는 프리웨이에서 차선을 변경하기 전에 최소한 _____ 초간 깜빡이를 켤 것을 권장하고 있다

- 3.....
- 5.....
- 7.....

12. 이곳에서는 절대로 주차해서는 안된다:

- 가위표가 표시된 공간.....
- 철도 레일로부터 20피트 지점.....
- 자전거 전용차선.....

13. 다음 중 무엇이 이중주차에 대한 올바른 설명인가?

- 어떠한 상황에서도 법규 위반이다.....
- 운반을 목적으로 할 때 허락된다.....
- 차안에 머물러 있는 경우에 한해 적법이다.....

14. 보도 경계선에 평행주차를 했다. 바뀌는 그 보도 경계선과 몇 인치 이내에 있어야 하는가?

- 12.....
- 16.....
- 18.....

15. 다음 환경에서는 픽업 트럭의 뒤에 사람이 탈 수 있다:

- 트럭의 뒤에 고정장치(안전벨트)가 설치되어 있을 때.....

- 트럭 뒤의 측면이 최소 24인치 높이가 될 때
- 트럭 뒤의 틀에 고정된 좌석이 있을 때

- 개인차도로 진입할 수 있다
- 다른 차량을 추월 및 통과할 수 있다

16. 전방에 사고가 난 것을 처음 발견하고 도움을 주려고 한다. 차를 어디에 멈추어야 하는가?

- 사고 현장을 지나서
- 사고 현장에 닿기 전에
- 후방의 교통흐름을 느리게 하는 방편으로 그 차선의 끝에 가깝게

25. 타 차량의 주행속도보다 느리게 운전해도 되는가?

- 안된다. 너무 느리게 운전하면 교통흐름을 방해할 수 있다
- 된다. 너무 빠르게 운전하는 것보다 안전하다
- 된다. 타 차량의 주행속도 또한 줄일 수 있다

17. 초록색으로 칠해진 보도 경계선이 뜻하는 것은?

- 제한시간 내에 정지 또는 주차 가능
- 승객의 짐을 싣거나 부리는 공간
- 비상차량만을 위한 주차 공간

26. 두 방향 도로의 모퉁이에서 좌회전을 하고자 할 때 우선권은 누구에게 있는가?

- 내 쪽으로 오고 있는 차량에 있다
- 횡단보도에서 "걷기" ("WALK") 신호등을 기다리고 있는 보행자에게 있다
- 빨간불에 정지해 있는 차량에 있다

18. 21세 이상의 운전자에게 적용되는 법적 최대 혈중 알콜농도치(BAC)는 다음과 같다

- 1 퍼센트의 10분의 1 (0.10)
- 1 퍼센트의 100분의 8 (0.08)
- 1 퍼센트의 100분의 5 (0.05)

27. 이 표지판이 의미하는 것은:



- 일방통행 도로-오른쪽 방향
- 전방에 우차선 끝남
- 모퉁이에서 우회전 할 것

19. 보도 경계선이 없는 오르막길에 주차를 하려고 할 때 앞바퀴는 어느쪽으로 향해야 하는가?

- 도로쪽을 향하여
- 도로에 평행하게
- 도로에 떨어져

28. 안전지대란 무엇인가?

- 보행자를 위해 남겨놓은 공간
- 프리웨이 분리대 옆의 빈 공간
- 프리웨이의 중앙 분리대

20. 우회전을 할 경우, 오른쪽 차선에서 시작하여 다음 차선에서 끝나야 한다:

- 보도 경계선에서 가장 가까운 차선
- 어떤 차선이라도 가능하다
- 왼쪽 차선

29. 조건부 운전면허증은:

- 운전이 따라야 하는 특별계약 사항을 가진다
- 면허갱신에 대한 특별기간 제한이 있다
- 운전 면허증상에 연령제한을 가진다

21. 다른 차를 추월하기 위해서 노란색 연속 이중선을 가로지를 수 있는 것은 언제인가?

- 느린 속도의 차량이 분기점차선의 이용을 원하지 않을 때
- 어떤 상황에서도 허락되지 않는다
- 내 차쪽으로 달려오는 차가 없을 때

30. 교차로에 접근하고 있을 때, 빨간 신호등이 켜져 있다. 어떻게 해야 하는가?

- 지나가기 전에 일단 멈춘다. 그런 후 안전할 때 재출발한다
- 지나가기 전에 파란불이 켜지길 기다린다
- 속도를 줄여서 횡단차량이 먼저 지나가도록 한다

22. 왼쪽에 있는 운전자와 동시에 교차로에 도착했다. 누가 우선인가?

- 내가 먼저 간다
- 왼쪽에 운전자가 먼저 간다
- 회전 깜빡이를 켜 사람이 먼저 간다

31. 이때 교차로를 들어서는 것은 위법이다:

- 노란불일때
- 신호등이 빨간불로 바뀌기 전에 완전히 교차로를 벗어나지 못했을 때
- 노란불 깜빡일 때 일단 정지하지 않았을 경우

23. 다른 사항이 표기되어 있지 않은 한, 어린이가 다니는 통학구역(School Zone)에서의 제한 속도는?

- 시속 15마일
- 시속 20마일
- 시속 25마일

32. 이 표지판이 의미하는 것은:



- 전방도로가 사방으로 폐쇄된다
- 전방도로가 내 차선쪽으로 폐쇄된다
- 멈춘다. 그런 후 안전할 때 재출발한다

24. 노란색 연속 이중선은 다음을 의미한다:

- 이유여하를 막론하고 그 선을 넘어서는 안된다

33. 다음 진술 중 미끄러운 도로 표면에 대한 올바른 설명은?

- 쫓고 비오는 날, 건물 혹은 나무 그림자는 빙판을 가릴 수 있다
- 다리위 고가도로는 마지막으로 빙결된다
- 비포장 도로는 더운날 비가 오기 시작하고 몇 분간은 미끄럽지 않다

34. 한계선이 없을 때 어디에 차를 세워야 하는가?

- 횡단보도를 지나서
- 횡단차량을 볼 수 있을만큼 충분히 멀리
- 횡단보도

35. 차선을 변경하기 전에 해야 할 일은?

- 다른 차량에게 신호를 보내기 위하여 가법게 브레이크를 밟는다
- 어깨너머를 바라본다
- 우선권을 갖기 위해 신호를 보낸다

36. 이 표지판이 의미하는 것은?



- 파란불일 때 좌회전 혹은 우회전을 할 수 있다
- 파란불이 켜지길 기다려야 한다
- 안전할 때 파란불에서 좌회전 할 수 있다

<유형 2>

1. 이 표지판이 의미하는 것은?



- 다른 차량보다 저속으로 운전하고 있을 경우 오른 쪽 차선을 지켜야 한다
- 항상 오른쪽차선에서 주행해야 한다
- 더 느린 속도로 주행하는 차가 우선권을 가진다

2. 다른 지시사항이 없는 한 상업지구에서의 제한속도는 _____ 이다

- 시속 20마일
- 시속 25마일
- 시속 30마일

3. 추월을 하기 위해서 도로를 떠날 수 있는 것은 언제인가?

- 내쪽 방향으로 주행하고 있는 차선이 2차선 이상인 경우
- 앞차가 좌회전을 할 경우
- 어떤 상황에서도 안된다

4. 회전을 하기 전 마지막 _____ 피트까지는 회전을 한다는 신호를 주어야 한다

- 50
- 75
- 100

5. 고속도로는 이때 가장 미끄럽다

- 폭우가 쏟아질 때
- 보슬비가 내릴 때
- 건조한 후 비가 내리기 시작할 때

6. 이것은 방어운전을 하고 있음을 의미한다

- 앞차만을 볼 때
- 앞차와 내차 사이에 간격을 둘 때
- 눈을 계속 움직이면서 사고에 대해 조심할 때

7. 교통사고에 관련되어 사망자가 발생했다. 어떻게 해야 하는가?

- 진술 보고서(SR 1)을 작성하여 CHP에 제출한다
- 경관에게 보험 증명서를 제시한다
- DMV(차량국)에 진술 보고서(SR 1)을 제출한다

8. 차량을 매매할 때는 5일 이내에 _____ 로 보고 해야 한다

- DMV(차량국)
- 보험회사
- 자동차 클럽

9. 21세 이상의 운전자에게 적용되는 법적 최대 혈중 알콜농도(BAC)는 다음과 같다

- 1 퍼센트의 10분의 1 (0,10)
- 1 퍼센트의 100분의 8 (0,08)
- 1 퍼센트의 100분의 5 (0,05)

10. 운전을 하다가 모퉁이에서 노란색 깜빡이 신호등을 만났다면 어떻게 해야 하나?

- 교차로 앞에서 멈춘다
- 지나가기 전에 파란불이 켜지길 기다린다
- 속도를 줄이고 조심해서 지나간다

11. 멈춤 표지판이 있는 교차로에서 우선 멈추어야 할 곳은?

- 횡단보도를 지나서
- 횡단차량이 보일 만큼 충분히 떨어진 곳
- 횡단보도

12. 내쪽 차선이 이런 경우에는 다른 차량을 추월하기 위하여 도로의 이중선을 지나갈 수 있다:

- 차선이 끊긴 경우
- 노란 연속선
- 노란 연속 이중선

13. 우회전을 하기 위해 자전거 전용 차선으로 들어갈 수 있는 것은 언제인가?

- 회전하기 전 200피트 이내 지점
- 어떠한 상황에서도 안된다
- 회전하기 전 100피트 이내 지점

14. 주차등만을 이용해서 운전할 수 있는 것은?

- 안개낀 날
- 일출 30분 전 혹은 일몰 30분 후
- 어떠한 상황에서도 안된다

15. 여기서 주차는 절대 금물이다

- 언덕
- 신체 부자유자 전용 주차공간 옆의 가위표가 표시된 공간
- 철도 레일로부터 20피트 지점

16. 자전거를 탈 때는:

- 미주 오는 차량쪽으로 달린다
- 주행 차량과 같은 방향으로 달린다
- 자전거 전용차선이 없는 경우 인도로 달린다

17. 전방에 철도 레일이 있어서 기차가 오고 있다는 빨간색 경고등이 깜빡거린다. 어떻게 해야 하는가?

- 멈춘다. 그런 후 안전할 때 재출발한다
- 레일 앞에서 속도를 줄인다
- 기차가 오는 것이 보이는 경우 인도로 달린다

18. 차안에 열린 상태의 알콜병을 소지한 채로 운전하는 것은 위법인가?

- 아니다. 예외가 없다
- 병이 트렁크에 들어 있을 경우, 그렇다
- 병이 뒷좌석에 있을 경우, 그렇다

19. "묵시적 동의법"이란 다음 상황에서 혈중 알콜 농도검사에 동의를 한다는 말이다

- 캘리포니아 주 내에서 운전을 할 경우
- 변호사의 충고에 의해
- 사고가 일어난 경우에 한해

20. 모퉁이를 횡단하고 있는 보행자는 이 때 우선권을 가지고 있다

- 횡단보도가 표시되어 있을 때
- 신호 교차로에서만
- 횡단보다 표시 유무에 상관없이

21. 다음의 진술 중 대형트럭에 대한 올바른 설명은?

- 트럭은 승용차보다 근거리 조정 능력이 떨어진다
- 트럭은 정지 및 출발시 더 많은 공간을 필요로 하지 않는다
- 트럭은 회전시 더 많은 공간을 필요로 하지 않는다

22. 다른 차량을 추월하기 위하여 내 차선을 떠난 후 언제 본래의 차선으로 돌아갈 수 있는 여유가 충분히 있다는 것을 알 수 있는가?

- 다른 차량의 앞 범퍼를 통과했을 때
- 백미러를 통해서 그 차량의 앞머리를 볼 수 있을 때
- 그 차량을 2초 정도 앞서 있을 때

23. 주위에서 다른 차량이 보이지 않을 때, 왜 신호등을 켜야 하는가?

- 미처 보지 못한 차량이 들이받을 수도 있기 때문이다
- 아무도 도로에 없다면 신호등을 켤 필요없다
- 항상 다른 차량을 보기 힘든 경우

24. 언제 헤드라이트를 켜야 하는가?

- 항상 최소 전방 1마일 앞을 볼 수 없을 경우
- 일몰 1시간 후
- 항상 다른 차량을 보기 힘든 경우

25. 고속도로에서 타이어가 펑크가 나서 차를 멈추고 도움을 구해야 한다. 어디에 차를 멈추어야 하는가?

- 오른쪽 차선
- 비포장 도로
- 전방으로부터 200피트 정도 내차가 보이는 곳이면 어디든지 괜찮다

26. 보도 경계선이 없는 내리막 길에서 주차를 할 경우, 앞바퀴는 어느 쪽으로 돌려야 하는가?

- 도로쪽을 향하여
- 도로에 평행하게
- 도로로부터 떨어져서

27. 노란색 보도 경계선이 의미하는 것은?

- 사람이나 물건을 실거나 내릴 때
- 제한 주차, 버스 주차 가능
- 상업용 차량에 한해

28. 다음 중 합법적 U자형 회전은 어느 것인가?

- 회전을 위한 개방된 공간이 있는 고속도로에서
- 도로 커브길의 150피트 전에서
- 소방서 앞

29. 두방향 도로에서 좌회전을 할때, 시작은?

- 왼쪽 차선에서 한다
- 내 쪽의 비어있는 차선에서 한다
- 오른쪽 차선에서 한다

30. 좁은 2차선 도로에서 5대 이상의 차량이 따라오고 있을 때 어떻게 해야 하는가?

- 추월하려고 할 때 속력을 낸다
- 무시하고 계속 운전한다
- 안전할 때 차를 길가에 세우고 다른 차들이 지나가게 한다

31. 언제 합법적으로 우선권을 가지지 못하는가?

- 사고방지를 위한 목적일 때
- 다른 차량이 더 빠른 속도로 달리고자 할 때
- 절대로 그런 경우가 없다. 다른 운전자를 혼돈시킬뿐이다

32. 이 표지판이 뜻하는 것은?

TWO WAY TRAFFIC AHEAD


- 전방에 양방향으로 차량이 주행하고 있다
- 나와 동일 방향에 2개의 주행차선이 있다
- 2마일 전방에서 고속도로가 갈라진다

33. 이 표지판의 의미는?

REST AREA 1MILE

- 오른쪽 차선이 끝남
- 전방에 휴게소 있음
- 전방에 제한구역 있음

34. 이 표지판의 의미는?



- 차선이 병합된다
- 전방에 셋길이 있다
- 나에게 우선권이 있다

35. 교통혼잡시간대에 교차로를 가로막는 것은?

- 우선권이 있는 경우에 한해 허락된다
- 횡단차량이 내 차를 돌아갈 수 있는 경우에 한해 허락된다
- 어떤 상황에서도 허락되지 않는다

<유형 3>

- 1 퍼센트의 100분의 8 (0,08)
- 1 퍼센트의 100분의 5 (0,05)

1. 이 표지판의 의미는?



- U자형 회전을 할 수 없다
- 좌회전을 할 수 없다
- 셋길로 진입할 수 없다

2. 파란색 보도 경계선은?

- 플래카드를 소지한 신체 부자유자를 위한 주차공간이다
- 승객이 짐을 부리거나 적재하는 목적으로만 사용된다
- 제한 시간동안 주차할 수 있는 공간이다

3. 언제 차간 거리를 넓혀야 되는가?

- 표시된 제한속도보다 느린 속도로 주행할 경우
- 소형 승용차를 따라갈 경우
- 뒤꿈무늬를 바싹 따라오는 차량이 있을 경우

4. 다음 진술 중 도로 인부에 대한 옳은 설명이 아닌 것은?

- 도로공사 장비는 주황색으로 칠해져 있다
- 흰색 표지판은 폐쇄된 차선 및 전방 도로공사를 가리킨다
- 공사 중의 몇몇 법규위반에 대한 벌금은 두배로 늘어난다

5. 차량을 매매할 때는 5일 이내에 _____ 로 보고해야 한다.

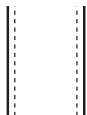
- DMV(차량국)
- 보험회사
- 자동차 클럽

6. 이 도로표지판이 뜻하는 것은?



- 전방 도로 교통이 사방으로 폐쇄된다
- 내 방향에서 도로로 진입할 수 없다
- 안전할 때만 진입한다

7. 이 차선은 언제 사용되는가?



- 교통흐름이 허락할 때 좌회전을 하기 위해
- 교통흐름이 허락할 때 다른 차량을 추월하기 위해
- 교통흐름이 허락할 때 우회전을 하기 위해

8. 주차등만을 사용해 운전할 수 있는 때는?

- 안개낀 날
- 일출 30분전 혹은 일몰 30분 후
- 어떠한 상황에서든 허락되지 않는다

9. 전방에 철도 레일이 있어서 기차가 오고 있다는 빨간색 경고 등이 깜빡거린다. 어떻게 해야 하는가?

- 멈춘다. 그런 후 안전할 때 재출발 한다
- 레일 앞에서 속도를 줄인다
- 기차가 오는 것이 보일 경우에 한해 움직인다

10. 21세 이상의 운전자에게 적용되는 법적 최대 혈중 알콜농도치(BAC)는 다음과 같다

- 1 퍼센트의 10분의 1 (0,10)

11. 경계선이 없을 경우 정지해야 하는 지점은?

- 횡단보도를 지나서
- 횡단차량을 볼 수 있을 만큼 충분히 떨어진 곳
- 횡단보도

12. 도로 경계선이 없는 내리막길에서 주차할 경우 앞바퀴를 어느 쪽으로 돌려야 하는가?

- 도로쪽을 향하여
- 도로에 평행하게
- 도로로부터 떨어져서

13. 앞차의 바로 뒤에서 멈추게 되었다면?

- 너무 가깝게 따라간 것이다
- 차선을 자주 이리저리 바꾸며 달렸다
- 백밀리를 너무 자주 들여다 본 것이다

14. 기본 속도범이란 무엇인가?

- 현 교통흐름을 위해서 안전한 상태 이상으로 속력을 내지 말라
- 표시된 제한속도 이상으로 속력을 내지 말라
- 교통흐름을 따라가라

15. "묵시적 동의법"이란 다음의 사항에 동의를 한다는 뜻이다

- 혈중 알콜농도 검사를 받을 수 있다는 것
- 알콜검사를 위해 차내를 수색받을 수 있다는 것
- 도로변에서 음주 운전검사를 받을 수 있다는 것

16. 이 때 교차로로 진입하는 것은 위법이다.

- 신호등이 노란불일 때
- 신호등이 빨간불로 바뀌기 전에 완전히 교차로를 벗어나지 못했다면
- 노란불이 깜빡일때 일단 정지하지 않았을 경우

17. 다음 중 어느 것이 합법적 U자형 회전인가?

- 회전을 위한 개방 공간이 있는 고속도로상에서
- 도로 위의 모퉁이 앞 150피트 지점까지
- 소방서 앞에서

18. 안전벨트는 이 경우에 무용하다.

- 느린 속도로 주행할 경우
- 시속 40마일 이상으로 주행할 경우
- 안전벨트는 항상 유용하다

19. 교통사고에 관련되어 사망자가 발생했다. 어떻게 해야 하는가?

- 진술보고서(SR 1)를 작성하여 CHP에만 제출한다
- 경관에게 보험 증명서를 제시한다
- DMV(차량국)에 진술 보고서(SR 1)를 제출한다

20. 음주 운전으로 유죄판결을 받아서 48시간동안의 구류를 선

고받았다. 추가적으로 치루어야 되는 대가는?

- 벌금을 내야 한다.
- 최고 18개월 동안 면허가 취소될 수 있다.
- 60일 동안 차량 압류를 당할 수 있다.

21. 조건부 운전면허증은:

- 운전시 따라야 하는 특별제약사항을 가진다.
- 면허갱신에 대한 특별 기간이 있다.
- 운전 면허증상에 연령제한을 가진다.

22. 내 쪽 차선이 어떠한 상태에 있을 때 다른 차량을 추월하기 위해 도로의 이중선을 가로지를 수 있는가?

- 끊어져 있는 경우.
- 노란색의 연속 차선.
- 노란색의 연속 이중 차선.

23. 뒤에서 공무니를 바짝 따라오는 차가 있다면:

- 브레이크 등을 킂다.
- 차간 거리를 넓힌다.
- 안전하게 뒤차가 추월할 수 있을 때 신호를 준다.

24. 모터사이클이 이용하는 동일 차선에 있는 자전거를 주시해야 한다. 왜냐하면:

- 자전거는 마주 다가오는 교통에 합류되어야 하기 때문이다.
- 다른 운전자들과 도로를 함께 공유할 자격이 있기 때문이다.
- 우선권이 있기 때문이다.

25. 교차로에 접근했을 때 신호등이 고장난 사실을 알게 되었다. 어떻게 해야 하나?

- 멈춘다. 그런 후 안전할 때 재출발한다.
- 속도를 줄이고 필요시 멈춘다.
- 다른 차량이 있을 경우에 한해 멈춘다.

26. 눈먼 교차로 지점에서의 제한 속도는 얼마인가?

- 시속 10마일.
- 시속 15마일.
- 시속 20마일.

27. 교차로에 접근하고 있다. 교통 지침 안내서의 권장 사항은?

- 출발전 왼쪽, 오른쪽, 다시 왼쪽을 본다.
- 출발전 왼쪽, 오른쪽, 다시 오른쪽을 본다.
- 출발전 똑바로 앞을 그리고 왼쪽을 본다.

28. 정지해 있는 스쿨 버스(학교버스)의 깜빡이는 빨간색 신호등은 무엇을 뜻하는가?

- 일단 정지 후 안전할 때 재출발하라.
- 버스를 따라가고 있다면 정지, 그 버스의 반대쪽 거리에 있다면 계속 진행하라.
- 빨간색 신호등이 켜져 있는 한 정지하라.

29. 왼쪽에 있는 운전자와 동시에 교차로에 도착했다. 누가 우선인가?

- 내가 먼저 간다.

왼쪽에 있는 운전자가 먼저 간다.

회전 신호등을 깜빡이고 있는 운전자가 먼저 간다.

30. 이 표지판의 의미는?



횡단도로 있음.

병합되는 차선 있음.

오른쪽 전방에 셋길 있음.

31. 고속도로에서 타이어가 펑크가 나서 차를 멈추고 도움을 구해야 한다. 어디에 차를 멈추어야 하는가?

오른쪽 차선.

보도.

전방으로부터 200피트 정도 내차가 보이는 장소면 어디든지 괜찮다.

32. 다른 차량을 추월하기 위해 내 차선을 떠난 후 언제 본래의 차선으로 돌아갈 수 있는 충분한 여유가 있다는 것을 알 수 있는가?

다른 차량의 앞 범퍼를 통과했을 때.

백밀러를 통해서 그 차량의 앞머리를 볼 수 있을 때.

그 차량을 2초 정도 앞서 있을 때.

33. 합법적 우선권이 적용되지 않는 때는 언제인가?

사고방지를 위한 목적일 때.

다른 운전자가 더 빠른 속력으로 주행하고자 할 때.

예외가 없다. 다른 운전자를 혼동시킬 뿐이다.

34. 노란색 차선은:

모든 카풀차선을 일반 차선으로부터 분리시킨다.

일방통행 거리에서 차선을 분리시킨다.

반대방향으로 진행하는 차선을 분리시킨다.

35. 이 곳에서는 절대로 주차해서는 안된다

가위표가 표시된 장소.

철도 트랙에서 20피트 지점.

모터사이클 전용차선.

36. 다음 진술 중 대형트럭에 대한 올바른 사항은?

트럭은 승용차보다 근거리 조정능력이 떨어진다.

트럭은 정지 및 출발하는데 있어 더 많은 공간을 필요로 하지 않는다.

다.

트럭은 회전할 때 더 많은 공간을 필요로 하지 않는다.

<유형 4>

1. 안전지대(SAFETY ZONE)란 무엇인가?

보행자를 위해 남겨놓은 공간.

프리웨이 분리대 옆의 빈 공간.

프리웨이의 중앙분리대.

2. 다른 지시사항이 없는 한 주거 지역에서의 속도 제한은?

시속 35마일.

시속 30마일.

시속 25마일.....

트럭은 회전시 더 많은 공간을 필요로 하지 않는다.....

3. 후방의 차량을 주시하는 것은:

- 속도를 줄이고자 할 때 좋다.....
- 뒤를 바짝 따라오는 차가 있는지를 알려준다.....
- 비람직하지 못하다. 전방의 주행차량에 주의를 집중해야 한다.....

12. 다음 중 뒤에 있는 차량과의 충돌 사고를 방지하기 위한 방법은?

- 항상 주차등을 켜다.....
- 회전 100피트 전에 깜빡이 켜다.....
- 회전 200피트 전에 비상등을 사용한다.....

4. 이 표지판의 의미는?



- 전방도로나가 사방으로 폐쇄된다.....
- 내 방향으로부터 도로 진입이 불가능하다.....
- 안전하지 않을 경우 진입하지 말라.....

13. 픽업 트럭의 뒤에 사람을 태울 수 있는 것은 언제인가?

- 픽업 트럭 뒤에 고정 장치(안전벨트)가 설치되어 있을 때.....
- 트럭 뒤 측면이 최소 24인치 높이네 있을 때.....
- 트럭 뒤 틀에 고정된 좌석이 있을 때.....

5. 고속도로에서 타이어가 펑크가 나서 차를 멈추고 도움을 구해야 한다. 어디에 차를 멈추어야 하는가?

- 오른쪽 차선.....
- 비포장 도로.....
- 전방으로부터 200피트 정도 내차가 보이는 곳이면 어디든지 괜찮다.....

14. 빨간색 보도 경계선이 뜻하는 것은?

- 정지 및 주차가 허용되지 않는다(버스제외).....
- 주차는 비상 차량에 한한다.....
- 주차는 신체부자유자에 한한다.....

6. 차량을 매대할 때는 5일 이내에 _____ 로 보고해야 한다.

- DMV(차량국).....
- 보험회사.....
- 자동차 클럽.....

15. 한 일방통행 도로에서 다른 한 일방통행 도로로 좌회전을 할 경우 사용되는 차선은?

- 안전하다면 어느 차선이든 무관하다.....
- 왼쪽 보도 경계선에 가장 가까운 차선.....
- 중앙 좌회전 차선.....

7. 다음의 진술 중 약물 복용 운전에 관한 바른 설명은?

- 감기 혹은 두통으로 인한 약물복용은 졸음을 유발한다.....
- 약물 및 알콜은 동시에 복용해도 된다.....
- 보행자 약물 복용은 항상 안전하다.....

16. 우회전시 자전거 전용차선으로 들어갈 수 있을 때는 언제인가?

- 회전하기 전 200피트 이내 지점.....
- 어떤 상황에서도 안된다.....
- 회전하기 전 100피트 이내 지점.....

8. 철도 건널목에 접근하고 있을 때 빨간불이 켜져 있다. 어떻게 해야 하는가?

- 멈춘다. 그런 후 안전할 때 재출발한다.....
- 건널목 앞에서 속도를 줄인다.....
- 기차가 오는 것이 보일 경우에 한해 멈춘다.....

17. 빨간 신호등에서 보행자와 다른 주행 차량을 확인한 후 우회전을 할 수 있는 때는 언제인가?

- 정지 후 회전금지 표지가 없을 때.....
- OK 표지판이 있는 경우에 한하여.....
- 우선 속도를 줄이는 한 항상 가능하다.....

9. 21세 이상의 운전자에게 적용되는 법적 최대 혈중 알콜농도치(BAC)는 다음과 같다

- 1 퍼센트의 10분의 1 (0.10).....
- 1 퍼센트의 100분의 8 (0.08).....
- 1 퍼센트의 100분의 5 (0.05).....

18. 좁은 2차선 도로에서 5대 이상의 차량이 따라오고 있을 때, 어떻게 해야 하는가?

- 추월하려고 할 때 더욱 속력을 낸다.....
- 무시하고 계속 운전한다.....
- 안전할 때 차를 길가에 세우고 다른 차들을 지나가게 한다.....

10. 교통 사고에 관련되어 \$5000이상의 손해가 발생했다. 어떻게 해야 하는가?

- 상해자 혹은 사망자가 발생한 경우 진술 보고서(SR 1)를 작성하여 CHP에 제출해야 한다.....
- 경관에게 운전 보험증명서를 제시한다.....
- DMV(차량국)에 진술 보고서(SR 1)를 제출한다.....

19. 왼쪽에 있는 차량과 동시에 교차로에 도착했다. 누가 먼저 가는가?

- 내가 먼저 간다.....
- 왼쪽에 있는 차량이 먼저 간다.....
- 회전 신호등을 켜고 있는 사람이 먼저 간다.....

11. 다음 진술 중 대형 트럭에 관한 올바른 설명은? 대형트럭은 승용차 보다:

- 근거리 조정 능력이 떨어진다.....
- 트럭은 정지 및 출발시 더 많은 공간을 필요로 하지 않는다.....

20. 이 때 교차로를 막는 것은 법규 위반이다

- 우선권이 없을 때.....
- 회단 차량이 나를 돌아갈 수 없을 때.....
- 어떤 상황에서도 안된다.....

21. 모퉁이를 달았을 때 노란 깜빡이 신호등이 켜져 있다. 어떻게 해야 하는가?

- 횡단하기 전에 멈춘다.....
- 지나가기 전에 파란불이 켜지길 기다린다.....
- 속도를 줄이고 조심해서 지나간다.....

22. 조건부 운전 면허증은:

- 운전시 따라야 하는 특별 제약 사항을 가진다.....
- 면허 갱신에 대한 특별 기간 제한이 있다.....
- 운전 면허증상에 연령 제한을 가진다.....

23. 이 표지판의 의미는



- 다른 차량이 있을 때에 한해 멈춘다.....
- 매번 멈춘다.....
- 제한선 2피트 전에 멈춘다.....

24. 회전하기 전 마지막 _____ 피트까지 깜빡이를 켜다

- 50.....
- 75.....
- 100.....

25. 다음의 장소에서는 절대로 주차를 할 수 없다

- 가위표가 표시된 공간.....
- 철도 레일로부터 20피트 지점.....
- 자전거 전용도로.....

26. 주차된 차를 들이 받았으나 주인을 찾을 수 없다. 어떻게 해야 하는가?

- 그 차에 메모를 남긴다.....
- 귀가하여 보험회사에 전화를 한다.....
- 차 주인이 돌아오기를 기다린다.....

27. 횡단보도가 없는 교차로에서 우선권은 누구에게 있는가?

- 차량, 그러나 속도를 줄여야 한다.....
- 보행자, 그러나 횡단보도가 표시되어 있는 때에 한한다.....
- 항상 보행자에게 있다.....

28. 다음의 진술 중 눈먼 지점에 대한 바른 설명은?

- 차선 변경을 할 때에만 고개를 돌려서 오른쪽 어깨너머를 살피면 된다.....
- 차체에 양면 미러가 달린 차량은 눈먼 지점이 없다.....
- 우회전을 할 때는 오른쪽 어깨너머를, 좌회전할 때는 왼쪽 어깨너머를 살핀다.....

29. 보도 경계가 없는 내리막 길에서 주차를 할 때 바퀴는 어느 쪽을 향하는가?

- 도로 쪽을 향하여.....
- 도로에 평행하게.....
- 도로에서 떨어지게.....

30. 두 방향 도로의 모퉁이에서 좌회전을 하고자 할 때 우선권은 누구에게 있는가?

- 내 쪽으로 오고 있는 차량에 있다.....

횡단보도에서 "걷기"("WALK") 신호등을 기다리고 있는 보행자에게 있다.....

빨간불에 정지해 있는 차량에 있다.....

31. 다른 차량을 추월하기 위해 노란색 연속 이중선을 지나갈 수 있는 것은 언제인가?

- 느린 속도의 차량이 분기점 차선의 이용을 원하지 않을 때.....
- 어떤 상황에서도 허락되지 않는다.....
- 내 쪽으로 달려오는 차가 없을 때.....

32. 다음 진술 중 경편 철도 차량(Light Rail Vehicles)에 대한 바른 설명은?

- 경편 철도 차량은 공공 도로상에서의 차량과 동일한 책임을 가지지 않는다.....
- 경편 철도 차량은 교통신호에 대한 선취권을 가진다.....
- 항상 오른쪽에서 경편 철도 차량을 추월해야 한다.....

33. 이 표지판의 의미는?



- 병합되는 차선 있음.....
- 전방에 셋길 있음.....
- 내가 우선권을 가짐.....

34. 이 표지판이 뜻하는 것은?



- 다른 차량보다 저속으로 주행하고 있는 경우 오른쪽 차선을 지킨다.....
- 항상 오른쪽 차선을 사용한다.....
- 더 느린 속도로 주행하는 차량이 우선권을 가진다.....

<유형 1 정답>

- 1, ① 2, ② 3, ② 4, ② 5, ③ 6, ① 7, ② 8, ③ 9, ① 10, ② 11, ② 12, ① 13, ① 14, ③ 15, ① 16, ① 17, ① 18, ② 19, ① 20, ① 21, ② 22, ① 23, ③ 24, ② 25, ① 26, ① 27, ① 28, ① 29, ① 30, ① 31, ② 32, ② 33, ① 34, ③ 35, ② 36, ③

<유형 2 정답>

- 1, ① 2, ② 3, ③ 4, ③ 5, ③ 6, ③ 7, ③ 8, ① 9, ② 10, ③ 11, ③ 12, ① 13, ① 14, ③ 15, ② 16, ② 17, ① 18, ③ 19, ① 20, ③ 21, ① 22, ② 23, ① 24, ③ 25, ② 26, ① 27, ① 28, ① 29, ① 30, ③ 31, ① 32, ① 33, ② 34, ① 35, ③

<유형 3 정답>

- 1, ① 2, ① 3, ③ 4, ② 5, ① 6, ② 7, ① 8, ③ 9, ① 10, ② 11, ③ 12, ① 13, ① 14, ① 15, ① 16, ② 17, ① 18, ③ 19, ② 20, ① 21, ① 22, ① 23, ② 24, ② 25, ① 26, ② 27, ① 28, ③ 29, ① 30, ① 31, ② 32, ② 33, ① 34, ③ 35, ① 36, ①

<유형 4 정답>

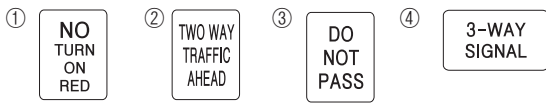
- 1, ① 2, ③ 3, ② 4, ② 5, ② 6, ① 7, ① 8, ① 9, ② 10, ③ 11, ① 12, ② 13, ① 14, ① 15, ② 16, ① 17, ① 18, ③ 19, ① 20, ③ 21, ③ 22, ① 23, ② 24, ③ 25, ① 26, ① 27, ③ 28, ③ 29, ① 30, ① 31, ② 32, ② 33, ① 34, ①

도로표지판 예상문제

1. 이 표시판은, 앞으로 철도 건널목이 나올 것이라는 것을 알려준다




2. 이 표시판은, 빨간 신호등이 켜져있는 동안에는 모든 회전을 금지한다는 뜻이다



3. 이 표시판은, 길을 건너는 학생들을 주의하라고 경고해 주는 것이다



4. 이 표시판은, 반드시 돌아서(우회)가야 한다는 뜻이다



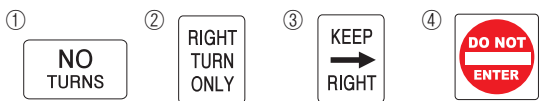
5. 이 표시판은, 만약 당신이 오른쪽차선에 있으면 반드시 고속도로에서 나가야 한다는 뜻이다



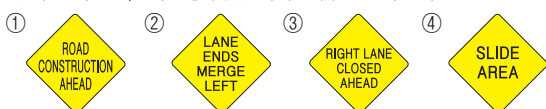
6. 이 표시판은, 앞으로 좌회전 하는 곳이 나온다는 것을 알려준다



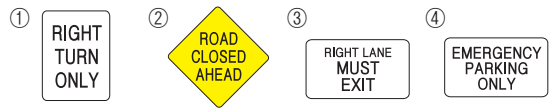
7. 이 표시판은, 우회전이나 혹은 좌회전을 하지 말도록 경고하는 것이다.



8. 이 표시판은, "비포장 길"이라는 것을 알려준다



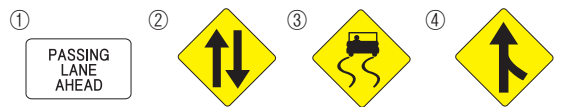
9. 이 표시판은, 앞으로 나오는 도로가 막혔다(통행금지)는 뜻이다



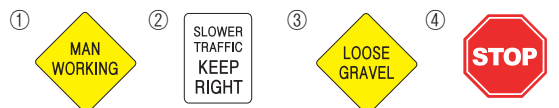
10. 이 표시판은, "도로가 젖어있을 때는 미끄럽다"는 것을 알려준다



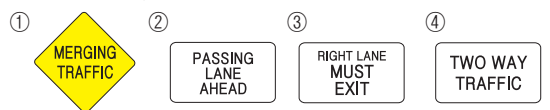
11. 이 표시판은, 도로의 우측으로 부터 들어오는 차가 있다는 것을 경고하는 것이다



12. 이 표시판은, 인부가 도로공사중임을 알려준다




13. 이 표시판은, 전방에 추월차선이 있음을 알려준다



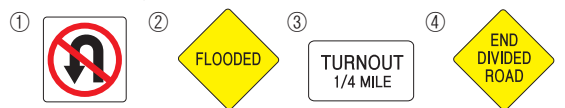
14. 이 표시판은, "산사태 지역"임을 알려준다



15. 이 표시판은, 전방에 가로질러 가는 차가 있음을 알려준다



16. 이 표시판은, "홍수지역"을 알려준다



〈정답〉 1. ① 2. ① 3. ② 4. ③ 5. ② 6. ① 7. ① 8. ② 9. ②
10. ③ 11. ④ 12. ① 13. ② 14. ② 15. ④ 16. ②