

2006학년도 3월 고3 전국연합학력평가 문제지

제 4 교시 사회 탐구 영역(세계사)

성명

수험번호 3

1

- 먼저 수험생이 선택한 과목의 문제지인지 확인하십시오.
- 문제지에 성명과 수험 번호를 정확히 기입하십시오.
- 답안지에 수험 번호, 선택 과목, 답을 표기할 때는 반드시 ‘수험생이 지켜야 할 일’에 따라 표기하십시오.
- 문항에 따라 배점이 다르니, 각 물음의 끝에 표시된 배점을 참고하십시오. 3점 문항에만 점수가 표시되어 있습니다. 점수 표시가 없는 문항은 모두 2점씩입니다.

1. 자료가 표현하는 인물들이 생전에 행한 활동으로 옳은 것은?



- ① ‘태양의 아들’이라 칭하며 신정 정치를 하였다.
- ② 혈연 관계에 토대를 둔 봉건 제도를 시행하였다.
- ③ 천체의 운동을 점토판에 썰기 문자로 기록하였다.
- ④ ‘베다’의 신들을 찬양하며 종교 행사를 주관하였다.
- ⑤ 해상 무역과 식민 활동에 노력하여 카르타고를 건설하였다.

2. 다음 교리를 가진 종교에 대한 옳은 설명을 <보기>에서 모두 고른 것은? [3점]

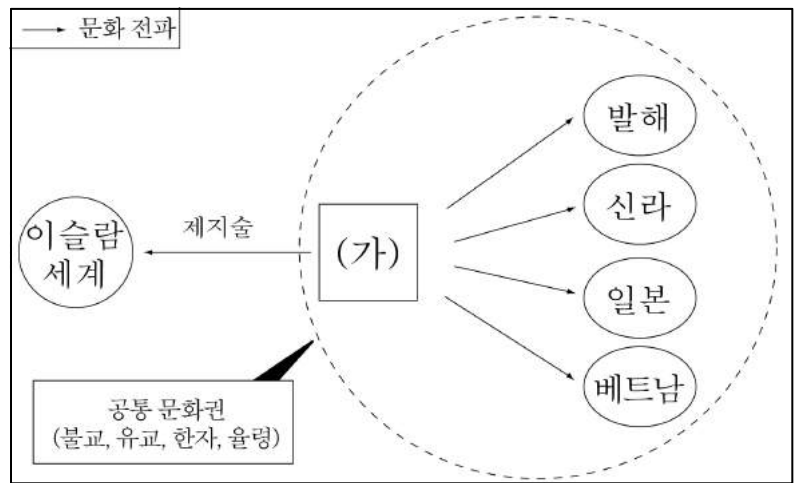
- 신앙 고백 - 샤하다(증언)를 공언한다.
- 예배 - 하루 다섯 번 기도한다.
- 금식 - 9월 한 달 동안 해가 떠서 질 때까지 먹지 않는다.
- 회사 - 소득의 2.5%를 양심에 따라 기부한다.
- 순례 - 일생에 한 번은 성지를 방문한다.

< 보 기 >

- ㄱ. 유일신을 섬기고 우상 숭배를 금하였다.
- ㄴ. 선민 의식이 강해 이민족에 배타적이었다.
- ㄷ. 경전의 가르침을 일상 생활의 규범으로 삼았다.
- ㄹ. 상업 활동을 부정하게 여겨 상인을 천시하였다.

- ① ㄱ, ㄴ ② ㄱ, ㄷ ③ ㄴ, ㄷ
- ④ ㄴ, ㄹ ⑤ ㄷ, ㄹ

3. 그림의 (가) 국가와 관련된 설명으로 옳은 것은? [3점]



- ① 일본의 다이카 개신에 영향을 주었다.
- ② 장건을 서역에 파견하여 비단길을 개척하였다.
- ③ 정화의 해외 원정으로 여러 나라의 조공을 받았다.
- ④ 광저우에 공행을 두어 대외 무역을 전담하게 하였다.
- ⑤ 조로아스터 교, 마니 교 등의 외래 종교를 탄압하였다.

4. 자료의 주장이 국가 정책으로 시행되었던 시기의 사실로 옳지 않은 것은? [3점]

관세와 관련해서는 보호 무역 제도를 확립해야 합니다. 생산자와 상인을 수공업 길드에 편입시켜야 합니다. 식민지를 발전시켜 상업적으로 프랑스에 묶어 두어야 합니다. 상선을 보호하기 위해 해군을 강화시켜야 합니다.

- 콜베르의 편지 -

- ① 왕권은 신성하다는 정치 사상이 유행하였다.
- ② 국왕은 관료제와 상비군을 강화하는 정책을 펼쳤다.
- ③ 정부는 국내 상공업의 보호 육성에 적극 노력하였다.
- ④ 독점 자본주의가 등장하여 식민지 쟁탈전이 치열하였다.
- ⑤ 봉건 귀족과 시민 세력의 힘의 균형 위에서 왕권이 절대화되었다.

5. 표는 어느 왕조의 한족 지배 정책을 나타낸 것이다. (가), (나)에 대한 설명으로 옳은 것은?

한족 지배 정책	변발과 호복 강요, 금서 정책	---(가)
	만·한 병용책, 『고금도서집성』 편찬	---(나)

- ① (가) - 실천적 유학 발달의 계기가 되었다.
- ② (가) - 흉건적의 난이 일어나는 원인이 되었다.
- ③ (나) - 한인 지식인층을 회유하기 위한 것이었다.
- ④ (나) - 원의 민족별 신분 제도를 계승한 것이었다.
- ⑤ (가), (나) - 유목민과 한족을 분리 통치하려는 것이었다.

2

사회 탐구 영역

6. 연표의 (가), (나)에 들어갈 옳은 내용을 <보기>에서 모두 고른 것은? [3점]

1918	1929	1939
(가)	(나)	
제1차 세계 대전 종결	세계 경제 공황 발생	제2차 세계 대전 발발

< 보 기 >

ㄱ. (가) - 미국에서 수정 자본주의 정책이 시행되었다.
 ㄴ. (가) - 미국은 최대 채권국이 되어 경제적 번영을 누렸다.
 ㄷ. (나) - 영국, 프랑스는 각각 경제 블록을 형성하였다.
 ㄹ. (나) - 독일, 이탈리아, 일본이 대외 팽창을 꾀하였다.
 ㅁ. (나) - 러시아에서 혁명이 일어나 소비에트 정권이 수립되었다.

- ① ㄱ, ㄴ ② ㄴ, ㄷ ③ ㄱ, ㄹ, ㅁ
 ④ ㄴ, ㄷ, ㄹ ⑤ ㄷ, ㄹ, ㅁ

7. 다음 기사의 사건이 초래한 사회 문제에 대하여 토론을 하고자 할 때, 토론 주제로 적절하지 않은 것은?

세계사 신문

세계를 뒤바꾼 또 하나의 혁명

18세기 후반, 유럽 대륙이 혁명의 소용돌이에 빠져 있을 때, 일찍 시민 혁명을 치른 영국에서는 세상을 뒤바꿀 또 하나의 혁명이 조용히 일어났다. 그 결과 농촌 중심의 농업 사회는 점차 도시 중심의 산업 사회로 바뀌었다.



제니 방적기(1764)

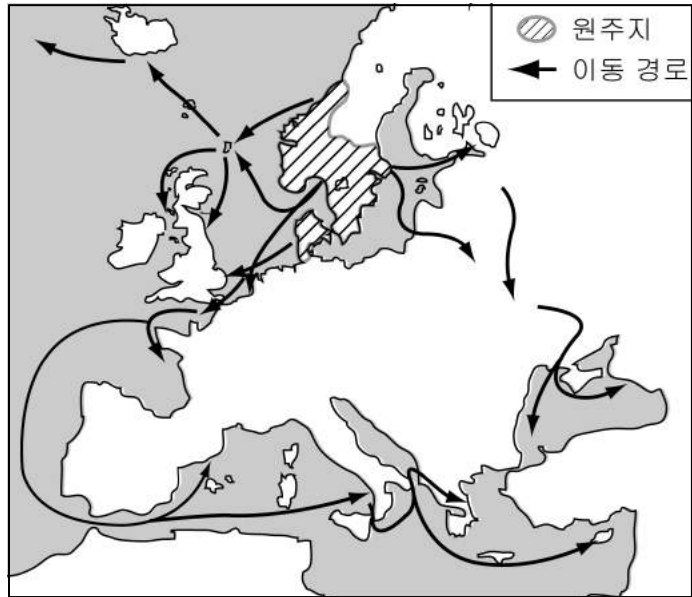
- ① 주택 문제, 어떻게 해결할까?
 ② 기계 파괴 운동, 과연 정당한가?
 ③ 미성년자의 장시간 노동, 해결 방안은?
 ④ 심화되는 빈부 격차, 어떻게 해결할 것인가?
 ⑤ 흑인 노예의 대거 유입, 실업 문제 해결책은?

8. 다음 주장이 제기될 당시의 상황으로 옳은 것은?

○ 제후들의 땅은 진(秦)의 다섯 배이며 제후들의 병사는 진의 열 배가 됩니다. 제후 6국이 하나가 되어 힘을 합해 진을 치면 진은 반드시 깨어지도록 되어 있습니다.
 ○ 진은 강성하여 호랑이와 같습니다. 합종을 맹약하는 자는 호랑이를 공격하는 양의 무리와 다를 바 없습니다. 양들과 손잡기보다는 호랑이와 손을 잡아야 합니다.

- ① 화북 지방에 5호 16국이 난립하였다.
 ② 남북을 연결하는 대운하가 건설되었다.
 ③ 호족의 대토지 소유로 많은 농민들이 몰락하였다.
 ④ 절도사들이 변방에서 독자적인 세력을 형성하였다.
 ⑤ 각국은 부국강병을 위한 치열한 노력을 전개하였다.


9. 지도는 9세기경 어느 민족의 활동을 표시한 것이다. 이들에 대한 설명으로 옳은 것은? [3점]



- ① 서로마 제국을 멸망시켰다.
 ② 프랑크 왕국을 건립하였다.
 ③ 카롤링거 르네상스를 일으켰다.
 ④ 봉건 제도 성립에 영향을 주었다.
 ⑤ 이베리아 반도에서 이슬람 세력을 축출하였다.


10. 다음은 서유럽 어느 시기의 두 계층을 나타낸 것이다. (가), (나)에 대한 옳은 설명을 <보기>에서 모두 고른 것은?

(가)



영주의 허락 없이 마음대로 이사를 하거나 직업을 선택할 수 없었다.

(나)



길드를 조직하여 사업 독점권을 확보하는 등 조합원들의 권익을 보호하였다.

< 보 기 >

ㄱ. (가) - 흑사병의 유행으로 사회적 지위가 열악해졌다.
 ㄴ. (가) - 노동 지대가 화폐 지대로 바뀌면서 신분적 예속이 완화되어 갔다.
 ㄷ. (나) - 도시에 거주하면서 자치를 누렸다.
 ㄹ. (나) - 자유 시장 경제의 발전을 주도하였다.

- ① ㄱ, ㄴ ② ㄱ, ㄷ ③ ㄴ, ㄷ
 ④ ㄴ, ㄹ ⑤ ㄷ, ㄹ

사회 탐구 영역

11. 그림의 논쟁이 일어난 배경으로 옳은 것은?



- ① 교초가 남발되어 경제 혼란이 심하였다.
- ② 이민족의 침략으로 세폐 부담이 늘어났다.
- ③ 환관과 외척의 횡포로 황제권이 약화되었다.
- ④ 잦은 대외 원정으로 국가 재정이 악화되었다.
- ⑤ 대규모 토목 공사로 농민들의 불만이 고조되었다.

12. 다음 상황이 나타난 시기를 연표에서 옳게 고른 것은?

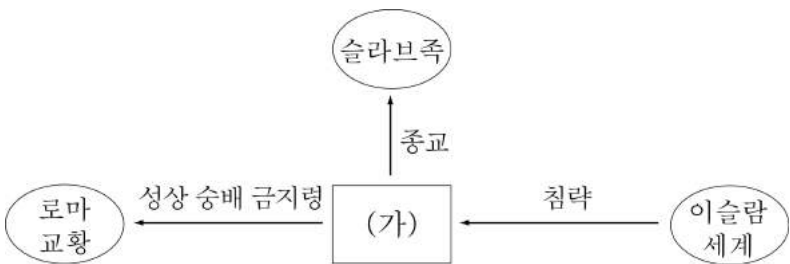
○ 평민과임을 자처하면서 토지 점유자들을 내쫓기 위해 농지법을 통과시키고자 하는 자들은 공화국의 주춧돌을 깎아 없애고 있다.

○ 힘있는 자는 더욱 부유하게 되고 그들의 노예도 나라 곳곳에서 늘어나는 데 반해 이탈리아 인들은 빈곤과 과세 및 군역에 시달려 인구가 줄어들었다. 토지는 부자들이 차지하고, 그것을 경작하는 데에는 자유인이 아니라 노예를 썼기 때문이다.

기원전 494	기원전 264	기원전 27	395	
(가)	(나)	(다)	(라)	(마)
호민관 설치	포에니 전쟁 시작	제정 시작	동·서 로마 분열	

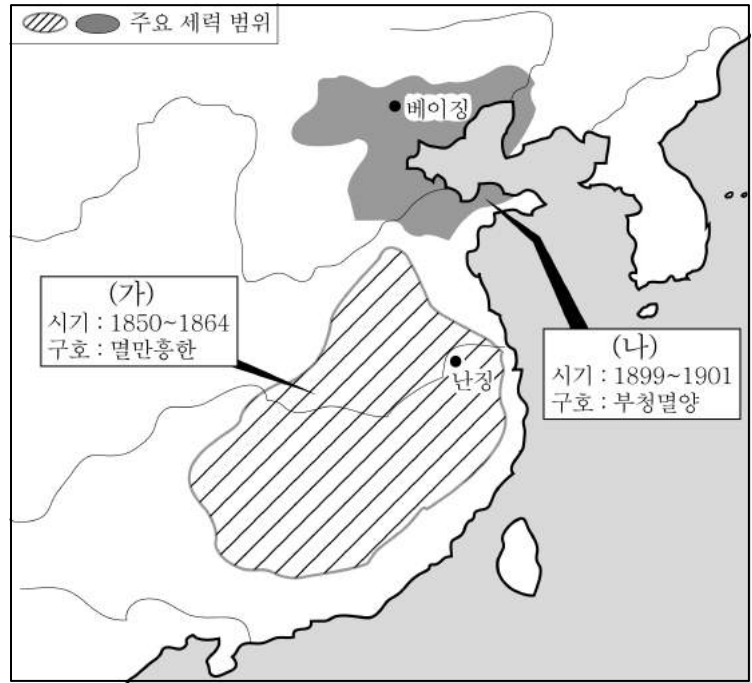
- ① (가) ② (나) ③ (다) ④ (라) ⑤ (마)

13. 그림의 (가) 국가에 대해 알아보기 위한 탐구 활동으로 적절하지 않은 것은?



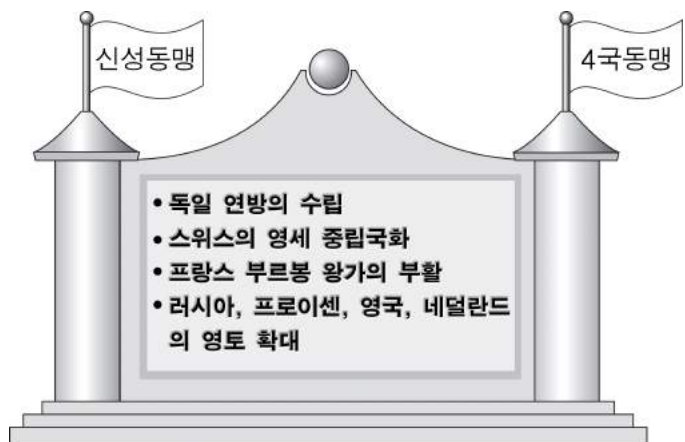
- ① 르네상스에 끼친 영향을 조사한다.
- ② 용병 제도를 시행한 목적을 파악한다.
- ③ 동서 교회가 분열된 원인을 알아본다.
- ④ 십자군 전쟁의 피해 상황을 찾아본다.
- ⑤ 러시아에서 그리스 정교가 발전한 배경을 살펴본다.

14. 지도는 중국의 근대화 과정에서 일어난 어느 운동을 나타낸 것이다. (가), (나) 운동에 대한 설명으로 옳은 것은? [3점]



- ① (가) - 철도 국유화 조치에 반발하여 일어났다.
- ② (가) - 백련교도가 주도한 반크리스트 교 운동이었다.
- ③ (가) - 진압된 후 홍콩이 할양되고 5개 항구가 개방되었다.
- ④ (나) - 향용과 상승군에 의해 진압되었다.
- ⑤ (나) - 진압된 후 외국군의 베이징 주둔이 허용되었다.

15. 그림은 19세기 초 유럽에 나타난 체제를 표현한 것이다. 이 체제의 해체 과정을 알아보는 적절한 탐구 활동을 <보기>에서 모두 고른 것은? [3점]



< 보 기 >


- ㄱ. 영국에서 항해 조례가 실시된 목적을 알아본다.
- ㄴ. 프랑스 2월 혁명이 주변 나라에 끼친 영향을 조사한다.
- ㄷ. 라틴 아메리카의 여러 나라 및 그리스 독립의 영향을 알아본다.
- ㄹ. '대표 없는 곳에 과세할 수 없다.'는 주장을 내세운 혁명의 결과를 조사한다.

- ① ㄱ, ㄴ ② ㄱ, ㄷ ③ ㄴ, ㄷ
- ④ ㄴ, ㄹ ⑤ ㄷ, ㄹ

4

사회 탐구 영역

16. 시기적으로 (가), (나) 사이에 일어난 사실로 옳은 것은?



동독 정부는 베를린에 장벽을 건설하였다.



베를린 장벽이 철거되자 독일 국민들이 환호하였다.

- ① 나치스의 집권
- ② 먼로 독트린 발표
- ③ 바이마르 공화국 수립
- ④ 베르사유 체제의 성립
- ⑤ 고르바초프의 개혁·개방 정책 표방

17. 다음 글의 밑줄 친 내용을 조사하기 위한 탐구 활동으로 적절한 것은? [3점]

유교가 지배층의 도덕성을 강조하는 측면도 있었다. 그러나 유교가 수직적 질서를 고수한 것은 개인의 존엄을 기초로 한 민주와 평등이라는 이념에 비추어 볼 때 부정적인 면이 컸다. 따라서 이 시기에 이르러 '민주주의와 과학'을 구호로 내세운 지식인들은 유교를 집중적으로 비판하였다.

- ① 국·공 합작의 배경을 조사한다.
- ② 신문화 운동의 내용을 알아본다.
- ③ 고증학의 성립 배경을 찾아본다.
- ④ 양무 운동의 개혁 방안을 파악한다.
- ⑤ 변법 자강 운동의 개혁 방안을 분석한다.

18. 연표는 일본의 근·현대사를 정리한 것이다. (가)~(마) 사건에 대한 설명으로 옳지 않은 것은? [3점]

년도	내용
1854	개항 ----- (가)
1868	메이지 유신 ----- (나)
1894	청·일 전쟁 ----- (다)
1904	러·일 전쟁 ----- (라)
1914	제1차 세계 대전 ----- (라)
1931	만주 사변 ----- (라)
1937	중·일 전쟁 ----- (라)
1941	태평양 전쟁 ----- (마)

- ① (가) - 미·일 화친 조약이 체결되었다.
- ② (나) - 막부 반대 세력이 주도하였다.
- ③ (다) - 난징에서 수많은 양민을 학살하였다.
- ④ (라) - 연합국측에 가담하였다.
- ⑤ (마) - 군국주의 세력이 주도하였다.

19. (가), (나) 조세 제도에 대한 설명으로 옳은 것은? [3점]


(가) 전국의 백성을 현재 거주하는 지역의 호적에 등기하고, 정남 혹은 중남에 관계없이 토지와 재산의 많고 적음에 따라 지세와 호세를 부과하되, 여름과 가을에 나누어 징수한다. - 『신당서』, 식화지 -

(나) 한 주(州)나 현(縣)의 부역을 모두 합치고, 토지의 넓이를 측량하고 인정(人丁)의 수를 세어 여러 잡다한 세목을 한 가지 조목으로 만들어 (토지와 인정 단위로) 은으로 징수해 관청에 바친다. - 『명사』, 식화지 -

- ① (가) - 균전제를 토대로 실시되었다.
- ② (가) - 자영농을 육성하기 위해 시행되었다.
- ③ (나) - 정세를 폐지하고 지세만 거두었다.
- ④ (나) - 은 분위 화폐 제도를 배경으로 실시되었다.
- ⑤ (가), (나) - 인구가 급격히 증가하는 계기가 되었다.

20. 다음 기행문에 어울리는 사진 자료로 옳은 것은?

뉴델리에서 동남쪽으로 200km를 달려 아그라에 도착하니 돛 지붕과 첨탑이 있는 웅장한 대리석 건물이 자무르 강물에 비치고 있다. 아치 형의 입구를 지나 연꽃 문양의 인도 양식으로 장식된 방에 들어가니 대리석으로 만든 관 2개가 놓여 있다. 하나는 몸타즈 마할(샤 자한의 왕비)의 것이고, 다른 하나는 샤 자한의 것이다.



※ 확인 사항
○ 문제지와 답안지의 해당란을 정확히 기입(표기)했는지 확인하십시오.