

제 4 교시

사회탐구 영역(세계사)

성명 수험 번호

- 자신이 선택한 과목의 문제지인지 확인하십시오.
- 문제지에 성명과 수험 번호를 정확히 써 넣으시오.
- 답안지에 성명과 수험 번호를 써 넣고, 또 수험 번호와 답을 정확히 표시하십시오.
- 과목을 선택한 순서대로 풀고, 답은 답안지의 '제1선택'란에서부터 차례대로 표시하십시오.
- 문항에 따라 배점이 다르니, 각 물음의 끝에 표시된 배점을 참고하십시오. 3점 문항에만 점수가 표시되어 있습니다. 점수 표시가 없는 문항은 모두 2점입니다.

1. 다음은 ○○ 고등학교 역사 동아리 탐구 활동 계획안이다. (가)에 들어갈 수 있는 내용으로 적절하지 않은 것은? [3점]

2006년 2학기 탐구 활동 계획

◆ 탐구 목표 : 아래의 활동을 통해 (가)을(를) 이해한다.

◆ 월별 활동 계획

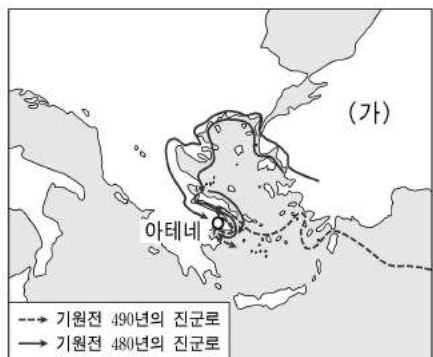
9월 : 한반도와 독일의 분단사 비교

10월 : 한국과 중국의 고구려사 인식 차이 조사

11월 : 일본의 한국 지배와 영국의 인도 지배의 연관성과 그 특징 비교

- ① 각국 역사와 그 상호 관련성
- ② 우리 민족사와 세계사의 관계
- ③ 서양 중심의 세계사 인식의 문제점
- ④ 세계사적 관점에서 본 우리 민족의 역사적 과제
- ⑤ 우리나라 역사와 다른 나라 역사의 공통점과 차이점

2. 다음 자료의 (가) 국가에 관한 설명으로 옳은 것은? [3점]



지금 아테네 인들은 역사상 가장 큰 위협에 처했습니다. 만약 아테네 인들이 (가)에 굴복한다면...(중략)... 어떤 일을 겪을지 분명하기 때문입니다.
- 헤로도토스, 『역사』 -

- ① 로마 제국 말기에 서유럽으로 들어와 나라를 세웠다.
- ② 황제권이 강하여 황제가 교회의 우두머리를 겸하였다.
- ③ 카르타고 등의 식민 도시를 건설하고 표음 문자를 사용하였다.
- ④ 조로아스터 교를 믿었으며 알렉산드로스 대왕에게 멸망하였다.
- ⑤ 자유로운 시민 생활을 바탕으로 인간 중심적 문화를 발전시켰다.

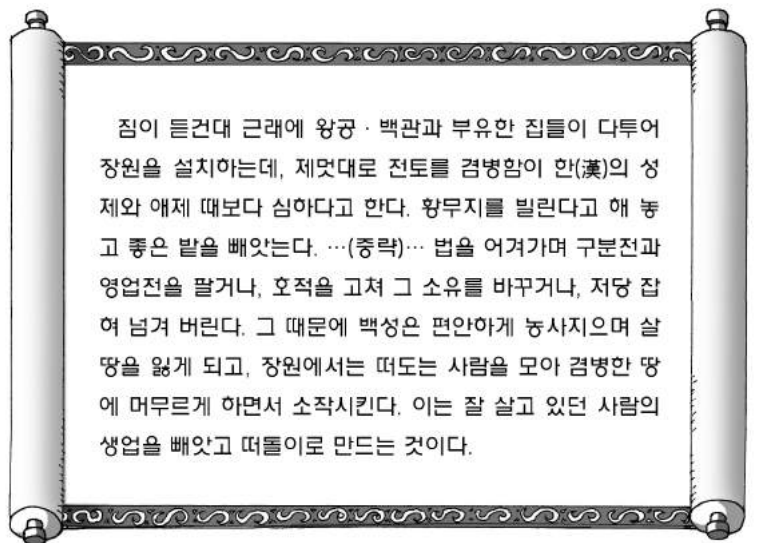
3. 밑줄 친 '이 시대'에 대한 설명으로 옳은 것을 <보기>에서 모두 고른 것은?

중법적 봉건제와 씨족 질서가 무너지면서 맞이한 이 시대는 각국이 독립적인 성향을 드러내고 상호 경쟁과 대립을 반복한 분열의 시대였다. 군사적으로는 황하와 양쯔 강 유역의 국가들이 대립하는 국면을 보이면서, 패자(覇者)가 각국 간의 외교와 정치의 중심이 되었다. 이어 약육강식과 하극상이 만연하면서 기존의 신분 질서는 해체되었고, 각국의 군주들은 부국강병을 위한 개혁을 추진하였다.

- <보 기>—
- ㄱ. 신분에 관계없이 유능한 인재가 등용되었다.
 - ㄴ. 철제 무기의 사용으로 정복 활동이 활발해졌다.
 - ㄷ. 북방 민족이 침입하여 화북 일대를 지배하였다.
 - ㄹ. 서적이 대량으로 인쇄되고 지식이 널리 확산되었다.

- ① ㄱ, ㄴ ② ㄱ, ㄷ ③ ㄴ, ㄷ ④ ㄴ, ㄹ ⑤ ㄷ, ㄹ

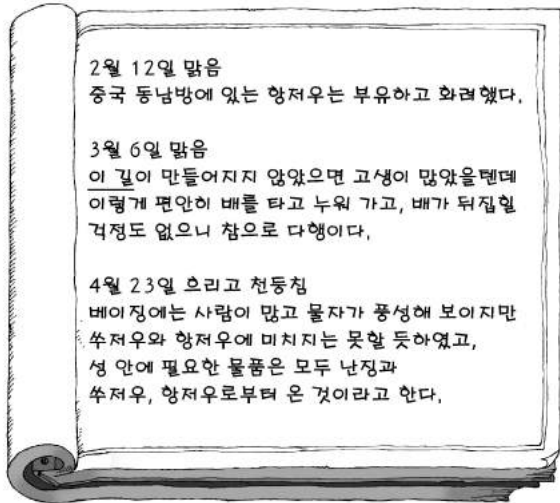
4. 다음 자료에 나타난 상황과 관련된 사실을 <보기>에서 모두 고른 것은?



- <보 기>—
- ㄱ. 거란에 은과 비단을 주어 화친을 도모하였다.
 - ㄴ. 지방에서는 전권을 지닌 절도사 세력이 성장하였다.
 - ㄷ. 국가의 통치력이 약화되면서 황건적의 난이 일어났다.
 - ㄹ. 빈부 격차를 반영하여 1년에 두 차례 세금을 부과하였다.

- ① ㄱ, ㄴ ② ㄱ, ㄷ ③ ㄴ, ㄷ ④ ㄴ, ㄹ ⑤ ㄷ, ㄹ

5. 다음 여행 일기의 밑줄 친 '이 길'에 대한 설명으로 가장 적절한 것은? [3점]



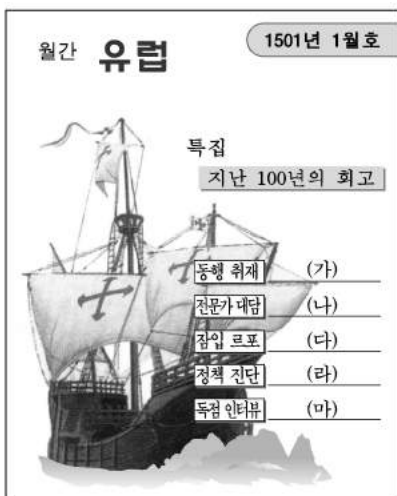
- ① 이슬람 상인들이 주로 이용하였다.
- ② 한나라 때에 본격적으로 개척되었다.
- ③ 몽고 제국의 서방 원정에 이용되었다.
- ④ 강남의 세금과 물자를 운반하는 통로로 이용되었다.
- ⑤ 나침반을 활용한 항해술이 발달하면서 이용이 확대되었다.

6. 다음 자료는 일본 근대 시기의 연표이다. (가) 시기에 시행된 정책으로 옳지 않은 것은? [3점]



- ① 헌법 제정
- ② 과거제 시행
- ③ 징병제 실시
- ④ 신분제 철폐(사민평등)
- ⑤ 봉건제 폐지(폐번치현)

7. 세계사 수행 평가를 위해 그림과 같이 월간지 표지를 만들어 보았다. (가)~(마)에 들어갈 기사 제목으로 적절하지 않은 것은?



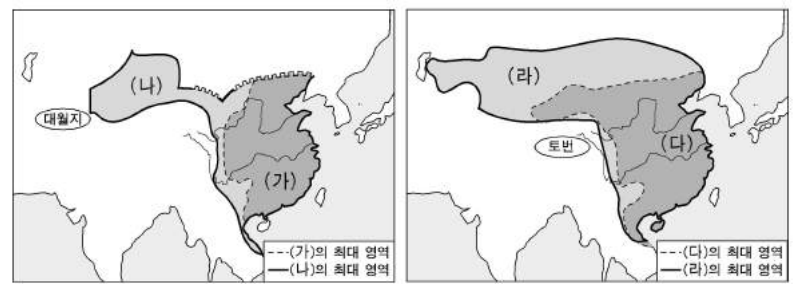
- ① (가) : 희망봉으로 가는 여정
- ② (나) : 지중해 무역, 위기인가?
- ③ (다) : 아동 노동의 현장 - ○○ 방직 공장
- ④ (라) : 포르투갈의 원양 항해 지원 정책
- ⑤ (마) : 세기의 모험가, 콜럼버스

8. 다음 자료의 (가)에 들어갈 종교에 대한 설명으로 옳은 것은?

그는 칼링가 정복을 계기로 전쟁의 비참함을 깊이 느끼고 (가)를 국가 통치의 이념으로 삼았다. 구체적으로는 백성과 동물을 위한 의료 시설과 음료수, 숙박소를 마련했으며, 가로수가 있는 도로 등을 조성했다.

- ① 만민의 평등과 윤리적 실천을 통한 해탈을 주장했다.
- ② 천국의 존재와 최후의 심판을 믿었으며 불을 숭배했다.
- ③ 우상 숭배와 다신교를 거부하고 유일신 신앙을 추구했다.
- ④ 자신의 카스트에 맞는 의무를 충실히 수행할 것을 강조했다.
- ⑤ 도가 사상과 신선 사상을 결합한 것으로 중국에서 전래되었다.

9. 지도의 (가)·(나)와 (다)·(라)는 각각 연속된 통일 왕조이다. (가)~(라)에 대한 설명으로 옳지 않은 것은? [3점]



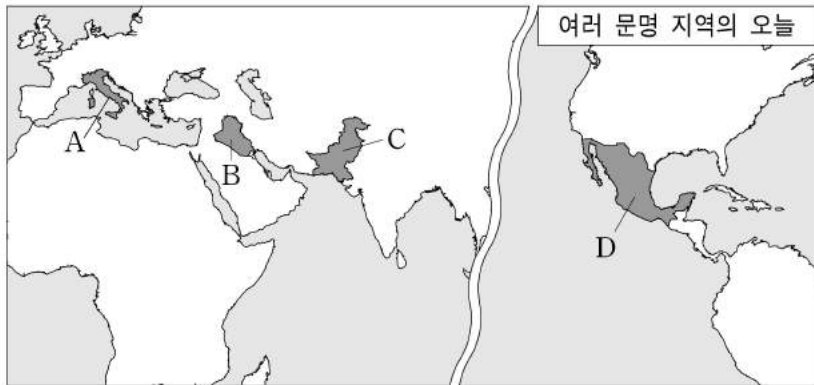
- ① (가)와 (나)의 북방에는 흉노가 있었다.
- ② (다)와 (라)에서는 과거제가 시행되었다.
- ③ (가) 시대에 서역에서 전래된 불교가 (다) 시대에 성행하였다.
- ④ (나) 시대에 발명된 제지술이 (라) 시대에 서역으로 전해졌다.
- ⑤ (가)와 (다)에는 대규모 토목 공사의 폐해가, (나)와 (라)에는 환관의 폐해가 있었다.

10. 다음 자료에 나타난 사건을 설명한 것으로 옳지 않은 것은?

중국인 지상의 모든 나라들 위에 우뚝 섰다. 아시아, 아라비아, 아프리카, 인도양 등 사방 곳곳에서 왕과 사신들이 베이징으로 모여들었다. 한 치의 오차도 없이 정확히 대양을 항해하고 돌아온 거대한 선박들로 이루어진 선단이 황제에게 예를 표하러 오는 통치자와 사신들을 신고 왔다.
- 개빈 멘지스, 『1421 : 중국, 세계를 발견하다』 -

- ① 중국인의 해외 진출을 자극하였다.
- ② 동아시아 문화권 형성의 계기가 되었다.
- ③ 대외 팽창 정책의 일환으로 추진되었다.
- ④ 중국 중심의 조공 질서 확립에 기여하였다.
- ⑤ 중국인의 동남 아시아에 대한 지식을 확대시켰다.

11. 지도에 표시된 A~D 나라에 대한 설명으로 옳은 것을 <보기>에서 모두 고른 것은? [3점]



<보 기>

ㄱ. 파르테논 신전으로 유명한 A에서 근대 올림픽이 시작되었다.

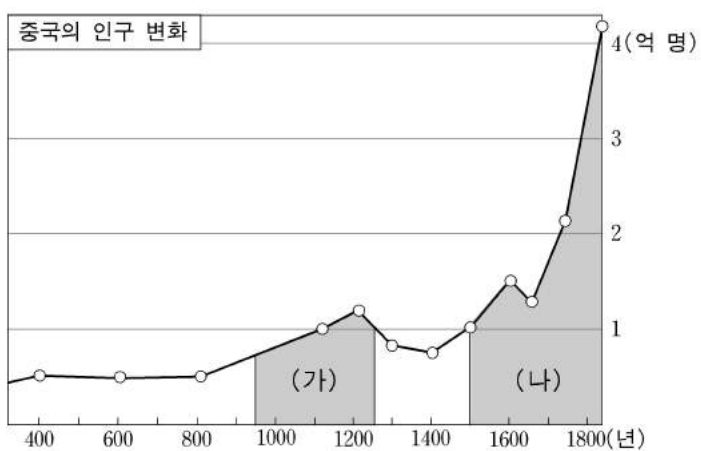
ㄴ. 함무라비 법전의 고향인 B에는 우리나라의 자이툰 부대가 파견되어 있다.

ㄷ. 하라파 유적이 발굴된 C에는 현재 이슬람 교도들이 많이 살고 있다.

ㄹ. 잉카 문명이 번성했던 D는 에스파냐의 식민지로 되었다가 19세기에 이르러 독립하였다.

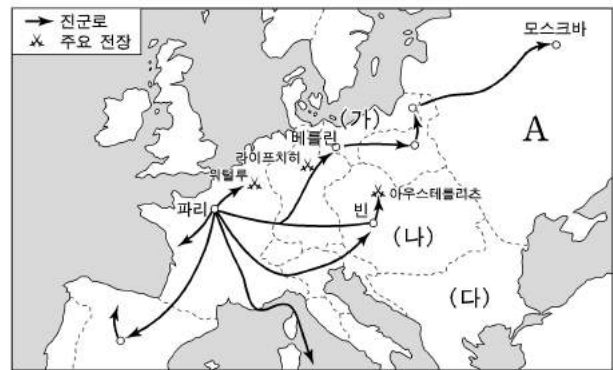
- ① ㄱ, ㄴ ② ㄱ, ㄷ ③ ㄴ, ㄷ ④ ㄴ, ㄹ ⑤ ㄷ, ㄹ

12. 다음 자료의 (가), (나) 시대의 사회 상황에 대한 설명으로 적절하지 않은 것은?



- ① (가) : 쌀 농사의 중심지가 양쯔 강 하류에서 중·상류 지역으로 이동하였다.
- ② (가) : 참파벼와 같은 새로운 벼 품종이 보급되고 모내기법 등 농업 기술의 혁신이 일어났다.
- ③ (나) : 무역이 활발해지면서 은이 대량으로 유입되어 주요한 화폐로 유통되었다.
- ④ (나) : 고구마, 감자, 옥수수, 땅콩 등 새로운 작물이 보급되어 식량 생산의 증가에 기여하였다.
- ⑤ (나) : 산지 상인, 휘저우 상인과 같은 대상인이 전국적으로 활동하였고 회관과 공소 등 상호 부조 조직을 만들었다.

[13~14] 지도는 어느 전쟁의 상황을 나타낸다. 물음에 답하시오.



13. 이 전쟁을 주도한 인물에 대한 설명으로 옳은 것은?

- ① 낭트 칙령을 폐지하여 신교도를 탄압했다.
- ② 이탈리아 통일 전쟁과 크림 전쟁에 관여했다.
- ③ 봉건적 특권을 폐지하고 인권 선언을 발표했다.
- ④ 근대 시민 사회의 규범을 담은 법전을 편찬했다.
- ⑤ 베르사유 궁전을 지어 화려한 궁정 문화를 꽃피웠다.

14. A 국가에서 전개된 19세기의 역사적 사실이 아닌 것은? [3점]

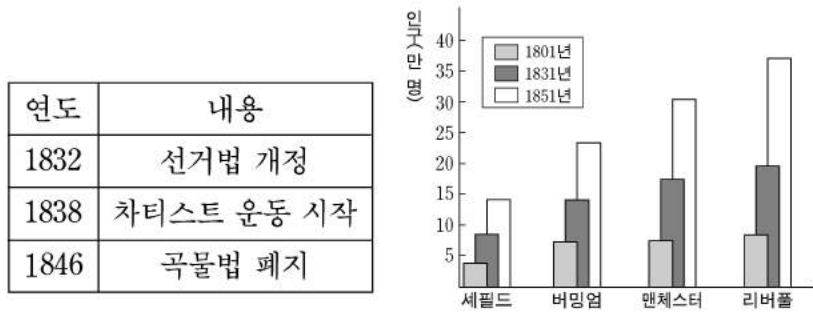
- ① 국가 주도로 산업화를 추진했다.
- ② 빈 체제에 적극적으로 참여했다.
- ③ (가), (나) 국가와 함께 유럽의 자유주의를 억압했다.
- ④ (다) 국가와의 전쟁에서 패한 후 농노제를 폐지했다.
- ⑤ 노동자와 병사들이 혁명을 일으켜 황제를 퇴위시켰다.

15. 다음 자료의 (가)와 관련된 운동을 옳게 설명한 것은? [3점]



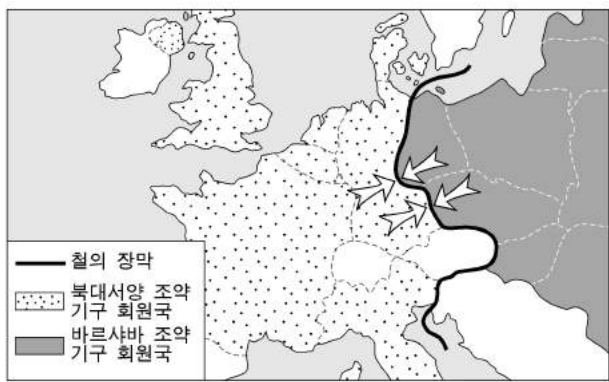
- ① 토지의 균등한 분배를 주장하였다.
- ② 철도 국유화 문제가 배경이 되었다.
- ③ 전국적인 대중 운동으로 발전하였다.
- ④ 서태후 등 보수파의 쿠데타로 실패하였다.
- ⑤ 태평 천국을 진압한 한인 관료가 중심이 되었다.

16. 다음 자료를 통해 19세기 전반, 아래의 영국 도시들에서 전개된 상황을 추론한 것으로 적절하지 않은 것은?



- ① 철도 운송 수요가 증가했을 것이다.
- ② 부패 선거구 폐지 요구가 높았을 것이다.
- ③ 노동 조건을 둘러싼 분쟁이 많았을 것이다.
- ④ 정치적 권리에 대한 노동자들의 요구가 높았을 것이다.
- ⑤ 곡물 수입관세 폐지에 대한 불만의 목소리가 높아졌을 것이다.

17. 지도에 나타난 국제적 대립 관계로 인해 일어난 사건을 <보기>에서 모두 고른 것은? [3점]



<보 기>

ㄱ. 쿠바 위기 발생 ㄴ. 발칸 전쟁 발발
 ㄷ. 베를린 장벽 구축 ㄹ. 세계 무역 기구 창설

- ① ㄱ, ㄴ ② ㄱ, ㄷ ③ ㄴ, ㄷ ④ ㄴ, ㄹ ⑤ ㄷ, ㄹ

18. 다음 자료의 [가] 국가에 대한 설명으로 옳은 것은? [3점]

- 프랑스는 [가]에 대한 종주권을 주장하는 청과의 전쟁에서 승리한 뒤 캄보디아와 라오스를 합쳐 프랑스령 인도차이나 연방을 수립하였다.
- 타이(시암)는 동남 아시아 국가 가운데 유일하게 식민지가 되지 않았다. 타이의 독립을 유지할 수 있었던 것은 미얀마에서 동진하는 영국과 [가]에서 서진하는 프랑스의 완충 지대라는 지리적 이점을 충분히 활용했기 때문이다.

- ① 출아롱콘 왕(라마 5세)이 근대적 개혁을 단행했다.
- ② 앙코르 왕조 때 앙코르 와트, 앙코르 톰 등을 건설했다.
- ③ 힌두 교와 불교를 신봉하다가 15세기경 이슬람 교로 개종했다.
- ④ 벵골 분할령에 반대하여 스와데시·스와라지 운동을 전개했다.
- ⑤ 민족 의식이 성장하면서 쓰놈(추놈) 문자와 『대월사기』를 만들었다.


19. 다음 자료는 14~15세기의 영국 사회를 보여준다. 이와 관련된 역사적 사실로 옳은 것은?

브리스톨에서는 마치 도시가 통제로 급살을 맞은 것처럼 사람들이 목숨을 잃었다. 병석에 누워 2~3일을 견디는 사람이 별로 없었고 반나절도 안돼 죽어버리는 사람이 많았다.
 -나이튼, 『연대기』-

- ① 영주의 예속으로부터 벗어나 자유로워지는 농민이 늘어났다.
- ② 봉건 영주들은 대헌장을 제출하여 국왕의 권한을 제약하였다.
- ③ 노동력 부족을 해결하기 위해 아프리카에서 노예를 수입하였다.
- ④ 사회적 혼란을 배경으로 교황과 교회의 권위는 더욱 강화되었다.
- ⑤ 농촌 인구의 도시 이주가 활발해지면서 주택 부족 문제가 심각해졌다.

20. 밑줄 친 '이 시기'에 탄생한 작품을 <보기>에서 모두 고른 것은?

이 시기 예술가들은 고전 미술과 있는 그대로의 자연에서 예술적 영감을 얻었다. 해부를 통해 얻은 정확한 지식을 바탕으로 인간 육체의 아름다움을 표현하되, 인간의 내면적인 정신에까지 파고들어 감정의 미묘한 움직임조차 놓치지 않으려 했다. 또한 사물이 광선에 따라 색채와 형태가 달라짐을 관찰하기도 했다. 그들이 다루는 주제는 여전히 종교적이었지만 그 정신은 인간적이고 현실적이었으며 그리스 신화나 주변의 일상에 관해서도 다루었다.



- ① ㄱ, ㄴ ② ㄱ, ㄷ ③ ㄴ, ㄷ ④ ㄴ, ㄹ ⑤ ㄷ, ㄹ

* 확인 사항

○ 답안지의 해당란에 필요한 내용을 정확히 기입(표기)했는지 확인 하시오.