

2006학년도 10월 고3 전국연합학력평가 문제지

제 4 교시 사회 탐구 영역(사회·문화)

성명 _____ 수험번호 _____ 3 _____ 1

- 먼저 수험생이 선택한 과목의 문제지인지 확인하십시오.
- 문제지에 성명과 수험 번호를 정확히 기입하십시오.
- 답안지에 수험 번호, 선택 과목, 답을 표기할 때는 반드시 '수험생이 지켜야 할 일'에 따라 표기하십시오.
- 문항에 따라 배점이 다르니, 각 물음의 끝에 표시된 배점을 참고하십시오. 3점 문항에만 점수가 표시되어 있습니다. 점수 표시가 없는 문항은 모두 2점씩입니다.

1. 다음 글을 읽고 학생들이 토의한 내용 중 가장 타당한 것은?

파키스탄의 전통 놀이 중, 땅에 흙을 파고 짧은 나무 토막을 긴 나무 막대기로 쳐내는 놀이가 있는데 우리의 자치기와 유사하다. 또한 바닥에 선을 그어 놓고 구슬을 굴린 뒤 선과 가장 가까운 위치에 구슬을 멈추게 한 사람이 그것들을 차지하거나, 삼각형 안에 구슬을 놓고 밖에서 구슬을 굴려 삼각형을 벗어나는 구슬을 차지하는 놀이도 있다. 이는 우리나라 구슬치기와 유사하다. 그리고 남자들은 집 안에서 우리와 마찬가지로 양반 다리를 하고 방바닥에 앉는다.

- ① 갑 : 문화 접변을 통해 각국의 문화가 하나로 통합되고 있어.
- ② 을 : 삶의 방식은 환경의 지배를 받아 비슷하게 나타나고 있어.
- ③ 병 : 한류의 확산으로 우리 문화가 다른 문화에 전파되고 있어.
- ④ 정 : 자료를 수집하는데 있어서 연구자의 주관이 개입되어 있어.
- ⑤ 무 : 비교 연구를 통해 서로 다른 문화 간의 공통점을 발견하고 있어.

2. 다음에서 현주의 입장에 부합하는 진술을 <보기>에서 고른 것은?



< 보 기 >

ㄱ. 사회는 지속적이고 안정적인 구조를 이루고 있다.
 ㄴ. 사회는 희소 자원의 획득을 둘러싼 투쟁의 장이다.
 ㄷ. 갈등은 변동의 요인이며, 변동은 일상적으로 발생한다.
 ㄹ. 사회 제도는 사회의 유지와 존속에 긍정적 기능을 수행한다.


- ① ㄱ, ㄴ ② ㄱ, ㄹ ③ ㄴ, ㄷ
- ④ ㄴ, ㄹ ⑤ ㄷ, ㄹ

3. 다음은 '○○문화인류학회'가 주최한 학술 대회 주제와 내용을 요약한 것이다. 이와 관련된 문화 변동 양상에 대한 설명으로 가장 적절한 것은?

주제 : 재외 한인 동포 이주의 역사와 문화
 내용 : 중국의 동북 3성, 중앙아시아, 일본, 하와이, 멕시코 등지에 거주하는 한인 동포들의 140여 년에 이르는 역사 속에서 한인 동포 사회의 문화적 성격과 정체성 형성 과정을 이주 지역 주류 사회의 정치·사회·문화와의 관련 속에서 살펴본다. 이를 통해 한민족 이주 문화의 변동 과정을 규명한다.

- ① 단기간에 이루어진 계획적인 문화 변동 과정이다.
- ② 두 문화 간의 지속적이고 전면적인 접촉을 통해 생기는 변화이다.
- ③ 한 사회의 특정 문화 요소가 다른 사회에 전해져 정착되는 과정이다.
- ④ 발명, 발견 등 내적 요인을 통해 새로운 문화 요소가 추가되는 것이다.
- ⑤ 한 사회의 문화가 다른 문화를 받아들여 그 문화와 동일해지는 것이다.

4. 그림에 대한 옳은 분석을 <보기>에서 모두 고른 것은? [3점]



< 보 기 >

ㄱ. 규희는 문화를 생활 양식의 총체로 인식하고 있다.
 ㄴ. 문화의 의미가 다양하게 사용될 수 있음을 보여준다.
 ㄷ. 문화의 전체성을 설명하는 데는 규희의 이해가 적절하다.
 ㄹ. 새로운 가족 형태의 등장은 ○○신문 문화면의 내용이 될 수 있다.

- ① ㄱ, ㄴ ② ㄱ, ㄷ ③ ㄴ, ㄹ
- ④ ㄱ, ㄴ, ㄷ ⑤ ㄴ, ㄷ, ㄹ

5. 다음과 같은 활동에 대한 타당한 설명을 <보기>에서 모두 고른 것은?



< 보 기 >

ㄱ. 남북 간의 인적·물적 교류를 확대시킬 것이다.
 ㄴ. 남북 간의 자유 무역 협정을 체결하기 위한 과정이다.
 ㄷ. 통일 노력이 정부 주도에서 민간 주도로 전환될 것이다.
 ㄹ. 통일 이후에 들어갈 통일 비용을 줄이는데 기여할 것이다.

- ① ㄱ, ㄷ ② ㄱ, ㄴ ③ ㄴ, ㄹ
 ④ ㄱ, ㄴ, ㄷ ⑤ ㄴ, ㄷ, ㄹ

6. 다음 글의 빈 칸에 들어갈 내용으로 가장 적절한 것은?

건설 회사에 다니는 김씨는 회사 내 산악회의 총무를 맡고 있다. 주 5일 근무를 하는 이 회사에서는 산악회 외에도 다양한 동호인 활동을 금전적으로 지원하고 있다. 경우에 따라서는 동호인 활동을 위해 금요일 오후에 조퇴하는 것을 허가하기도 한다. 김씨는 산악회 활동이 건강을 증진시켜 회사 업무에도 큰 도움이 되고 있다고 생각하고 있다. 그러나 회사 측에서는 동호인 활동으로 인해 _____는 점을 염려하기도 한다.

- ① 공식적 목표보다 비공식적 관계가 우선시 될 수 있다
 ② 형식적 관계가 만연하여 친밀감이 부족해질 수 있다
 ③ 비공식 조직의 규모가 공식 조직보다 커질 수 있다
 ④ 업무의 전문화와 세분화가 어려워질 수 있다
 ⑤ 지위에 따른 역할이 불분명해질 수 있다

7. 다음 글의 밑줄 친 '이것'에 대한 타당한 설명을 <보기>에서 고른 것은? [3점]

이것은 일반적으로 사회의 일부 집단 구성원들 간의 상호 작용 과정을 통해서 형성된다. 비슷한 연령, 동종의 직업 집단, 동일한 종교적 신념을 가진 집단 등을 기초로 하여 그 구성원들이 의사 소통하고 상호 작용하는 가운데 형성된 그들만의 문화이다.

< 보 기 >

ㄱ. 전체 사회를 발전시키는데 부정적으로 작용한다.
 ㄴ. 지배 문화에 대해 반문화(反文化)의 성격을 띤다.
 ㄷ. 사회가 다원화되고 복잡해질수록 다양하게 나타난다.
 ㄹ. 특정한 집단이나 범주에 속한 사람들이 공유하는 생활 양식이다.

- ① ㄱ, ㄴ ② ㄱ, ㄷ ③ ㄴ, ㄷ ④ ㄴ, ㄹ ⑤ ㄷ, ㄹ

8. 다음 글에서 사용된 자료 수집 방법에 대한 설명으로 적절한 것은? [3점]

파라나시국에서 보름을 걸어서 중천축국의 국왕이 살고 있는 갈나급자(葛那及自)성에 도착하였다. 이 중천축국의 영토는 무척 넓고 백성이 많이 산다. 의복과 언어, 풍속, 그리고 법은 다섯 천축국이 서로 비슷하다. 오직 남천축국의 시골에 가면 백성들의 언어가 다른 곳과 차이가 있다. 이 다섯 천축국의 법에는 죄인의 목에 칼을 씌우거나, 형벌로서 몽둥이로 때리거나 또는 감옥에 가두는 것은 없다.

- 혜초, 왕오천축국전 -

- ① 많은 시간과 비용을 투자해 자료의 실제성을 얻고 있다.
 ② 지나친 계량화로 인해 심층적인 요소가 간과되고 있다.
 ③ 기존의 연구 성과물과 연구 동향을 파악할 수 있다.
 ④ 의사 소통이 가능한 대상에게만 활용할 수 있다.
 ⑤ 비윤리적인 방법이라는 비난을 받을 수 있다.

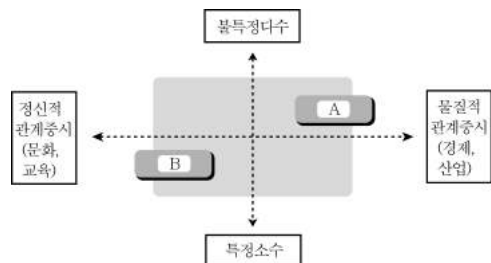
9. 다음의 밑줄 친 ㉠~㉣에 대한 설명으로 적절하지 않은 것은? [3점]

하청 업체로부터 골프 접대를 받아 물의를 일으킨 ㉠○○기업 임원에 대한 징계가 오늘 이뤄진다. 회사 차원의 ㉡절대 골프 자체령이 내려진 가운데, 그것도 ㉢평일에 버젓이 절대 골프를 친 이번 사건은 건전한 기업 문화 확립을 기대한 국민과 경제계에 커다란 상처를 남겨 주었다. 그런 만큼 ○○기업이 ㉣징계 위원회에서 내릴 징계 수위가 주목되고 있다. 전달까지 사내 논의 과정에서는 ㉤퇴직 권유 이상의 징계를 찬성하는 측과 이에 반대하는 측으로 의견이 나뉘어 졌다고 한다.

- △△일보, 2006년 □월 □□일 -

- ① ㉠은 2차 집단이다.
 ② ㉡은 ○○기업 구성원 이외의 사람에게는 구속력이 없다.
 ③ ㉢은 문제 삼는 것은 ○○기업 임원이라는 지위와 관련이 있다.
 ④ ㉣은 공식 조직에 해당한다.
 ⑤ ㉤은 역할 갈등 상황을 보여준다.

10. 그림은 도시와 농촌의 교류 형태를 구분한 것이다. A, B에 해당하는 예를 바르게 짝지은 것은?



- | | |
|--|--|
| <p>A</p> <p>① 농촌 자연 학습 ② 농촌 자연 학습 ③ 농특산물 판촉 축제 ④ 농특산물 판촉 축제 ⑤ 고향 방문 행사</p> | <p>B</p> <p>고향 방문 행사 1사(社)1촌(村) 봉사 활동 1사(社)1촌(村) 봉사 활동 계약 재배 계약 재배</p> |
|--|--|

사회 탐구 영역

사회·문화

11. 다음 글의 밑줄 친 사람들이 개인과 사회의 관계에 대해 갖고 있는 관점에 부합하는 진술을 <보기>에서 모두 고른 것은?

2006년 지방 선거에서 광역 자치 단체장 16곳 가운데 12곳을, 기초 자치 단체장 230곳 가운데 158곳을 A정당의 후보가 차지하였다. 이처럼 특정 정당의 후보자들이 압도적인 비율로 당선된 것은 후보 개개인의 됄됨이보다는 그 후보가 소속된 정당을 보고 투표하는 사람들이 많다는 것을 보여준다.

- < 보 기 > —————
- ㄱ. 사회는 독립적 실체이다.
 - ㄴ. 사회는 개인의 삶을 좌우한다.
 - ㄷ. 인간의 행동은 자유 의지에 의한 것이다.
 - ㄹ. 사회 질서는 개인의 의식과 심리 상태를 통해 설명된다.

- ① ㄱ, ㄴ ② ㄱ, ㄷ ③ ㄴ, ㄷ
- ④ ㄱ, ㄴ, ㄹ ⑤ ㄴ, ㄷ, ㄹ

12. 표에 대한 분석으로 타당한 것은? [3점]

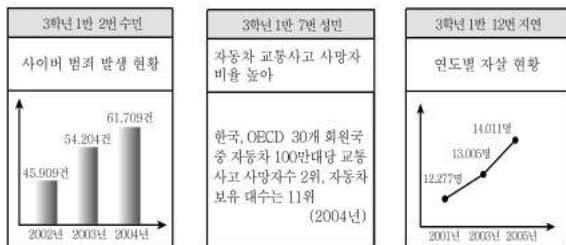
이혼 부부의 혼인 지속 기간별 분포 (단위: %)

| 연도 | 0~5년 미만 | 5~10년 미만 | 10~15년 미만 | 15~20년 미만 | 20년 이상 |
|------|---------|----------|-----------|-----------|--------|
| 1985 | 41.6 | 30.6 | 15.7 | 7.4 | 4.7 |
| 1990 | 40.5 | 29.4 | 18.3 | 8.0 | 4.8 |
| 1995 | 33.7 | 25.6 | 21.0 | 13.2 | 6.5 |
| 2000 | 31.7 | 23.0 | 19.0 | 15.4 | 10.9 |

- ① 이혼을 쉽게 결정하는 경향이 증가하고 있다.
- ② 이혼의 비율뿐만 아니라 절대적인 수치도 급격히 증가했다.
- ③ 젊은 층을 중심으로 가족 경시 풍조가 급속히 확산되고 있다.
- ④ 이혼 부부들이 혼인 관계를 유지했던 기간이 점차 길어지고 있다.
- ⑤ 개인적 요인보다 사회 구조적 요인에 의한 이혼이 증가하고 있다.

13. 다음의 ㉠에 해당하는 개념으로 가장 적절한 것은? [3점]

교사 : 우리나라는 빠른 사회 변동 과정에서 ㉠을(를) 비롯한 여러 가지 사회 문제가 나타났습니다. ㉠을(를) 설명하기에 유용한 통계 자료를 각자 제시해 봅시다.



교사 : 수민이와 성민이는 적절한 자료를 제시하였지만, 지연이가 제시한 자료는 적절하지 않습니다.

- ① 문화 지체 ② 인간 소외 ③ 지위 불일치
- ④ 목적 전치 현상 ⑤ 화이트 칼라 범죄

14. 다음 주장에 부합하는 진술을 <보기>에서 고른 것은? [3점]

일탈에 대한 인식은 그 집단에서 용납되지 않는 위반이 어떤 것이고, 어떤 행동이 바람직한 것인지를 알려준다. 또한 어느 정도의 일탈은 개인의 스트레스나 사회적 긴장 요인을 배출시켜 사회 안전과 질서를 유지하도록 하는 '안전밸브(safety valve)'로 기능한다. 이처럼 일탈은 일정한 사회적 순기능을 수행하기도 한다.

- < 보 기 > —————
- ㄱ. 일탈에 관한 인식을 통해 구성원들은 공통적 도덕성을 갖는다.
 - ㄴ. 일탈은 지배 집단의 이익을 대표하는 통제 기관에 의해서 규제된다.
 - ㄷ. 일탈은 사회적 결함의 신호이고 사회 변화의 매개체로서의 역할을 한다.
 - ㄹ. 일탈은 사회적으로 규정된 목표와 가능한 수단 사이의 괴리에서 발생한다.

- ① ㄱ, ㄴ ② ㄱ, ㄷ ③ ㄴ, ㄷ
- ④ ㄴ, ㄹ ⑤ ㄷ, ㄹ

15. 다음 글에 대한 옳은 분석을 <보기>에서 모두 고른 것은?

[3점]

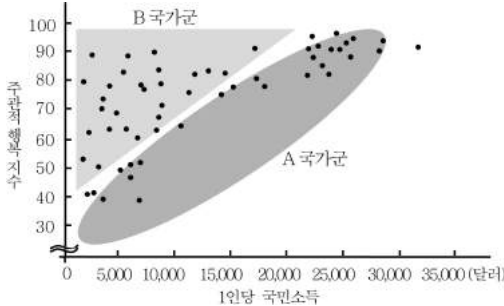
1950년대까지 일본 사회는 일을 안 해도 부유한 소수의 상류층과 아무리 일을 해도 부자가 될 수 없는 다수의 하류층으로 구성된 사회였다. 그러던 것이 이후 20여 년에 걸친 고도 성장으로, 주로 샐러리맨이면서 특별히 재산이 많지 않지만 매년 소득이 늘어 생활 수준이 향상되어 가는 이른바 '신중간층'이 늘어났다. ... (중략) ... 1990년대 중반 이후 중류층의 감소와 함께 하류층도 증가하였다. 그 이유는 사회 전체가 성장 기류를 타고 있을 때에는 개인적으로 상승 의욕이 없어도 자신도 모르는 사이에 상승할 수 있으나, 사회 전체가 성장하기를 멈추면 상승 의욕과 능력을 가진 자만이 상승하고, 그렇지 못한 자는 하강하기 때문이다.

- 미우라 아츠시, 하류사회 -

- < 보 기 > —————
- ㄱ. 1990년대 중반 이후 양극화의 원인은 폐쇄적 계층 구조에 있다.
 - ㄴ. 전후 고도 성장기에 신중간층이 출현한 것은 구조적 이동이다.
 - ㄷ. 사회 계층화 현상을 계급론의 관점에서 파악하는 것이 적절함을 보여준다.
 - ㄹ. 사회가 전체적으로 침체되어 있을 때는 개인의 노력이 수직 이동에 있어 중요하게 작용하였다.

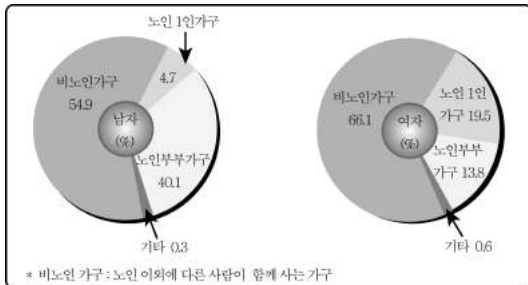
- ① ㄱ, ㄴ ② ㄱ, ㄷ ③ ㄴ, ㄹ
- ④ ㄱ, ㄴ, ㄹ ⑤ ㄴ, ㄷ, ㄹ

16. 그림은 1인당 국민 소득과 주관적 행복의 관계를 보여준다. 이에 대한 분석으로 옳은 것은? [3점]



- ① 1인당 국민 소득과 주관적 행복은 비례한다.
- ② A국가군은 B국가군에 비해 분배의 형평성을 중시한다.
- ③ 1인당 국민 소득이 높은 나라는 대체로 주관적 행복 지수가 높다.
- ④ A국가군은 정신적 요인을, B국가군은 물질적 요인을 삶의 중요 요인으로 여긴다.
- ⑤ B국가군은 A국가군에 비해 1인당 국민 소득이 주관적 행복에 미치는 영향이 크다.

17. 그림은 어느 나라의 노인들이 거주하는 가구의 형태를 조사한 결과이다. 이에 대한 분석으로 옳은 것은?



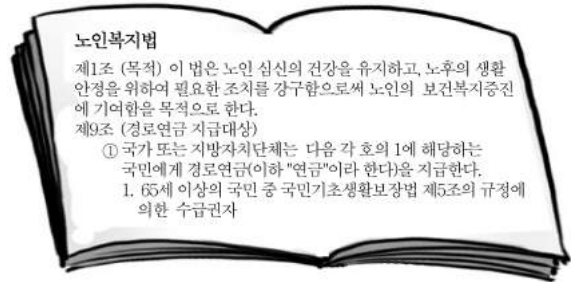
- ① 혼자 사는 노인의 비율은 여자보다 남자가 더 높다.
- ② 장남 아닌 아들 또는 기혼의 딸과 사는 비중이 늘어났다.
- ③ 확대 가족 형태에서 살고 있는 노인이 남녀 모두 과반수이다.
- ④ 노인 혼자 또는 노부부만 따로 사는 노인의 비율이 절반을 웃돈다.
- ⑤ 자녀 없이 노인 부부끼리 살고 있는 비율은 여자보다 남자가 더 높다.

18. 다음 글이 사회 문화 현상의 탐구 자세와 관련하여 시사하는 바로 가장 적절한 것은?

개미는 부지런하기로 유명한 곤충이다. 하지만 어떤 면으로는 배짱만큼 열심히 일하는 것도 아니다. 개미 집단에서 일하는 개미는 전체의 20~30%에 불과하고, 나머지는 까딱도 하지 않는다. 배짱이 수컷은 성충으로 사는 얼마 안 되는 여름 동안 암컷의 마음에 들어 자신의 유전자를 후세에 남길 기회를 얻기 위해 식음을 전폐하고 노래를 부른다. 놀고 있는 것처럼 보이지만 그것이 배짱에게는 중요한 일이다.

- ① 거시적 측면에서 사회를 관찰한다.
- ② 다양한 가치를 조화롭게 받아들인다.
- ③ 현상의 인과 관계보다는 내적 의미를 파악한다.
- ④ 어떤 이론이나 주장도 실증될 때까지는 가설로만 받아들인다.
- ⑤ 개별 학문의 전문적 연구 결과를 종합하여 총체적으로 이해한다.

19. 다음에 나타난 사회 복지 제도에 대한 옳은 설명을 <보기>에서 고른 것은?



- < 보 기 >
- ㄱ. 소득 재분배 효과를 얻을 수 있다.
 - ㄴ. 생산적 복지 이념을 구현하고자 한다.
 - ㄷ. 대상자는 소득에 비례해서 비용을 부담해야 한다.
 - ㄹ. 빈곤의 책임이 사회에 있다는 관점에서 나온 제도이다.

- ① ㄱ, ㄴ ② ㄱ, ㄹ ③ ㄴ, ㄷ ④ ㄴ, ㄹ ⑤ ㄷ, ㄹ

20. 표는 전체 국민과 취약 계층 간의 정보 격차를 보여주는 것이다. 이에 대한 옳은 분석을 <보기>에서 모두 고른 것은? [3점]

| 구분 | 정보 격차 지수*(점) | | 정보 격차 지수 감소폭(점) |
|-------|--------------|-------|-----------------|
| | 2004년 | 2005년 | |
| 장애인 | 42.5 | 34.8 | ▽7.7 |
| 저소득층 | 44.4 | 35.8 | ▽8.6 |
| 농어민 | 66.2 | 58.3 | ▽7.9 |
| 장·노년층 | 59.1 | 50.7 | ▽8.4 |
| 평균** | 55.0 | 46.7 | ▽8.3 |

* 정보 격차 지수 = 전체 국민 정보화 수준(100으로 가정) - 전체 국민 대비 취약 계층 정보화 수준

** 평균은 취약 계층별 규모 비율을 계층별 지수에 가중치로 적용하여 산출한 가중 평균임.

- < 보 기 >
- ㄱ. 저소득층의 정보 격차 지수 감소폭이 가장 크다.
 - ㄴ. 전년에 비해 2005년에 전반적으로 정보 격차가 줄어들었다.
 - ㄷ. 장·노년층의 정보화 수준은 전체 국민의 절반 수준을 웃돈다.
 - ㄹ. 농어민에 대한 정보 격차 해소 대책이 가장 절실하게 요구되고 있다.

- ① ㄱ, ㄴ ② ㄱ, ㄹ ③ ㄴ, ㄷ
- ④ ㄱ, ㄴ, ㄹ ⑤ ㄴ, ㄷ, ㄹ

※ 확인 사항

○ 문제지와 답안지의 해당란을 정확히 기입(표기)했는지 확인하십시오.

여 백 입 니 다

여 백 입 니 다

여 백 입 니 다

여 백 입 니 다