

2006학년도 3월 고3 전국연합학력평가 문제지

제 4 교시

사회 탐구영역(세계지리)

성명

수험번호 3


1

- 먼저 수험생이 선택한 과목의 문제지인지 확인하십시오.
- 문제지에 성명과 수험 번호를 정확히 기입하십시오.
- 답안지에 수험 번호, 선택 과목, 답을 표기할 때는 반드시 '수험생이 지켜야 할 일'에 따라 표기하십시오.
- 문항에 따라 배점이 다르니, 각 물음의 끝에 표시된 배점을 참고하십시오. 3점 문항에만 점수가 표시되어 있습니다. 점수 표시가 없는 문항은 모두 2점씩입니다.

1. 자료의 지역 개발 결과 나타날 수 있는 환경 문제로 타당한 내용을 <보기>에서 모두 고른 것은?

<(가) 지역 개발의 내용>

- 농업 개발: 농작물 재배와 소 방목지 확대
- 광업 개발: 금, 철광석, 망간 등 지하 자원 개발
- 교통 개발: 고속 도로 등의 도로망 확충



- < 보 기 >
- ㄱ. 지구 대기의 온도가 상승한다.
 - ㄴ. 남극 상공의 오존층이 줄어든다.
 - ㄷ. 아마존 강 유역의 생물종이 감소한다.
 - ㄹ. 북아메리카 지역에서 산성비가 증가한다.

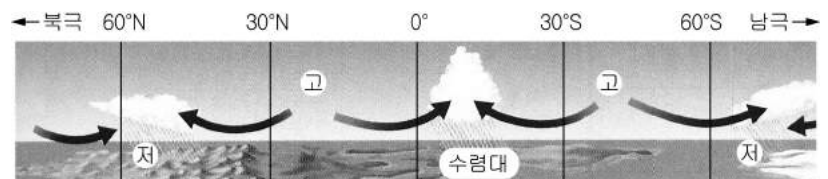
- ① ㄱ, ㄴ ② ㄱ, ㄷ ③ ㄴ, ㄷ ④ ㄴ, ㄹ ⑤ ㄷ, ㄹ

2. 사진은 어느 나라를 여행하면서 찍은 것이다. 이 나라에 대한 설명으로 옳지 않은 것은? [3점]



- ① 농·축산물과 광산물의 세계적인 수출국이다.
- ② 관광이 개발되면서 목축 지대가 확대되었다.
- ③ 남쪽으로 갈수록 연평균 기온이 대체로 낮아진다.
- ④ 국토의 대부분이 건조 지역이며 인구 밀도가 낮다.
- ⑤ 1차 산업 종사자가 많아서 도시화율이 낮은 편이다.


3. 그림은 어느 계절의 기압 배치와 풍향을 모식적으로 나타낸 것이다. 이 시기, 세계 여러 나라의 신문 기사 제목으로 가장 적절한 것은? [3점]



- ① 몽골 - '예년보다 잦은 비, 싱그러운 대초원'
- ② 독일 - '사상 유례 없는 폭염, 엘니뇨 때문인가'
- ③ 일본 - '황금빛으로 넘실대는 들녘, 대풍년 예약'
- ④ 칠레 - '수확기 맞은 포도 농가, 판로 늘어 싱글빙글'
- ⑤ 방글라데시 - '사이클론으로 인한 피해, 대책은 없나'

4. 자료에서 제시하고 있는 작물에 대한 설명으로 옳은 것은? [3점]

<수확 모습>



<처리 과정>

수확	열매가 성숙되어 빨강색을 띠면 수확한다.
↓	
박피	씨를 감싸고 있는 여러 층들을 제거한다.
↓	
볶기	열을 가하여 독특한 맛과 향기를 발현시킨다.
↓	
보관	햇빛이 들지 않는 건조하고 서늘한 곳에 둔다.

- ① 자급적 목적으로 생산된다.
- ② 이동식 경작의 형태로 재배된다.
- ③ 열대 지역의 대표적인 식량 작물이다.
- ④ 결실기에는 건조한 기후 조건이 적합하다.
- ⑤ 소비지와 생산지가 가까워 국제 이동량이 적다.

5. 미국의 어느 도시에 대해 정리한 자료이다. 이 도시에 대한 설명으로 옳지 않은 것은?

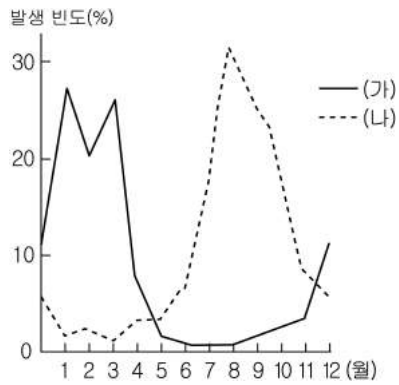
- 세계 금융 거래의 3분의 1 이상이 이루어지고 있다.
- 백인 이외의 인종이 38%로 인종의 도가나라 불린다.
- 국제 연합 등 50여 개의 국제 기구가 자리 잡고 있다.

- ① 세계의 중심지 역할을 하므로 세계 도시라고 한다.
- ② 태평양에 면해 있어 아시아와의 무역량이 많은 편이다.
- ③ 주거지를 비롯하여 각종 기능 지역의 분화가 뚜렷하다.
- ④ 인종 구성이 복잡하며 그에 따른 갈등이 나타나고 있다.
- ⑤ 제조업은 쇠퇴하나 고급 서비스업의 성장은 두드러진다.

2

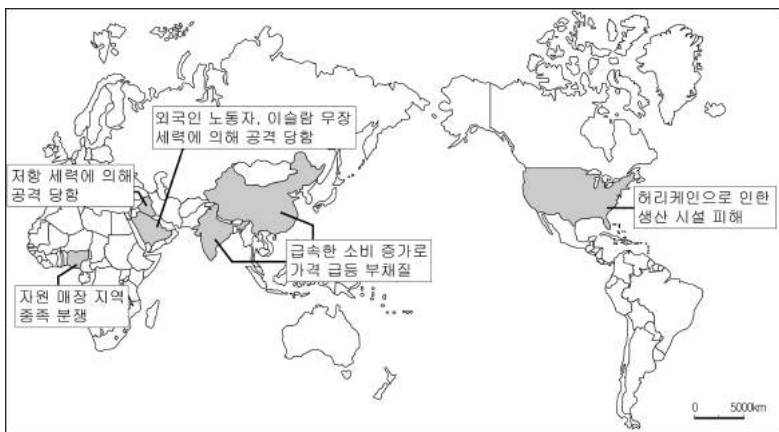
사회탐구영역

6. 그래프는 열대성 저기압 (가), (나)의 월별 발생 빈도를 나타낸 것이다. 이에 대한 설명으로 옳은 것은? [3점]



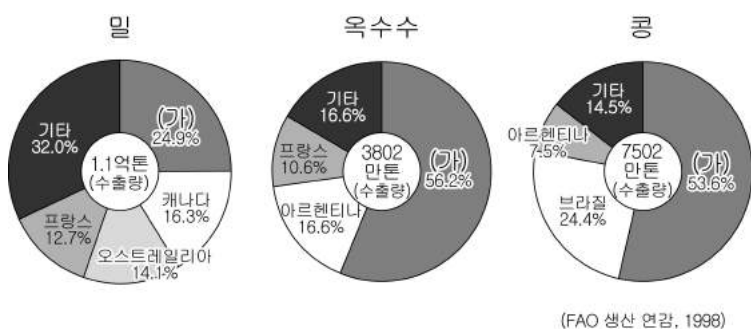
- ① (가)는 (나)보다 연간 발생 횟수가 많다.
- ② (가)와 (나)는 주로 대서양에서 발생한다.
- ③ (가)는 남반구, (나)는 북반구에서 발생한다.
- ④ (가)는 (나)보다 넓은 지역에 피해를 미친다.
- ⑤ (가)는 중위도에서 저위도로, (나)는 저위도에서 중위도로 이동한다.

7. 다음은 어느 에너지 자원과 관련하여 신문에 자주 등장하는 기사를 지도에 정리한 것이다. 이 자원에 대한 설명으로 옳은 것은?



- ① 주로 고기 조산대에 매장되어 있다.
- ② 미래의 대체 에너지로 각광을 받고 있다.
- ③ 편재성이 크기 때문에 국제 이동량이 많다.
- ④ 미량의 연료로 다량의 에너지를 얻을 수 있다.
- ⑤ 산업 혁명 때부터 주 에너지원으로 이용되고 있다.

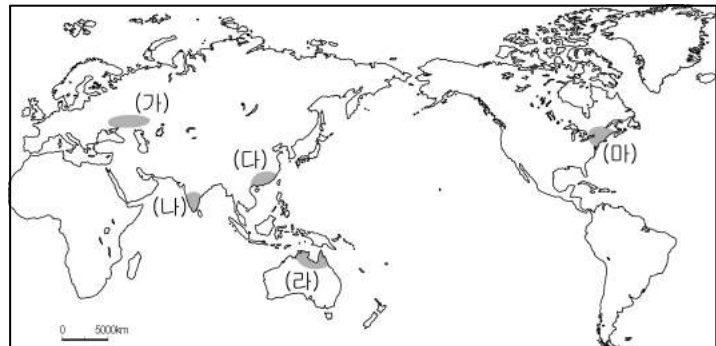
8. 그래프는 세계 주요 곡물의 국가별 수출 점유율을 나타낸 것이다. (가) 국가의 농업에 관한 설명으로 옳지 않은 것은? [3점]



- ① 농장주들은 농민이자 기업가로서의 태도를 보인다.
- ② 작황에 따라 국제 곡물 시세에 미치는 영향이 크다.
- ③ 기계화 영농으로 단위 면적당 노동력 투입량이 적다.
- ④ 시장 접근성과 기후 조건에 따라 농업 지대가 분화되었다.
- ⑤ 동부 해안에서 내륙으로 갈수록 농가당 경지 규모가 작아진다.

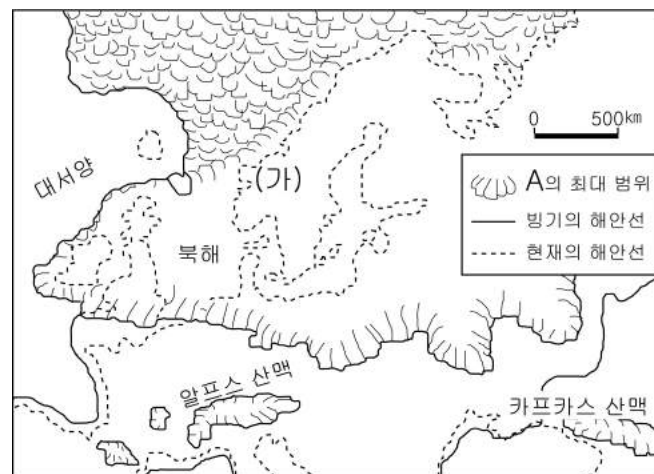
9. 다음 글은 어느 식량 작물의 재배 조건과 특성을 설명한 것이다. 이 작물의 주산지를 지도에서 찾은 것은? [3점]

생육 기간은 서늘하고 추수기는 건조해야 하며, 연 강수량은 350~750mm 정도가 알맞다. 내한성과 내건성은 뛰어나, 고온에는 약하다.



- ① (가) ② (나) ③ (다) ④ (라) ⑤ (마)

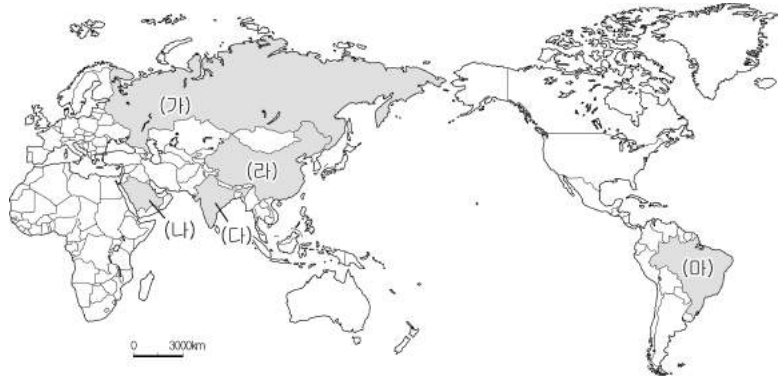
10. 지도의 범례에 표시된 A의 침식으로 (가) 지역에 발달한 지형으로 옳은 것은?



- ①
- ②
- ③
- ④
- ⑤

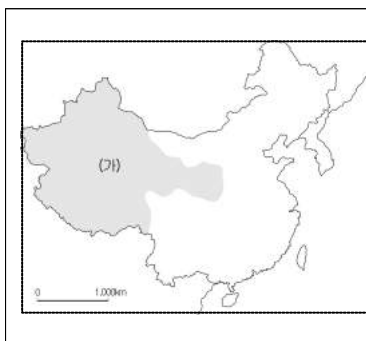
사회 탐구 영역

11. 지도에 표시된 (가)~(마) 국가에 대한 설명 중 옳은 것은?



- ① (가) - 하나의 표준 경선을 사용하여 표준시를 정하고 있다.
- ② (나) - 고대 문명이 발생한 나라로 연중 기후가 온화하다.
- ③ (다) - 불교의 발생지로 불교도의 비율이 가장 높다.
- ④ (라) - 해안 도시를 중심으로 경제가 급성장하고 있다.
- ⑤ (마) - 우리나라와 자유무역협정(FTA)을 체결하였다.

12. 자료의 ㉠에 들어갈 수 있는 내용으로 가장 거리가 먼 것은?



중국 정부는 지도에 검게 표시된 (가)지역의 성장 잠재력을 깨닫고 이 지역에 대한 개발을 대대적으로 추진하기 시작하였다. 그러나 이 지역은 ㉠ 과 같은 어려움이 많아 개발 정책의 성공이 낙관적이지만은 않다.

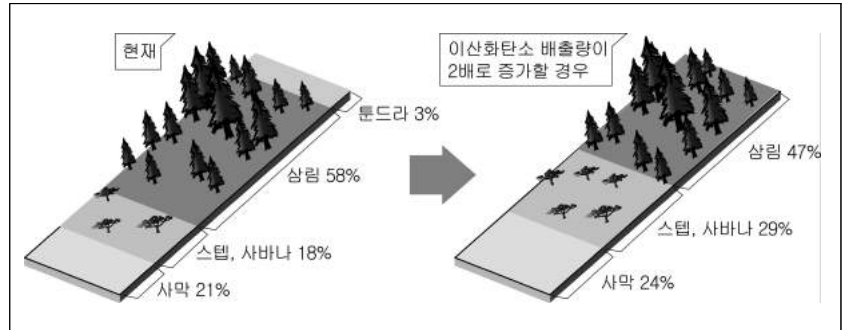
- ① 산지와 사막이 많아 자연 환경이 열악하다는 점
- ② 사회 간접 자본에 대한 투자비가 많이 든다는 점
- ③ 석유, 석탄, 천연가스 등 지하 자원이 부족하다는 점
- ④ 주요 시장과의 거리가 멀어 운송비가 많이 든다는 점
- ⑤ 소수 민족 거주지가 많아 민족 문제가 표출될 수 있다는 점

13. 자료는 어느 지역을 여행하기 위해 인터넷으로 검색한 것이다. 이 지역에 대한 보다 자세한 정보를 얻을 수 있는 조사 내용으로 적절한 것은?



- ① 올리브 농장의 분포 특색을 알아본다.
- ② 밀림에서 발생하는 풍토병을 조사한다.
- ③ 연중 스콜이 내리는 지역의 식생을 조사한다.
- ④ 오아시스에서 재배되는 주요 작물을 조사한다.
- ⑤ 순록을 유목하는 사람들의 생활 방식을 조사한다.

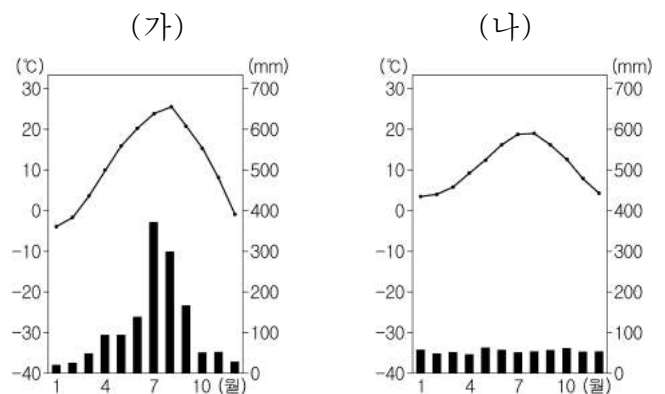
14. 자료를 보고 학생들이 제시한 의견으로 타당한 내용을 <보기>에서 모두 고른 것은? [3점]



- < 보 기 >
- ㄱ. 갑: 툰드라 지대가 타이가 지대로 변할 것 같아.
 - ㄴ. 을: 건조 지역과 인접해 있는 지중해 연안 지대의 사막화가 우려돼.
 - ㄷ. 병: 고산 지대에서는 만년설이 녹으므로 생태계가 크게 변화할 거야.
 - ㄹ. 정: 모든 위도대에서 강수량이 감소하여 지구촌 물 부족 문제가 심화될 거야.

- ① ㄱ, ㄴ ② ㄱ, ㄷ ③ ㄴ, ㄷ
- ④ ㄱ, ㄴ, ㄷ ⑤ ㄴ, ㄷ, ㄹ

15. 자료는 어느 두 지역의 기후 그래프이다. (가), (나) 지역에 대하여 학생들이 제시한 의견으로 가장 타당한 것은? [3점]

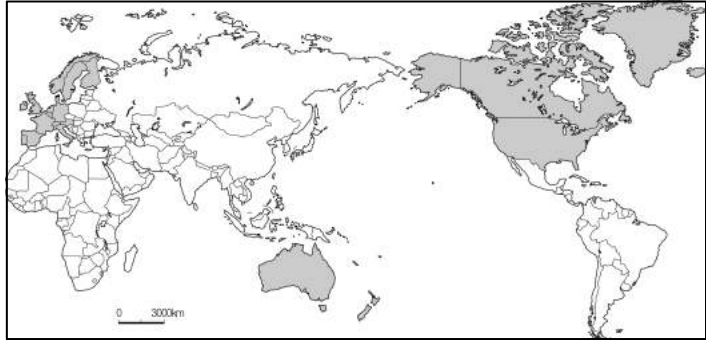


- ① 갑 - 여름철 물 부족 문제는 (가) 지역이 더 심할 거야.
- ② 을 - 계절에 따른 풍향의 변화는 (나) 지역이 더 뚜렷할 거야.
- ③ 병 - (가) 지역은 하천의 유량 변동이 작아 물 자원 이용률이 높을 거야.
- ④ 정 - 냉·난방 시설을 설치할 필요성은 (나) 지역이 더 클 것 같아.
- ⑤ 무 - (나) 지역은 혼합 농업의 발달에 적합한 기후 조건을 갖추고 있어.

4

사회 탐구 영역

16. 지도에 검게 표시된 국가들의 공통적인 특성으로 가장 적절한 것은?



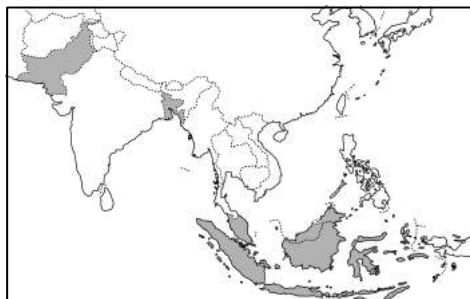
- ① 중주 도시화 현상이 나타나고 있다.
- ② 고령화 현상으로 노년층에 대한 부양 부담이 크다.
- ③ 개신교도들이 사회의 주류 세력을 형성하고 있다.
- ④ 지하 자원이 풍부하여 일찍 산업화가 이루어졌다.
- ⑤ 청정 기술의 발달로 1인당 이산화탄소 배출량이 적다.

17. 다음 글은 지도에 검게 표시한 지역의 자연 환경에 대한 것이다. 밑줄 친 ㉠~㉣의 내용 중 옳지 않은 것은?

이 지역은 ㉠삼림의 발달은 미약하나 초원이 발달되어 있다. 이는 ㉡아열대 고압대의 주기적 이동으로 ㉢건기와 우기가 뚜렷하기 때문이다. 건기가 되어 풀이 바짝 마르게 되면 누, 영양, 얼룩말과 같은 초식 동물은 ㉣신선한 풀을 찾아 대이동을 하였다가 우기가 되어 새 풀이 자라나면 다시 떼를 지어 찾아온다. 이러한 기후 환경 하에서 이 지역에는 ㉤체르노젱이라는 비옥한 흑토가 형성되었다.

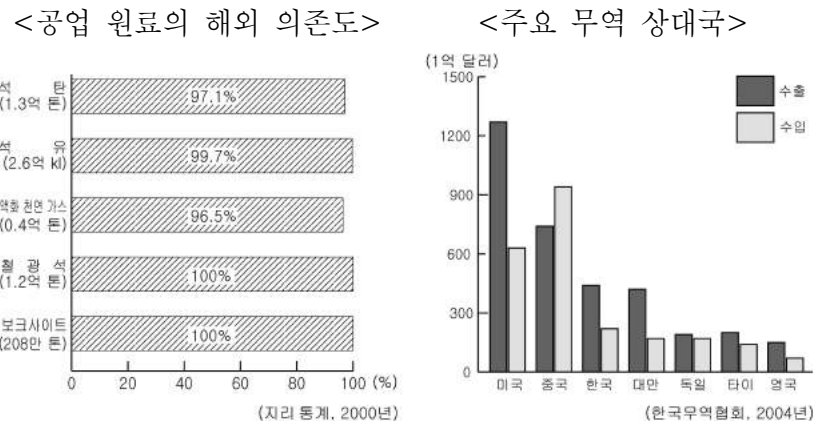
- ① ㉠
- ② ㉡
- ③ ㉢
- ④ ㉣
- ⑤ ㉤

18. 지도에 검게 표시한 국가들의 공통적인 특성을 옳게 설명한 것은?



- ① 세계적인 쌀 수출국이다.
- ② 윌리윌리의 피해가 심하다.
- ③ 화교들이 경제권을 장악하고 있다.
- ④ 이슬람 교를 믿는 주민의 비율이 높다.
- ⑤ 석유 수출국 기구(OPEC)의 회원국이다.

19. 다음은 아시아의 어느 국가에 관한 통계 자료이다. 이 국가에 대해 옳게 추론한 내용을 <보기>에서 모두 고른 것은? [3점]



< 보 기 >

ㄱ. 국내의 외환 보유고가 부족한 편이다.
 ㄴ. 다른 나라와의 무역 마찰 가능성이 높다.
 ㄷ. 해안 지역을 중심으로 가공 무역이 발달하였다.
 ㄹ. 자원 부족으로 전력은 대부분 재생 자원에서 얻는다.

- ① ㄱ, ㄴ
- ② ㄱ, ㄹ
- ③ ㄴ, ㄷ
- ④ ㄴ, ㄹ
- ⑤ ㄷ, ㄹ

20. 낱말 퍼즐의 4번에 들어갈 용어를 설명한 내용으로 옳은 것은? [3점]

		1	2		
		플			
		3			사
팜					바
4	페				나
로					

<가로 열쇠>

1. 건조 지역의 내륙 분지에 강우시 일시적으로 발달한 호수.

3. 석회암이 풍화된 토양으로 적색을 띤. 지중해 연안에 널리 분포하고 과수 재배가 활발.

4. _____.

<세로 열쇠>

2. 열대 습윤 지역에 분포하는 토양. 강산성으로 농경에 부적합.

- ① 하천의 범람으로 토사가 쌓여 이루어진 지형
- ② 하천 침식곡이 침수되어 만들어진 복잡한 해안
- ③ 유동성이 큰 용암이 분출하여 형성된 평탄한 대지
- ④ 지하수에 의한 석회암의 용식 작용으로 형성된 동굴
- ⑤ 포상 홍수 침식으로 건조 지역에 발달한 경사가 완만한 지형

※ 확인 사항
 ○ 문제지와 답안지의 해당란을 정확히 기입(표기)했는지 확인하시오.