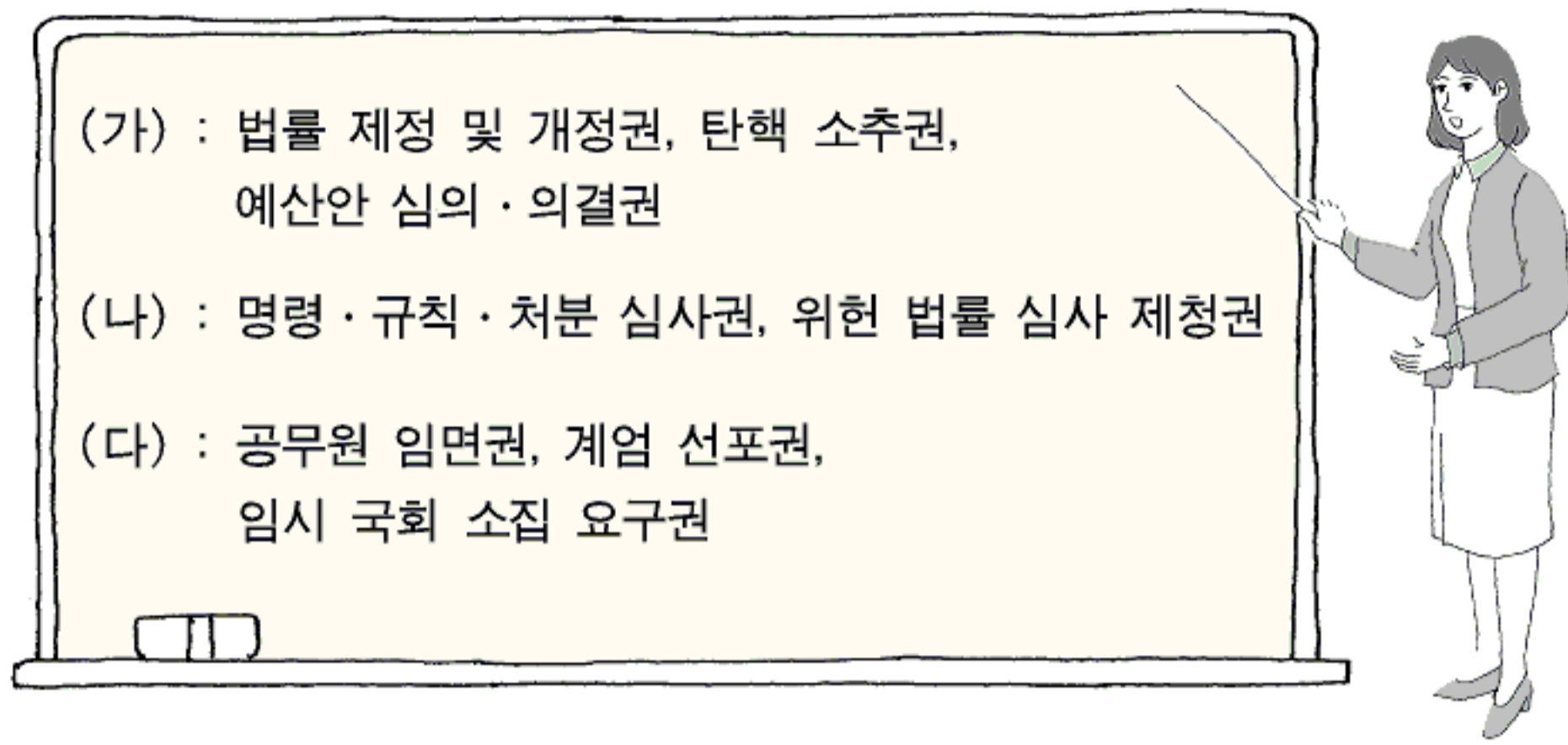






5. 다음은 정치 수업의 한 장면이다. 우리 나라의 헌법 기관인 (가)~(다)에 대한 설명으로 옳은 것은?



- ① (가)와 (나)의 헌법 기관 구성권은 인정되지 않는다.
- ② (나)는 (가)에 비해 국민의 의사를 수렴하는 기능이 약하다.
- ③ (나)는 (다)에 비해 적극적인 국가 기능을 수행한다.
- ④ (다)의 권한에 대한 (가)의 감시 및 견제 필요성은 오늘날 감소되고 있다.
- ⑤ (나)는 (가), (다)에 비해 헌법상 우월한 지위를 가진다.

6. 다음 글과 관련한 대화 내용으로 적절하지 않은 것은?

○ 방사성 폐기물 처분 시설(방폐장) 설치 문제로 ○○ 주민들 대다수는 생업을 포기하고 시위에 참가했다. ‘○○ 사태’라는 말로 표현될 만큼 정부는 곤욕을 치렀다.

○ 방폐장 설치 문제가 새로운 국면에 접어들었다. 산업 자원부가 유치 지역에 대한 전폭적인 지원책을 제시함에 따라 지역 간 경쟁 구도가 형성되었다. 유치 지역에 총 2조 1,000억 원을 투자하는 각종 지원 사업이 획기적인 지역 발전을 가져 올 것으로 기대되었기 때문이다.

○ 산업 자원부 장관은 부지 안정성 및 사업 추진 여건을 평가한 후 방폐장 유치 신청서를 제출한 지역들을 후보지로서 모두 적합하다고 판정하고 주민 투표를 요구했다. 그래서 이 지역들은 주민 투표를 실시하기로 하였다.

- ① 갑 : 주민들의 적극적인 관심과 참여가 필요해.
- ② 을 : 주민 투표 과정의 투명성과 공정성이 요구되었군.
- ③ 병 : 문제 해결을 위해 적절한 보상책이 모색되고 있군.
- ④ 정 : 지역 사회 내에서 충분한 토론과 조정이 선행되어야 해.
- ⑤ 무 : 정부 개입 없이 각 지역 주민 간 협의로 해결하고 있군.

7. 다음의 밑줄 친 ‘이 제도’의 문제점을 해결하기 위한 주장으로 적절하지 않은 것은?

근대 국가는 넓은 영토와 많은 인구, 그리고 복잡한 기능을 가졌기 때문에 모든 국민의 정치 참여가 기술적으로 곤란하였다. 이에 새로운 정치 제도의 도입이 필요하게 되어 고안된 제도가 오늘날 전 세계 대부분의 국가에서 채택되고 있다. 하지만 이 제도는 국민이 투표에 의하여 권력을 위임하는 방식이기 때문에 국민이 대표의 행동 속에서 자기의 의사를 찾아낼 수 없으면 양자의 관계는 신뢰를 상실할 수 있다.

- ① 갑 : 대표 선출권이 있다면 소환권도 있어야 해!
- ② 을 : 국민이 직접 법률안을 제출할 수 있어야 해!
- ③ 병 : 국가의 중요 정책은 국민 투표에 붙여야 해!
- ④ 정 : 전자 민주주의 제도와 같은 보완 장치가 필요해!
- ⑤ 무 : 비례 대표제를 확대 실시하여 대표성을 높여야 해!

8. 표는 A, B 두 사회의 정치적 쟁점별 유권자 집단의 의견을 나타낸 자료이다. 이에 대한 적절한 설명을 <보기>에서 모두 고른 것은? [3점]

<A 사회>

쟁점 \ 유권자 집단	가 (35%)	나 (30%)	다 (15%)	라 (20%)
남녀 동수 공천제	찬성		반대	
복지 예산 확대	찬성		반대	

<B 사회>

쟁점 \ 유권자 집단	갑 (25%)	을 (20%)	병 (20%)	정 (20%)	무 (15%)
남녀 동수 공천제	찬성		반대		
복지 예산 확대	찬성	반대	찬성		

\* 유권자의 정치적 의견은 두 쟁점에 의해서만 결정되는 것으로 전제한다.

<보 기>

ㄱ. A 사회는 B 사회에 비해 유권자 집단의 정치적 갈등 구조가 단순하다.

ㄴ. A 사회는 B 사회에 비해 여성 정치 참여의 중요성에 대한 인식도가 낮다.

ㄷ. B 사회는 A 사회에 비해 사회적 약자 보호 관련 정책에 대한 지지도가 높다.

ㄹ. 각 사회에서 복지를 중요시하는 유권자들의 비율이 상대적으로 높다.

- ① ㄱ, ㄴ
- ② ㄱ, ㄹ
- ③ ㄴ, ㄷ
- ④ ㄱ, ㄷ, ㄹ
- ⑤ ㄴ, ㄷ, ㄹ

9. 다음 글에 나타난 정치 제도의 특성을 <보기>에서 모두 고른 것은? [3점]

A국은 의원 내각제를 채택하고 있으며 전국을 하나의 선거구로 하여 총 600명의 하원 의원을 선출한다. 유권자들은 자신이 원하는 정당이 제시한 하원 의원 후보자 명부에서 지지 후보를 선택하여 한 표를 행사한다. 우리 나라의 선거 제도와는 달리, A국에서 각 정당은 우선 득표율에 따라 의석수를 배정받고, 각 정당의 당선자는 정당 내 후보들의 득표순에 따라 결정된다. 최근 선거 결과, 하원에 의석을 가지고 있는 정당이 15개이며 최다 의석을 가진 집권당의 경우 전체 의석의 17% 만을 차지하고 있다. 한편 의원들의 당적 이탈이 자유로워 원내 정당의 이합집산(離合集散)이 빈번히 발생하는 모습을 보여주고 있다.

<보 기>

ㄱ. 책임 정치를 실현하고 정국 안정이 가능하다.

ㄴ. 다수 정당으로 분립되어 연립 내각이 구성된다.

ㄷ. 후보는 당선을 위해 개인 선거 운동이 필요하다.

ㄹ. 득표율과 의석율의 차이가 상대적으로 적게 발생한다.

ㅁ. 우리 나라의 전국구 의원 당선자 결정 방식에 비해 유권자의 후보 선택권이 제한된다.

- ① ㄱ, ㅁ
- ② ㄴ, ㄷ
- ③ ㄱ, ㄷ, ㅁ
- ④ ㄴ, ㄷ, ㄹ
- ⑤ ㄴ, ㄹ, ㅁ



10. 그래프는 주요 대외 정책에 대한 어느 나라 국민의 의견을 나타내고 있다. 이에 대한 해석으로 적절하지 않은 것은?



- ① 국제 사회의 공동 발전에 기여하려는 태도를 지향하고 있다.
- ② 국가 간 협력을 강조하는 국제주의적 태도를 나타내고 있다.
- ③ 국제 사회에서 남북 문제 해결을 위한 관심을 나타내고 있다.
- ④ 상호주의에 기초하여 국가 간의 세력 균형을 지향하고 있다.
- ⑤ 인종적, 민족적 배타성을 극복하려는 태도를 나타내고 있다.

11. 표는 A, B 두 국가를 대상으로 실시한 설문 조사 결과이다. 이에 대한 적절한 해석을 <보기>에서 모두 고른 것은? [3점]

(긍정적 답변 비율, 단위: %)

설문항목	A국	B국
공명 선거 캠페인에 참가한 경험이 있다.	80	45
시민 단체에 가입하여 활동하고 있다.	75	35
소득 증대를 위해서는 공해 산업도 불가피하다.	40	70
정치인들이 자신의 책무를 잘 수행하고 있다.	65	40
대다수가 반대하는 정치적 견해이면 발표를 허용해서는 안 된다.	35	75

<보 기>

- ㄱ. A국은 B국에 비해 참여형 정치 문화에 가깝다.
- ㄴ. A국은 B국에 비해 경제 개발을 더 중요시 한다.
- ㄷ. B국은 A국에 비해 정치인에 대한 신뢰도가 낮다.
- ㄹ. B국은 A국에 비해 관용적인 시민 의식을 가지고 있다.
- ㅁ. A국과 B국의 시민 사회 활성화 수준은 동일하다.

- ① ㄱ, ㄴ                      ② ㄱ, ㄷ                      ③ ㄱ, ㄷ, ㄹ
- ④ ㄴ, ㄹ, ㅁ                ⑤ ㄷ, ㄹ, ㅁ

12. 다음 글을 토대로 가능한 추론을 <보기>에서 모두 고른 것은?

○ 국제 사면 위원회는 세계 각 국의 개인의 자유에 대한 탄압과 양심수들에 대한 가혹 행위, 그리고 여성과 아동들의 인권 문제 등을 고발하고 그 해결을 위해 노력하고 있다.

○ 국제 연합(UN)은 대표적인 정부 간 국제 기구로서 각 국가들의 국제 사회 활동을 진 세계적 차원에서 중재하고 조정함으로써 국제 평화와 질서 유지에 기여하고 있다. 최근에는 다양한 비정부 기구가 국제 사회의 평화와 안전을 위한 활동에 자발적으로 참여하고 있다.

<보 기>

- ㄱ. 국제 관계에서 국민 국가의 영향력이 증대하고 있다.
- ㄴ. 국제 관계에서 비정부 기구들의 활동이 증가하고 있다.
- ㄷ. 국제 사회에서 인류의 보편적 가치에 대한 관심이 증대하고 있다.
- ㄹ. 국제 비정부 기구는 국제 문제 해결에 있어서 강제적 관할권을 행사하고 있다.

- ① ㄱ, ㄴ    ② ㄱ, ㄷ    ③ ㄴ, ㄷ    ④ ㄴ, ㄹ    ⑤ ㄷ, ㄹ

[13~14] 인간의 기본권에 대한 다음 글을 읽고 물음에 답하시오.

영국의 권리 장전 제1조는 “국왕이 의회의 동의를 받지 않고 왕권으로 법의 효력을 정지하거나 법의 집행을 정지할 수 있는 권력이 있다는 주장은 위법이다.”라고 규정하고 있으며, 프랑스 인권 선언 제2조는 “모든 정치적 결사의 목적은, 소멸될 수 없는 타고난 인간의 권리를 유지하는 데 있다. 이들 권리는 자유권, 재산권, 안전권 및 압제에 대한 저항권이다.”라고 명시하고 있다. 한편, 우리 나라 6월 민주 항쟁 시 발표된 결의문은 “이 땅에서 권력에 의한 고문, 테러, 불법 연행, 불법 연금 등 여하한 인권 유린도 영원히 추방되어야 한다는 것은 그 누구도 거스를 수 없는 국민적 요구이다.”라고 선언하고 있다.

13. 위 글에서 도출할 수 있는 내용으로 적절하지 않은 것은? [3점]

- ① 인간의 권리는 사회 계약으로부터 유래한다.
- ② 의회를 통하여 왕권을 제한하고 견제한다.
- ③ 국민의 권리를 제한할 경우에는 반드시 법에 근거한다.
- ④ 인간은 양도하거나 빼앗길 수 없는 일정한 권리를 가진다.
- ⑤ 국가 권력의 불법적 행사에 대하여 복종을 거부할 수 있다.

14. 다음 우리 나라 헌법 조항 중 위 내용과 거리가 먼 것은?

- ① 모든 국민의 재산권은 보장된다.
- ② 모든 국민은 신체의 자유를 가진다.
- ③ 모든 국민은 건강하고 쾌적한 환경에서 생활할 권리를 가진다.
- ④ 국민의 자유와 권리는 헌법에 열거되지 아니한 이유로 경시되지 아니한다.
- ⑤ 모든 국민은 인간으로서의 존엄과 가치를 가지며, 행복을 추구할 권리를 가진다.

15. 표는 주요 정당 지지와 연령대의 관계에 대한 하나의 조사 결과를 두 가지 형태로 제시한 것이다. 이에 대한 해석으로 적절하지 않은 것은? [3점]

(단위: %)

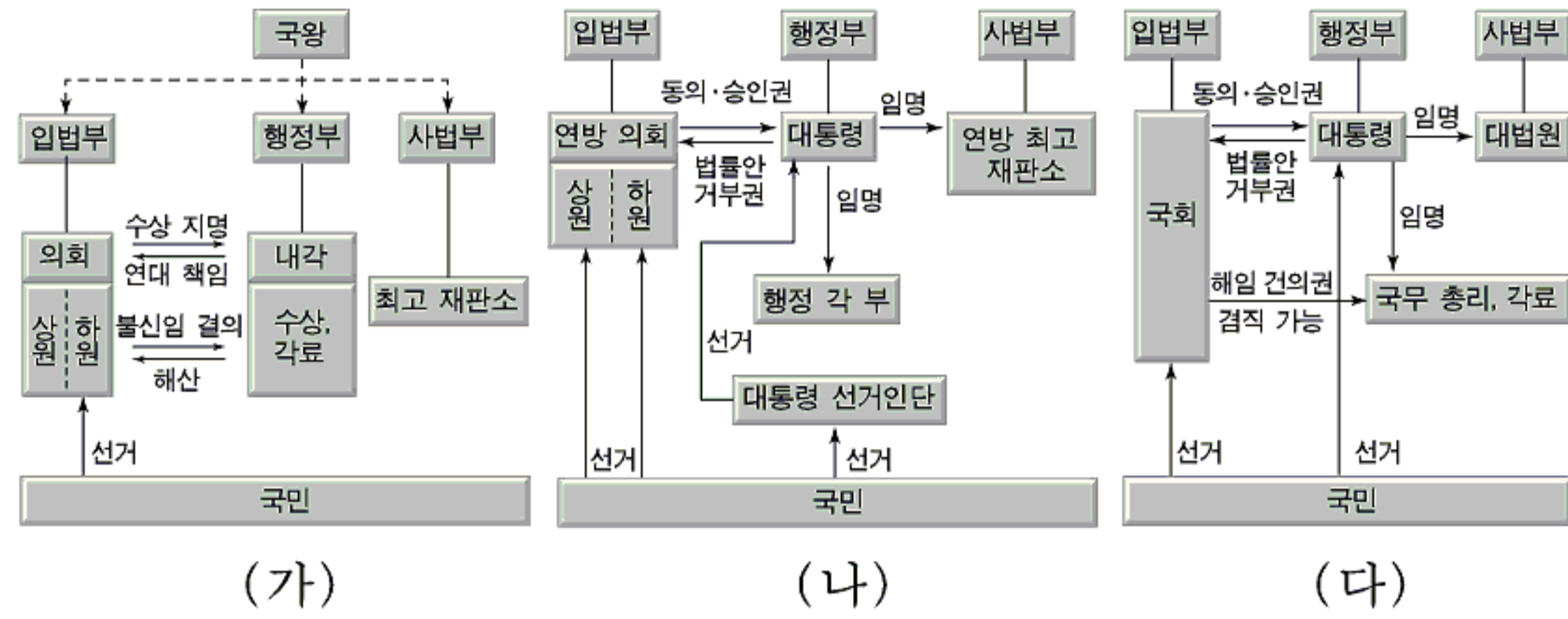
연령대 정당	20대	30대	40대	50대 이상	합 계
A당	9.9	15.5	30.4	44.2	100
B당	23.1	31.2	20.2	25.5	100
C당	25.7	29.1	30.6	14.6	100

연령대 정당	20대	30대	40대	50대 이상
A당	18.9	21.8	42.8	51.4
B당	61.6	61.9	40.1	41.8
C당	19.5	16.3	17.1	6.8
합 계	100	100	100	100

- ① C당에 대한 지지율이 전체적으로 가장 높게 나타났다.
- ② 20대에서는 B당에 대한 지지율이 가장 높게 나타났다.
- ③ 연령대별로 각 정당에 대한 지지율이 다르게 나타났다.
- ④ 연령대가 높을수록 A당에 대한 지지율이 높게 나타났다.
- ⑤ B당에 대한 지지자 중 30대의 비율이 가장 높게 나타났다.

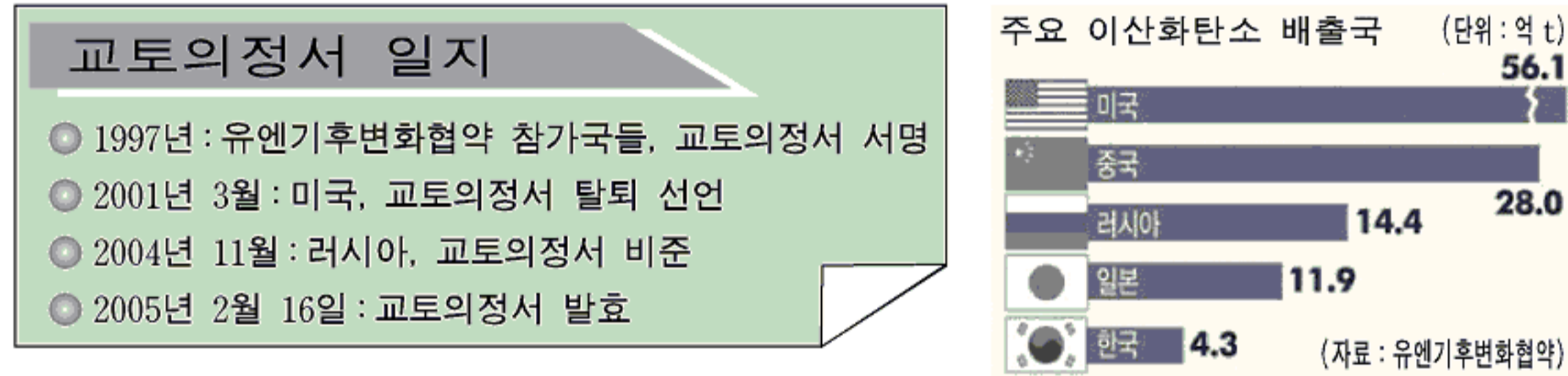


16. 그림 (가)~(다)의 정부 형태에 대한 설명으로 가장 적절한 것은? [3점]



- ① (가)는 (나)에 비해 견제와 균형의 원리에 충실하다.
- ② (나)는 (가)에 비해 정책의 계속성 확보가 용이하다.
- ③ (나)는 (가), (다)보다 민주적이다.
- ④ (나)는 (다)를 기반으로 (가)를 가미한 것이다.
- ⑤ (다)는 (가), (나)에 비해 권력 융합적이다.

17. 다음은 정치 수업 시간에 제시된 자료이다. 이를 토대로 학생들이 탐구할 수행 과제로 적절하지 않은 것은?



환경 난민이란 '사막화, 해수면 상승 등 각종 환경적 이유로 생활 터전을 떠나 떠도는 사람들'을 말한다. 국제 적십자사는 자연 재해로 지금까지 2,500만 명의 환경 난민이 발생했고, 이는 전쟁 난민 수보다 더 많은 것이라고 발표한 바 있다.

- ① 갑 : 교토의정서 관련 행위 주체 파악 및 역할 조사
- ② 을 : 지구 온난화에 따른 환경 변화와 피해 사례 조사
- ③ 병 : 기후 변화 협약 당사국의 이행 과정에 대한 조사
- ④ 정 : 주요 이산화탄소 배출국의 에너지 소비 실태 조사
- ⑤ 무 : 국제 적십자사 회원국들의 가입 배경에 대한 조사

18. 다음의 밑줄 친 '이것'과 관련하여 적절한 설명을 <보기>에서 모두 고른 것은?

제도화된 권리로서의 인권 보장은 일반적으로 영국의 '이것'을 기원으로 본다. 이것은 실질적으로 귀족의 신분적 특권과 자유를 보장하여 특정 계급의 이익을 도모하는 한계를 가지고 있다. 하지만 문서에 의해 시민적 자유의 핵심적인 내용이 규정되고 있다는 점에서 의미가 크다. 특히 주목할 것은 “국법과 동료(같은 신분을 가진 사람)에 의한 적법한 재판에 의하지 않고는 신체의 자유를 침해당하지 않는다.”라고 규정한 제39조이다.

<보 기>

- ㄱ. 대중을 정치 주체로 하는 현대 민주주의와 부합한다.
- ㄴ. 영국의 법치주의와 민주 정치 발전의 토대가 되었다.
- ㄷ. 국가 권력의 작용에 있어 절차와 내용의 한계를 규정하였다.
- ㄹ. 당시 사회 전반에 천부 인권 사상이 실질적으로 구현되도록 작용하였다.

- ① ㄱ, ㄷ    ② ㄱ, ㄹ    ③ ㄴ, ㄷ    ④ ㄴ, ㄹ    ⑤ ㄷ, ㄹ

19. 다음에 설명된 투표 방식이 초래할 수 있는 문제점을 <보기>에서 모두 고른 것은? [3점]

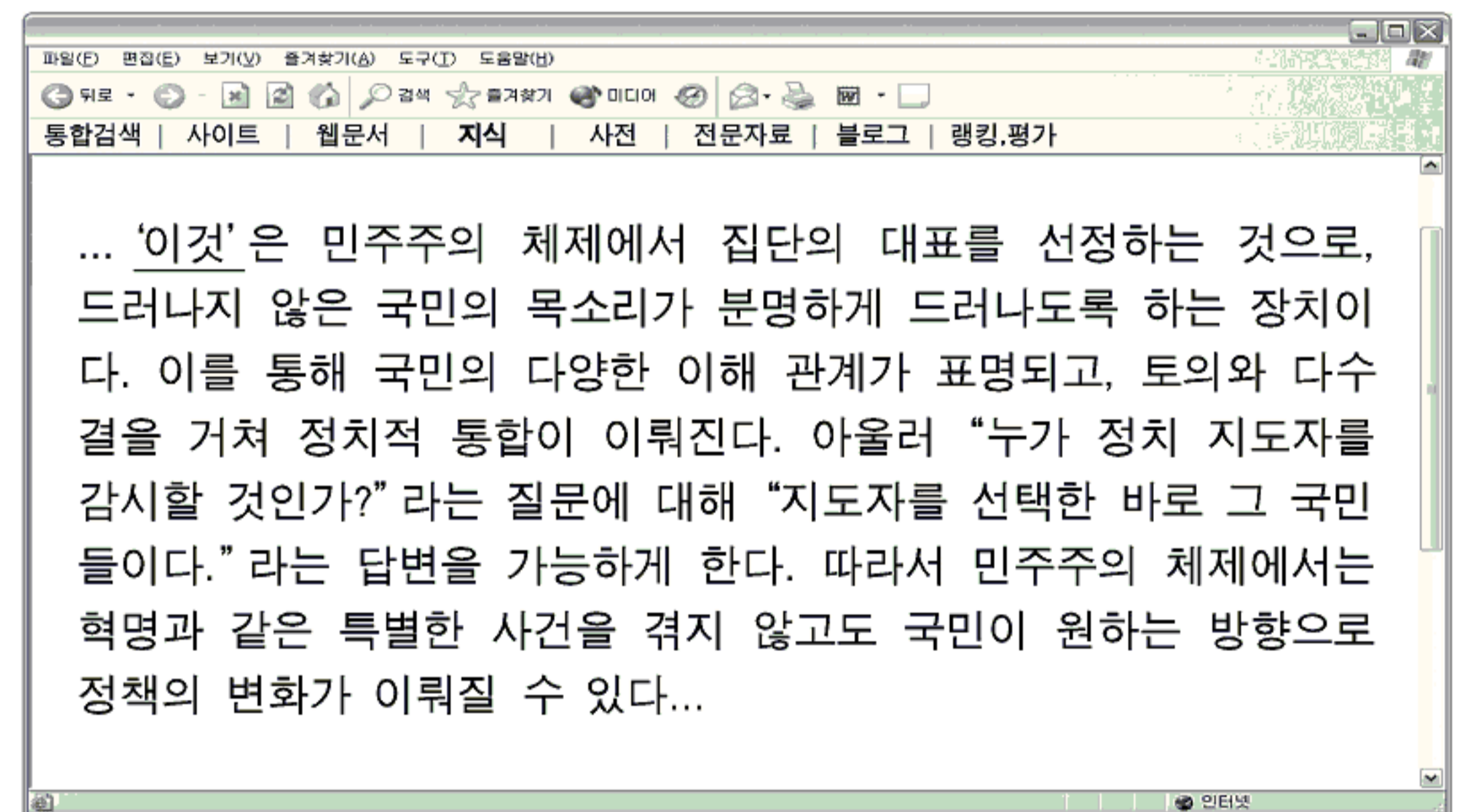
투표는 선거일에 투표소에서 하는 것이 일반적이다. '거소(居所) 투표'는 선거일에 투표소에 가지 못하는 경우 선거일 전에 미리 투표하는 부재자 투표 방식의 하나이다. 현행 법률은 중전과 달리 부재자 투표자를 '선거 당일 투표할 수 없는 사정이 있는 사람'으로 규정함으로써 그 동안 부득이한 경우에만 예외적으로 인정되던 거소 투표 대상자의 범위를 확대하였다. 따라서 부재자 신고를 하면 부재자 투표소에 가지 않고도 투표를 할 수 있게 되어 투표 참여율을 높이는 효과가 있을 것으로 기대된다. 해당 선거 관리 위원회로부터 우편으로 투표 용지를 받은 유권자는 현재 생활하고 있는 곳, 즉 집이나 원하는 장소에서 지지하는 후보자에게 기표한 뒤 정해진 일시까지 해당 선관위에 도착하도록 송부하면 된다.

<보 기>

- ㄱ. 표의 등가성 원칙이 훼손될 수 있다.
- ㄴ. 유권자의 투표권이 타인에 의해 행사될 수 있다.
- ㄷ. 거소 투표를 신청한 유권자의 투표 참여는 강제된다.
- ㄹ. 투표자가 누구에게 투표했는지 노출될 가능성이 높다.
- ㅁ. 사회 계층에 따라 거소 투표 신청권이 제한될 수 있다.

- ① ㄱ, ㄷ    ② ㄴ, ㄹ    ③ ㄱ, ㄴ, ㅁ
- ④ ㄴ, ㄷ, ㄹ    ⑤ ㄷ, ㄹ, ㅁ

20. 다음은 수업 시간에 활용한 인터넷 검색 화면이다. 밑줄 친 '이것'에 대한 적절한 설명을 <보기>에서 모두 고른 것은?



<보 기>

- ㄱ. 정치 과정 상 투입보다 산출에 해당된다.
- ㄴ. 대의제의 문제점을 해결하기 위한 것이다.
- ㄷ. 국가의 통치 권력에 정당성과 합법성을 부여한다.
- ㄹ. 대표의 정치 행위를 평가함으로써 대표를 통제한다.

- ① ㄱ, ㄴ    ② ㄱ, ㄷ    ③ ㄴ, ㄷ    ④ ㄴ, ㄹ    ⑤ ㄷ, ㄹ

\* 확인 사항

- 답안지의 해당란에 필요한 내용을 정확히 기입(표기)했는지 확인 하시오.