

제 4 교시

사회탐구영역(세계사)

성명

수험 번호

- 먼저 수험생이 선택한 과목의 문제지인지 확인하십시오.
- 선택 과목은 반드시 응시 원서 작성시 자신이 선택한 과목의 문제를 풀어야 합니다.
- 문제지에 성명과 수험 번호를 정확히 기입하십시오.
- 수험표에 표기된 선택 1, 선택 2, 선택 3, 선택 4의 과목에 대한 문제를 순서대로 풀어 해당란에 답을 표기하십시오.
- 문항에 따라 배점이 다르니, 각 물음의 끝에 표시된 배점을 참고하십시오. 3점 문항에만 점수가 표시되어 있습니다. 점수 표시가 없는 문항은 모두 2점입니다.

1. 다음 사료를 적절하게 해석한 것을 <보기>에서 모두 고른 것은? [3점]

호족은 대토지를 소유하였고 저수지를 만들어 논밭에 물을 댔다. 연못에는 물고기를 키웠으며 가축을 길러서 구하고자 하는 것을 모두 자급자족하였다. 재산이 많아 인척을 구휼하였고 은혜가 향리(鄕里)에 미쳤다. 난리 때에는 친척을 모아 성과 연못을 만들고 스스로를 지켰다.

-후한서 변광전-

<보기>

- ㄱ. 주된 산업은 어업과 목축업이었다.
- ㄴ. 자위 조직을 갖추어 향리를 보호하였다.
- ㄷ. 여러 상품과 물자를 이웃과 자주 교역하였다.
- ㄹ. 재난 때 도와주어 향리에서 좋은 평판을 얻었다.

- ① ㄱ, ㄴ ② ㄱ, ㄷ ③ ㄴ, ㄷ ④ ㄴ, ㄹ ⑤ ㄷ, ㄹ

2. 다음 자료는 고대 그리스의 두 폴리스에 대한 설명이다. (가)와 (나)의 특징을 바르게 짝지은 것은? [3점]

(가) 소년은 어려서부터 부모와 떨어져 육체적 훈련과 애국심 교육을 받았다. 글과 음악도 배우지만 주로 신체 단련과 군사 훈련, 정신력 강화가 교육의 중심이었다.

(나) 페르시아 전쟁 후 페리클레스의 지도 아래 황금 시대를 맞이하였다. 이 시기에는 특수직을 제외한 모든 관직은 추첨으로 선임되었으며, 재판관을 맡은 배심원도 추첨으로 뽑았다. 수병으로 전쟁에 참가했던 하층민들의 발언권이 커지고 공무 수행에 대한 수당제가 도입되었다.

(가)

- ① 철학의 발달
- ② 국가에 의한 교육
- ③ 올림픽 경기 개최
- ④ 문화 예술의 발전

(나)

- 만민법의 성립
- 민주 정치의 발전
- 복지 정책의 시행
- 사회주의의 기원

⑤ 전차 경주의 성행 크리스트 교의 전파

3. 다음 글이 쓰여진 시기에 발생한 역사적 사실로 옳은 것은?

흑사병이 천체의 작용에 의한 것인지, 아니면 인간을 바르게 하기 위한 하느님의 정의로운 노여움에 의한 것인지는 알 수 없다. 하지만 이 병은 몇 해 전 동양에서 발생하여 많은 사람들의 생명을 빼앗고 계속 번져나가 서양에까지 이르렀다. (중략) 무서운 기세로 번져나간 이 병으로 임종 시에 입회인도 없이 이 세상을 떠나는 사람들이 수없이 생겨났다. (중략) 3월과 7월 사이에 피렌체에서는 10만 명 이상이 죽어갔다.

-보카치오, 데카메론-

- ① 게르만 족이 대이동을 시작하였다.
- ② 이탈리아에서 르네상스가 시작되었다.
- ③ 마르크스가 공산당 선언을 발표하였다.
- ④ 영국이 넓은 해외 식민지를 개척하였다.
- ⑤ 이슬람 세력이 서유럽으로 영토를 확장하였다.

4. 다음 자료와 관계 깊은 왕조에 대한 탐구 활동으로 적절한 것은?



- ① 황건적 난의 원인을 알아본다.
- ② 돌궐 제국의 분열 이유를 탐색한다.
- ③ 분서갱유를 실시한 배경을 살펴본다.
- ④ 색목인을 우대할 이유를 추적해 본다.
- ⑤ 양세법의 성립 배경과 결과를 조사한다.


5. 다음 자료와 관련된 인물과 사건을 옳게 짝지은 것은?

국가에 대해 반란 중에 있는 주, 혹은 특정 지역에서 노예 신분에서 놓여 있는 사람은 모두 1863년 1월 1일부터 영원히 자유의 몸이 될 것이다. (중략) 나는 주어진 권한에 따라 특정 주 및 지역에서 노예 신분에서 있는 모든 사람들이 이제부터 자유의 몸이 된다는 것과 국가는 그들의 자유를 인정하고 지켜 주어야 한다는 것을 명령하고 선언한다.

- ① 레닌-러시아 혁명 ② 링컨-남북 전쟁
- ③ 제퍼슨-독립 전쟁 ④ 알렉산드르 2세-농노 해방령

⑤ 스파르타쿠스-노예 반란

6. 다음 자료와 관련된 문명에 대해 탐구 활동을 하려고 한다. 탐구 주제와 내용이 적절하게 연결된 것을 <보기>에서 모두 고른 것은? [3점]



<보기>

	탐구 주제	탐구 내용
ㄱ	문화 생활	제지술의 전래
ㄴ	학문의 발달	실존주의 철학
ㄷ	법률의 제정	12표법
ㄹ	토목과 건축 기술의 발달	도로와 고가식 수로(수도교)

① ㄱ, ㄷ ② ㄱ, ㄹ ③ ㄴ, ㄷ ④ ㄴ, ㄹ ⑤ ㄷ, ㄹ

7. 다음 자료와 관련된 문화에 대한 설명으로 옳지 않은 것은?



- ① 나침반, 화약 등을 유럽에 소개하였다.
- ② 정치와 종교의 권력을 아울러 갖는 칼리프가 있었다.
- ③ '코란(쿠란)'의 가르침을 일상 생활의 규범으로 삼았다.
- ④ 주변 각지의 설화를 모은 '아라비안 나이트'가 나타났다.

⑤ 엄격한 제사 의식과 카스트 제도로 신분 차별이 두드러졌다.

8. 다음은 중세 유럽의 주군과 봉신에 대한 사료이다. 적절하게 해석한 것을 <보기>에서 모두 고른 것은?

○ 나는 당신의 권력 아래 몸을 맡기고 자비를 간청했으며, 당신은 큰 호의를 베풀어 나를 보호 아래 두었다. 당신은 나의 봉사와 공로에 따라 음식과 의복으로 나를 부양해야만 한다. 나는 살아 있는 한 봉사와 복종을 다할 것이다. (중략) 만일 우리 둘 가운데 한 사람이 계약을 파기하고자 한다면, 그는 상대방에게 얼마간의 돈을 지불해야 할 것이며, 그로써 계약은 모든 효력을 상실할 것이다.

○ 람지 수도원장 레기날드는 시몽 드 뷰삼프에게 호리웰의 영지를 봉토로 주고, 시몽은 그 땅을 받는 대가로 어떤 경우라도 전투 시에는 람지 수도원에 기사를 파견해야만 한다.

<보기>

- ㄱ. 주군은 봉신을 부양하고 보호해야 했다.
- ㄴ. 봉신은 계약을 파기할 수 있는 권리가 없었다.
- ㄷ. 주종 관계의 대부분은 혈연 관계에 기초하였다.
- ㄹ. 봉신은 주군을 위해 기사를 보내거나 직접 전쟁에 참여할 의무가 있었다.

① ㄱ, ㄷ ② ㄱ, ㄹ ③ ㄴ, ㄷ ④ ㄴ, ㄹ ⑤ ㄷ, ㄹ

9. 그림은 당대(唐代) 장안성 구획도이다. 이 그림을 통해 추론할 수 있는 당시 장안성의 모습으로 적절하지 않은 것은? [3점]



- ① 많은 외국인이 내왕하였다.
- ② 다양한 종교가 공존하였다.
- ③ 시장 구역이 정해져 있었다.
- ④ 서민 중심 문화가 발달하였다.

⑤ 매우 잘 정비된 계획 도시였다.

10. 다음 자료는 어떤 나라에서 일어난 시민 혁명의 기본 이념을 밝힌 것이다. 이 혁명과 관계가 없는 것은? [3점]

1. 사람들은 자유롭게 그리고 평등한 권리를 갖고 태어나며 또 그렇게 존속한다. 사회적 차별은 오직 공동의 유용성에 입각할 때에만 가능하다.

3. 모든 주권의 원천은 본질적으로 국민에게 있다. 명백하게 국민으로부터 유래하지 않은 권위는 어떠한 단체나 개인도 행사할 수 없다.

17. 소유권은 불가침의 신성한 권리이다. 그러므로 누구도 공공의 필요성이 적법하고 명백한 경우가 아니고서는 (중략) 소유권을 빼앗길 수 없다.

-인간과 시민의 권리 선언(1789년)-

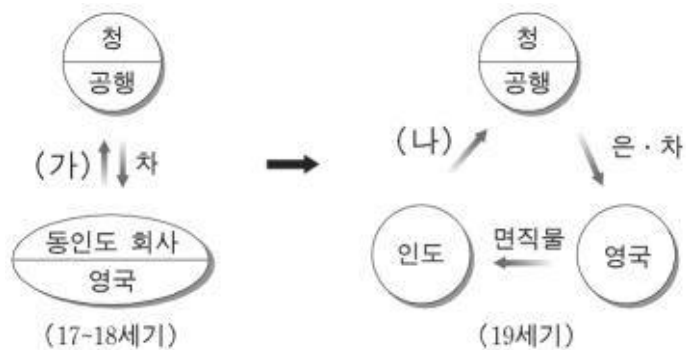
- ① 구체제의 모순에서 비롯되었다.
- ② 국왕이 처형되고 공화정이 출현하였다.
- ③ 의회가 제출한 권리 장전이 승인되었다.
- ④ 로베스피에르가 공포 정치를 실시하였다.
- ⑤ 인간의 자유와 평등, 국민 주권을 주장하였다.

11. 다음 자료에 나타난 송대(宋代)의 학문에 관한 설명으로 옳은 것은?

- 정신 수양과 실천 윤리를 강조하였다.
- 정통 왕조의 이념 및 가족 윤리의 근본이 되었다.
- 군신·부자·화이를 구분하는 대의 명분이 강조되었다.

- ① 무위자연과 소국과민을 이상으로 한 노장 사상
- ② 옛 문헌에서 증거를 찾아 경서를 설명하는 고증학
- ③ 양지를 강조하고 앓과 행동의 일치를 역설한 양명학
- ④ 인식의 과정을 명확히 하고 실천 수행을 주장한 유식학
- ⑤ 인간 본성과 우주 원리를 탐구하고 실천을 중시하는 성리학

12. 도표는 중국 청대(清代)의 무역 변화를 보여 준다. (가)와 (나)에 들어갈 항목을 적절하게 짝지은 것은? [3점]



- | | |
|------|-----|
| (가) | (나) |
| ① 은 | 아편 |
| ② 동전 | 향료 |
| ③ 인삼 | 비단 |
| ④ 면화 | 구리 |

⑤ 모직물 도자기

13. 지도는 명·청대(明清代)의 사회 경제적 발전 양상을 보여 준다. 이에 대한 탐구 활동의 주제와 내용을 짝지은 것으로 적절하지 않은 것은?



- | 탐구 주제 | 탐구 내용 |
|----------|----------------------|
| ① 상인 조직 | - 동향 상인 조직의 발달 |
| ② 국내 교역 | - 쌀 교역망의 전국적 확산 |
| ③ 농업 변화 | - 황허 하류 지역의 면화 재배 |
| ④ 경제 중심 | - 북부 지역으로의 경제 중심 이동 |
| ⑤ 수공업 발전 | - 양쯔 강 하류 지역의 수공업 발전 |

14. 다음 자료에 나타난 이념과 거리가 먼 사실은? [3점]

인류의 복지를 위해 위대한 과업을 달성할 운명을 지닌 민족은 언젠가 하나의 국가를 이루어야만 한다. 우리 민족은 서서히나마 한 시대에서 다른 시대로 옮겨갈 때마다 그런 목표를 향하여 전진해왔다. (중략) 그러므로 이탈리아는 하나로 통일될 것이다.

-마치니, 이탈리아 통일에 관하여-

- ① 이탈리아가 오스트리아에 맞서 전쟁을 일으켰다.
- ② 프랑크푸르트 국민회의에서 통일 방안을 논의하였다.
- ③ 프로이센의 수상 비스마르크는 철혈 정책을 추진하였다.
- ④ 가리발디가 이탈리아 남부를 점령하여 국왕에게 바쳤다.
- ⑤ 영국에서는 노동자들이 중심이 되어 차티스트 운동을 일으켰다.

15. 다음 자료와 관련된 중국의 근대화 운동에 대한 탐구 활동으로 적절한 것을 <보기>에서 모두 고른 것은? [3점]

태평 천국 운동을 진압한 이홍장, 중국변 등은 부국 강병을 목표로 군수 공장을 설립하고 근대적 군사 제도를 도입하였다. 면직업을 육성하고, 철도를 건설하거나 광산을 개발하는 등 근대 산업을 육성하고자 하였다. 또한 유학생을 파견하고 외국어 학교를 설립하였다.

- <보기>—
- ㄱ. 정화가 이끈 남해 대원정의 경과와 내용을 살펴본다.
 - ㄴ. 지정은 제도 성립의 배경과 그 역사적 의미를 검토한다.
 - ㄷ. 양무 운동의 배경과 성과를 알아보고 그 한계를 분석한다.
 - ㄹ. 서구화로 인한 중국적 가치와 전통의 위기에 대해 알아본다.

- ① ㄱ, ㄴ ② ㄱ, ㄷ ③ ㄴ, ㄷ ④ ㄴ, ㄹ ⑤ ㄷ, ㄹ

16. 다음 자료에 나타난 인물과 이념에 대한 탐구 활동으로 적절하지 않은 것은?



우리의 신념은 다음과 같다. "모든 것은 국가 안에 있다. 국가 이외에는 아무 것도 없다. 국가에 대립하는 것은 아무 것도 없다."
-무솔리니-

- ① 빈 체제 수립의 원인과 경과에 대해 조사한다.
- ② 세계적인 공황의 발생과 영향에 대해 알아본다.
- ③ 이탈리아 파시스트 독재 체제 성립에 대해 조사한다.
- ④ 독일의 국제 연맹 탈퇴와 재군비 선언의 배경을 조사한다.
- ⑤ 일부 국가에서 극단적인 인종주의가 나타난 배경을 알아본다.

17. 다음 자료에서 근대 일본 사회가 지향했던 것을 가장 잘 표현한 것은? [3점]

○ 1. 널리 회의를 열어 모든 정사가 공론에 따라 결정되도록 한다.
2. 상하가 한마음이 되어 정치를 실행하여 나간다.
3. 관리에서 서민에 이르기까지 그 뜻을 펴 나가되, 불만이 없도록 한다.
4. 종래의 그릇된 폐습을 버리고 천지의 보편타당한 이치에 따른다.
5. 세계에서 지식을 찾아 왕국의 터전을 굳건히 한다.
-메이지 5개조 서약(어서문)(1868년)-

○ 아시아의 이웃들로부터 벗어나서, 서양 문명국과 행동을 함께 해야 한다. 중국·조선과 교섭하는 것도 일본의 이웃 나라라고 해서 특별한 배려를 할 필요가 없다. 유럽 사람들이 아시아의 나라에 대해 하는 것과 마찬가지로 방법으로 대처해야 한다.
-후쿠자와 유키치, 탈아론(1885년)-

- ① 쇄국 정책 ② 국민 혁명 ③ 반청 복명
- ④ 문명 개화 ⑤ 위정 척사

18. 다음 사건들의 공통된 성격을 바르게 정리한 것은?

○ 1857년 세포이에서 인도인들이 영국의 지배에 대항하여 반란을 일으켰다.
○ 1885년 베트남에서 황제의 호소에 호응하여 지식인을 중심으로 근왕 운동이 일어났다.
○ 1900년 중국에서 의화단이 부처 멸양의 기치를 내걸고 봉기하였다.

- ① 반외세 투쟁 ② 농촌 개혁 운동
- ③ 반기독교 투쟁 ④ 공화제 수립 운동

- ⑤ 급진적 근대화 운동

19. 다음 자료와 관련된 시기의 러시아에 대한 설명으로 옳은 것을 <보기>에서 모두 고른 것은?

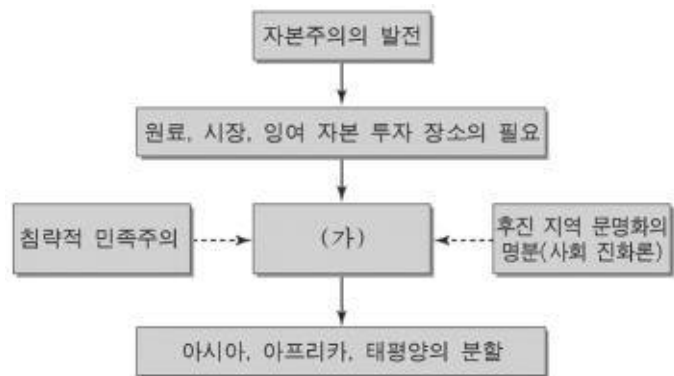
폐하, 우리는 힘든 노동에 시달리고, 핍박받고, 경멸당하고 있으며 (중략) 이 힘든 고통을 참기보다는 차라리 죽는 쪽이 더 낫다는 생각이 들 정도입니다. (중략) 모든 사람이 평등하게 선거권을 가지며 자유롭게 선거할 수 있도록 배려해 주십시오.
-상트 페테르부르크 노동자와 주민의 청원서-

<보기>

- ㄱ. 포트르 대제가 서구화를 추진하였다.
- ㄴ. 전제 정치가 유지되어 불만이 표출되었다.
- ㄷ. 산업화가 진전되고 사회주의 사상이 들어왔다.
- ㄹ. 황제와 교황이 서임권 문제로 자주 대립하였다.

- ① ㄱ, ㄴ ② ㄱ, ㄷ ③ ㄴ, ㄷ ④ ㄴ, ㄹ ⑤ ㄷ, ㄹ

20. 도표는 19세기 후반 이래 서양에서 전개된 역사적 현상을 보여준다. (가)에 들어갈 용어로 적절한 것은? [3점]



- ① 제국주의 ② 사회주의 ③ 중농주의
- ④ 실용주의 ⑤ 신자유주의

* 확인 사항
○ 답안지의 해당란에 필요한 내용을 정확히 기입(표기)했는지 확인하십시오.