

제 4 교시

사회탐구영역(정치)

성명

수험번호

- 먼저 수험생이 선택한 과목의 문제지인지 확인하십시오.
- 선택 과목은 반드시 응시 원서 작성시 자신이 선택한 과목의 문제를 풀어야 합니다.
- 문제지에 성명과 수험 번호를 정확히 기입하십시오.
- 수험표에 표기된 선택 1, 선택 2, 선택 3, 선택 4의 과목에 대한 문제를 순서대로 풀어 해당란에 답을 표기하십시오.
- 문항에 따라 배점이 다르니, 각 물음의 끝에 표시된 배점을 참고하십시오. 3점 문항에만 점수가 표시되어 있습니다. 점수 표시가 없는 문항은 모두 2점입니다.

1. 다음에서 도출되는 민주 정치 원리가 필요한 이유를 가장 적절하게 표현한 것은?

- 헌법 재판소는 법률의 위헌 여부를 심판한다.
- 대통령은 국회에서 의결된 법률안에 대해 거부권을 행사할 수 있다.
- 국회는 국정을 감사하거나 특정한 국정 사안에 대하여 조사할 수 있다.

- ① 악법도 법이다.
- ② 절대 권력은 절대 부패한다.
- ③ 의사(意思)는 대표될 수 없다.
- ④ 왕은 군림하나 통치하지 않는다.
- ⑤ 민심(民心)은 곧 천심(天心)이다.

2. 다음 글에서 강조하는 정치 발전의 조건에 해당하는 것을 <보기>에서 모두 고른 것은? [3점]

민주 정치의 질을 향상시키고 내실 있는 민주 정치를 구현하기 위해서 정치 체제는 국내외 환경으로부터의 각종 도전이나 시민 사회의 다양한 요구에 대해 효율적으로 대응할 수 있는 능력을 갖추어야 한다.

국민으로부터 절차적 정통성을 획득한 민주 정치 체제라도 산출 능력이 부족하여 시민 사회의 요구를 시의 적절하게 반영하지 못하거나, 가치 배분에 있어서 공정성을 상실하거나, 배분 결과를 효율적으로 집행하지 못할 경우, 정치 체제는 정통성과 권위를 상실하게 된다.

- <보기>—
- ㄱ. 국민의 참여 의식 향상
 - ㄴ. 선거 제도의 공정성 확보
 - ㄷ. 정부의 정책 결정 능력 강화
 - ㄹ. 갈등 해결을 위한 제도적 장치 마련

- ① ㄱ, ㄴ ② ㄱ, ㄷ ③ ㄴ, ㄷ

④ ㄴ, ㄹ ⑤ ㄷ, ㄹ

3. 다음 글에 나타난 시민 단체의 문제점을 해결하기 위한 방안으로 적절한 것을 <보기>에서 모두 고른 것은? [3점]

시민의 폭 넓은 정치 참여를 중요시하는 현대 민주 사회에서 시민 단체는 정부의 권력 남용을 견제하는 역할을 한다. 또한 시민 단체는 사회 문제에 대한 여론을 수렴하여 대안을 제시하기도 한다. 하지만 중앙 집중형 구조를 가지고 있는 시민 단체는 일반 시민들의 자발적 참여를 활성화시키지 못하고 있다. 오늘날 시민 단체의 운영은 특정 집단의 후원금과 국가 기관의 자금 지원에 의존하고 있으며, 조직의 확대에 따라 관료화되고 시민을 동원하는 경향이 나타나기도 한다. 결국 시민 단체의 내부 조직이 과두화되어 시민 단체의 본질적 성격이 퇴색될 수 있다.

- <보기>—
- ㄱ. 상향식 의사 결정 구조를 모색한다.
 - ㄴ. 재정 자립도를 높여 조직의 독립성을 확보한다.
 - ㄷ. 구성원의 전문성을 강화하여 수익성을 증대시킨다.
 - ㄹ. 이익 집단 및 정당과 유착하여 정치적 활동을 강화한다.
 - ㅁ. 다중심적(多中心的)인 자율적 네트워크 체제로의 변화를 시도한다.

- ① ㄱ, ㄴ, ㅁ ② ㄱ, ㄷ, ㄹ ③ ㄴ, ㄷ, ㄹ
- ④ ㄴ, ㄷ, ㅁ ⑤ ㄴ, ㄹ, ㅁ

4. 다음 글에 대한 옳은 설명을 <보기>에서 모두 고른 것은?

(가) 자연 상태에서 사람들은 타인과 끊임없이 충돌할 것이다. 이러한 '만인의 만인에 대한 투쟁' 상태에서는 개인의 안전과 평화를 유지하기 어렵기 때문에 사람들은 서로 계약을 맺어 국가를 수립하게 된다.

(나) 자연 상태에서 사람들은 자유롭게 행동하고 재산을 처분하며 평등하게 살아간다. 그러나 전쟁이 일어나거나 타인이 자연법을 이행하지 않음으로써 분쟁이 발생하고 이러한 분쟁을 해결하기 위해 정부가 필요하게 된다. 자연권 보장을 위해 사람들은 정부를 세우는 계약을 체결한다.

- <보기>—
- ㄱ. (가)에서 국가는 개인의 안전과 평화를 위해 필수적이다.
 - ㄴ. (나)에서 자연권은 정부 없이 완전하게 보장되지 않는다.
 - ㄷ. (가)와 (나) 모두 인간을 악한 존재로 가정한다.
 - ㄹ. (가)와 (나)에서 국가와 정부는 관습에 따라 구성된다.

- ① ㄱ, ㄴ ② ㄱ, ㄷ ③ ㄴ, ㄷ

- ④ 가, 나, 르 ⑤ 나, 드, 르

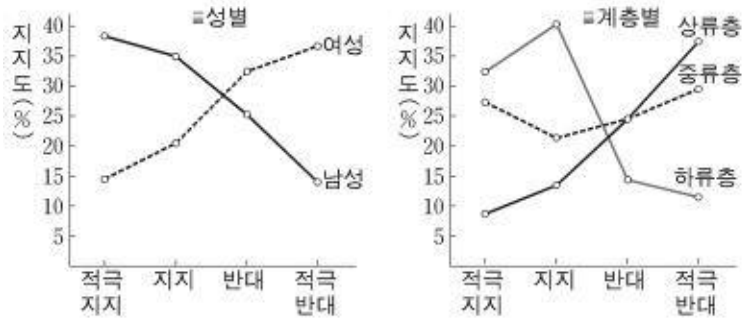
5. 다음은 교사가 학생들에게 제시한 수행평가 과제이다. 보고서를 옳게 설계한 모듈은? [3점]

정부 수립 후 우리나라는 정부 주도로 경제 발전에 매진해 왔습니다. 그 결과 행정부의 역할이 과대해졌고, 국민의 권리와 자유가 침해받는 일이 빈번했습니다. 그러한 통치 문화는 지금도 완전히 없어진 것은 아닙니다. 또한 사회의 여러 복잡한 문제에 대처하기 위한 행정의 역할이 증대되어 행정 국가화 현상도 나타나고 있습니다.

이러한 상황에서 행정부의 책임을 강화하고 국민의 권리와 자유를 보호하기 위해서는 행정부에 대한 통제가 매우 중요합니다. 행정부를 통제하는 방안과 그 사례를 모듈별로 조사하여 보고서를 작성하십시오.

모듈	방안	사례
① 가	국민에 의한 통제	국정 조사
② 나	국회에 의한 통제	행정 처분에 대한 위법 심사
③ 다	사법부에 의한 통제	감사원의 직무 감찰
④ 라	행정부에 의한 통제	행정 심판
⑤ 마	시민 단체에 의한 통제	국민고충처리위원회의 조사 활동

6. 다음은 어느 나라의 한 대통령 후보에 대한 여론 조사 결과이다. 이를 보고 분석한 내용으로 가장 적절한 것은? [3점]



- 남성과 중류층의 지지도가 각각 여성과 상류층보다 낮다.
- 30~40대와 상류층의 지지도가 각각 20대와 하류층보다 높다.
- 하류층과 50~60대 이상의 반대가 각각 상류층과 20대보다 적다.
- 하류층과 남성의 투표율이 각각 상류층과 여성의 투표율보다 낮을수록 당선에 불리하다.
- 여성과 30~40대의 투표율이 각각 남성과 50~60대 이상의 투표율보다 높을수록 당선에 유리하다.

7. 아래와 같은 정치 상황을 가정했을 때 추론할 수 있는 내용으로 가장 적절한 것은?

국민의 직접 선거로 선출된 ○○○ 대통령은 △△△의원을 차기 국무 총리에 지명하였다. 이에 국회는 인사 청문회를 개최하고 대통령이 제출한 국무 총리 임명 동의안을 본회의에서 표결하여 통과시켰다. 다음날 ○○○ 대통령은 △△△ 국무 총리의 인사 제청을 받아들여 여당의 ◇◇◇ 의원과 ▽▽▽ 의원을 장관에 임명하였다.

- 장관은 국회에 대하여 법적 책임을 진다.
- 대통령은 국민에 대하여 정치적 책임을 지지 않는다.
- 대통령은 국회 다수당의 추천에 따라 국무 총리를 지명한다.
- 의원 내각제적 요소를 가진 대통령제에서 나타나는 현상이다.
- 국무 총리는 국회의 동의를 받아 대통령에게 장관의 임명을 제청한다.

8. 다음 대화는 쓰레기 처리장 설치를 둘러싼 입장 차이를 보여주고 있다. 갈등을 합리적으로 해결하기 위한 자치 단체의 방안으로 가장 적절한 것은?

자치 단체장 : 우리는 관내에 새로운 쓰레기 처리장을 설치하는 정책을 추진하고 있습니다. 입지 여건상 ○○ 지역이 가장 적합한 후보지로 선정되었습니다.

○○ 지역 주민들 : 이 지역에 쓰레기 처리장을 만드는 것은 쾌적한 환경에서 생활할 우리의 권리를 박탈하는 일이므로 철회해야 합니다.

자치 단체장 : 하지만 쓰레기 처리장 설치 불가피하고, 또한 그로 인해 지역 주민들이 얻는 혜택도 있습니다.

○○ 지역 주민들 : 그렇지만 우리가 감수해야 할 각종 피해가 더 큼니다.

- 후보지의 토지를 수용하고 보상한다.
- 계획을 유보하고 다른 후보지를 모색한다.
- 주민들의 의견을 수렴하여 타협안을 도출한다.
- 주민들을 타 지역으로 이주시킬 계획을 수립한다.
- 공익은 사익의 희생 없이 확보될 수 없음을 강조하며 정책을 관철한다.

9. 다음 헌법 조항과 정부의 평화 통일 노력에 부합하지 않는 것은?

○ 헌법조항

- 대한민국은 통일을 지향하며, 자유 민주적 기본 질서에 입각한 평화적 통일 정책을 수립하고 이를 추진한다(헌법 제4조).
- 대통령은 조국의 평화적 통일을 위한 신성한 의무를 진다(헌법 제66조 제3항).

○ 정부의 평화 통일 노력

- 6·15 남북 정상 회담에서 합의된 남북 공동 선언문 이행
- 북핵 문제 해결을 위한 6자 회담 개최
- 북한에 대한 인도적 지원 확대

- 남북한 민족 공동체를 점진적으로 형성해 간다.
- 주변 이해 당사국의 결의에 의한 통일을 추구한다.
- 남북한의 이질성 극복을 위한 교류와 협력을 강화한다.
- 식량 지원, 의약품 지원 등 민간 차원의 지원을 강화한다.
- 통일에 대한 사회적 갈등을 극복하고 국민적 합의를 도출한다.

10. 다음은 세계화에 대한 대화이다. 을의 견해에 해당하는 것을 <보기>에서 모두 고른 것은?

갑 : 자유 시장 경제의 활성화로 경제 발전이 촉진되고 사회가 개방화되고 있어.

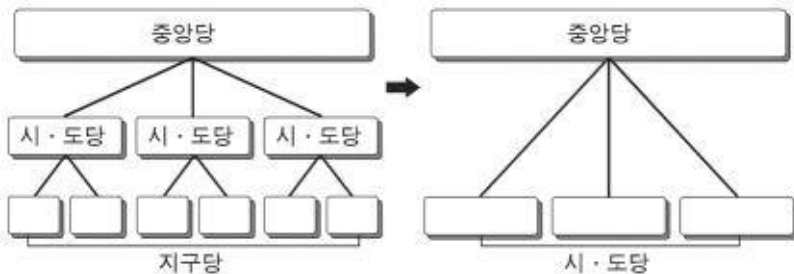
을 : 경쟁력이 약한 국가에서는 오히려 빈부 격차가 확대되고 선진국의 간섭이 심해지고 있잖아.

<보기>

- ㄱ. 단일 시장의 형성으로 국가 간 불평등이 심화된다.
- ㄴ. 국가 간 경계가 무너져서 국가 간 교류와 협력이 증진된다.
- ㄷ. 경제 발전에 따라 건전한 중산층의 성장을 가능하게 한다.
- ㄹ. 구조 조정으로 대량 실업이 발생하여 사회적 갈등이 확대된다.
- ㅁ. 초국가적 행위자의 영향력 확대로 정책 결정에서 국가의 자율성이 침해된다.

- ① ㄴ, ㄷ ② ㄴ, ㄹ ③ ㄱ, ㄷ, ㄹ
- ④ ㄱ, ㄹ, ㅁ ⑤ ㄴ, ㄷ, ㅁ

11. 다음은 정당 조직의 변화를 보여주고 있다. 이러한 변화에 따른 기대 효과로 가장 적절한 것은?



- ① 주민의 폭넓은 정치 참여를 촉진할 수 있다.
- ② 정당 이념의 전파와 확산이 수월해질 수 있다.
- ③ 선거구 관리 비용과 선거 비용이 절감될 수 있다.
- ④ 주민 의견의 직접적 수렴이 활발하게 이뤄질 수 있다.
- ⑤ 유권자와의 개별 접촉을 통한 정치 교육과 사회화가 용이해질 수 있다.

12. 오늘날 국제 질서의 특징을 옳게 설명한 것을 다음에서 모두 고른 것은?

- ㄱ. 범세계적 상호 의존이 심화되고 있으며 지역 블록화가 나타나고 있다.
- ㄴ. 이념·종교·민족적 지역 내 갈등이 해소되었으나 지역 간 갈등은 심화되고 있다.
- ㄷ. 국제 연합의 활동이 강화되면서 국가가 국제 사회의 주요한 행위 주체로 부각되고 있다.
- ㄹ. 환경에 대한 국제적 관심이 고조되어 국가 간 협력과 국제적 NGO 활동이 활발히 전개되고 있다.
- ㅁ. 정치·군사적으로 미국 중심의 국제 체제가 형성되고 있고, 경제적으로 다극 체제가 형성되고 있다.

- ① ㄱ, ㄴ, ㄷ ② ㄱ, ㄷ, ㄹ ③ ㄱ, ㄹ, ㅁ
- ④ ㄴ, ㄹ, ㅁ ⑤ ㄷ, ㄹ, ㅁ

13. 다음 자료에 대해 옳게 설명한 것을 <보기>에서 모두 고른 것은? [3점]

(가) 국회 의원 후보자 등록 때 2,000만 원의 기탁금을 내도록 한 규정에 대해 국민들의 피선거권을 부당하게 제한하는 수단이라고 헌법 재판소에서 위헌 결정을 내리자, 국회는 법률을 개정하여 기탁금을 1,500만 원으로 낮추었다.

(나) 지역구 국회 의원 선거의 득표 비율에 따라 비례 대표 의석을 나누도록 한 선거 제도가 위헌이라는 헌법 재판소의 결정에 따라 국회는 지역구 후보와 정당에 각각 1표를 행사하는 제도를 도입하도록 법률을 개정하였다. 그러나 비례 대표 의원 선출에서 정당이 후보자 명부를 작성하고 유권자는 정당에만 투표하여 비례 대표 의원을 선출하는 것은 직접 선거 원칙에 위배가 된다는 문제가 여전히 남아있다.

<보기>

- ㄱ. (가)의 결과로 정치 참여의 기회가 확대된다.
- ㄴ. (가)의 기탁금 제도는 보통 선거 원칙을 보장하기 위한 제도이다.
- ㄷ. (나)의 문제는 국민의 의사가 정확히 반영되지 않는다는 것이다.
- ㄹ. (나)의 문제는 지역구와 전국구 의석 수를 일치시키면 해결된다.
- ㅁ. (가)와 (나)에서의 법률 개정에 따라 유권자의 선택 폭이 넓어진다.

- ① ㄱ, ㄴ, ㄷ ② ㄱ, ㄷ, ㅁ ③ ㄴ, ㄷ, ㄹ
- ④ ㄴ, ㄹ, ㅁ ⑤ ㄷ, ㄹ, ㅁ

14. 다음에 나타난 국제 사회의 행위 주체를 <보기>에서 모두 고른 것은? [3점]

- 1970년 팔레스타인 해방 기구(PLO)가 비동맹 77그룹의 회원 자격과 국제 연합 총회 옵저버 자격을 취득하였다.
- 각국은 국제 민간 항공 기구(ICAO)를 결성하여 항공 안전 기준을 마련하였고, 항공 안전에 가장 민감한 조종사들이 모여 국제 항공 조종사 조직 연맹(IFALPA)을 결성하여 ICAO에 의견을 제시하고 있다.
- 중국은 북한 이탈 주민을 난민으로 인정하지 않고 있으나, 1951년 국제 연합 난민 협약을 체결하였고 1967년 의정서에 서명하였다. 또한 국제 사면 위원회(AI)는 북한 이탈 주민에 대하여 정치적 난민이라고 규정하고 있다. 한편 국경 없는 의사회(MSF)는 북한 주민을 돕기 위한 인도적 활동을 전개하고 있다.

<보기>

- ㄱ. 국민 국가 ㄴ. 민족 집단
- ㄷ. 다국적 기업 ㄹ. 정부 간 국제 기구
- ㅁ. 비정부 간 국제 기구

- ① ㄱ, ㄴ, ㅁ ② ㄴ, ㄷ, ㄹ ③ ㄴ, ㄹ, ㅁ
- ④ ㄱ, ㄴ, ㄹ, ㅁ ⑤ ㄱ, ㄷ, ㄹ, ㅁ

15. 다음 글의 밑줄 친 '심판'의 대상이 될 수 있는 사례로 가장 적절한 것은? [3점]

모든 국민은 공권력에 의하여 자신의 권리가 침해되었을 경우 우선 일반 재판 등과 같이 법률이 정하여 놓은 방법에 의하여 그의 권리를 구제받게 된다. 그러나 이러한 권리 구제 수단에 의해서도 충분한 구제를 받지 못한 경우, 그 국민은 침해받은 권리가 헌법이 보장하고 있는 기본권일 때 헌법재판소에 그 기본권을 침해하는 행위가 위헌임을 선언하여 주도록 심판을 청구할 수 있다.

- ① 지방 자치 단체의 규칙이 법률에 위반되는 경우
- ② 살인을 하여 고등 법원에서 무기 징역을 선고받은 경우
- ③ 국회 의원 선거에서 당선된 자가 선거법을 위반한 경우
- ④ 감사의 불기소 처분으로 고소인의 재판 청구권이 침해당한 경우
- ⑤ 법원에서 어떤 법률이 헌법에 위반되는지의 여부를 심사 제청한 경우

16. 다음 글이 제시하는 문제점을 해결하는 방안으로 적절하지 않은 것은?

정치 자금이 문제가 되는 것은 선거에 비용이 많이 들고 정치 부패의 원인이 되기 때문이다. 정치인이 불법적으로 정치 자금을 모으는 방법의 하나는 기업의 비자금을 끌어오는 것이다. 기업은 정치인에게 불법 정치 자금을 공여하고, 정치인은 그 대가로 정부의 막강한 규제 권한을 이용하여 그 기업에 편익이 돌아가는 정책을 정부가 시행하도록 영향력을 행사한다.

- ① 기업의 회계 투명성을 강화하는 방안을 마련해야 한다.
- ② 정치 자금의 모금과 사용에 대한 투명성을 확보해야 한다.
- ③ 선거 공영제를 강화하여 돈 안드는 선거를 실시해야 한다.
- ④ 기업인의 정치적 중립을 의무화하기 위한 제도를 마련해야 한다.
- ⑤ 특정 기업에 대한 정부의 특혜를 방지하는 방안을 마련해야 한다.

17. 다음은 한국 정치 발전에 관한 학생들의 견해이다. 괄호 안에 들어갈 적합한 말을 옳게 나열한 것은?

갑 : 우리나라는 지금까지 경제 성장에만 치중해왔어. 그러나 이제는 소득을 적절하게 재분배하는 ()를 지향해야 해.
 을 : 시민 의사가 정치에 적극적으로 반영되어야 해. 이를 위해서는 ()를 실행할 필요가 있어.
 병 : 시민 단체는 공적인 ()이 부족해. 그래서 시민 단체는 시민의 참여를 적극적으로 권장해야 해.
 정 : 사익과 공익을 함께 고려하며 조화를 모색하는 시민의 ()이 절실히 필요하다고 생각해.

- | | | | |
|---------|---------|-----|-------|
| 갑 | 을 | 병 | 정 |
| ① 복지 국가 | 참여 민주주의 | 책임성 | 준법 의식 |
| ② 복지 국가 | 참여 민주주의 | 대표성 | 책임 의식 |
| ③ 복지 국가 | 대의 민주주의 | 합리성 | 책임 의식 |
| ④ 법치 국가 | 대의 민주주의 | 책임성 | 권리 의식 |
| ⑤ 법치 국가 | 참여 민주주의 | 대표성 | 권리 의식 |

18. 다음 글의 밑줄 친 '이 제도'의 특징을 <보기>에서 모두 고른 것은? [3점]

근대 국가는 대부분 다수의 국민과 넓은 영토를 갖게 되었다. 그 결과 국민이 모두 직접적으로 정치에 참여하는 일이 불가능하게 되었고, 그 대안으로 국정에 참여하는 소수의 국민 대표가 필요하게 되었다. 이 제도는 오늘날 대부분의 국가에서 보통 선거제를 바탕으로 운영되고 있다.

<보기>

- ㄱ. 정책 결정의 효율성이 증대된다.
- ㄴ. 국민의 정치적 관심이 높아진다.
- ㄷ. 국민 의사의 과대한 표출이 방지된다.
- ㄹ. 정치 권력에 대한 국민의 통제가 제한된다.

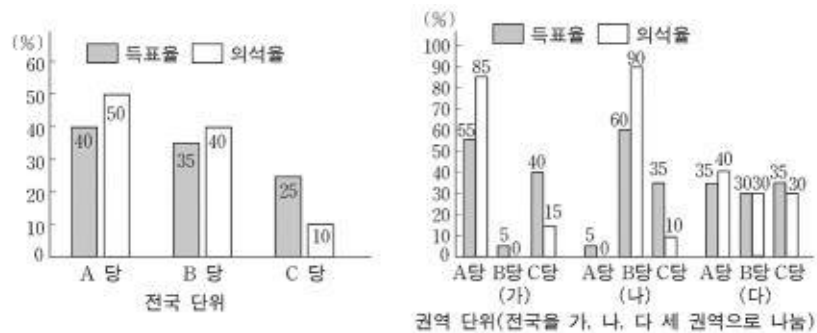
- ① ㄱ, ㄷ
- ② ㄴ, ㄷ
- ③ ㄴ, ㄹ
- ④ ㄱ, ㄴ, ㄹ
- ⑤ ㄱ, ㄷ, ㄹ

19. 다음은 올해 유럽 연합(EU)에서 채택한 헌법안의 주요 내용이다. 이를 통해 추론한 것으로 옳지 않은 것은? [3점]

- EU의 대통령직과 외무 장관직 신설
- 국제 조약을 맺을 때 EU가 법적 주체가 되는 지위 규정
- 회원국이 외부로부터 공격받을 경우 개입하는 상호 방위 원칙 천명
- 재정 적자가 회원국 국내 총생산의 3%를 넘는 회원국에 대한 벌금 부과 등의 제재 가능

- ① EU의 결속력이 강화되고 있다.
- ② 회원국 간 국경 개념이 모호해지고 있다.
- ③ 회원국들의 정부 형태가 유사해지고 있다.
- ④ 경제적 통합을 넘어 정치적 통합을 추구하고 있다.
- ⑤ EU는 회원국의 국내 경제 정책에 대해서 관여할 수 있다.

20. 다음 그림은 어느 나라의 의회 선거 결과이다. 이 자료에 대한 분석으로 적절한 것을 <보기>에서 모두 고른 것은? [3점]



<보기>

- ㄱ. 국민의 의사가 정확하게 반영되지 않았다.
- ㄴ. 의회 내 과반 의석을 보유한 정당이 등장했다.
- ㄷ. 전국 단위 비례 대표제를 대안으로 고려할 수 있다.
- ㄹ. 각 정당에 대한 지지가 전국적으로 고르게 나타났다.

- ① ㄱ, ㄴ
- ② ㄱ, ㄷ
- ③ ㄴ, ㄷ
- ④ ㄴ, ㄹ
- ⑤ ㄷ, ㄹ

* 확인 사항

- 답안지의 해당란에 필요한 내용을 정확히 기입(표기)했는지 확인 하시오.