

제 4 교시

사회탐구 영역(경제)

성명 수험 번호

1. 밑줄 친 '정책'으로 인해 갑국 경제에 나타날 변화에 대한 추론으로 가장 적절한 것은?

갑국은 정부의 계획과 명령에 의해서 경제 문제를 해결하는 경제 체제를 채택하고 있었다. 경제의 활력과 생산성이 갈수록 떨어지자 갑국은 시장 경제 체제의 요소를 도입하여 다음과 같은 정책을 실시하였다.

- 국영 기업 대부분을 민영화하였다.
- 사유 재산의 허용 범위를 확대하였다.

- ① 기업 간 경쟁이 줄어들 것이다.
- ② 개인의 경제적 자율성이 약화될 것이다.
- ③ '보이지 않는 손'의 기능이 강화될 것이다.
- ④ 자원의 희소성으로 인한 문제가 사라질 것이다.
- ⑤ 민간 경제 주체의 사익 추구가 불가능해질 것이다.

2. 그림에 나타난 경제 주체와 경제 활동에 대한 설명으로 옳은 것은? [3점]



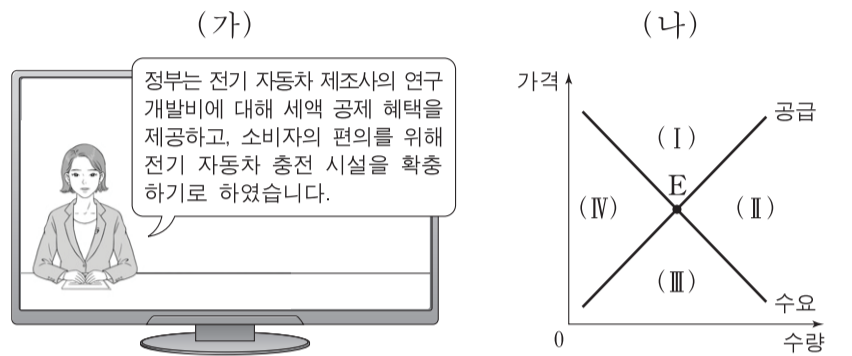
- ① 쇼핑몰 ㉠은 효용 극대화를 추구하는 경제 주체이다.
- ② 택배사 ㉡은 노동 시장에서 수요자 역할을 한다.
- ③ 갑은 생산물 시장에서 공급자 역할을 한다.
- ④ 을의 행위는 생산 활동에 해당하지 않는다.
- ⑤ 갑이 쇼핑몰 ㉠에 지불한 금액은 비소비 지출에 해당한다.

3. 다음 자료의 (가)를 관리하는 방법으로 옳지 않은 것은?

(가) 은/는 금융 소비자가 대출을 약속대로 상환할 가능성을 수치화한 지표로서, 금융 소비자의 신용 거래 조건을 결정하는 중요한 기준이다. 이것은 나빠지는 것보다 좋아지는 것이 더 어렵기 때문에 관리에 신경 써야 한다.

- ① 연체가 발생하지 않도록 주의한다.
- ② 빈번하고 과도한 대출을 자제한다.
- ③ 주거용 금융 회사를 정하여 거래한다.
- ④ 신용카드 현금 서비스 이용을 자제한다.
- ⑤ 대출 시 상환 능력보다 경제적 필요를 우선시한다.

4. (가)는 갑국의 경제 뉴스를, (나)는 갑국의 전기 자동차 시장 상황을 나타낸다. 갑국 정부 정책의 효과가 나타날 때 현재의 균형점 E가 이동할 영역으로 옳은 것은? [3점]



- ① (I) ② (II) ③ (III) ④ (IV) ⑤ 불변

5. 다음 자료의 카드 A에 들어갈 수 있는 옳은 내용을 <보기>에서 고른 것은?

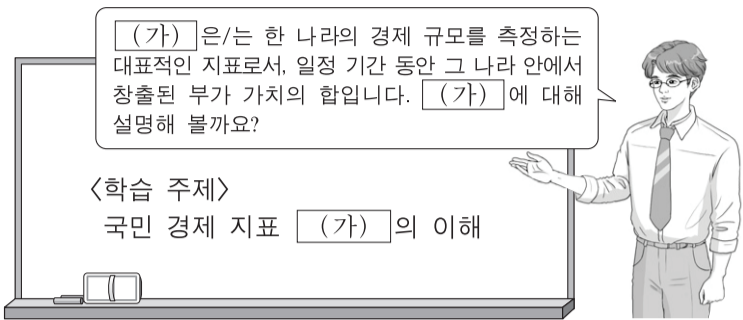
경제 안정화 정책 카드 게임

- 게임 규칙: 두 장의 카드를 뒤집어 카드에 적힌 경제 안정화 정책이 실질 GDP를 동일한 방향으로 변동시키는 요인이면 뒤집은 두 장의 카드를 가져간다.
- 갑은 다음과 같이 카드를 뒤집어 게임 규칙에 따라 두 장을 가져갔다.

- <보기>
- ㉠. 재할인율 인상 ㉡. 국공채 매입
 - ㉢. 소득세율 인하 ㉣. 사회 간접 자본 투자 축소

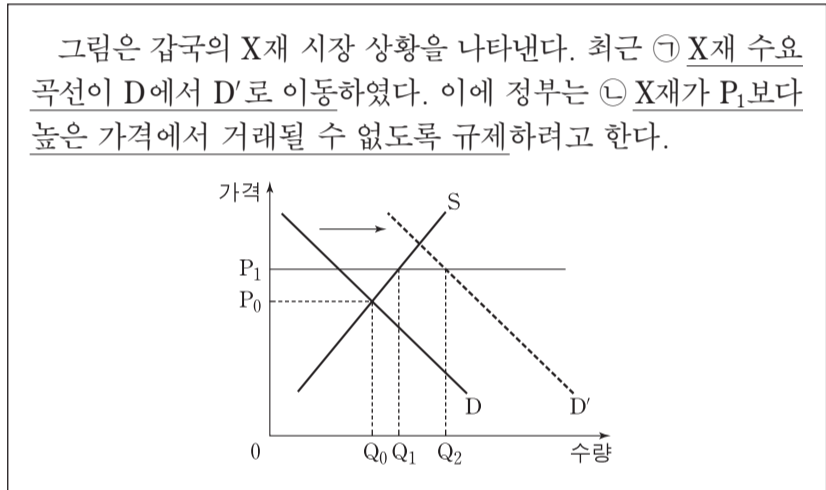
- ① ㉠, ㉡ ② ㉠, ㉢ ③ ㉡, ㉢ ④ ㉡, ㉣ ⑤ ㉢, ㉣

6. 교사의 질문에 대한 학생의 답변으로 옳지 않은 것은? [3점]



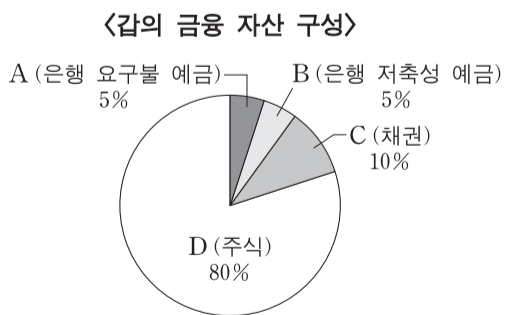
- ① 중간 생산물과 최종 생산물의 시장 가치의 합입니다.
- ② 지출 측면이나 분배 측면에서 측정하더라도 동일합니다.
- ③ 한 나라의 계층 간 소득 불평등 정도를 반영하지 못합니다.
- ④ 국내에서 생산하여 해외로 수출한 자동차는 (가)의 계산에 포함됩니다.
- ⑤ 금전적 대가를 받지 않는 봉사 활동은 (가)의 계산에 포함되지 않습니다.

7. 밑줄 친 ㉠, ㉡에 대한 설명으로 옳은 것은?



- ① X재의 대체재 가격 하락은 ㉠의 요인이 될 수 있다.
- ② ㉡은 시장 가격 하락을 억제하기 위한 것이다.
- ③ ㉠, ㉡의 결과 Q₁Q₂의 초과 수요가 발생할 것이다.
- ④ ㉠에도 불구하고 ㉡으로 인해 거래량은 Q₀에서 증가하지 않을 것이다.
- ⑤ ㉡ 시행 후 수요 곡선이 D'에서 D로 되돌아오면 시장 가격은 P₁일 것이다.

8. 그림은 갑이 보유하고 있는 금융 자산의 구성을 나타낸다. A~D의 일반적 특성과 갑의 금융 투자 성향에 대한 설명으로 옳은 것은?



- ① A는 예금자 보호 제도의 대상이 아니다.
- ② B는 D에 비해 수익성이 높다.
- ③ C는 A에 비해 유동성이 높다.
- ④ D 보유자는 시세 차익과 배당금을 기대할 수 있다.
- ⑤ 갑은 수익성보다 안전성을 우선시하는 투자 성향을 보이고 있다.

9. 다음 자료에 대한 분석으로 옳은 것은? [3점]

갑국은 최근 소득세제를 (가)에서 (나)로 변경하였다. 표는 (가), (나)의 과세 대상 소득 구간별 세율을 나타낸다.

구분	과세 대상 소득 구간	세율
(가)	전 구간	10%
(나)	4천만 원 이하	5%
	4천만 원 초과	20%

* (나)의 적용 예시: 과세 대상 소득이 5천만 원인 경우, 4천만 원에 대해서는 5%의 세율을 적용하고 4천만 원을 초과하는 1천만 원에 대해서는 20%의 세율을 적용한다.

- ① (가)는 과세 대상 소득에 상관없이 세액이 일정하다.
- ② (나)는 과세 대상 소득의 증가율이 세액의 증가율보다 크다.
- ③ (나)에서 과세 대상 소득 대비 세액의 비중은 과세 대상 소득이 5천만 원일 때와 6천만 원일 때가 같다.
- ④ 과세 대상 소득이 2천만 원일 때 세액은 (가)가 (나)보다 크다.
- ⑤ (나)는 (가)와 달리 조세 부담이 역진적이다.

10. 그림은 ○○모듬의 수행 평가 보고서 일부이다. (가)에 들어갈 수 있는 옳은 내용을 <보기>에서 고른 것은? [3점]

[경제 수행 평가 보고서]

주제: X재에 대한 보조금 지급의 효과

제출 모듬: ○○

○X재 시장 상황

○보조금 지급 전후의 균형점

지급 전: 사적 편익과 시장 공급이 일치하는 수준에서 거래

↓ 소비자에게 단위당 일정액의 보조금 지급

지급 후: 사회적 편익과 시장 공급이 일치하는 수준에서 거래

○보조금 지급 규모 및 결과에 대한 분석

- (가)

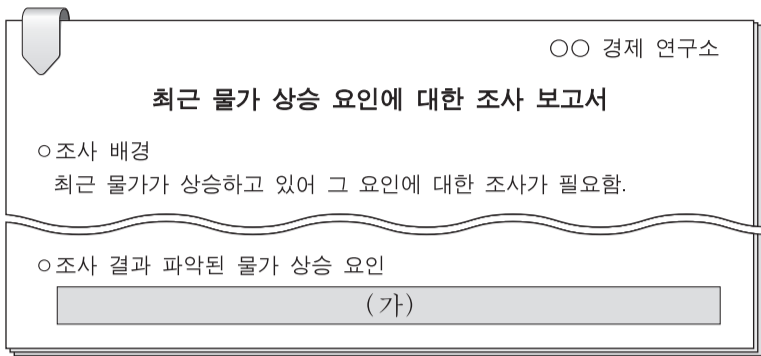
⋮

<보기>

- ㄱ. 지급된 보조금 액수는 단위당 P₀P₂이다.
- ㄴ. 시장 거래량은 Q₀에서 Q₁로 증가하였다.
- ㄷ. 소비자가 지불하는 단위당 금액은 변화가 없다.
- ㄹ. 소비에서의 외부 불경제 문제가 개선되었다.

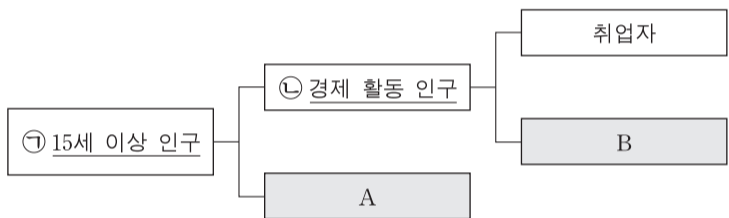
- ① ㄱ, ㄴ ② ㄱ, ㄷ ③ ㄴ, ㄷ ④ ㄴ, ㄹ ⑤ ㄷ, ㄹ

11. 그림은 갑국 ○○ 경제 연구소의 조사 보고서 일부이다. (가)에 들어갈 수 있는 내용으로 옳은 것은? [3점]



- ① 소비 심리의 위축
- ② 민간 투자 지출의 감소
- ③ 가계의 처분 가능 소득 감소
- ④ 갑국이 수입하는 원자재의 가격 상승
- ⑤ 갑국 제품을 수입하는 국가의 경기 침체

12. 그림은 우리나라의 고용 지표와 관련된 인구 구성을 나타낸다. 이에 대한 설명으로 옳은 것은?



- ① ㉠이 일정할 때 A가 감소하면 경제 활동 참가율은 하락한다.
- ② ㉡이 일정할 때 B가 증가하면 실업률은 상승한다.
- ③ 직장에 다니면서 야간 대학원에 다니는 경우 A에 해당한다.
- ④ 군 제대 후 대학에 복학하는 경우 A에서 B로 바뀐다.
- ⑤ 기업에서 해고된 직후 구직 활동을 하는 경우 B에서 A로 바뀐다.

13. 대화의 밑줄 친 ㉠, ㉡의 영향에 대한 추론으로 옳은 것은? (단, 환율 변동 이외의 다른 조건은 고려하지 않으며 국제 거래는 달러화로 이루어진다.)



- ① ㉠으로 인해 미국산 제품의 한국 내 판매 가격은 상승했을 것이다.
- ② ㉠으로 인해 한국 기업의 달러화 표시 외채 상환 부담은 증가했을 것이다.
- ③ ㉡으로 인해 미국으로부터 원재료를 수입하는 일본 기업의 부담은 증가했을 것이다.
- ④ ㉡으로 인해 일본에서 임금을 달러화로 받아 엔화로 환전하여 생활하는 사람은 불리해졌을 것이다.
- ⑤ ㉠, ㉡으로 인해 미국 시장에서 일본 기업과 경쟁하는 한국 기업의 가격 경쟁력은 높아졌을 것이다.

14. 다음 자료에 대한 분석으로 옳은 것은?

- 갑은 집에 태양광 패널 설치를 고려하고 있다. 태양광 패널은 월 20kWh의 전력을 생산한다. 패널 설치 비용은 40만 원이며, 이 설치 비용은 갑이 이사하여 패널을 이동하면 또 부담해야 한다. 갑은 설치 비용과 전기 요금만 고려하여 결정한다.
- 표는 전기 요금 체계를 나타낸다.

월 전력 사용량 구간(kWh)	요금(원/kWh)
200 이하	100
200 초과 ~ 400 이하	200
400 초과	300

* 적용 예시: 월 전력 사용량이 300kWh인 경우, 200kWh에 대해서는 100원/kWh를 적용하고 200kWh를 초과하는 100kWh에 대해서는 200원/kWh를 적용한다.

- 태양광 패널을 설치하면 월 전력 사용량에서 태양광 패널이 생산한 20kWh를 제외한 전력량에 대해 전기 요금을 부담한다.

- ① 태양광 패널 없이 한 달에 300kWh를 사용하면 월 전기 요금은 3만 원이다.
- ② 한 달에 400kWh를 사용할 때 태양광 패널이 있다면 없을 때보다 월 5천 원의 전기 요금이 절약된다.
- ③ 매달 300kWh를 사용할 때 태양광 패널 설치 후 90개월간 절약된 전기 요금은 설치 비용과 같다.
- ④ 매달 500kWh를 사용할 때 6년 후에 이사할 예정이라면 태양광 패널을 설치할 것이다.
- ⑤ 전기 요금 체계가 개편되어 모든 구간에 kWh당 100원이 적용되면 태양광 패널 설치의 경제적 유인이 커진다.

15. 다음 자료에 대한 분석으로 옳은 것은? [3점]

표는 X재와 Y재만을 생산하는 갑국과 을국에 대한 자료이다. 양국은 비교 우위가 있는 재화의 생산에만 특화하여 교역하며, 교역은 거래 비용 없이 양국 간에만 이루어진다. 양국의 생산 가능 곡선은 직선이고, 양국이 보유한 생산 요소의 양은 같다.

(단위: 개)

구분	갑국			을국		
	교역 전 최대 생산 가능량	교역량	교역 후 소비량	교역 전 최대 생산 가능량	교역량	교역 후 소비량
X재	㉠	㉢ 35	55	120	35	35
Y재	60	30	30	㉡	㉣ 30	110

* 교역 전 최대 생산 가능량: 모든 생산 요소를 한 재화 생산에만 투입했을 때의 최대 생산량

- ① ㉠은 90, ㉡은 100이다.
- ② 갑국은 X재 생산에, 을국은 Y재 생산에 절대 우위가 있다.
- ③ 갑국의 X재 1개 생산의 기회비용은 Y재 2/3개이다.
- ④ ㉢은 갑국의 수입량, ㉣은 을국의 수출량이다.
- ⑤ 교역 조건은 X재 1개당 Y재 7/6개이다.

16. 표에 대한 옳은 분석을 <보기>에서 고른 것은? (단, 기준 연도는 2013년이고 물가 수준은 GDP 디플레이터로 측정한다.)

(전년 대비, 단위: %)

구분	2014년	2015년	2016년
실질 GDP 증가율	0	3	-3
물가 상승률	2	0	1

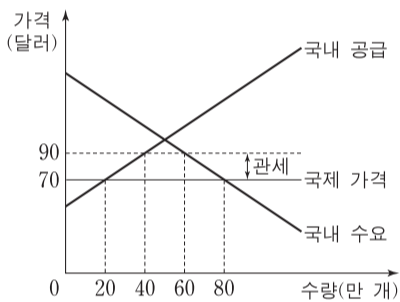
<보기>

- ㄱ. 2014년의 명목 GDP 증가율은 2%이다.
- ㄴ. 2015년의 명목 GDP와 실질 GDP는 같다.
- ㄷ. GDP 디플레이터는 2016년에 가장 높다.
- ㄹ. 2014년과 2016년의 경제 규모는 같다.

- ① ㄱ, ㄴ ② ㄱ, ㄷ ③ ㄴ, ㄷ ④ ㄴ, ㄹ ⑤ ㄷ, ㄹ

17. 다음 자료에 대한 설명으로 옳지 않은 것은? [3점]

그림은 갑국의 X재 시장 상황을 나타낸다. 갑국은 국제 가격에 개당 20달러의 관세를 부과하여 X재를 수입하고 있다. 단, X재의 국제 가격은 일정하며 이 가격에서 X재를 무제한 수입할 수 있다.



- ① 수입량은 20만 개이다.
- ② 관세 수입은 400만 달러이다.
- ③ 국내 생산자의 판매 수입은 3,600만 달러이다.
- ④ 관세를 폐지하면 수입량은 20만 개 증가할 것이다.
- ⑤ 관세를 폐지하면 국내 소비자 잉여 증가분은 국내 생산자 잉여 감소분보다 클 것이다.

18. 다음 자료에 대한 분석으로 옳은 것은? [3점]

갑국 정부는 건강에 유해한 X재의 단위당 세금을 인상하였다. 표는 인상 전후의 X재 단위당 세금과 시장 가격을 나타낸다. 세금 인상 후 1년간 X재로부터의 세금 수입은 인상 전 1년간 세금 수입의 2배가 되었다. 단, 세금 인상 이외에 시장 가격에 영향을 주는 다른 요인은 없었다.

(단위: 천 원)

구분	인상 전	인상 후
단위당 세금	1	3
시장 가격	3	4

* 시장 가격은 세금을 포함한다.

- ① 세금 인상 후 시장 가격은 25% 상승하였다.
- ② 공급은 가격에 대해 완전 탄력적이었다.
- ③ 세금 인상 후 소비자 잉여는 감소하였고 생산자 잉여는 변하지 않았다.
- ④ 세금 인상 후 1년간 거래량은 인상 전 1년간 거래량의 절반이다.
- ⑤ 세금 인상 후 1년간 판매 수입은 인상 전 1년간 판매 수입보다 적다.

19. 표는 갑국의 2016년 경상 수지를 나타낸다. 이에 대한 분석으로 옳은 것은?

(단위: 억 달러)

경상 수지			
상품 수지	서비스 수지	본원 소득 수지	이전 소득 수지
120	-20	10	-35

- ① 재화의 수출액은 전년 대비 120억 달러 증가하였다.
- ② 해외 투자에 따른 배당금을 기록하는 항목은 적자이다.
- ③ 서비스 거래에 따른 외화 유출액이 유입액보다 많았다.
- ④ 해외에 제공한 공적 개발 원조액을 기록하는 항목은 흑자이다.
- ⑤ 경상 수지는 달러화 대비 갑국 통화 환율의 상승 요인이다.

20. 다음 자료에 대한 분석으로 옳은 것은? [3점]

- △△시는 A, B에게 도서관과 체육관에 대한 편익을 물어 A, B가 응답한 편익의 합이 더 큰 시설 하나를 건립하고자 한다. 건립 시설이 결정된 후 비용 일부는 A, B에게 다음과 같이 부과된다.

$$\begin{aligned} \text{A의 부담금} &= (\text{두 시설에 대한 B의 응답 편익 중 높은 편익}) \\ &\quad - (\text{건립되는 시설에 대한 B의 응답 편익}) \\ \text{B의 부담금} &= (\text{두 시설에 대한 A의 응답 편익 중 높은 편익}) \\ &\quad - (\text{건립되는 시설에 대한 A의 응답 편익}) \end{aligned}$$

- 표는 A, B가 각 시설에서 얻는 실제 편익을 나타낸다.

(단위: 억 원)

구분	A의 편익	B의 편익
도서관	6	2
체육관	2	4

- A, B 각각의 순편익은 건립되는 시설에서 얻는 실제 편익에서 자신의 부담금을 뺀 값이다.
- A, B는 각 시설에 대해 실제 편익대로 응답할 수도 있고 실제 편익과 다르게 응답할 수도 있다. 표의 (가)~(다)는 발생 가능한 상황 중 일부이다.

상황	A의 응답	B의 응답
(가)	두 시설 모두 실제 편익대로 응답	두 시설 모두 실제 편익대로 응답
(나)	실제 편익이 더 큰 시설에서 얻는 편익은 1/2배로 응답, 다른 시설에서 얻는 편익은 실제 편익대로 응답	두 시설 모두 실제 편익대로 응답
(다)	두 시설 모두 실제 편익대로 응답	실제 편익이 더 큰 시설에서 얻는 편익은 2배로 응답, 다른 시설에서 얻는 편익은 실제 편익대로 응답

- ① (가)에서 A의 부담금은 4억 원이다.
- ② (나)에서는 도서관이 건립된다.
- ③ (나)에서 A의 부담금은 1억 원이다.
- ④ (다)에서 B의 순편익은 2억 원이다.
- ⑤ B의 순편익은 (다)보다 (가)에서 크다.

* 확인 사항

- 답안지의 해당란에 필요한 내용을 정확히 기입(표기)했는지 확인하십시오.