

제 4 교시

사회탐구 영역 (사회·문화)

성명

수험번호

3

1. 밑줄 친 ㉠~㉣과 같은 현상의 일반적인 특징에 대한 설명으로 옳은 것은?

한반도가 더 이상 지진의 안전지대가 아니라는 사실이 알려지면서, ㉠ 지진에 대한 대비를 해야 한다는 목소리가 높다. 일반적으로 지진은 ㉡ 활성 단층이 분포하고 있는 조산대의 주변에서 발생하나, 이전에 ㉢ 지진 활동이 있었다가 멈춘 지역에서도 지진 발생의 가능성은 충분히 존재한다. 따라서 이전의 ㉣ 지진 발생 기록을 살펴보고, 지진 발생의 우려가 있는 지역에서는 철저하게 대비를 할 필요가 있다.

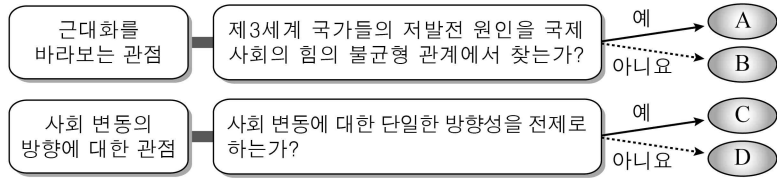
- ① ㉠과 같은 현상은 ㉡과 같은 현상과 달리 존재 법칙의 지배를 받는다.
- ② ㉡과 같은 현상은 ㉢과 같은 현상과 달리 인과 법칙을 따른다.
- ③ ㉢과 같은 현상은 ㉣과 같은 현상과 달리 몰가치적이다.
- ④ ㉣과 같은 현상은 ㉠과 같은 현상과 달리 확률의 원리가 적용된다.
- ⑤ ㉡, ㉢과 같은 현상은 ㉠, ㉣과 같은 현상과 달리 보편성과 특수성이 공존한다.

2. (가)~(다)에 나타난 사회·문화 현상을 바라보는 서로 다른 관점에 대한 설명으로 옳은 것은? [3점]

(가) 청년 실업은 기성세대가 자신들에게 유리한 고용 구조를 만들고, 소외된 청년들에게 이를 따르도록 사회적으로 강제하는 과정에서 발생한다.
 (나) 고용은 시장 구성원들의 자율적인 합의에 의해 만들어진 제도를 통해 효율적으로 이루어진다. 청년 실업은 고용 시장의 일시적인 부조화 현상일 뿐이다.
 (다) 청년 실업은 사회 구조적 요인에 의한 것이 아니라, 청년 개개인이 취업에 대해 중요한 의미를 부여하고 실업을 부정적 상황으로 정의함에 따라 사회 문제가 된다.

- ① (가)의 관점은 사회 구조로부터 자유로운 능동적 개인에 의해 사회·문화 현상이 발생한다고 본다.
- ② (나)의 관점은 사회에서 지배적으로 인정되는 규범을 따르는 것이 사회의 유지와 존속에 필수적이라고 본다.
- ③ (다)의 관점은 특정 집단의 합의에 의한 사회 규범이 기존의 사회 구조를 유지시키는 역할을 한다고 본다.
- ④ (가)의 관점은 (나)의 관점과 달리 사회가 스스로 균형을 유지하려는 속성을 지니고 있다고 본다.
- ⑤ (나)의 관점은 (다)의 관점과 달리 특정 현상에 대한 개인들의 인식에 따라 사회·문화 현상이 규정된다고 본다.

3. 사회 변동에 대한 관점 A~D에 대한 설명으로 옳은 것은? (단, A~D는 각각 순환론, 진화론, 근대화론, 종속 이론 중 하나이다.)



- ① A는 저발전의 원인을 중심부와 주변부의 단절에서 찾는다.
- ② B는 근대화를 위한 개발도상국 내부의 자생력 강화를 강조한다.
- ③ C는 사회 변동을 통해 사회가 퇴보될 수 있다고 본다.
- ④ D는 운명론적 시각으로 사회 변동을 설명한다.
- ⑤ A, C는 모두 개발도상국의 전통적인 요소가 근대화에 기여한다고 본다.

4. 다음은 개인과 사회의 관계를 보는 갑과 을의 서로 다른 관점이다. 을의 관점에 부합하는 진술은?



- ① 개인의 속성이 사회의 속성을 결정한다.
- ② 사회는 개인의 외부에서 독자적으로 작동한다.
- ③ 사회적 사실은 개인적 행위로 환원될 수 없다.
- ④ 개인은 사회에 의해 구조화된 행동을 하게 된다.
- ⑤ 개인은 집단 전체와의 관련 속에서만 존재 의미가 있다.

5. (가), (나)에 들어갈 사회·문화 현상의 연구 방법에 대한 질문으로 옳지 않은 것은? [3점]

| 연구 방법 | 전 제 |
|-------|--|
| A | 사회·문화 현상에는 자연 현상과 달리 인간의 의도나 동기가 담겨 있으므로 자연 과학과는 다른 방법으로 연구해야 한다. |
| B | 사회·문화 현상에는 법칙이 내재되어 있으므로 이를 밝혀내기 위해 자연 과학에서 사용하는 방법과 동일하게 연구해야 한다. |

- ① (가)-연구 대상자의 주관적 상황 인식을 중시하는가?
- ② (가)-직관적 통찰과 감정 이입적 이해를 강조하는가?
- ③ (나)-경험적 자료를 바탕으로 연구를 진행하는가?
- ④ (나)-변수와 변수 간의 관계 파악을 목적으로 하는가?
- ⑤ (나)-사회·문화 현상을 행위자의 동기나 가치와 엄격히 분리하는가?

6. 대중 매체 A~C의 일반적인 특징에 대한 설명으로 옳은 것은? (단, A~C는 각각 공중파 TV, SNS, 종이 신문 중 하나이다.)

| 매체 \ 항목 | 정보 생산과 관리의 전문성 | 정보 전달의 양방향성 | 복합 감각 정보의 제공 |
|---------|----------------|-------------|--------------|
| A | + | - | × |
| B | + | - | ○ |
| C | - | + | ○ |

* +는 높음을 -는 낮음을, ○는 있음을 ×는 없음을 나타냄.

- ① A는 B와 달리 수용자별 정보 획득의 동시성이 보장된다.
- ② B는 C와 달리 정보에 대한 수용자의 즉각적 반응을 확인할 수 있다.
- ③ C는 A에 비해 정보 확산의 시·공간적 제약이 크다.
- ④ B는 A, C와 달리 대중 조작의 도구로 활용될 가능성이 있다.
- ⑤ C는 A, B에 비해 정보의 복제와 재가공이 용이하다.

7. 밑줄 친 ㉠~㉣에 대한 설명으로 옳은 것은? [3점]

갑 다음 달에 ㉠ ○○대학교에서 주관하는 대입 설명회에 참가할 거니?

을 ㉡ 아버지와 함께 갈거야. ㉢ 반장을 잘해서 받은 ㉣ 모범상이 학생부 종합 전형에서 어떻게 반영되는지 알아보려고 해.

갑 6월 대수능 모의평가 결과로 볼 때, 수시와 정시 전형 중 어떤 것을 선택해야 할 지 ㉤ 고민이야.

병 나는 수시 전형에서 ㉥ 학생회 임원 활동을 자기 소개서 어떤 항목에 기재하는 것이 좋을지 담임 선생님께 상담하려고 해.

- ① ㉠은 공식적 사회화 기관이자 2차적 사회화 기관이다.
- ② ㉡은 선천적, ㉢은 후천적으로 획득되는 지위이다.
- ③ ㉣은 ㉢의 역할에 대한 보상이다.
- ④ ㉤은 갑의 역할 갈등이다.
- ⑤ ㉥은 병의 내집단, ㉠은 갑과 을 모두의 소속 집단이다.

8. 밑줄 친 ㉠~㉣에 대한 설명으로 옳은 것은? [3점]

갑은 ㉠ 부모의 소득 수준이 높은 청소년일수록 외국인에 대한 수용성이 높을 것이라는 가설을 검증하기 위한 연구를 수행하였다. ㉡ ○○지역에 있는 고등학교 10개교를 무작위로 선정하고, ㉢ 학년별 3개 학급의 학생들을 대상으로 부모의 소득 수준, 외국인에 대한 수용성, 개인적 성격 등을 파악할 수 있는 ㉣ 질문이 포함된 설문지를 배부하여 조사하였다. ㉤ 외국인에 대한 수용성은 ㉥ 문화 개방성, 외국인과의 교류 의지 등을 5점 척도로 측정하였다. ㉦ 분석 결과, 부모의 소득 수준과는 관계없이 청소년 개인의 성격이 외향적일수록 외국인에 대한 수용성이 높다는 유의미한 결과가 나타났다.

- ① ㉠에서 독립변수는 '외국인에 대한 수용성'이다.
- ② ㉡은 모집단, ㉢은 표본 집단이다.
- ③ ㉣에는 응답자의 가치 판단을 묻는 질문이 포함될 수 없다.
- ④ ㉥은 ㉥을 조작적으로 정의한 것이다.
- ⑤ ㉦으로 보아, ㉠의 가설은 수용되었을 것이다.

9. (가)~(다)는 교육 제도를 바라보는 A, B관점의 특징을 연결한 것이다. 이에 대한 설명으로 옳은 것은?

A관점은 교육이 사회적 합의에 기초하여 인재를 양성하고 적재적소에 배치하여 사회의 발전에 기여한다고 본다. 반면, B관점은 교육이 특정한 계층에게 유리하게 작용하는 선발 기능을 통해 기존의 사회 계층 구조를 재생산한다고 본다.

```

graph LR
    A((A)) --- G[가]
    A --- N[나]
    A --- D[다]
    B((B)) --- G
    B --- N
    B --- D
  
```

- ① A관점은 교육을 통해 사회적 자원이 효율적으로 배분된다는 것을 간과한다.
- ② B관점은 학교 교육보다 부모의 사회경제적 지위가 자녀의 학업 성취에 미치는 영향력이 크다고 본다.
- ③ (가)에는 '교육이 지배 집단의 가치를 학습시켜 지배 이념을 정당화하는 수단으로 활용된다고 본다.'가 적절하다.
- ④ (나)에는 '교육 제도가 사회의 안정과 사회 구성원의 통합에 기여한다고 본다.'가 적절하다.
- ⑤ (다)에는 '교육이 사회 계층 간 이동의 개방성을 확대시킨다고 본다.'가 적절하다.

10. 다음은 우리나라 특정 지역의 빈곤 가구 중에서 맞춤형 급여를 지원받는 가구의 비율을 나타낸 것이다. 이에 대한 옳은 분석만을 <보기>에서 있는 대로 고른 것은? [3점]

조사 당시 중위 소득은 500만 원이며, 조사한 빈곤 가구의 가구원 수는 모두 동일하다.

<맞춤형 급여 지원 기준>

| 기준(중위 소득 기준) | 지원 급여 |
|-----------------|----------------|
| 28% 이하 | 교육, 주거, 의료, 생계 |
| 28% 초과 ~ 40% 이하 | 교육, 주거, 의료 |
| 40% 초과 ~ 43% 이하 | 교육, 주거 |
| 43% 초과 ~ 50% 이하 | 교육 |

<빈곤 가구 중 맞춤형 급여를 지원받는 비율>
(단위: %)

| 빈곤 가구 \ 급여 | 생계 | 의료 | 주거 | 교육 |
|------------|----|-----|-----|-----|
| 절대적 빈곤 가구 | 70 | 100 | 100 | 100 |
| 상대적 빈곤 가구 | 56 | 80 | 86 | 100 |

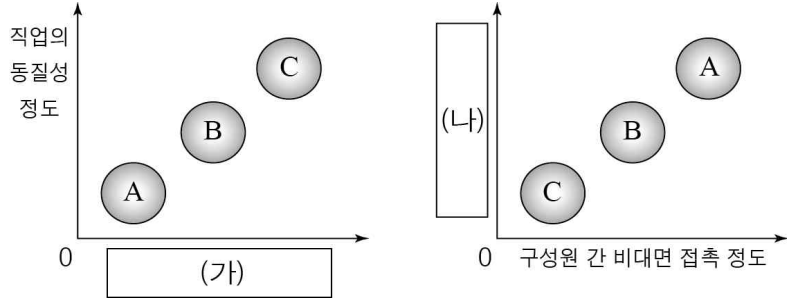
* 절대적 빈곤 가구: 월 소득이 최저 생계비 미만인 가구
** 상대적 빈곤 가구: 월 소득이 중위 소득의 50% 미만인 가구
*** 중위 소득: 전체 가구를 소득 순으로 나열했을 때 한가운데 위치한 가구의 소득

<보 기>

ㄱ. 상대적 빈곤 가구보다 절대적 빈곤 가구가 많다.
 ㄴ. 조사 시점의 최저 생계비는 월 소득 250만 원이다.
 ㄷ. 상대적 빈곤 가구 중 생계, 의료, 주거, 교육 급여를 모두 받는 비율은 56%이다.
 ㄹ. 월 소득이 최저 생계비 미만인 가구 중에서 30%는 월 소득 140만 원을 초과한다.

- ① ㄱ, ㄴ
- ② ㄱ, ㄷ
- ③ ㄷ, ㄹ
- ④ ㄱ, ㄴ, ㄷ
- ⑤ ㄴ, ㄷ, ㄹ

11. 그림은 A~C의 일반적인 특징을 비교한 것이다. 이에 대한 설명으로 옳은 것은? (단, A~C는 각각 농업 사회, 산업 사회, 정보 사회 중 하나이다.) [3점]



* 0에서 멀수록 그 정도가 높거나 강함.

- ① 구성원 간의 익명성은 A가 B보다 낮다.
 - ② 핵가족의 비중은 B가 C보다 높다.
 - ③ 사회의 다원화 정도는 C>A>B 순이다.
 - ④ (가)에는 '사회 변동의 속도'가 적절하다.
 - ⑤ (나)에는 '가정과 일터의 결합 정도'가 적절하다.
12. 갑과 을은 사회 구성원 A~D를 사회 계층화 현상을 설명하는 이론에 따라 분류하였다. 이에 대한 설명으로 옳은 것은? (단, 갑과 을은 각각 계층론, 계급론 중 하나를 따른다.)

○ 갑은 생산 수단의 소유 여부를 기준으로 사회 계층을 두 가지로 구분하였다. 이 기준에 따라 A, D를 자본가로, B, C를 노동자로 분류하였다.

○ 을은 정치적, 사회적, 경제적 차원을 기준으로 사회 계층을 상층, 중층, 하층으로 구분하였다. 이 기준에 따르면 A, C는 각각 세 가지 차원이 동일한 범주에 속하며, B, D는 한 가지 차원의 범주와 나머지 두 가지 차원의 범주가 다른 위치에 있다.

- ① 갑은 다차원적 측면에서 사회 계층화 현상을 파악하고 있다.
- ② 갑은 A, B 간에 강한 연대 의식이 형성된다고 본다.
- ③ 을은 사회적 불평등이 경제적 불평등에 종속된다고 본다.
- ④ 을의 기준에서 B와 D 모두 지위 불일치 상태에 있다.
- ⑤ 을의 기준과 달리 갑의 기준에서 A, C는 모두 피지배 계급이다.

13. 밑줄 친 ㉠~㉣에 대한 설명으로 옳은 것은?

| A지역 여행 가이드 | B지역 여행 가이드 |
|---|---|
| <ul style="list-style-type: none"> 지역 특색 및 여행 장소 - 농경 ㉠ 문화의 역사를 엿볼 수 있는 많은 유적 - ㉡ 토착 신앙과 관련된 종교 사찰 | <ul style="list-style-type: none"> 지역 특색 및 여행 장소 - 전통 문화가 반영된 오래된 ㉢ 성곽 - ㉣ 정부 주도로 상점이 한낮에 휴무하는 제도 시행 |
| <ul style="list-style-type: none"> 유의 사항 ㉤ 소를 숭상하기 때문에 소에게 위협을 가하는 행동을 해서는 안 되며, 위반 시 법적 처벌을 받음. | <ul style="list-style-type: none"> 유의 사항 성곽을 함부로 훼손하는 사람들이 많아 성곽 관람 시 ㉤ 문화인으로서 품격이 요구됨. |

- ① ㉡은 비물질 문화, ㉢은 물질 문화에 해당한다.
- ② ㉣은 문화 지체 현상의 사례에 해당한다.
- ③ ㉢과 ㉣은 모두 반문화에 해당한다.
- ④ ㉤은 관념 문화에 해당한다.
- ⑤ ㉤은 ㉠과 달리 넓은 의미의 문화이다.

14. 다음은 우리나라 사회 보장 제도의 유형 A~C를 <자료>와 같이 구분한 것이다. 이에 대한 일반적 진술로 옳은 것은? (단, A~C는 각각 사회 보험, 공공 부조, 사회 서비스 중 하나이다.)

| 유형 | 사 례 |
|----|---|
| A | 갑(67세)은 가구 소득 인정액이 선정 기준액 이하로 판정되어 매월 일정 금액을 정부로부터 받고 있다. |
| B | 독거 노인 을(68세)은 노인 돌보미가 주1회 방문하여 제공하는 가사 지원, 활동 지원을 받고 있다. |
| C | 국민건강보험의 가입자인 병(64세)은 노인성 질환인 치매로 일상생활에 어려움을 겪고 있어, 정부로부터 장기요양급여를 받고 있다. |

<자료>

| 질문 | 사회 보장 제도 | | |
|-----|----------|-----|-----|
| | A | B | C |
| (가) | 예 | 아니요 | 예 |
| (나) | 아니요 | 예 | 아니요 |

- ① 수혜 대상자의 범위는 A가 C보다 넓다.
- ② A, B는 사전 예방적, C는 사후 처방적 성격을 가진다.
- ③ 소득 재분배 효과는 C>B>A의 순으로 나타난다.
- ④ (가)에는 '수혜자 부담 원칙이 적용되는가?'가 적절하다.
- ⑤ (나)에는 '비금전적 지원을 원칙으로 하는가?'가 적절하다.

15. 다음 자료에 대한 옳은 설명만을 <보기>에서 있는 대로 고른 것은? [3점]

문화 변동의 요인을 (가)~(라)로 나누고, A시기에 발생한 갑국과 을국의 문화 변동에 적용한 사례이다. 단, (가)~(라)는 각각 발견, 발명, 간접 전파, 직접 전파 중 하나이며, 갑국과 을국은 상호 교류 이외에 다른 국가와의 교류는 없다.

<문화 변동의 요인>

| | | | |
|--------|---------------------------|---------|-----------|
| 외재적 요인 | 사람 이외의 매개체로 문화 요소를 전달하는가? | 예 → (가) | 아니요 → (나) |
| 내재적 요인 | 이전에 없었던 새로운 문화 요소를 창조하는가? | 예 → (다) | 아니요 → (라) |

<문화 변동의 사례>

| | | | |
|----|------|-----------|---------|
| 갑국 | 변동 전 | A시기 문화 변동 | 변동 후 |
| | △, ○ | | △, ☆, ○ |
| 을국 | □, ☆ | 문화 변동 | △, □, ☆ |

* △와 □는 의복 문화, ○와 ☆는 음식 문화이다.

<보 기>

ㄱ. (나)는 직접 전파, (다)는 발명, (라)는 발견이다.
 ㄴ. 갑국은 을국과 달리 변동 후에 자기 문화의 정체성을 상실하였다.
 ㄷ. A시기에 갑국과 을국 모두 외재적 요인만 발생하였다면, 변동 후 양국에서는 문화 공존이 나타난 것이다.
 ㄹ. A시기에 (가)만 발생하였다면, 갑국에서는 강제적 문화 접변, 을국에서는 자발적 문화 접변이 나타난 것이다.

- ① ㄱ, ㄴ
- ② ㄱ, ㄷ
- ③ ㄴ, ㄹ
- ④ ㄱ, ㄷ, ㄹ
- ⑤ ㄴ, ㄷ, ㄹ

16. 표는 사회 집단 및 사회 조직 A~C를 질문에 따라 구분한 것이다. 이에 대한 옳은 설명을 <보기>에서 고른 것은? (단, A~C는 각각 가족, 회사, 시민 단체 중 하나이다.) [3점]

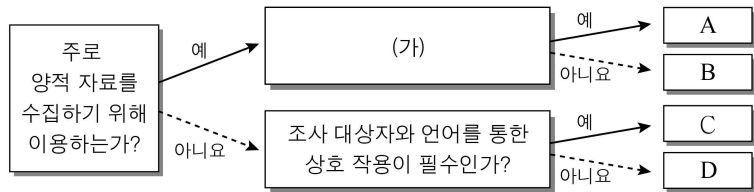
| 사회 집단(조직) | A | B | C |
|-----------|-----|-----|-----|
| 질문 | | | |
| (가) | 예 | 아니요 | 예 |
| (나) | 아니요 | 아니요 | 예 |
| (다) | 아니요 | 예 | 아니요 |

<보 기>

ㄱ. A가 '회사'라면, (가)에는 '구성원 간의 전인격적 인간관계가 형성되는가?'가 적절하다.
 ㄴ. B가 '가족'이라면, (다)에는 '집단의 결합 자체가 집단 형성의 목적인가?'가 적절하다.
 ㄷ. C가 '시민 단체'라면, (나)에는 '비공식 조직에 해당하는가?'가 적절하다.
 ㄹ. A가 '가족', B가 '시민 단체', C가 '회사'라면, (다)에는 '자발적 결사체에 해당하는가?'가 적절하다.

- ① ㄱ, ㄴ ② ㄱ, ㄷ ③ ㄴ, ㄷ ④ ㄴ, ㄹ ⑤ ㄷ, ㄹ

17. 자료 수집 방법 A~D의 일반적인 특징에 대한 설명으로 옳은 것은? (단, A~D는 각각 질문지법, 면접법, 실험법, 참여 관찰법 중 하나이다.)



- ① A가 실험법, B가 질문지법이라면 (가)에는 '다수를 대상으로 대량의 자료 수집에 유리한가?'가 적절하다.
 ② C는 D에 비해 예상하지 못한 상황에 대한 통제가 어렵다.
 ③ D는 B에 비해 일상생활을 심층적으로 파악하기 용이하다.
 ④ A, B는 C, D에 비해 연구자의 가치가 개입되기 쉽다.
 ⑤ C, D는 A, B에 비해 분석 기준이 명확하고 통계 처리가 용이하다.

18. (가), (나)에서 공통적으로 부각된 문화의 속성에 대한 옳은 진술을 <보기>에서 고른 것은?

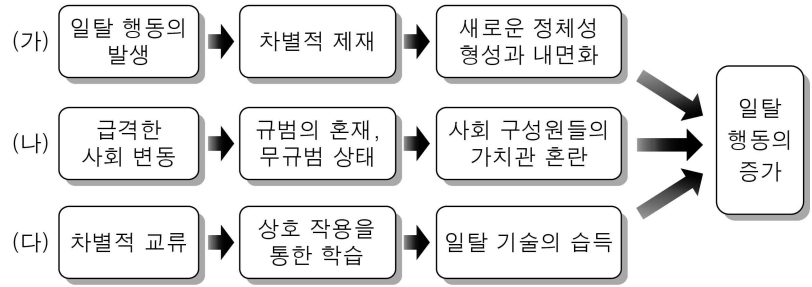
(가) 갑국의 가옥 안에 있는 난로는 난방의 목적 외에 조상과의 유대를 상징하는 특별한 의미가 있다. 때문에 갑국 사람들은 난로에 발을 뺏거나 물을 뿌리는 것을 모욕으로 간주한다.
 (나) 을국의 상점에는 모든 출입문에 꽃문양이 있다. 을국에서 꽃은 부(富)와 순수의 상징이어서, 정직한 거래를 약속함과 동시에 손님에 부를 기원하는 의미를 담고 있다.

<보 기>

ㄱ. 시간이 흐르면서 그 형태나 내용이 달라진다.
 ㄴ. 세대 간 전승을 통해서 새로운 문화 요소가 추가된다.
 ㄷ. 한 사회의 구성원 다수가 가지는 공통적인 생활양식이다.
 ㄹ. 사고와 행동의 동질성을 형성하여 타인의 행동을 예측 가능하게 한다.

- ① ㄱ, ㄴ ② ㄱ, ㄷ ③ ㄴ, ㄷ ④ ㄴ, ㄹ ⑤ ㄷ, ㄹ

19. (가) ~ (다)의 일탈 이론에 대한 설명으로 옳은 것은? [3점]



- ① (가)이론은 차별적인 접촉이 일탈을 학습하는 계기가 된다고 본다.
 ② (나)이론은 일탈에 대한 대책으로 사회적 합의를 통한 규범의 정립을 강조한다.
 ③ (다)이론은 일탈 행동이 문화적 목표와 제도적 수단 간의 괴리에서 비롯된다고 본다.
 ④ (나)이론은 (가)이론과 달리 일탈을 규정하는 객관적인 기준이 존재하지 않는다는 것을 전제로 한다.
 ⑤ (다)이론은 (나)이론과 달리 불평등한 사회 구조와 계급 갈등으로 일탈 행동이 발생한다고 본다.

20. 자료에 대한 옳은 분석을 <보기>에서 고른 것은? [3점]

다음은 갑국의 부모 세대와 자녀 세대의 계층 비율과 계층 이동의 비율을 나타낸 것이다. 갑국의 부모 세대 1명당 1명의 자녀를 대상으로 조사한 결과이다. 갑국은 상층, 중층, 하층으로만 계층이 구분되며, A~C는 각각 상층, 중층, 하층 중 하나이다.

<부모 세대와 자녀 세대의 계층 비율>

<부모 세대 계층 대비 계층 이동 비율>

| 부모 세대 계층 | A | | B | | C | |
|-------------|----|----|----|----|----|----|
| 계층 이동 비율(%) | 상승 | 하강 | 상승 | 하강 | 상승 | 하강 |
| | 60 | 0 | 25 | 25 | 0 | 20 |

<보 기>

ㄱ. 부모 세대와 자녀 세대 모두 중층의 비율이 가장 높다.
 ㄴ. 계층을 대물림한 사람보다 계층을 이동한 사람이 많다.
 ㄷ. 부모 세대 상층에서 자녀 세대 하층으로 이동한 사람은 없다.
 ㄹ. 자녀 세대 계층 대비 부모와 자녀 간 계층 불일치 비율은 하층이 상층보다 높다.

- ① ㄱ, ㄴ ② ㄱ, ㄷ ③ ㄴ, ㄷ ④ ㄴ, ㄹ ⑤ ㄷ, ㄹ

* 확인 사항
 ◦ 답안지의 해당란에 필요한 내용을 정확히 기입(표기)했는지 확인 하시오.