

제 4 교시

탐구 영역 (통합사회)

성명

수험 번호

1

1. ㉠에 들어갈 적절한 진술만을 <보기>에서 고른 것은?

옛날 어느 왕이 꼬끼리 한 마리를 물고 와 눈이 안 보이는 사람들을 불러 꼬끼리를 만져 보게 한 뒤 이에 대해 설명하도록 하였습니다. 꼬끼리의 상아를 만진 사람은 무와 같다고 하였고 꼬리를 만진 사람은 새끼줄과 같다고 하였습니다. 이 이야기는 꼬끼리의 부분만을 만져 보고 정확한 꼬끼리의 모습을 알 수 없다는 것을 보여 주고 있습니다. 사회 현상에 대한 이해 역시 마찬가지입니다. 복잡한 사회 현상을 제대로 이해하기 위해서는 ㉠



<보 기>

- ㄱ. 다양한 관점에서의 통합적 접근이 요구됩니다.
- ㄴ. 각 학문 간의 고유한 경계를 엄격하게 구분해야 합니다.
- ㄷ. 인간과 사회 및 환경에 대한 종합적 이해가 필요합니다.
- ㄹ. 한 영역의 지식만으로 모든 사회 현상에 접근해야 합니다.

- ① ㄱ, ㄴ ② ㄱ, ㄷ ③ ㄴ, ㄷ ④ ㄴ, ㄹ ⑤ ㄷ, ㄹ

2. 다음 글에 부합하는 내용으로 가장 적절한 것은? [3점]

소득의 증가와 행복의 증대는 관련 있지만 산업화된 여러 나라에서 소득 수준은 과거에 비해 크게 높아졌음에도 사람들의 행복감은 이에 비례하여 증가하지 않고 정체되어 나타났다. 이는 소득이 증가해도 일정 수준 이후에는 행복감이 변하지 않을 수 있음을 보여 준다.

- ① 소득이 적을수록 행복한 삶을 살 수 있다.
- ② 소득 증가는 행복한 삶과 상관관계가 없다.
- ③ 소득이 계속 증가할수록 행복은 계속 커진다.
- ④ 소득이 증가한다고 반드시 더 행복한 것은 아니다.
- ⑤ 국가가 부유해질수록 국민의 행복감은 더욱 높아진다.

3. 그림은 어느 환경 문제와 관련된 포스터이다. 이 환경 문제가 심화될 경우 나타날 수 있는 변화에 대한 추론으로 적절하지 않은 것은?



- ① 북극해의 해수 염도가 낮아질 것이다.
- ② 냉대림의 분포 면적이 넓어질 것이다.
- ③ 고산 지대의 만년설이 감소할 것이다.
- ④ 남태평양 섬의 해안 저지대가 침수될 것이다.
- ⑤ 열대성 질병과 관련된 피해가 늘어날 것이다.

4. 다음 자료는 국가별 관광 상품을 정리한 것이다. (가) ~ (다)에 해당하는 국가를 지도의 A ~ C에서 고른 것은? [3점]

국가	관광 상품
(가)	낙타와 말을 기르며 생활하는 유목민 가옥 체험
(나)	지열 발전소 견학 및 노천 온천과 백야(白夜) 체험
(다)	연중 봄과 같은 기후가 나타나는 고산 도시 트레킹
⋮	⋮



- (가) (나) (다) (가) (나) (다)
- ① A B C ② A C B
- ③ B A C ④ B C A
- ⑤ C A B

5. 다음은 탐구 활동 보고서의 일부이다. 밑줄 친 '(가) 기후 지역'에 대한 옳은 설명만을 <보기>에서 고른 것은?

탐구 활동 보고서 1학년 ○ 반 이름: □□□

주제: 기후 특색이 반영된 세계 각 지역의 문화

조사 내용

기온이 매우 높고 더운 (가) 기후 지역의 주민들은 강렬한 햇볕에 의한 화상을 방지하고 바람이 불어 모래가 세차게 날아드는 것을 막기 위해 짧은 옷을 입지 않고 오히려 온몸을 천으로 감싸는 옷을 입는다.

이 지역의 대표적인 작물은 오아시스 농업과 관계 농업으로 생산되는 대추야자이다. 대추야자 나무는 목재와 빨감으로 사용되며, 열매는 주로 말려서 식량으로 이용된다.

<보 기>

- ㄱ. 강수량보다 증발량이 많다.
- ㄴ. 거의 매일 대류성 강수가 나타난다.
- ㄷ. 바람에 의한 지형 형성 작용이 활발하다.
- ㄹ. 기온의 일교차보다 기온의 연교차가 크다.

- ① ㄱ, ㄴ ② ㄱ, ㄷ ③ ㄴ, ㄷ ④ ㄴ, ㄹ ⑤ ㄷ, ㄹ

6. 다음 자료는 지역 조사 과정을 나타낸 것이다. (가)~(다)에 해당하는 활동으로 옳은 것만을 <보기>에서 고른 것은?


조사 순서		내용
조사 주제 및 지역 선정		○○시 △△백화점 입지와 생활 공간의 변화
↓		
지리 정보 수집	실내 조사	(가)
	야외 조사	(나)
↓		
지리 정보 분석		(다)
↓		
보고서 작성		△△백화점 입지로 인한 지역 경관 변화에 관한 보고서를 작성한다.

— <보 기> —


ㄱ. △△백화점 주변 지역을 답사하고 경관을 촬영한다.
 ㄴ. △△백화점 주변의 경관 변화에 대한 문헌 자료를 도서관에서 수집한다.
 ㄷ. 수집된 자료를 토대로 △△백화점 입지 전후의 지가(地價) 변화를 지도로 제작한다.
 ㄹ. ○○시청을 방문하여 담당 공무원과 △△백화점 입지 후의 지역 변화에 대해 면담한다.

- | | | | | | |
|---------|---------|-----|---------|---------|-----|
| (가) | (나) | (다) | (가) | (나) | (다) |
| ① ㄱ ㄴ ㄹ | ② ㄱ ㄹ ㄷ | | ③ ㄴ ㄱ ㄷ | ④ ㄴ ㄱ ㄹ | |
| ⑤ ㄹ ㄷ ㄱ | | | | | |

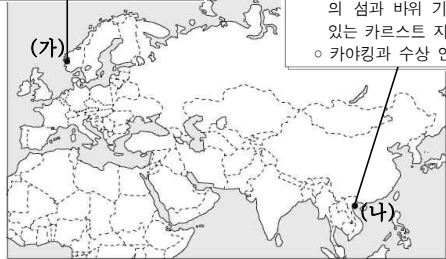
7. 다음은 (가), (나) 지역에 대한 다큐멘터리 촬영 계획서이다. ㉠, ㉡에 들어갈 내용으로 옳은 것은? [3점]



- 촬영 시기: 6월
- 촬영 대상
○ ㉠ 으로 형성된 U자곡
○ 인근 수력 발전소



- 촬영 시기: 10월
- 촬영 대상
○ ㉡ 으로 형성된 수천 개의 석과 바위 기둥이 솟아 있는 카르스트 지형
○ 카야킹과 수상 인형극



- | | |
|-----------|---------|
| ㉠ | ㉡ |
| ① 빙하의 퇴적 | 빙하의 침식 |
| ② 빙하의 퇴적 | 석회암의 용식 |
| ③ 빙하의 침식 | 석회암의 용식 |
| ④ 빙하의 침식 | 빙하의 퇴적 |
| ⑤ 석회암의 용식 | 빙하의 침식 |

8. (가)를 주장한 사상가의 입장에서 볼 때, (나)의 ㉢에 들어갈 진술로 가장 적절한 것은? [3점]

(가)	우리는 옷을 필요로 하지만 그렇다고 화려한 옷을 구할 필요는 없다. 우리의 옷이 검소하다고 해서 어떤 고통이 발생하는 것은 아니다. 우리는 몸에 고통이 없고 마음의 불안이 없는 평온한 상태에서 가장 큰 만족을 누릴 수 있다.
(나)	학생: 행복한 삶을 살기 위해서는 어떻게 해야 하나요? 사상가: _____ ㉢ _____

- ① 욕제적이고 감각적인 욕망을 최대한 충족시켜야 합니다.
- ② 구원을 받기 위해 신의 뜻을 따르려고 노력해야 합니다.
- ③ 과도한 욕심을 줄이고 정신적인 만족을 추구해야 합니다.
- ④ 모든 물질적 욕구를 버리고 자연의 순리에 따라야 합니다.
- ⑤ 만족스럽고 풍요로운 삶을 위해 권력과 명예를 좇아야 합니다.

9. 다음 토론의 핵심 쟁점으로 가장 적절한 것은?

갑: 개인의 행복 추구권 보장이나 사생활 보호를 위해 개인 정보에 대한 자기 결정권을 존중해야 합니다.
 을: 동의합니다. 다만 공익과 관련된 개인의 정보는 개인이 마음대로 삭제해서는 안 됩니다.
 갑: 아닙니다. 원하지 않는 개인의 정보를 삭제할 수 있는 '잊힐 권리'는 어떤 경우에도 무조건 보장해야 합니다.
 을: 그렇지 않습니다. '잊힐 권리'도 중요하지만 이를 지나치게 강조하면 국민의 '알 권리'가 심각하게 침해될 수 있습니다.

- ① 정보 사회에서 개인의 사생활을 존중해야 하는가?
- ② 정보의 가치는 사회적 효용으로 결정할 수 있는가?
- ③ 사이버 공간에서의 표현의 자유를 인정해야 하는가?
- ④ 해킹을 방지하기 위한 제도적 장치를 마련해야 하는가?
- ⑤ 개인 정보에 대한 자기 결정권을 절대적으로 보장해야 하는가?

10. 갑, 을의 입장으로 적절한 것만을 <보기>에서 고른 것은? [3점]

갑: 인간은 자연의 사용자이자 해석자이다. 인간의 지식이 곧 인간의 힘이며, 과학의 목적은 자연을 정복해 인간의 물질적 생활 수준을 향상시키는 데 있다.
 을: 인간은 생명 공동체의 평범한 구성원이자 시민이다. 우리는 인간에 대한 존중뿐만 아니라 생명 공동체 자체에 대한 존중을 통해 대지와 사람의 조화를 추구해야 한다.

— <보 기> —

ㄱ. 갑: 자연의 가치는 유용성을 기준으로 판단해야 한다.
 ㄴ. 을: 생태계 전체를 하나의 살아있는 유기체로 보아야 한다.
 ㄷ. 을: 인간은 자연의 지배자로서 책임 의식을 가져야 한다.
 ㄹ. 갑, 을: 생명을 지닌 모든 존재는 그 자체로 가치가 있다.

- ① ㄱ, ㄴ ② ㄱ, ㄷ ③ ㄴ, ㄷ ④ ㄴ, ㄹ ⑤ ㄷ, ㄹ

11. 갑, 을의 입장에 대한 옳은 설명만을 <보기>에서 고른 것은? [3점]

갑: 정부는 정보화 시대에 나타나는 소프트웨어의 불법 복제 문제를 해결하기 위해 노력해야 한다. 왜냐하면 많은 노력을 기울여 만든 지적 창작물에 대한 창작자의 권리가 법적으로 보장되지 않을 경우, 창작 의욕이 떨어져 사회 발전이 저해될 수 있기 때문이다.

을: 정부는 정보화 시대에 나타나는 정보 격차 심화 문제를 해결하기 위해 노력해야 한다. 왜냐하면 정보 격차를 해소하기 위한 각종 정부 지원 정책이 마련되지 않을 경우, 이는 사회 구성원 간의 사회적·경제적 격차를 심화시키는 요인이 되어 사회 발전을 저해할 수 있기 때문이다.

< 보 기 >

ㄱ. 갑은 생산된 정보를 창작자의 사유재산으로 보아야 한다고 본다.

ㄴ. 갑은 정보의 소유권을 강조하면 소프트웨어의 발전이 저해된다고 본다.

ㄷ. 을은 정보 격차를 줄이기 위한 사회 제도적 지원이 필요하다고 본다.

ㄹ. 을은 정보가 독점될수록 사회 구성원 간의 정보 격차가 축소될 것이라고 본다.

- ① ㄱ, ㄴ ② ㄱ, ㄷ ③ ㄴ, ㄷ ④ ㄴ, ㄹ ⑤ ㄷ, ㄹ

12. A, B에 대한 옳은 설명만을 <보기>에서 고른 것은? [3점]

○ 영국의 노동자들은 선거권의 확대, 무기명 투표 등을 요구하는 인민헌장(People's Charter)을 발표하고 **A** 을/를 전개하였다. 이 운동은 1838년부터 10여 년간 진행되었으나 지도부의 분열과 정부의 탄압 등으로 어려움을 겪었다.

○ 산업 혁명 이후 사회적 불평등이 심화되면서 국가가 사회적 약자를 보호해야 한다는 생각이 널리 퍼졌다. 이에 1919년 독일의 **B** 에 처음으로 국가가 모든 국민의 인간다운 생활을 보장해야 한다는 내용이 명시되었다.

< 보 기 >

ㄱ. A는 노동자들의 참정권이 보장되지 않는 것에 반발해 일어났다.

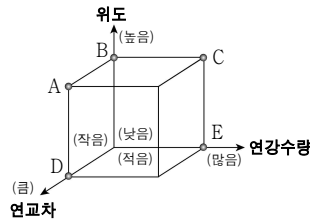
ㄴ. B에 명시된 사회권은 이후 여러 국가의 헌법 제정에 영향을 미쳤다.

ㄷ. A로 인해 B에서 최초로 자유와 평등이 국민의 권리로 명시되었다.

ㄹ. A와 B 모두 연대권의 보장을 목적으로 한다.

- ① ㄱ, ㄴ ② ㄱ, ㄷ ③ ㄴ, ㄷ ④ ㄴ, ㄹ ⑤ ㄷ, ㄹ

13. 그림은 두 지역의 전통 가옥을 나타낸 것이다. (가) 지역에 대한 (나) 지역의 상대적 특징을 그림의 A~E에서 고른 것은?



- ① A
② B
③ C
④ D
⑤ E

14. 다음 법률 조항이 보장하고자 하는 권리에 대한 옳은 설명만을 <보기>에서 고른 것은?

제1조 이 법은 국민의 주거 안정과 주거 수준의 향상에 이바지하는 것을 목적으로 한다.

제2조 국민은 물리적·사회적 위험으로부터 벗어나 쾌적하고 안정적인 주거 환경에서 인간다운 주거 생활을 할 권리를 갖는다.

< 보 기 >

ㄱ. 근대 시민 혁명을 계기로 확립된 권리이다.

ㄴ. 현대 사회에서 새롭게 강조되고 있는 권리이다.

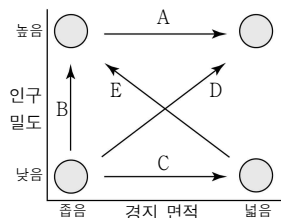
ㄷ. 국가의 간섭에서 벗어나 자유로운 생활을 보장하기 위한 권리이다.

ㄹ. 주거 취약 계층의 안정적인 주거 환경을 보장하기 위한 권리이다.

- ① ㄱ, ㄴ ② ㄱ, ㄷ ③ ㄴ, ㄷ ④ ㄴ, ㄹ ⑤ ㄷ, ㄹ

15. 자료에 제시된 지역의 변화로 옳은 것을 그래프의 A~E에서 고른 것은? [3점]


○○ 지역은 과거에는 논농사 중심의 전형적인 농촌이었다. 그러나 인근 대도시로 연결되는 고속 국도가 개통되면서 교통 여건이 크게 개선되어 인근 대도시로부터 많은 인구가 유입되었다. 이로 인해 논에는 대규모 아파트 단지가 들어섰고 대형 마트, 아울렛 등 각종 상업 시설들이 입지하였다.



- ① A
② B
③ C
④ D
⑤ E


16. 다음은 학습 주제에 대한 학생의 발표 장면이다. 이에 대한 옳은 설명만을 <보기>에서 고른 것은?

학습 주제 : 다양한 관점에서 우리나라의 인구 고령화 현상 이해하기




갭

저출산과 청·장년층의 인구 유출 등으로 인해 농촌의 노인 인구 비율이 도시보다 매우 높게 나타나고 있어요.




을

고령화가 진행됨에 따라 노인 부양을 위한 기초 연금 등 사회 복지 비용으로 국가 부담이 늘어났고 있어요.



병

고령화로 인해 증대되는 노인 부양 부담은 개인보다는 사회와 정부가 책임을 지는 것이 바람직하다고 생각해요.



정

1960년대부터의 출생률 감소와 의료 기술의 발달로 인한 평균 수명 증가 등으로 고령화 현상이 가속화되었어요.

<보 기>

ㄱ. 갭은 고령화 현상의 공간적 특징을 살펴보고 있다.
 ㄴ. 을은 제도적 측면에서 고령화 현상의 문제점을 분석하고 있다.
 ㄷ. 병은 고령화 현상을 가지 중립적인 입장에서 평가하고 있다.
 ㄹ. 정은 고령화의 진행 과정을 시간적 맥락과 무관하게 파악하고 있다.

① ㄱ, ㄴ ② ㄱ, ㄷ ③ ㄴ, ㄷ ④ ㄴ, ㄹ ⑤ ㄷ, ㄹ

17. 다음 글에서 강조하는 입장으로 가장 적절한 것은?

현대 사회에서 기업은 생산 활동의 주체로서 제품의 생산 및 유통, 소비에 이르는 전 과정에서 자연환경에 큰 영향을 준다. 따라서 기업은 주된 목적인 이윤 추구뿐만 아니라 환경 오염 물질의 배출량을 줄이기 위한 기반 시설을 정비하고 신·재생 에너지 개발 등에 힘써야 한다.

① 기업은 자연환경 보호에 관한 책임으로부터 자유로워야 한다.
 ② 기업은 이윤 창출 활동을 배제하고 자연환경을 보호해야 한다.
 ③ 기업은 환경 오염 문제 해결에 이바지하기 위해 노력해야 한다.
 ④ 기업은 시장 원리에 따라 오직 원가 절감을 위해 힘써야 한다.
 ⑤ 기업의 이윤 극대화 추구가 기업의 유일한 목적임을 알아야 한다.

18. 다음은 '세계 인권 선언' 중 일부이다. 이에 대한 옳은 분석만을 <보기>에서 있는 대로 고른 것은? [3점]

제1조 모든 사람은 태어날 때부터 자유롭고 존엄하며 평등하다.
 제27조 모든 사람은 자기가 속한 사회의 문화생활에 자유롭게 참여하고 예술을 즐기며 과학의 진보와 혜택을 공유할 권리가 있다.

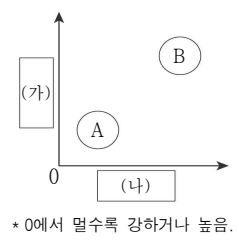
<보 기>

ㄱ. 인권은 보편적이고 천부적인 것이다.
 ㄴ. 인권은 누구나 차별 없이 누릴 수 있는 것이다.
 ㄷ. 모든 사람에게 문화권이 있음을 명시하고 있다.
 ㄹ. 인권은 필요한 경우 타인에게 양도 가능한 것이다.

① ㄱ, ㄴ ② ㄱ, ㄹ ③ ㄷ, ㄹ
 ④ ㄱ, ㄴ, ㄷ ⑤ ㄴ, ㄷ, ㄹ

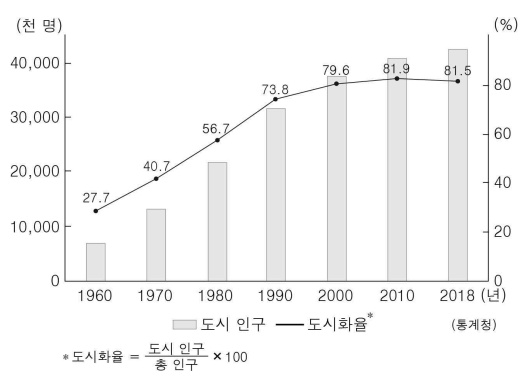
19. 다음 자료는 A, B의 일반적 특징을 비교한 것이다. 그래프의 (가), (나)에 들어갈 내용으로 옳은 것은? (단, A, B는 각각 전통 사회, 산업 사회 중 하나이다.)

구분	A	B
동력 자원	인력, 가축	석탄, 석유
산업 구조	농업 중심	제조업 중심
생산 방식	가내 수공업	공장제 기계공업



- | | (가) | (나) |
|---|------------|------------|
| ① | 공동체 의식 | 직업의 분화 정도 |
| ② | 공동체 의식 | 서비스 산업의 비중 |
| ③ | 직업의 분화 정도 | 1차 산업의 비중 |
| ④ | 토지 이용의 집약도 | 1차 산업의 비중 |
| ⑤ | 서비스 산업의 비중 | 토지 이용의 집약도 |

20. 그래프는 우리나라 도시 인구와 도시화율 변화를 나타낸 것이다. 이에 대한 옳은 설명만을 <보기>에서 있는 대로 고른 것은? [3점]



<보 기>

ㄱ. 1970년은 도시 인구보다 촌락 인구가 많다.
 ㄴ. 촌락 인구는 1960년이 2010년보다 더 많다.
 ㄷ. 3차 산업 종사자 비중은 1960년 > 1980년 > 2010년일 것이다.
 ㄹ. 1980년 ~ 1990년이 2000년 ~ 2010년보다 도시 인구가 많이 증가하였다.

① ㄱ, ㄷ ② ㄱ, ㄹ ③ ㄴ, ㄷ
 ④ ㄱ, ㄴ, ㄹ ⑤ ㄴ, ㄷ, ㄹ

* 확인 사항
 ○ 답안지의 해당란에 필요한 내용을 정확히 기입(표기)했는지 확인하시오.