

# 탐구 영역(통합사회)

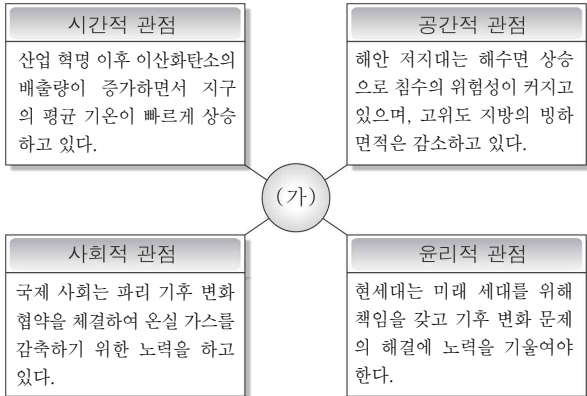
## 제 4 교시

성명

수험번호           1

1

1. 다음 자료는 어떤 환경 문제에 대한 통합적 관점을 나타낸 것이다. (가)에 해당하는 환경 문제로 옳은 것은?



- ① 황사                      ② 사막화                      ③ 산성비
- ④ 오존층 파괴            ⑤ 지구 온난화

2. 갑, 을의 자연관에 대한 옳은 설명을 <보기>에서 고른 것은? [3점]

**갑**: ○○ 지역에 스키장이 건설된 이후 스키를 즐기러 오는 사람들이 증가하였으며, 이에 따른 경제적 효과가 크게 나타나고 있다. 인간이 자연을 적극적으로 이용할 때 비로소 자연의 진정한 가치가 극대화될 수 있다.

**을**: ○○ 지역의 스키장 건설로 수백 년 동안 자라 온 나무들이 사라졌으며 생태계가 파괴되고 산사태의 위험성이 커졌다. 인간도 자연의 일부에 불과하므로 자연에 남긴 상처는 그대로 인간에게 돌아오게 된다.

< 보 기 >

ㄱ. 갑은 자연이 인간의 이익을 위한 도구라고 여긴다.  
 ㄴ. 을은 생태계의 균형과 안정을 중시한다.  
 ㄷ. 을은 갑과 달리 인간이 자연보다 우월한 존재라고 여긴다.  
 ㄹ. 갑, 을은 모두 자연을 개발과 극복의 대상으로 바라본다.

- ① ㄱ, ㄴ    ② ㄱ, ㄷ    ③ ㄴ, ㄷ    ④ ㄴ, ㄹ    ⑤ ㄷ, ㄹ

3. ㉠에 들어갈 내용으로 가장 적절한 것은?

탐구 활동 보고서 모둠명: □□□□

○ 탐구 주제:  ㉠

○ 탐구 목적: 세계의 다양한 커피가 수입되고 우리나라에서 커피 소비가 급증하면서 녹차 수요는 오히려 감소 추세에 있다. 그래서 우리 모듬은 우리 지역의 대표 상품인 '○○녹차'를 세계에 알리는 방안을 모색해 보고자 한다.

○ 탐구 내용

- 세계인의 입맛에 맞는 녹차 음식(녹차 식빵, 녹차 잼 등) 개발하기
- '○○녹차' 축제에서 다양한 녹차 체험 부스 만들기(녹차 화장품 체험)
- '○○녹차' 홍보 영상을 제작하고 누리 소통망(SNS)을 통해 전 세계에 홍보하기

- ① 세계화 시대의 지역화 전략
- ② 세계 도시의 형성과 발전 과정
- ③ 세계화를 통한 인류의 보편적 가치 확산
- ④ 공정 무역을 통한 지구촌 분배 정의 실현
- ⑤ 무역 장벽의 극복을 통한 다국적 기업의 성장

4. 열대 기후에서 나타나는 주민 생활의 모습을 그림의 ㉠~㉤에서 고른 것은?



- ① ㉠, ㉡    ② ㉠, ㉢    ③ ㉡, ㉣    ④ ㉡, ㉣    ⑤ ㉢, ㉣

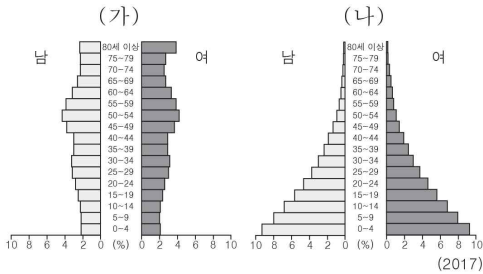
5. 다음에 나타난 생활의 변화에 대한 옳은 진술만을 <보기>에서 있는 대로 고른 것은?

고속 열차의 등장 이후 서울에서 부산까지 2시간 40분 정도면 이동할 수 있을 정도로 이동 시간이 단축되었다. 또한 자동차와 같은 교통수단을 개인이 소유하는 경우가 많아지면서 우리나라 전국 곳곳을 자유롭게 오가는 사람들이 많아졌다. 뿐만 아니라 항공 교통이 발달하면서 해외 여행객 수가 크게 증가하였다.

< 보 기 >  
 가. 지역 간의 접근성이 향상되었다.  
 나. 통근·통학 가능 범위가 확대되었다.  
 다. 여가 활동의 공간 범위가 축소되었다.  
 라. 경제 활동의 시·공간적 제약이 작아졌다.

- ① 가, 나                      ② 가, 다                      ③ 다, 라
- ④ 가, 나, 라                ⑤ 나, 다, 라

6. 그래프는 (가), (나) 국가의 인구 구조를 나타낸 것이다. 이에 대한 분석으로 옳은 것은? (단, (가), (나)는 독일, 우간다 중 하나임.) [3점]



- ① (가)는 (나)보다 기대 수명이 낮다.
- ② (가)는 (나)보다 인구 증가율이 높다.
- ③ (가)는 (나)보다 고령화 현상이 뚜렷하다.
- ④ (나)는 (가)보다 경제 발전 수준이 높다.
- ⑤ (나)는 (가)보다 출산 장려 정책의 필요성이 크다.

7. 문화 이해의 태도 A, B에 대한 설명으로 옳은 것은?

[A]는 자신의 생활양식을 가장 좋은 것으로 보고, 다른 것은 나쁘거나 열등한 것으로 보는 태도이다. 이 태도가 지나치면 민족적, 인종적 우월주의로 변질되어 갈등을 초래할 수 있다. 한편, [B]는 각각의 문화는 그 사회의 요구에 의해서만 판단될 수 있고, 절대적 판단 기준을 가질 수 없다고 보는 태도이다. 이에 따르면 특정의 문화는 그 사회의 필요에 의해 나타난 것이므로 존중받을 가치가 있다고 본다.

- ① A는 문화의 다양성을 추구한다.
- ② B는 각 사회의 문화는 나름의 의미를 지닌다고 본다.
- ③ B는 A와 달리 국제적 고립을 초래할 수 있다.
- ④ B는 A에 비해 집단 내의 일체감과 자부심을 높인다.
- ⑤ A, B는 모두 문화의 우열을 평가할 수 있다고 본다.

8. 다음 공약 내용이 공통적으로 추구하는 기본권에 대한 설명으로 가장 적절한 것은? [3점]

- ◇◇당: 1인 자영업자로 분류되어 노동자로 인정받지 못했던 특수고용직 노동자들에게도 노동 3권을 보장하여 삶의 질을 향상시킬 수 있는 노동 조건을 만들겠습니다.
- △△당: 기초 연금 지급액을 인상하여 어르신들의 경제적 어려움을 완화하고, 노후 생활의 안정에 기여하는 사회 안전망을 강화하겠습니다.

- ① 역사적으로 가장 오래된 권리이다.
- ② 국가에 의해 인간다운 삶을 보장받을 권리이다.
- ③ 국가의 의사 결정 과정에 참여할 수 있는 권리이다.
- ④ 국가로부터 간섭받지 않고 자유롭게 생활할 권리이다.
- ⑤ 기본권이 침해당했을 때 구제를 청구할 수 있는 권리이다.

9. 다음은 정보화에 관한 수업 장면의 일부이다. 교사의 질문에 대한 답변으로 가장 적절한 것은?

- ① 정보 시스템 보안 전문 인력을 양성해야 합니다.
- ② 악성 댓글 작성자에 대한 처벌을 강화해야 합니다.
- ③ 유해 사이트 접속을 차단하는 장치를 개발해야 합니다.
- ④ 정보 취약 계층을 대상으로 정보 활용 교육을 강화해야 합니다.
- ⑤ 개인 정보 도용을 막을 수 있는 법적·제도적 장치를 보완해야 합니다.

10. 밑줄 친 ㉠ ~ ㉣에 대한 옳은 설명을 <보기>에서 고른 것은?

[3점]

㉠ 합리적 선택은 비용과 ㉡ 편익을 고려하여 이루어진다. 그런데 어떤 이들은 특정 재화를 소비하면서 비용을 과소평가하는 오류를 범하곤 한다. 예를 들어 흡연자는 담뱃값만을 흡연의 비용으로 생각하지만, 흡연은 각종 질병의 원인이 되어 ㉢ 흡연하지 않았다면 유지할 수 있었던 건강을 해친다. 따라서 흡연자는 ㉣ 흡연을 위해 지불해야 하는 담뱃값뿐만 아니라 더 큰 비용을 지불해야 한다는 점을 유념하여야 한다.

< 보 기 >  
 가. ㉠은 비용보다 편익이 큰 선택을 의미한다.  
 나. ㉡에는 심리적 만족과 같은 비금전적 이익은 제외된다.  
 다. ㉢은 흡연의 기회비용에 포함된다.  
 라. ㉣은 흡연의 기회비용에 포함되지 않는다.

- ① 가, 나                      ② 가, 다                      ③ 나, 다                      ④ 나, 라                      ⑤ 다, 라

11. 다음에서 나타나는 건강 불평등 문제에 대한 옳은 설명을 <보기>에서 고른 것은? [3점]

주로 숲 모기에 의해 전염되는 지카 바이러스는 태아의 뇌 기능을 저하시켜 소두증을 일으킨다. 임신부와 태아의 건강을 위협하는 이 바이러스는 방충망을 살 돈이 없는 빈곤층, 하수 처리 시설이 미흡한 지역, 방역 시스템이 제대로 작동하지 않는 저소득 국가에서 주로 발생한다. 또한 이러한 건강 불평등 현상은 건강 보험 제도와 같은 사회 보장 제도가 취약한 지역에서 더 심각하게 나타난다.

< 보기 >

- ㄱ. 사회 계층에 따라 건강 불평등이 나타날 수 있다.
- ㄴ. 공간 불평등은 건강 불평등을 초래하는 요인이 된다.
- ㄷ. 선진국에서는 건강 불평등 문제가 나타나지 않는다.
- ㄹ. 건강 불평등 문제는 개인의 의식 개혁만으로 해결 가능하다.

- ① ㄱ, ㄴ    ② ㄱ, ㄷ    ③ ㄴ, ㄷ    ④ ㄴ, ㄹ    ⑤ ㄷ, ㄹ


12. ㉠에 들어갈 진술로 적절하지 않은 것은?

노인과 청년만이 무인도에 남겨 되었다. 청년은 노인보다 식량을 구하는 데는 3배, 물을 구하는 데는 2배 뛰어나다. 청년은 노인보다 식량과 물을 구하는 데 우위에 있기 때문에 청년 혼자서 두 가지 모두를 구하는 것이 생존에 유리해 보인다. 하지만 청년과 노인이 상대적으로 우위에 있는 부분을 전담하여 서로 교환하는 것이 둘 모두의 생존을 유리하게 한다. 이러한 원리를 두 나라 간의 무역에 적용하면 ㉠은 점을 알 수 있다.

- ① 개발 도상국도 선진국에 수출할 수 있다
- ② 무역에 참여한 두 나라 모두가 이득을 본다
- ③ 무역의 이득이 사회 구성원에게 균등하게 분배된다
- ④ 절대 열위에 있는 국가도 비교 우위를 가질 수 있다
- ⑤ 국내에서 생산하지 않은 상품도 소비가 가능해진다

13. 그림의 강연자가 지지할 입장으로 옳은 것을 <보기>에서 고른 것은? [3점]

평화는 소극적 평화와 적극적 평화로 나눌 수 있습니다. 소극적 평화는 물리적 폭력이 제거되어 직접적인 폭력의 사용이나 위협이 없는 상태를 의미합니다. 이와 달리 적극적 평화는 직접적 폭력뿐만 아니라 구조적이고 문화적 측면의 폭력까지 제거하여 모든 사람이 인간답게 살아갈 삶의 조건이 조성된 상태를 가리킵니다. 진정한 평화를 이루기 위해서는 소극적 평화에 머무르지 말고 적극적 평화를 실현하도록 노력해야 합니다.

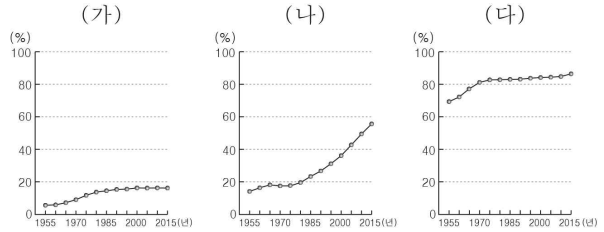


< 보기 >

- ㄱ. 물리적 폭력의 제거만으로도 진정한 평화가 실현된다.
- ㄴ. 적극적 평화의 실현과 삶의 질 향상은 서로 관련이 없다.
- ㄷ. 종교에 대한 차별은 적극적 평화의 실현을 어렵게 만든다.
- ㄹ. 정의롭지 못한 사회 제도는 적극적 평화 실현에 위협이 된다.

- ① ㄱ, ㄴ    ② ㄱ, ㄷ    ③ ㄴ, ㄷ    ④ ㄴ, ㄹ    ⑤ ㄷ, ㄹ

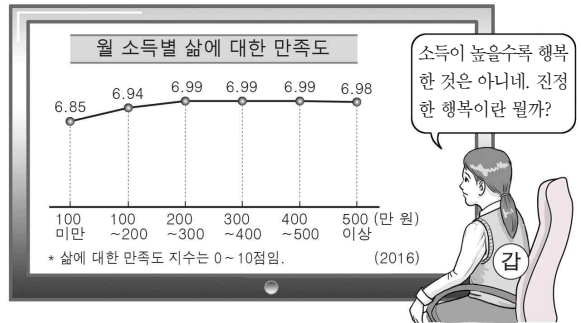
14. 그래프는 세 국가의 도시 인구 비율 변화를 나타낸 것이다. (가)~(다) 국가에 대한 설명으로 옳은 것은? [3점]



- ① (가)는 2015년에 도시 인구가 촌락 인구보다 많다.
- ② (가)는 (나)보다 2015년 도시화율이 높다.
- ③ (나)는 (다)보다 1990년 이후 이촌향도 현상이 뚜렷하다.
- ④ (다)는 (나)보다 산업화 시작 시기가 늦다.
- ⑤ 3차 산업 종사자 비중은 (가)>(나)>(다) 순으로 높다.

15. 다음 사상가의 입장에서 갑에게 할 수 있는 조언으로 가장 적절한 것은?

행복한 인생의 시작이자 끝은 쾌락이다. 왜냐하면 우리는 쾌락을 우리가 타고난 첫 번째 선(善)이라고 인식하기 때문이다. 이때의 쾌락은 방탕한 자들의 쾌락을 의미하는 것이 아니라 몸의 고통이나 마음의 혼란으로부터의 자유이다.



소득이 높을수록 행복한 것은 아니네. 진정한 행복이란 뭘까?

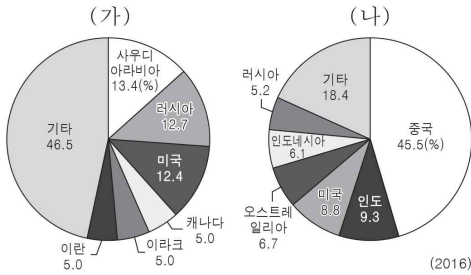
- ① 행복과 소득 수준이 항상 비례함을 명심하렴.
- ② 행복은 주어진 운명에 순응하며 사는 것임을 명심하렴.
- ③ 행복은 육체적 쾌락을 완전하게 충족하며 사는 것임을 명심하렴.
- ④ 행복은 물질적 욕구를 적극적으로 추구하며 사는 것임을 명심하렴.
- ⑤ 행복은 불필요한 욕구 충족이 아닌 평온한 마음을 유지하는 것임을 명심하렴.

16. 다음 정의의 원칙에 대한 입장으로 옳지 않은 것은? [3점]

정의의 두 원칙은 다음과 같다. 첫째, 개인은 기본적 자유에 있어 평등한 권리를 가져야 한다. 둘째, 사회적·경제적 불평등은 다음과 같은 두 가지 조건이 충족될 때 허용된다. 최소 수혜자에게 우선적으로 최대의 이익을 보장하도록 이루어져야 하고, 공정한 기회균등의 원칙에 따라 모든 사람에게 지위와 직책이 개방되어야 한다.

- ① 양심의 자유나 언론의 자유를 최대한 보장해야 한다.
- ② 사회 구성원의 경제적 이익 추구가 허용되어야 한다.
- ③ 개인의 자유를 침해하더라도 최소 수혜자를 도와야 한다.
- ④ 정의로운 사회에서도 사회적·경제적 불평등은 존재할 수 있다.
- ⑤ 지위나 직책에 오를 기회가 모두에게 공평하게 개방되어야 한다.

17. 그래프는 (가), (나) 에너지 자원의 국가별 생산 비중을 나타낸 것이다. 이에 대한 옳은 설명을 <보기>에서 고른 것은? (단, (가), (나)는 석유, 석탄 중 하나임.) [3점]



<보기>

- ㄱ. (가)는 산업 혁명 시기에 주요 에너지 자원이었다.
- ㄴ. (나)는 자동차와 항공기 등의 연료로 주로 사용된다.
- ㄷ. (가)는 (나)보다 국제 이동량이 많다.
- ㄹ. (가)는 (나)보다 세계에서 소비되는 양이 많다.

- ① ㄱ, ㄴ    ② ㄱ, ㄷ    ③ ㄴ, ㄷ    ④ ㄴ, ㄹ    ⑤ ㄷ, ㄹ

18. 다음에서 추론할 수 있는 밑줄 친 ㉠의 정당화 조건으로 적절하지 않은 것은?

국가가 정당하지 못한 권력을 행사할 때, 합법적인 절차와 다양한 시민 참여를 통해 이를 바로잡을 것을 국가에 요청할 수 있다. 그러나 이러한 모든 수단을 동원했음에도 국가의 부당한 권력 행사가 계속된다면 ㉠ 시민 불복종도 고려할 수 있다. 시민 불복종은 잘못된 법이나 정의롭지 못한 정책에 대하여 비폭력적 수단으로 준법을 거부하는 것을 말한다. 이것은 제재와 불이익을 감수하면서도 잘못된 제도에 저항하는 행위이다.

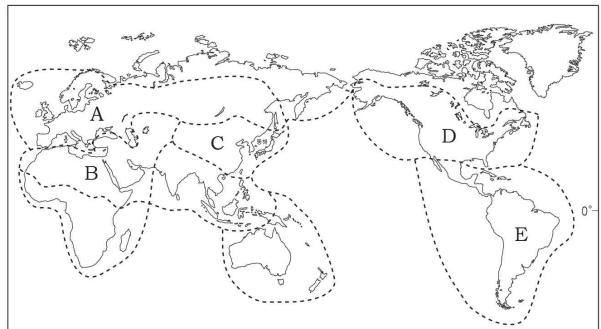
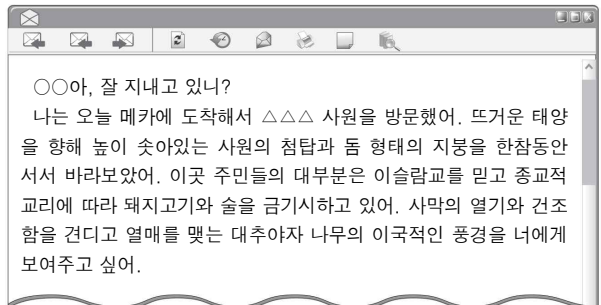
- ① 비공개적이고 은밀하게 이루어져야 한다.
- ② 사회 정의의 실현을 목표로 하는 행동이어야 한다.
- ③ 위법 행위에 따른 현행법상의 처벌을 감수해야 한다.
- ④ 다른 방법으로는 해결할 수 없는 최후의 수단이어야 한다.
- ⑤ 부당한 사회 제도에 변혁을 가져올 목적으로 행해져야 한다.

19. ㉠에 들어갈 진술로 가장 적절한 것은? [3점]

나는 한정된 재화로 모든 사람의 욕구를 충족시킬 수 없기 때문에 분배의 몫을 결정할 때에는 당사자들이 성취하고 이바지한 업적의 정도에 따라 분배해야 한다고 생각한다. 그런데 어떤 사람은 업적에 따라 분배할 경우 능력이 부족한 사람에게 불리한 결과가 나타나므로 사회 불평등의 문제를 개선하기 위해서는 사회 구성원들의 필요를 기준으로 분배해야 한다고 주장한다. 나는 필요에 따른 분배 방식이 ㉠ " "는 문제점이 있다고 생각한다.

- ① 타고난 능력의 우열이 지나치게 중시될 수 있다.
- ② 사회 구성원들 간의 경제적 격차가 커질 수 있다.
- ③ 경쟁을 과열시켜 비인간적인 사회를 만들 수 있다.
- ④ 열심히 일하려는 사람의 노동 의욕이 저하될 수 있다.
- ⑤ 사회적·경제적 약자에 대한 배려가 부족해질 수 있다.

20. 다음은 어느 문화권을 여행하면서 보낸 전자 우편 중 일부이다. 이에 해당하는 문화권을 지도의 A~E에서 고른 것은?



- ① A    ② B    ③ C    ④ D    ⑤ E

※ 확인 사항

답안지의 해당란에 필요한 내용을 정확히 기입(표기)했는지 확인하십시오.