

수학 영역

정답

1	②	2	④	3	③	4	⑤	5	②
6	⑤	7	④	8	③	9	①	10	②
11	⑤	12	①	13	②	14	③	15	①
16	③	17	①	18	④	19	③	20	⑤
21	④	22	10	23	16	24	4	25	8
26	13	27	50	28	24	29	96	30	28

해설

- [출제의도] 다항식 계산하기**
 $A - B = (x^2 + 5x + 4) - (x^2 + 2) = 5x + 2$
- [출제의도] 복소수 계산하기**
 $(2+i) + (2-3i) = (2+2) + \{1+(-3)\}i = 4-2i$
- [출제의도] 이차방정식 계산하기**
 이차방정식 $x^2 - 6x + a = 0$ 의 판별식을 D 라 하면 $D = 36 - 4a = 0$
 따라서 $a = 9$
- [출제의도] 나머지정리 이해하기**
 $f(x) = x^3 - x^2 + 3$ 이라 하면
 $f(x)$ 를 $x-2$ 로 나누었을 때의 나머지는
 $f(2) = 8 - 4 + 3 = 7$
- [출제의도] 도형의 평행이동 이해하기**
 직선 $2x + y + 5 = 0$ 을 x 축의 방향으로 2만큼,
 y 축의 방향으로 -1 만큼 평행이동한 직선의
 방정식은 $2(x-2) + (y+1) + 5 = 0$
 $2x + y + 2 = 0$
 따라서 $a = 2$
- [출제의도] 이차방정식의 근과 계수의 관계 이해하기**
 이차방정식의 근과 계수의 관계에 의하여
 $\alpha + \beta = -6, \alpha\beta = 7$
 $\alpha^2 + \beta^2 = (\alpha + \beta)^2 - 2\alpha\beta = (-6)^2 - 2 \times 7 = 22$
- [출제의도] 인수분해 이해하기**
 조립제법을 활용하여 $x^3 + 3x^2 - x - 3$ 을
 인수분해하면

1	1	3	-1	-3
		1	4	3
		1	4	3
		1	4	3
		1	4	3
		1	4	3
		1	4	3
		1	4	3
		1	4	3
		1	4	3

 $(x-1)(x^2 + 4x + 3) = (x-1)(x+1)P(x)$
 $(x-1)(x+1)(x+3) = (x-1)(x+1)P(x)$
 $P(x) = x+3$
 따라서 $P(1) = 1+3 = 4$
- [출제의도] 연립방정식 이해하기**
 $\begin{cases} x - y - 1 = 0 & \dots \textcircled{1} \\ x^2 - xy + 2y = 4 & \dots \textcircled{2} \end{cases}$
 $\textcircled{1}$ 에서 $y = x - 1$ 을 $\textcircled{2}$ 에 대입하면
 $x^2 - x(x-1) + 2(x-1) = 4$
 $x + 2x - 2 = 4$
 $3x = 6, x = 2$
 $y = 2 - 1 = 1$
 따라서 $\alpha + \beta = 2 + 1 = 3$

9. **[출제의도] 이차함수의 그래프와 직선의 위치 관계 이해하기**
 기울기가 5인 직선의 y 절편을 k 라 하면
 이차함수 $f(x) = x^2 - 3x + 17$ 의 그래프와
 직선 $y = 5x + k$ 가 한 점에서 만난다.
 이차방정식 $x^2 - 8x + 17 - k = 0$ 의 판별식을
 D 라 하면 $D = 64 - 4(17 - k) = 0$
 따라서 직선의 y 절편은 1

10. **[출제의도] 복소수 이해하기**

$$\frac{2a}{1-i} + 3i = 2 + bi$$

$$\frac{2a(1+i)}{(1-i)(1+i)} + 3i = 2 + bi$$

$$a(1+i) + 3i = 2 + bi$$

$$a + (a+3)i = 2 + bi$$

$$a = 2, b = 5$$

따라서 $a + b = 2 + 5 = 7$

11. **[출제의도] 나머지정리 이해하기**

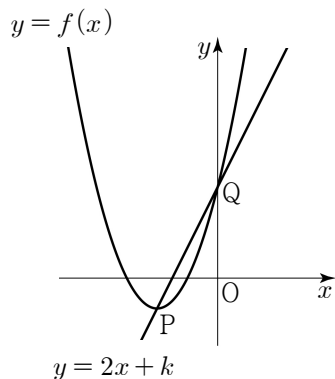
$f(x) = x^2 + ax + b$ 라 하면 나머지정리에 의하여
 $f(1) = 1 + a + b = 6 \dots \textcircled{1}$
 $f(3) = 9 + 3a + b = 6 \dots \textcircled{2}$
 $\textcircled{1}, \textcircled{2}$ 을 연립하면 $a = -4, b = 9$
 $f(x) = x^2 - 4x + 9$
 따라서 $f(x)$ 를 $x-4$ 로 나누었을 때의
 나머지는 $f(4) = 16 - 16 + 9 = 9$

12. **[출제의도] 선분의 내분을 활용하여 문제 해결하기**

삼각형 BOC 와 삼각형 OAC 의 넓이의 비는
 $2 : 1$ 이므로 $\overline{BO} : \overline{OA} = 2 : 1$
 점 O 는 선분 BA 를 $2 : 1$ 로 내분하는 점이다.
 $0 = \frac{a+6}{3}, a = -6$
 $0 = \frac{b+2}{3}, b = -2$
 따라서 $a + b = (-6) + (-2) = -8$

13. **[출제의도] 이차함수의 그래프 이해하기**

$f(x) = x^2 + 4x + 3 = (x+2)^2 - 1$
 직선 $y = 2x + k$ 가 점 $P(-2, -1)$ 을 지나므로
 $-1 = 2 \times (-2) + k, k = 3$
 $x^2 + 4x + 3 = 2x + 3$
 $x^2 + 2x = x(x+2) = 0$
 그러므로 점 Q 의 좌표는 $Q(0, 3)$
 따라서 선분 PQ 의 길이는
 $\sqrt{\{0 - (-2)\}^2 + \{3 - (-1)\}^2} = 2\sqrt{5}$

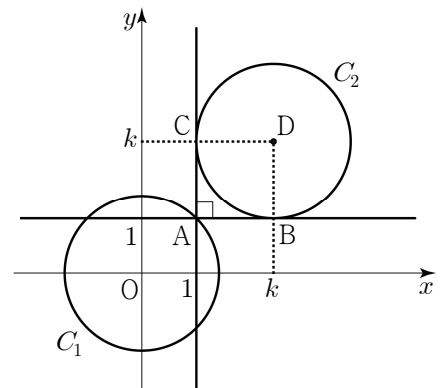


14. **[출제의도] 이차부등식을 활용하여 문제 해결하기**

$x^2 - (n+5)x + 5n \leq 0$
 $(x-n)(x-5) \leq 0$
 (i) $n < 5$ 일 때,
 부등식의 해는 $n \leq x \leq 5$
 정수 x 의 개수는 $6 - n$ 이므로 $6 - n = 3$
 $n = 3$
 (ii) $n = 5$ 일 때,
 $(x-5)^2 \leq 0$ 의 해는 $x = 5$

정수 x 의 개수는 1이므로 성립하지 않는다.
 (iii) $n > 5$ 일 때,
 부등식의 해는 $5 \leq x \leq n$
 정수 x 의 개수는 $n - 4$ 이므로 $n - 4 = 3$
 $n = 7$
 (i), (ii), (iii)에서
 모든 자연수 n 의 값의 합은 $3 + 7 = 10$

15. **[출제의도] 도형의 평행이동을 활용하여 문제 해결하기**



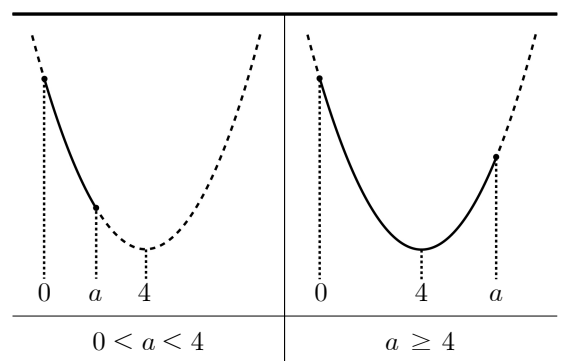
점 $A(1, 1)$ 에서 원 C_2 에 그은 두 접선이
 원 C_2 와 만나는 점을 각각 B, C 라 하고,
 원 C_2 의 중심을 $D(k, k)$ 라 하자.
 사각형 $ABDC$ 는 한 변의 길이가 $\sqrt{2}$ 인
 정사각형이다.
 $k > 2$ 이므로 $k = 1 + \sqrt{2}$

16. **[출제의도] 점과 직선 사이의 거리를 활용하여 문제 해결하기**

직선 AB 의 방정식은 $y = \frac{1}{2}x + 3$
 직선 AB 를 직선 $y = x$ 에 대하여 대칭이동한
 직선 $A'B$ 의 방정식은 $y = 2x - 6$
 점 C 와 직선 $A'B$ 사이의 거리는
 점 C 와 직선 AB 사이의 거리의 2배이다.
 $\frac{|-k-6|}{\sqrt{2^2+(-1)^2}} = \frac{|-2k+6|}{\sqrt{1^2+(-2)^2}} \times 2$
 $0 < k < 3$ 이므로 $k+6 = 2(-2k+6)$
 따라서 $k = \frac{6}{5}$

17. **[출제의도] 이차함수의 최솟값 추론하기**

$f(x) = x^2 - 8x + a + 6 = (x-4)^2 + a - 10$
 a 의 값에 따른 $y = f(x)$ 의 그래프의 개형은
 다음과 같다.



(i) $0 < a < 4$ 일 때,
 최솟값은 $f(a) = a^2 - 7a + 6 = (a-1)(a-6) = 0$
 $a = 1$ 또는 $a = 6$
 $0 < a < 4$ 이므로 $a = 1$
 (ii) $a \geq 4$ 일 때,
 최솟값은 $f(4) = a - 10 = 0$
 $a = 10$
 (i), (ii)에서 $f(x)$ 의 최솟값이 0이 되도록
 하는 모든 a 의 값의 합은 $1 + 10 = 11$

18. [출제의도] 두 직선의 위치 관계를 활용하여 추론하기

점 A(a, 4)는 직선 $l: y = \frac{1}{m}x + 2$ 위의

점이므로 $a = \boxed{2m}$

직선 BH는 직선 l에 수직이므로

직선 BH의 방정식은 $y = -m(x - \boxed{2m})$

$$\frac{1}{m}x + 2 = -m(x - 2m)$$

직선 l과 직선 BH가 만나는 점 H의 좌표는

$$H\left(\frac{2m^3 - 2m}{m^2 + 1}, \frac{4m^2}{m^2 + 1}\right)$$

선분 OH의 길이는

$$\sqrt{\left(\frac{2m^3 - 2m}{m^2 + 1}\right)^2 + \left(\frac{4m^2}{m^2 + 1}\right)^2}$$

$$= \frac{|2m|}{m^2 + 1} \sqrt{m^4 + 2 \times m^2 + 1}$$

$$= \frac{|2m|}{m^2 + 1}$$

이므로 선분 OH의 길이와 선분 OB의 길이가 서로 같다.

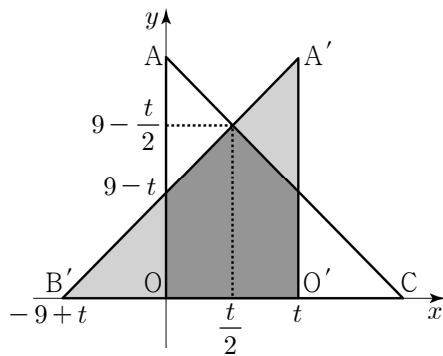
따라서 삼각형 OBH는 m의 값에 관계없이 이등변삼각형이다.

그러므로 $f(m) = 2m$, $g(m) = m^2 + 1$, $k = 2$

따라서 $f(2) \times g(2) = 4 \times 5 = 20$

19. [출제의도] 점의 평행이동을 활용하여 문제 해결하기

(i) $0 < t < 9$ 일 때,

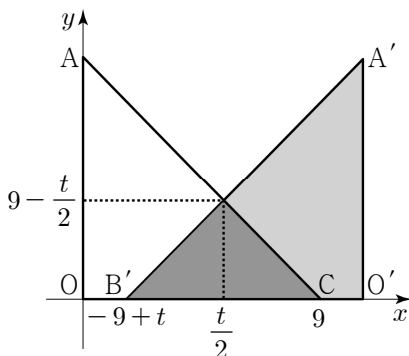


$$S(t) = 2 \times \frac{1}{2} \times \left(9 - t + 9 - \frac{t}{2}\right) \times \frac{t}{2}$$

$$= \frac{3}{4}t(12 - t) = -\frac{3}{4}(t - 6)^2 + 27$$

따라서 $t = 6$ 일 때, $S(t)$ 의 최댓값은 27

(ii) $9 \leq t < 18$ 일 때,



$$S(t) = \frac{1}{2} \times (18 - t) \times \left(9 - \frac{t}{2}\right) = \frac{1}{4}(t - 18)^2$$

따라서 $t = 9$ 일 때, $S(t)$ 의 최댓값은 $\frac{81}{4}$

(i), (ii)에서 $S(t)$ 의 최댓값은 27

20. [출제의도] 인수분해를 활용하여 추론하기

ㄱ. $P(\sqrt{n}) = (\sqrt{n})^4 + (\sqrt{n})^2 - n^2 - n = 0$ (참)

ㄴ. $P(x) = (x^2 - n)(x^2 + n + 1)$ 이므로

방정식 $P(x) = 0$ 은 $x = \sqrt{n}$, $x = -\sqrt{n}$ 만을 실근으로 가진다.

따라서 실근의 개수는 2 (참)

ㄷ. 모든 정수 k에 대하여

$P(k) = (k^2 - n)(k^2 + n + 1)$ 에서

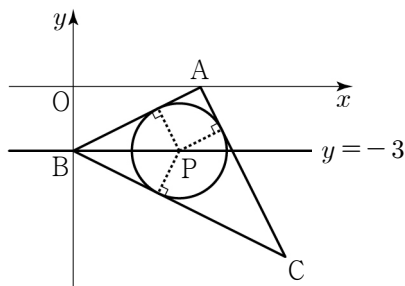
$k^2 + n + 1 > 0$ 이고, $P(k) \neq 0$ 을 만족시키려면 $n \neq k^2$ 이어야 하므로 n은 완전제곱수가 아닌 정수이다.

그러므로 n의 값은 2, 3, 5, 6, 7, 8

따라서 모든 n의 값의 합은 31 (참)

따라서 옳은 것은 ㄱ, ㄴ, ㄷ

21. [출제의도] 원과 직선의 위치 관계를 활용하여 문제 해결하기



직선 AB를 l이라 하면 $l: y = \frac{1}{2}x - 3$

직선 BC를 m이라 하면 $m: y = -\frac{1}{2}x - 3$

직선 CA를 n이라 하면 $n: y = -2x + 12$

삼각형 ABC에 내접하는 원의 중심 P의 좌표를 $P(a, b)$ 라 하자. (단, $0 < a < 10$)

점 P와 직선 l 사이의 거리와

점 P와 직선 m 사이의 거리가 같으므로

$$\frac{|a - 2b - 6|}{\sqrt{1^2 + (-2)^2}} = \frac{|a + 2b + 6|}{\sqrt{1^2 + 2^2}}$$

$$|a - 2b - 6| = |a + 2b + 6|$$

$$a = 0 \text{ 또는 } b = -3$$

$$0 < a < 10 \text{ 이므로 } b = -3 \dots \textcircled{1}$$

또한 점 P와 직선 m 사이의 거리와

점 P와 직선 n 사이의 거리가 같으므로

$$\frac{|a + 2b + 6|}{\sqrt{1^2 + 2^2}} = \frac{|2a + b - 12|}{\sqrt{2^2 + 1^2}}$$

$$\textcircled{1} \text{ 을 대입하면 } |a| = |2a - 15|$$

$$a = 15 \text{ 또는 } a = 5$$

$$0 < a < 10 \text{ 이므로 } a = 5$$

그러므로 $P(5, -3)$

따라서 선분 OP의 길이는

$$\sqrt{5^2 + (-3)^2} = \sqrt{34}$$

22. [출제의도] 다항식 계산하기

$$(x + 3)(x^2 + 2x + 4) = x^3 + 5x^2 + 10x + 12$$

따라서 x의 계수는 10

23. [출제의도] 이차함수의 최댓값 이해하기

$$f(x) = -x^2 - 4x + k = -(x + 2)^2 + k + 4$$

이차함수 $f(x)$ 의 최댓값은 $k + 4 = 20$

따라서 $k = 16$

24. [출제의도] 원의 방정식 계산하기

$$x^2 + y^2 - 2x + 4y - 11$$

$$= (x - 1)^2 + (y + 2)^2 - 5 - 11 = 0$$

원의 방정식은 $(x - 1)^2 + (y + 2)^2 = 16$

따라서 원의 반지름의 길이는 4

25. [출제의도] 이차함수의 그래프와 직선의 위치 관계 이해하기

이차함수 $f(x) = x^2 - 2x + k$ 의 그래프와

직선 $y = 3x + 1$ 이 만나지 않으므로 이차방정식

$x^2 - 5x + k - 1 = 0$ 의 판별식을 D라 하면

$$D = 25 - 4k + 4 < 0$$

$$k > \frac{29}{4}$$

따라서 자연수 k의 최솟값은 8

26. [출제의도] 연립부등식 이해하기

$$x^2 - x - 56 \leq 0 \text{ 에서 } (x + 7)(x - 8) \leq 0$$

$$-7 \leq x \leq 8 \dots \textcircled{1}$$

$$2x^2 - 3x - 2 > 0 \text{ 에서 } (x - 2)(2x + 1) > 0$$

$$x < -\frac{1}{2} \text{ 또는 } x > 2 \dots \textcircled{2}$$

$\textcircled{1}$, $\textcircled{2}$ 을 연립하면

$$-7 \leq x < -\frac{1}{2} \text{ 또는 } 2 < x \leq 8$$

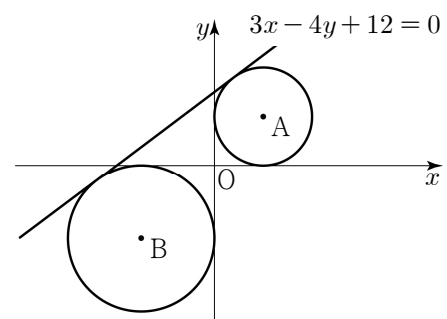
주어진 부등식을 만족시키는 정수 x는

-7, -6, -5, -4, -3, -2, -1,

3, 4, 5, 6, 7, 8

따라서 정수 x의 개수는 13

27. [출제의도] 원과 직선의 위치 관계를 활용하여 문제 해결하기



원의 중심을 (a, a)라 하면

점 (a, a)와 직선 $3x - 4y + 12 = 0$ 사이의 거리는 반지름의 길이 |a|와 같으므로

$$\frac{|3a - 4a + 12|}{\sqrt{3^2 + (-4)^2}} = |a|$$

$$|-a + 12| = 5|a|$$

양변을 제곱하여 정리하면

$$a^2 + a - 6 = 0$$

$$a = -3 \text{ 또는 } a = 2$$

제1사분면 위의 점을 A, 제3사분면 위의

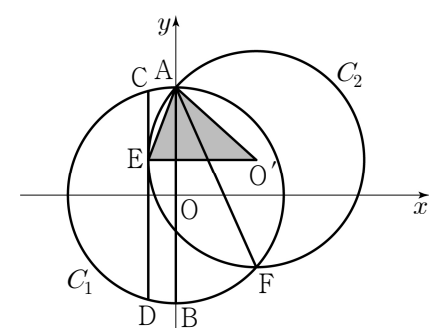
점을 B라 하면 $A(2, 2)$, $B(-3, -3)$

$$\text{따라서 } \overline{AB}^2 = \{2 - (-3)\}^2 + \{2 - (-3)\}^2 = 50$$

28. [출제의도] 원의 방정식을 활용하여 문제 해결하기

점 O를 중심으로 하는 원을 C_1 ,

점 O'을 중심으로 하는 원을 C_2 라 하자.



직선 CD는 원 C_2 의 접선이므로 직선 CD와 직선 EO'은 서로 수직이다.

$O'(a, b)$ 에 대하여 삼각형 AEO'의 넓이는

$$\frac{1}{2} \times 6 \times (6 - b) = 12$$

$$b = 2$$

따라서 원 C_2 의 방정식은

$$(x - a)^2 + (y - 2)^2 = 36$$

원 C_2 는 점 A(0, 6)을 지나므로

$$a^2 + 16 = 36$$

$$a^2 = 20$$

$$\text{따라서 } a^2 + b^2 = 24$$

29. [출제의도] 직선의 방정식을 활용하여 문제 해결하기

직선 AC의 기울기는

$$\frac{-2-2\sqrt{2}}{2} = -1-\sqrt{2}$$

직선 AC와 직선 BD는 서로 수직이므로

$$\text{직선 BD의 기울기는 } \frac{1}{1+\sqrt{2}} = \sqrt{2}-1$$

직선 BD의 방정식은

$$y = (\sqrt{2}-1)(x+2)$$

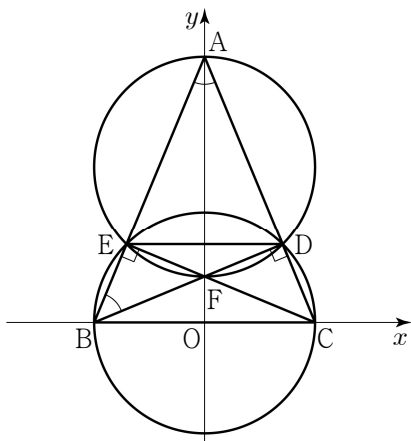
점 F의 좌표는 $F(0, -2+2\sqrt{2})$

따라서 선분 AF의 길이는 4

사각형 AEFD는 지름이 \overline{AF} 인 원에 내접하고,

사각형 BCDE는 지름이 \overline{BC} 인 원에 내접한다. 두 원의 지름의 길이가 같으므로 호 ED에 대한 원주각의 크기가 같다.

그러므로 $\angle EAD = \angle DBE$



삼각형 ABD는 직각이등변삼각형이므로 삼각형 BFE도 직각이등변삼각형이다.

$\overline{BE} = \overline{FE}$ 이므로 $l = 2\overline{AB}$

$$\overline{AB}^2 = \{0 - (-2)\}^2 + \{(2+2\sqrt{2}) - 0\}^2 = 16 + 8\sqrt{2}$$

$$l^2 = 4\overline{AB}^2 = 64 + 32\sqrt{2}$$

$$a = 64, b = 32$$

따라서 $a + b = 96$

(다른 풀이)

선분 AD의 길이를 a ,

선분 FD의 길이를 b 라 하자.

사각형 AEFD의 둘레의 길이는 $l = 2(a+b)$

삼각형 AFD가 직각삼각형이고,

선분 AF의 길이가 4이므로 $a^2 + b^2 = 16$

직선 BD의 방정식은

$$y = (\sqrt{2}-1)(x+2) \dots \textcircled{1}$$

직선 AC의 방정식은

$$y = (-1-\sqrt{2})(x-2) \dots \textcircled{2}$$

$\textcircled{1}$, $\textcircled{2}$ 을 연립하면

$$x = \sqrt{2}, y = \sqrt{2}$$

점 D의 좌표는 $D(\sqrt{2}, \sqrt{2})$

삼각형 AFD의 넓이는

$$\frac{1}{2}ab = \frac{1}{2} \times 4 \times \sqrt{2}$$

$$ab = 4\sqrt{2}$$

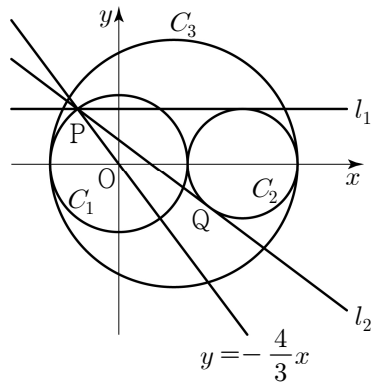
$$l^2 = 4(a^2 + 2ab + b^2)$$

$$= 4(16 + 8\sqrt{2}) = 64 + 32\sqrt{2}$$

$$a = 64, b = 32$$

따라서 $a + b = 96$

30. [출제의도] 원과 직선의 위치 관계를 활용하여 문제 해결하기



점 P의 좌표를 구하기 위해 직선의 방정식

$$y = -\frac{4}{3}x \text{와 원 } C_1 \text{의 방정식 } x^2 + y^2 = a^2 \text{을}$$

$$\text{연립하면 } x^2 = \left(\frac{3}{5}a\right)^2$$

점 P는 제2사분면 위의 점이므로

$$P\left(-\frac{3}{5}a, \frac{4}{5}a\right)$$

직선 l_1 과 원 C_2 가 만나는 점의 y 좌표는

$$\text{점 P의 } y \text{좌표와 같으므로 } b - a = \frac{4}{5}a$$

$$b = \frac{9}{5}a$$

점 P에서 원 C_2 에 그은 두 접선의 길이가 같으므로

$$\overline{PQ} = \frac{9}{5}a - \left(-\frac{3}{5}a\right) = \frac{12}{5}a$$

직선 l_2 의 기울기를 m 이라 할 때,

$$\text{직선 } l_2 \text{의 방정식은 } y = m\left(x + \frac{3}{5}a\right) + \frac{4}{5}a$$

$$5mx - 5y + (3m+4)a = 0$$

원 C_2 의 중심 $\left(\frac{9}{5}a, 0\right)$ 과 직선 l_2 사이의 거리는 원 C_2 의 반지름의 길이와 같다.

$$\frac{\left|5m \times \frac{9}{5}a + (3m+4)a\right|}{\sqrt{(5m)^2 + (-5)^2}} = \frac{4}{5}a$$

$$|12m+4| = 4\sqrt{m^2+1}$$

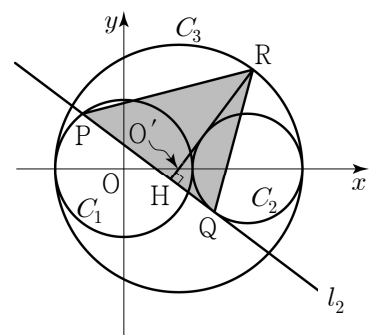
$$|3m+1| = \sqrt{m^2+1}$$

$$9m^2 + 6m + 1 = m^2 + 1$$

$$m(4m+3) = 0$$

$$m \neq 0 \text{이므로 } m = -\frac{3}{4}$$

따라서 직선 l_2 의 방정식은 $15x + 20y - 7a = 0$



원 C_3 의 중심을 O' 이라 하자.

점 $O'\left(\frac{4}{5}a, 0\right)$ 과 직선 l_2 사이의 거리는

$$\frac{\left|15 \times \frac{4}{5}a - 7a\right|}{\sqrt{15^2 + 20^2}} = \frac{5a}{25} = \frac{1}{5}a$$

점 R에서 직선 l_2 에 내린 수선의 발을 H라

하면, 직선 RH가 점 O' 을 지날 때

삼각형 PQR의 넓이가 최대이다.

그러므로 삼각형 PQR의 넓이의 최댓값은

$$\frac{1}{2} \times \frac{12}{5}a \times \left(\frac{1}{5}a + \frac{9}{5}a\right) = \frac{12}{5}a^2 = 240$$

$$a = 10, b = \frac{9}{5} \times 10 = 18$$

따라서 $a + b = 28$