

제 4 교시

사회탐구 영역 (정치와 법)

성명 [] 수험번호 [] 2 [] 제 [] 선택

1. 다음 글에 나타난 정치를 바라보는 관점에 대한 설명으로 옳은 것은?

우리는 학생회장 선거에서 대통령 선거와 비슷한 정치 양상을 볼 수 있다. 후보자 간 경쟁, 선거 운동, 투표, 때로는 흑색 선전이 보인다. 동시에 학생회장이 학교의 발전과 학생 복지를 공약하고 실천하는 모습도 볼 수 있다. 국가 차원에서 이루어지는 정치와 규모만 다를 뿐, 이런 모습도 정치이다.

- ① 정치의 주체를 소수 통치 엘리트로 한정한다.
- ② 국가와 사회 집단은 본질적으로 다르다고 본다.
- ③ 국가 형성 이전의 정치 현상을 설명하기 어렵다.
- ④ 다원화된 현대 사회의 정치 현상을 설명하는 데 적합하다.
- ⑤ 정치를 국가 및 통치 기구에 한정되어 나타나는 활동으로 본다.

2. 기본권 (가)~(다)에 대한 설명으로 옳은 것은? (단, (가)~(다)는 각각 사회권, 참정권, 평등권 중 하나이다.) [3점]

기본권	내용
(가)	• 국민 투표권 • 공무 부담권
(나)	• 인간다운 생활을 할 권리 • 단결권, 단체 교섭권, 단체 행동권
(다)	• 교육의 기회 균등 • 사회적 특수 계급 제도의 금지

- ① (가)는 국가 권력으로부터 간섭받지 않을 권리이다.
- ② (나)는 절차적이고 수단적인 성격의 권리이다.
- ③ (다)는 다른 기본권을 보장하는 데 전제가 되는 권리이다.
- ④ (나)와 (다)는 헌법에 열거되지 않아도 보장되는 포괄적 권리이다.
- ⑤ (가), (나), (다) 모두 국가 성립 이전부터 인정되는 권리이다.

3. A국의 대표 결정 방식을 우리나라 대통령 선거에 도입할 경우에 기대할 수 있는 일반적인 효과로 옳은 것은? [3점]

[A국의 대통령 선거 결과]

<t대>		<t+1대>		
후보자	득표율(%)	후보자	득표율(%)	
			1차 투표	2차 투표
갑	55.0	을	34.0	42.0
을	21.0	병	31.0	58.0
병	19.0	무	20.0	
정	5.0	기	10.0	
		정	5.0	

* A국의 <t대>와 <t+1대>의 대표 결정 방식은 동일함.

- ① 선거 비용이 절감될 것이다.
- ② 선거 관리가 용이해질 것이다.
- ③ 직접 선거 원칙이 강화될 것이다.
- ④ 당선자의 대표성이 높아질 것이다.
- ⑤ 입후보자의 난립이 방지될 것이다.

4. 법치주의의 유형 A, B에 대한 설명으로 옳은 것은?

우리가 A와 B를 나누어 비교하는 기준은 법치가 형식적으로만 이루어졌느냐 아니면 정당성이라는 실질적 내용을 갖추었느냐는 것이다. 서양 사회에서 의회에 의한 입법, 사법부에 의한 재판 등 권력 분립이 자리 잡으면서 법치주의는 모습을 갖춘 것으로 보였다. 그러나 제1, 2차 세계 대전을 거치면서 전체주의 세력이 의회를 장악한 가운데 제정한 법률로 시민들의 자유를 억압하고 유대인을 대학살하는 장면이 목격되었다. 이후 세계의 법학계에서 A만으로는 인간의 존엄이 보장되지 못한다는 반성을 하게 되었고, 합법성뿐 아니라 정당성도 갖는 B를 요구하는 시대가 된 것이다.

- ① A는 B와 달리 법의 형식보다는 법의 내용을 강조한다.
- ② A는 B와 달리 국가 기관의 권력 남용을 통제하는 제도를 강조한다.
- ③ B는 A와 달리 독재자의 통치권을 강화하는 수단으로 이용되기도 한다.
- ④ B는 A와 달리 개인의 자유나 권리 보장보다 공동체의 목적 달성을 중시한다.
- ⑤ A와 B는 모두 국민의 자유와 권리를 제한할 때 법적 근거가 있어야 한다고 본다.

5. 그림은 근대 사회 계약론자 갑~병의 가상 대화이다. 이에 대한 설명으로 옳은 것은? (단, 갑~병은 각각 홉스, 로크, 루소 중 하나이다.) [3점]

자연 상태는 자유롭고 평화롭지만, 옳고 그름을 구별하는 법이 없고, 다툼을 해결하는 재판관도 없으며, 법을 집행하는 합법적인 권력도 없습니다. 이러한 이유로 사람들은 생명, 자유, 재산의 안전한 보장을 위해 공동체를 결성할 수밖에 없습니다.

갑

글쎄요. 자연 상태에서 인간은 항상 공포와 두려움, 불신과 전쟁의 위험 속에 있습니다. 그래서 평화와 안전을 보장받기 위해 통치자에게 권리를 전부 양도하는 계약을 체결하는 것입니다.

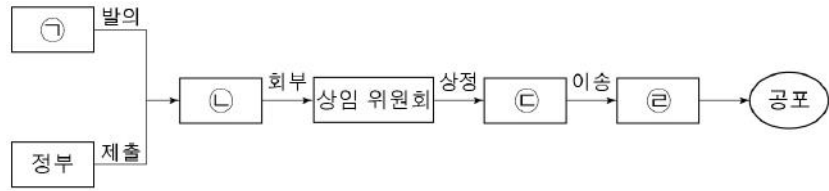
을

저는 그렇게 생각하지 않습니다. 계약을 체결하는 과정에서 주권은 나눌 수도, 양도할 수도 없는 것입니다.

병

- ① 갑은 자연 상태를 ‘만인의 만인에 대한 투쟁’ 상태로 보았다.
- ② 병은 정치권력을 입법권과 집행권으로 분리해야 한다고 주장하였다.
- ③ 을과 병은 대의 민주제의 도입을 주장하였다.
- ④ 을은 갑, 병과 달리 왕권 신수설을 옹호하였다.
- ⑤ 갑, 을, 병 모두 국가를 개인들의 권리 보장을 위한 수단이라고 보았다.

6. 그림은 우리나라 국회의 입법 과정을 나타낸 것이다. ㉠ ~ ㉣에 대한 옳은 설명만을 <보기>에서 고른 것은? [3점]



<보 기>

㉠. ㉠의 발의는 국회 의원 10인 이상의 찬성이 필요하다.
 ㉡. ㉡은 '국회 의장'으로 직권 상정의 권한을 갖는다.
 ㉢. ㉢에서 법률안을 의결하기 위해서는 재적 의원 과반수의 찬성이 필요하다.
 ㉣. ㉣은 법률안이 이송되면 즉시 이를 공포해야 한다.

- ① ㉠, ㉡ ② ㉠, ㉢ ③ ㉡, ㉢ ④ ㉡, ㉣ ⑤ ㉢, ㉣

7. 표에 대한 설명으로 옳은 것은? (단, 갑국과 을국의 정부 형태는 각각 전형적인 대통령제와 의원 내각제 중 하나이다.) [3점]

질문	갑국	을국
행정부 수반이 의회 선거와 별도로 실시되는 선거를 통해 선출되는가?	아니요	예
(가)	예	아니요
(나)	A	B

- ① (가)에는 '행정부가 법률안 제출권을 갖는가?'가 들어갈 수 있다.
 ② (나)가 '의회가 내각 불신임권을 행사할 수 있는가?'라면 A는 '아니요', B는 '예'이다.
 ③ 갑국은 을국과 달리 행정부가 의회를 견제할 수 있는 수단을 갖는다.
 ④ 을국은 갑국과 달리 의회 의원이 각료를 겸직할 수 있다.
 ⑤ 갑국과 을국은 모두 내각이 의회 해산권을 행사할 수 있다.

8. 우리나라 헌법 기관 A에 대한 설명으로 옳은 것은? [3점]

행정부의 주요 기관인 A 은(는) 영국 의원 내각제의 의결 기관인 내각 회의나 미국 대통령제의 단순 자문 기관인 장관 회의를 절충한 것과 같은 심의 기관의 성격을 갖는다. 우리나라 헌법 제89조에는 반드시 A 의 심의를 거쳐야 하는 17개 사항을 규정하고 있다.

- ① 국정 감사 및 국정 조사권을 갖는다.
 ② 헌법 개정안의 제안 및 의결권을 갖는다.
 ③ 국가의 세입과 세출에 관한 결산을 검사한다.
 ④ 구성원은 모두 국민의 직접 선거로 선출된다.
 ⑤ 심의 결과는 대통령에 대해 법적 구속력을 갖지 못한다.

9. 밑줄 친 정치 참여 집단 ㉠, ㉡의 일반적인 특징에 대한 옳은 설명만을 <보기>에서 고른 것은? (단, ㉠, ㉡은 각각 이익 집단과 시민 단체 중 하나이다.)



우리 ㉠○○ 단체는 비정규직 조합원의 차별 없는 급여 보장 및 근로 조건 개선을 위한 단체 교섭을 진행해 나갈 것입니다.
 노동 현안 개선을 위한 각 단체의 활동 방향을 말씀해 주시기 바랍니다.
 우리 ㉡△△ 단체는 노동 문제에 관심 있는 시민들의 자발적 네트워크로서 비정규직 관련법이 제정되도록 의회를 모니터링하고자 합니다.

<보 기>

㉠. ㉠은 특정한 분야에서 특수 이익 실현을 추구한다.
 ㉡. ㉡은 선거를 통해 평가 받음으로써 정치적 책임을 진다.
 ㉢. ㉢은 비영리성을 바탕으로 공공선을 추구한다.
 ㉣. ㉣은 행정부와 의회를 매개하는 역할을 수행한다.

- ① ㉠, ㉡ ② ㉠, ㉢ ③ ㉡, ㉢ ④ ㉡, ㉣ ⑤ ㉢, ㉣

10. 다음 글에서 강조하는 언론의 역할로 가장 적절한 것은?

학자들 사이에서 언론과 관련하여 가장 많이 사용되는 비유는 랩독(Lapdog)과 워치독(Watchdog)이다. 랩독은 말 그대로 주인의 무릎 위에 올라앉아 귀여움을 독차지하고 달콤한 간식을 받아먹는 '애완견'을 뜻한다. 랩독과 같은 언론은 정치권력에 비판적일 수 없다. 반면 워치독은 '감시견'을 뜻한다. 미국의 닉슨 대통령을 물러나게 했던 워싱턴 포스트의 워터게이트 사건 보도는 언론의 워치독 역할이 현실 세계에서 구현된 대표적인 사례이다. 이처럼 언론은 건강한 정치 권력을 만들고 자유주의 체제의 가치를 지키는 감시견 역할을 수행해야 한다.

- ① 정부 정책에 대한 해설과 홍보에 힘써야 한다.
 ② 정부가 권력을 남용하지 못하도록 견제해야 한다.
 ③ 정부 입장을 고려하여 보도 내용을 취사선택해야 한다.
 ④ 다양한 매체를 활용한 보도 환경이 조성되도록 해야 한다.
 ⑤ 시민의 다양한 정치적 견해를 집약하는 기능을 해야 한다.

11. 다음 자료에 대한 분석으로 옳은 것은? [3점]

갑국은 유권자가 후보 순번이 적힌 정당 명부를 보고 투표하여 총 10석의 의석을 배분하는 비례 대표제를 채택하고 있다. 유권자는 1표를 행사할 수 있으며, 한 번만 기표할 수 있다. 즉, 정당에 기표하거나 명부상 후보자 중 한 명에 기표한다. 개표 시에는 정당 득표수와 명부상 후보자별 득표수를 합하여 각 정당의 총득표수가 집계되고, 집계된 총득표수에 따른 정당별 총득표율에 비례하여 각 정당별 의석수가 배정된다. 정당별 의석수가 배정되면 정당 명부상 후보자의 다득표 순서대로 당선이 결정된다. 단, 득표수가 같은 경우에는 기존 명부상 순번대로 당선자를 결정한다. 표는 갑국 의회의 비례 대표 의원 선거 결과이다.

< 각 정당 및 명부상 후보자별 득표수 >
(단위: 만 표)

구분	A당	B당	C당	D당	
정당 득표수	250	10	240	50	
명부상 후보자별 득표수	1번 후보	5	20	10	30
	2번 후보	5	25	10	10
	3번 후보	5	5	10	10
	4번 후보	5	20	10	20
	5번 후보	5	20	30	20
	6번 후보	5	0	10	10
	7번 후보	5	0	20	30
	8번 후보	5	0	40	10
	9번 후보	5	0	10	10
	10번 후보	5	0	10	0

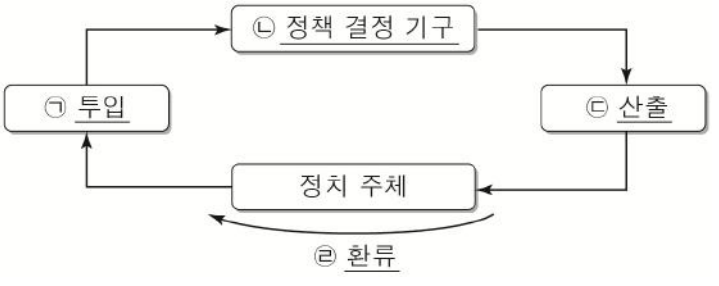
- ① A당이 가장 많은 비례 대표 의석을 배정 받는다.
- ② B당을 지지한 유권자의 의사는 과소 대표된다.
- ③ C당에서만 '명부상 5번 후보'가 대표로 선출된다.
- ④ 각 정당의 '명부상 1번 후보'는 모두 대표로 선출된다.
- ⑤ 정당 득표수는 각 후보의 당선 가능성에 영향을 주지 않는다.

12. 우리나라 헌법의 기본 원리 A를 실현하기 위한 방안으로 가장 적절한 것은?

A는 국가의 문화 국가 실현에 관한 과제 또는 책임을 통하여 실현되는 바, 국가의 문화 정책과 밀접한 관계를 맺고 있다. 과거에는 국가가 적극적으로 문화에 간섭하는 것을 당연한 것으로 여겼다. 그러나 오늘날에는 국가가 어떤 문화 현상에 대해서도 이를 선호하거나, 우대하는 경향을 보이지 않는 불편부당의 원칙이 가장 바람직한 정책으로 평가받고 있다. 문화 국가에서의 문화 정책은 그 초점을 문화 그 자체가 아니라 문화가 생겨날 수 있는 풍토를 조성하는 데 두어야 한다.

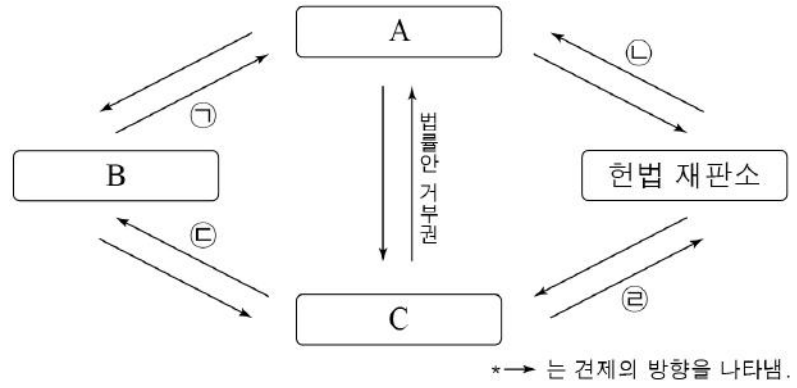
- ① 국제 평화를 위해 침략적 전쟁을 부인한다.
- ② 국가가 평생 교육 기관을 설립하여 운영한다.
- ③ 대중문화에 대한 국가의 지배와 간섭을 허용한다.
- ④ 대통령 선거에서 재외 국민에게 선거권을 부여한다.
- ⑤ 상호주의 원칙에 따라 국내 거주 외국인의 지위를 보장한다.

13. 그림은 정치 체계를 도식화한 것이다. 밑줄 친 ㉠~㉣에 대한 설명으로 옳지 않은 것은?



- ① 전자 민주주의의 확대는 ㉠을 더욱 활성화시킬 수 있다.
- ② 의회의 법률 제정은 ㉣으로서의 활동에 해당한다.
- ③ 개정된 법률에 따라 출산 지원 정책을 집행하는 것은 ㉣에 해당한다.
- ④ 정부 정책에 대한 지지 여부에 따른 투표 행위는 ㉡에 해당한다.
- ⑤ 일반적으로 권위주의 정부에서는 ㉣보다 ㉠이 활성화된다.

14. 그림은 우리나라 국가 기관 간의 견제 관계를 나타낸 것이다. 이에 대한 설명으로 옳은 것은? (단, A~C는 각각 국회, 정부, 법원 중 하나이다.) [3점]



- ① C는 A, B의 장(長)에 대한 임명권을 가진다.
- ② ㉠에는 '위헌 법률 심판 제청권'이 들어갈 수 있다.
- ③ ㉡에는 '탄핵 심판권'이 들어갈 수 있다.
- ④ ㉢에는 '명령·규칙·처분 심사권'이 들어갈 수 있다.
- ⑤ ㉣에는 '헌법 소원 심판권'이 들어갈 수 있다.

15. 밑줄 친 ㉠~㉣에 대한 옳은 설명만을 <보기>에서 고른 것은?

< 보 기 >

ㄱ. ㉠의 장은 조례를 제정할 수 있는 권한을 갖는다.
 ㄴ. ㉡은 지방 자치 단체의 자율성 실현에 기여한다.
 ㄷ. ㉢은 비례 대표 의원 없이 지역구 의원만으로 구성된다.
 ㄹ. ㉣에는 주민 투표 제도와 주민 소환 제도가 해당된다.

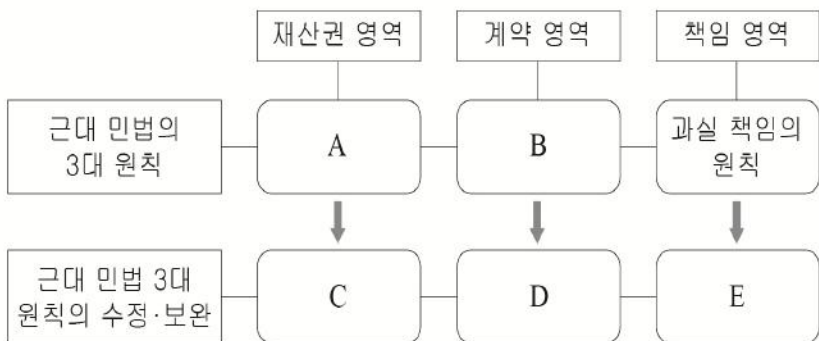
- ① ㄱ, ㄴ ② ㄱ, ㄷ ③ ㄴ, ㄷ ④ ㄴ, ㄹ ⑤ ㄷ, ㄹ

16. 다음 사례에 대한 법적 판단으로 옳은 것은? [3점]

갑은 외부 계단이 유일한 출입로인 을 소유의 건물 2층에서 식당을 운영하고 있다. 어느 날 병은 갑의 식당에서 식사를 마친 후 계단 난간을 잡고 내려오던 중, 부식된 난간의 일부가 부러지는 바람에 넘어져 구르면서 중상을 입었다.

- ① 갑은 과실 유무와 상관없이 손해 배상 책임을 진다.
- ② 을은 특수 불법 행위로 인한 손해 배상 책임을 질 수 있다.
- ③ 병은 치료비 이외에 별도의 위자료를 청구할 수 없다.
- ④ 갑과 을은 공동 불법 행위자의 손해 배상 책임을 질 수 있다.
- ⑤ 병은 1차적으로 을에게 손해 배상 책임을 물어야 한다.

17. A~E에 대한 설명으로 옳은 것은?



- ① A는 사유 재산권 보호의 상대성을 전제로 한다.
- ② B는 사적 자치의 원칙에 제한을 가한 것이다.
- ③ C는 개인의 재산에 대한 국가의 간섭을 배제하는 데 기여한다.
- ④ D를 적용한 사례로 개발 제한 구역 지정을 들 수 있다.
- ⑤ E를 적용한 사례로 우리나라의 제조물 책임법을 들 수 있다.

18. 다음 글을 통해 도출할 수 있는 지방 자치 발전 방안으로 가장 적절한 것은?

△△시는 역사 유적 보전 사업을 추진하고자 하였으나 재개발을 원했던 지역 주민들의 반대에 부딪혔다. 이에 △△시는 지역 재개발을 위해 설립된 주민 조합과 40회가 넘는 심층 면담을 진행했고, 15차례에 걸쳐 주민 대상 간담회도 열었다. △△시청 업무 담당자는 “대화를 통해 입장 차이를 확인한 뒤 대안을 제시하는 과정을 반복했습니다. 그리고 무엇보다 신뢰를 토대로 의견 차이를 좁히면서 주민들의 동의를 구할 수 있었습니다.”라고 설명하였다. △△시의 역사 유적 보전 사업은 지방 자치 단체에서 발생한 갈등을 성공적으로 해결한 사례로 언급되고 있다.

- ① 주민 자치보다 단체 자치 실현에 노력해야 한다.
- ② 지방 자치 단체와 중앙 정부의 역할을 명확히 구분해야 한다.
- ③ 정책 결정 과정에서 해당 지역 주민과의 소통을 강화해야 한다.
- ④ 중앙 정부로부터 지방 자치 단체의 재정 자립도를 높여야 한다.
- ⑤ 지방 자치 단체 간 갈등을 조정하고 해결할 수 있는 제도를 마련해야 한다.

19. 민주 선거의 원칙 A, B에 대한 설명으로 옳은 것은?

○ 공직 선거법에 주민 등록이 되어 있는 자를 선거권자로 규정함으로써 국외에 거주하는 국민이라는 이유만으로 선거권을 행사할 수 없게 된 것은 [A] 원칙에 어긋나는 것이다.

○ 공직 선거법에 규정된 국회 의원 지역구 선거구 간 인구 편차가 허용 범위를 넘어서서 유권자의 한 표가 대표 결정에 미치는 영향력이 과도하게 차이나는 것은 [B] 원칙에 어긋나는 것이다.

- ① A는 일정 연령 이상의 모든 국민에게 투표권을 부여하는 원칙이다.
- ② A는 유권자에게 같은 수의 표를 배부하여 표의 가치에 차등을 두지 않는 원칙이다.
- ③ B는 유권자가 누구에게 투표했는지를 타인이 알 수 없게 하는 원칙이다.
- ④ B는 유권자가 대리인을 통하지 않고 대표자를 직접 선출하는 원칙이다.
- ⑤ A는 평등 선거, B는 보통 선거이다.

20. (가)~(다)의 사례로 옳지 않은 것은? [3점]



- ① (가) - 부모의 동의 없이 계약서를 작성하고 최고급 노트북을 구매한 경우
- ② (가) - 성인인 것처럼 신분증을 위조하여 최신형 핸드폰을 구매한 경우
- ③ (나) - 고가의 자전거 판매자가 미성년자의 법정 대리인에게 계약을 취소할 것인지 확인을 요구하는 경우
- ④ (나) - 미성년자와 거래했음을 나중에 알게 된 고가의 게임기 판매자가 계약을 철회하는 경우
- ⑤ (다) - 용돈으로 참고서를 구매하는 경우

* 확인 사항

○ 답안지의 해당란에 필요한 내용을 정확히 기입(표기)했는지 확인 하시오.