

제 4 교시

사회탐구 영역(사회·문화)

성명

수험 번호

1. 밑줄 친 ㉠, ㉡과 같은 현상의 일반적인 특징에 대한 설명으로 옳은 것은? [3점]

우리나라에 영향을 미치는 황사는 주로 봄철에 중국이나 몽골의 사막에 있는 ㉠ 모래와 먼지가 편서풍을 타고 이동한 것이다. 이에 정부에서는 황사로 인한 피해를 최소화하기 위해 황사가 발생한 후 ㉡ 황사의 이동 경로를 예측하여 제공하고 있다.

- ① ㉠과 같은 현상은 ㉡과 같은 현상과 달리 인과 관계가 불분명하다.
- ② ㉠과 같은 현상은 ㉡과 같은 현상과 달리 예외적인 현상이 존재한다.
- ③ ㉡과 같은 현상은 ㉠과 같은 현상과 달리 보편성을 지닌다.
- ④ ㉡과 같은 현상은 ㉠과 같은 현상과 달리 인간의 의지가 개입되어 나타난다.
- ⑤ ㉡과 같은 현상은 ㉠과 같은 현상과 달리 확실성의 원리를 따른다.

2. 개인과 사회의 관계를 바라보는 갑, 을의 관점에 대한 옳은 설명을 <보기>에서 고른 것은?



< 보 기 >

- ㄱ. 갑은 사회 문제의 해결 방안으로 의식 개혁보다 제도 개선을 중시한다.
- ㄴ. 을은 개인의 행동이 사회의 영향을 받는다고 본다.
- ㄷ. 갑은 을과 달리 집단의 역량은 구성원들의 능력에 의해 결정된다고 본다.
- ㄹ. 을은 갑과 달리 개개인의 발전이 곧 사회의 발전이라고 본다.

- ① ㄱ, ㄴ ② ㄱ, ㄷ ③ ㄴ, ㄷ ④ ㄴ, ㄹ ⑤ ㄷ, ㄹ

3. 밑줄 친 자료 수집 방법 ㉠, ㉡에 대한 옳은 설명을 <보기>에서 고른 것은? [3점]

연구자 갑과 을은 청소년들의 인터넷 중독 실태에 대한 연구를 진행했다. 갑은 중·고등학생 총 1,000명을 대상으로 ㉠ 설문 조사를 통해 자료를 수집했다. 반면 을은 인터넷 중독 경험이 있는 청소년 5명을 대상으로 ㉡ 심층 면접을 통해 자료를 수집했다.

< 보 기 >

- ㄱ. ㉡은 주로 문서화된 질문지를 통해 자료를 수집한다.
- ㄴ. ㉠은 ㉡에 비해 다수를 대상으로 한 자료 수집에 유리하다.
- ㄷ. ㉠은 ㉡과 달리 연구자와 연구 대상자 간의 정서적 교감이 중요하다.
- ㄹ. ㉠과 ㉡은 모두 언어적 상호 작용이 필수적이다.

- ① ㄱ, ㄴ ② ㄱ, ㄷ ③ ㄴ, ㄷ ④ ㄴ, ㄹ ⑤ ㄷ, ㄹ

4. 표에 대한 설명으로 옳은 것은? (단, A와 B는 각각 공유성, 전체성 중 하나이다.)

문화의 속성	문화의 속성이 부각된 사례
A	(가)
변동성	(나)
B	청소년들의 학습 문화, 놀이 문화 등은 스마트폰 문화와 깊이 연관되어 있다.

- ① A는 전체성, B는 공유성이다.
- ② A는 특정 상황에서 타인의 행동을 예측할 수 있게 한다.
- ③ B는 문화가 후천적으로 습득된 생활 양식임을 의미한다.
- ④ (가)에 '훈민정음 초기의 자음 개수와 현재 사용되는 자음 개수는 다르다.'가 들어갈 수 있다.
- ⑤ (나)에 '마오리족은 만났을 때 서로 자연스럽게 코를 비비거나 부딪쳐서 인사를 한다.'가 들어갈 수 있다.

5. 밑줄 친 ㉠~㉤에 대한 설명으로 옳은 것은? [3점]

갑은 ㉠ 대학교를 졸업하고 ㉡ 기업에 입사해 영업부에서 근무했다. 갑은 업무 성과를 인정받아 신규 프로젝트 사업의 ㉢ 팀장이 되어 장기간 해외 출장을 가게 되었다. 하지만 병원에 ㉣ 입원 중인 아버지를 돌보아야 하는 갑은 해외 출장을 가야 할지 말아야 할지 ㉤ 고민하고 있다.

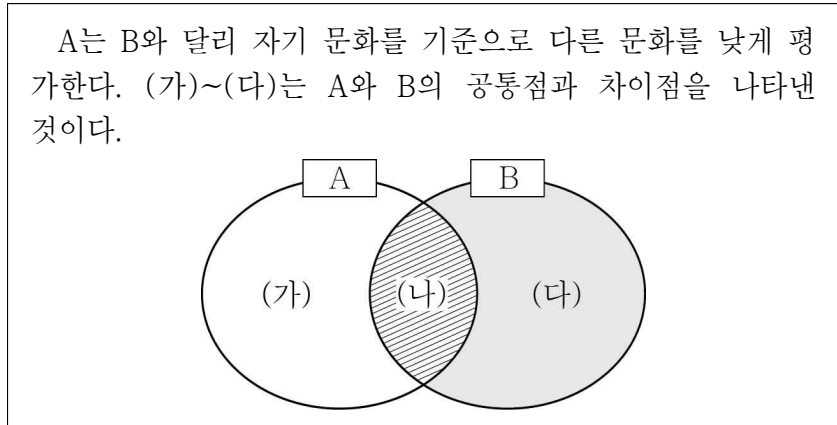
- ① ㉠은 기초적인 수준의 사회화를 담당한다.
- ② ㉡은 사회화를 목적으로 설립된 공식적 사회화 기관이다.
- ③ ㉢은 귀속 지위이다.
- ④ ㉣은 갑의 회사원으로서의 역할에 해당한다.
- ⑤ ㉤은 갑의 역할 갈등에 해당한다.

시·치·타·그·여·여

2

(사회·문화)

6. 다음 자료에 대한 설명으로 옳은 것은? (단, A와 B는 각각 문화 상대주의, 자문화 중심주의 중 하나이다.) [3점]



- ① A는 B에 비해 자문화의 정체성을 상실할 우려가 높다.
- ② B는 A와 달리 문화 제국주의로 변질될 가능성이 높다.
- ③ (가)에 '문화를 해당 사회의 맥락에서 이해한다.'가 들어갈 수 있다.
- ④ (나)에 '문화 간 우열을 평가할 수 있다고 본다.'가 들어갈 수 있다.
- ⑤ (다)에 '자기 문화의 우수성을 강조한다.'가 들어갈 수 있다.

7. 다음 대화에 대한 설명으로 옳은 것은?

갑: 세계화가 진행되어 다른 사회의 문화를 접할 기회가 증가하면 문화 요소 간 결합에 의해 새로운 문화가 나타날 수 있습니다.
 을: 그렇지 않습니다. 세계화로 인해 거대 자본과 기술을 가진 선진국 문화에 저개발 국가들의 문화가 종속되어 그들의 고유한 전통 문화가 사라질 수도 있습니다.

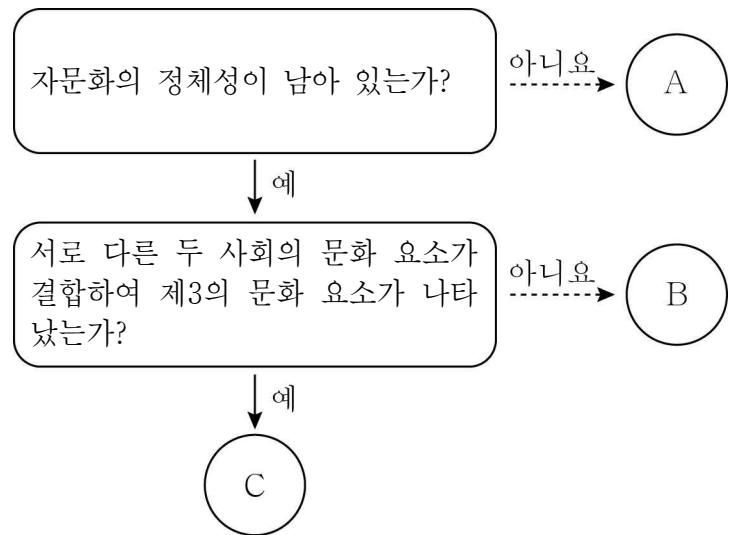
- ① 갑은 세계화로 인해 문화의 다양성이 확대될 것이라고 본다.
- ② 을은 세계화가 개별 국가의 문화적 정체성을 강화시킬 것이라고 본다.
- ③ 을은 세계화로 인해 개별 국가의 문화 정책에 대한 자율성이 신장될 것이라고 본다.
- ④ 갑은 을과 달리 외래문화의 수용에 대해 부정적인 입장이다.
- ⑤ 을은 갑과 달리 세계화를 긍정적인 입장에서 바라보고 있다.

8. 밑줄 친 ㉠~㉣에 대한 설명으로 옳은 것은?

IT 기술의 발달로 인터넷을 통해 누구나 쉽게 동영상 올릴 수 있게 되면서 다양한 분야의 ㉠ 1인 미디어가 인기를 얻고 있다. 1인 미디어는 방송을 시청하면서 자신의 의견을 실시간으로 전달할 수 있어 인기가 높다. 최근에는 ㉡ 종이 신문이나 ㉢ TV 대신 1인 미디어를 통해 정보를 얻을 뿐만 아니라 이를 직접 제작하는 사람들이 늘고 있다.

- ① ㉠은 쌍방향 매체이다.
- ② ㉡은 시청각 정보를 제공한다.
- ③ ㉠은 ㉢과 달리 정보가 왜곡되어 전달되지 않는다.
- ④ ㉡은 ㉠보다 정보 전달의 속도가 빠르다.
- ⑤ ㉢은 ㉡과 달리 정보의 생산자와 소비자 간 경계가 모호하다.

9. 그림의 A~C에 해당하는 문화 접변의 양상으로 옳은 것은? (단, A~C는 각각 문화 동화, 문화 병존, 문화 융합 중 하나이다.) [3점]



- | | A | B | C |
|---|-------|-------|-------|
| ① | 문화 동화 | 문화 병존 | 문화 융합 |
| ② | 문화 동화 | 문화 융합 | 문화 병존 |
| ③ | 문화 병존 | 문화 동화 | 문화 융합 |
| ④ | 문화 병존 | 문화 융합 | 문화 동화 |
| ⑤ | 문화 융합 | 문화 병존 | 문화 동화 |

10. 다음 글에 나타난 사회화를 바라보는 관점에 부합하는 진술을 <보기>에서 고른 것은?

인간은 상대방의 반응을 통해 자신의 행동 방식을 형성한다. 영·유아기에는 부모로부터 호의적인 반응을 불러일으키는 행동 방식을 선택한다. 점차 성장해 가면서는 친구, 교사 등 다른 사람의 반응이 어떤지를 보면서 각자 자기 나름대로의 행동 방식과 가치를 재구성하게 된다.

- < 보 기 > —
- ㄱ. 사회화는 타인과의 상호 작용을 통해 이루어진다.
 - ㄴ. 사회화는 지배 집단의 가치를 주입하는 과정이다.
 - ㄷ. 사회화 과정에서 접촉하는 대상에 따라 사회화의 내용이 달라질 수 있다.
 - ㄹ. 사회화를 통해 사회의 모든 구성원이 동일한 행동 방식과 가치를 갖게 된다.

- ① ㄱ, ㄴ ② ㄱ, ㄷ ③ ㄴ, ㄷ ④ ㄴ, ㄹ ⑤ ㄷ, ㄹ

(사회·문화) 사회탐구 영역

3

11. 밑줄 친 ㉠~㉣에 대한 설명으로 옳은 것은?

㉠ 언어를 통한 의사소통은 모든 사회에서 이루어진다. 하지만 그 방식은 사회마다 다르게 나타난다. 정착 생활이 이루어지는 농경 문화에서는 ㉡ 의식주 등 생활 전반에 걸쳐 구성원 간에 공유하는 문화 요소가 많기 때문에 불명확한 ㉢ 언어로 표현하더라도 상황을 통한 의사소통이 가능하다. 이에 반해 이동이 잦은 ㉣ 유목 문화에서는 전달하고자 하는 내용을 명확하게 표현한다. 상대방이 나의 상황을 잘 모를 것이라고 생각하기 때문이다. 따라서 ㉤ 각 사회의 사회·문화적 환경을 파악하는 것은 해당 사회의 언어를 통한 의사소통 방식을 이해하는 데 도움이 된다.

- ① ㉠은 문화가 개별 사회마다 특수성을 지니고 있음을 보여 준다.
- ② ㉡은 비물질문화에 해당한다.
- ③ ㉢은 물질문화에 해당한다.
- ④ ㉣에서의 문화는 좁은 의미로 사용되었다.
- ⑤ ㉤은 문화 요소들이 서로 연관되어 있음을 보여 준다.

12. 표는 갑~병의 주말 일정표이다. 밑줄 친 ㉠~㉣에 대한 설명으로 옳지 않은 것은? [3점]

구분	갑	을	병
토	㉠ 회사 내 등산 동호회에서 산행	㉡ ◇◇ 시민 단체 운영 위원회 참석	㉢ △△팀을 상대로 한 조기 축구회 친선 경기 참가
일	㉣ ○○고등학교 동창회 회장으로서 임원 회의 참석	㉤ 가족과 뮤지컬 관람	㉥ □□ 팬클럽 정기 모임 참석

- ① ㉠은 형식적 인간관계가 지배적인 집단이다.
- ② ㉡은 갑의 소속 집단이자 이익 사회이다.
- ③ ㉢은 공익을 추구하는 이익 사회이다.
- ④ ㉤은 ㉣과 달리 공동 사회이다.
- ⑤ ㉥과 ㉤은 병의 내집단이다.

13. 밑줄 친 ㉠, ㉡에 대한 옳은 설명을 <보기>에서 고른 것은?

㉠ 장애인 의무 고용 제도에 따라 국가와 지방 자치 단체의 장은 장애인을 소속 공무원의 일정 비율 이상 고용해야 한다. 이에 대해 비장애인 취업 준비생 중 일부는 그 비율이 과도하다고 주장하며 제도의 ㉡ 부작용을 지적하고 있다.

< 보 기 >

㉠. ㉠은 경력에 따른 분배 기준을 적용한 것이다.
 ㉡. ㉠은 사회적 약자에 대한 적극적 우대 조치에 해당한다.
 ㉢. ㉡의 예로 계층 간 소득 불평등 심화를 들 수 있다.
 ㉣. 비장애인 취업 준비생 중 일부가 주장하는 ㉡으로 역차별을 들 수 있다.

- ① ㉠, ㉡ ② ㉠, ㉢ ③ ㉡, ㉢ ④ ㉡, ㉣ ⑤ ㉢, ㉣

14. 표는 갑국의 유소년 인구와 노년 인구 비율의 변화를 나타낸 것이다. 이에 대한 옳은 분석을 <보기>에서 고른 것은? (단, 갑국의 인구는 변동이 없다.) [3점]

(단위: %)

구분	1998년	2008년	2018년
유소년(0~14세) 인구 비율	20	15	10
노년(65세 이상) 인구 비율	10	20	30

* 유소년 부양비 = $\frac{0 \sim 14\text{세 인구}}{15 \sim 64\text{세 인구}} \times 100$

** 노년 부양비 = $\frac{65\text{세 이상 인구}}{15 \sim 64\text{세 인구}} \times 100$

< 보 기 >

㉠. 1998년의 유소년 부양비는 노년 부양비의 2배이다.
 ㉡. 1998년의 유소년 인구가 15~64세 인구보다 많다.
 ㉢. 1998년에 비해 2018년의 15~64세 인구는 감소했다.
 ㉣. 2008년 대비 2018년의 65세 이상 인구 증가율은 10%이다.

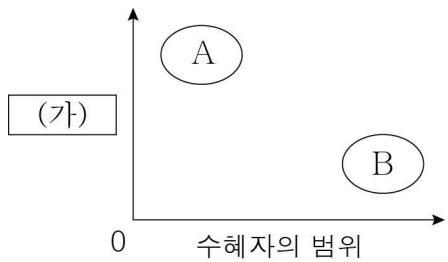
- ① ㉠, ㉡ ② ㉠, ㉢ ③ ㉡, ㉢ ④ ㉡, ㉣ ⑤ ㉢, ㉣

15. 다음 자료에 대한 설명으로 옳은 것은?

결혼 이민자, 외국인 노동자의 대거 유입으로 다문화 사회가 된 갑국과 을국은 서로 다른 다문화 정책을 실시하였다. ㉠ 갑국의 다문화 정책은 이주민들이 자신들의 문화를 버리고 갑국의 문화를 받아들이도록 하는 데 초점을 맞추었다. 이에 반해 ㉡ 을국의 다문화 정책은 이주민들이 자국의 문화를 유지하면서도 차별받지 않고 사회생활에 참여하는 데 초점을 맞추었다. 그 결과 갑국에서는 점차 이주민의 전통 문화를 찾아볼 수 없게 되었지만, 을국에서는 누구나 이주민의 전통 문화를 쉽게 접할 수 있게 되었다.

- ① ㉠은 문화의 다양성을 유지하는 데 긍정적으로 작용한다.
- ② '다름'에 대한 관용 정신은 ㉡의 목표 실현에 기여한다.
- ③ ㉡에는 ㉠과 달리 이주민에 대한 이주민이 정착한 국가의 언어 교육이 포함될 수 있다.
- ④ 갑국에서는 을국과 달리 구성원이 다양한 문화를 접할 기회가 확대되었다.
- ⑤ 을국에서는 갑국과 달리 문화 동화가 나타났다.

16. 그림은 우리나라의 사회 보장 제도 A, B의 특징을 비교한 것이다. 이에 대한 설명으로 옳은 것은? (단, A와 B는 각각 공공 부조, 사회 보험 중 하나이다.) [3점]



* 0에서 멀수록 그 정도가 넓거나 큼.

- ① A의 예로 국민 연금 제도가 있다.
- ② B는 국가가 비용을 전액 부담한다.
- ③ A는 B와 달리 강제 가입을 원칙으로 한다.
- ④ B는 A와 달리 금전적 지원을 원칙으로 한다.
- ⑤ (가)에 '소득 재분배 효과'가 들어갈 수 있다.

17. 표는 문화 변동의 요인을 구분한 것이다. A~C에 대한 설명으로 옳은 것은? (단, A~C는 각각 발명, 직접 전파, 자극 전파 중 하나이다.) [3점]

질문	답변		
	A	B	C
문화 변동의 내재적 요인인가?	예	아니요	아니요
타 문화로부터 아이디어를 얻어 새로운 문화 요소가 만들어졌는가?	아니요	예	아니요

- ① A는 자극 전파이다.
- ② B는 발명이다.
- ③ C에 의해서는 문화 동화가 나타날 수 없다.
- ④ SNS를 통해 케이팝(K-POP)이 다른 나라에 전해진 것은 A의 사례이다.
- ⑤ 식민 지배를 통해 정복 국가의 언어가 식민지에 전해진 것은 C의 사례이다.

18. 다음 글에 나타난 대중 매체의 문제점으로 가장 적절한 것은?

방송사 수익의 상당 부분이 광고로 충당되고 있는데 광고주는 시청률이 높은 프로그램에 자신의 제품이 광고되기를 원한다. 이에 따라 방송사들이 시사 교양 프로그램의 방송 비중을 줄이는 대신 시청률을 높일 수 있는 선정적이고 자극적인 프로그램의 비중을 경쟁적으로 늘리고 있다. 광고주의 요구와 이해관계가 방송 프로그램 편성에 영향을 미치게 된 것이다.

- ① 정보가 은폐되거나 왜곡되었다.
- ② 대중의 정치적 무관심이 확산되었다.
- ③ 정보 생산 과정에 자본의 영향력이 커졌다.
- ④ 정치권력에 의해 대중 조작 수단으로 악용되었다.
- ⑤ 정보의 대량 유통으로 개인의 사생활이 침해되었다.

19. (가), (나)는 정보 사회에서 나타나는 문제점을 해결하기 위한 노력이다. 이에 대한 옳은 설명을 <보기>에서 고른 것은?

- (가) 갑국은 개인 정보를 수집하여 활용하는 기업에게 정보 관리의 투명성과 정보 보안을 강화하는 제도를 시행하고 있다.
- (나) 을국 정부는 고령층과 장애인의 정보 통신 서비스 이용률이 낮게 나타나자 정보 취약 계층을 대상으로 스마트 기기를 보급하고 있다.

< 보 기 >

- ㄱ. (가)는 개인 정보의 상품적 가치를 높이기 위한 것이다.
- ㄴ. (나)는 정보 격차를 해소하는 데 초점을 두고 있다.
- ㄷ. (가)는 사이버 범죄 예방에, (나)는 정보 이용자 저변 확대에 기여한다.
- ㄹ. (가)와 (나)는 모두 사생활 침해 방지에 주안점을 두고 있다.

- ① ㄱ, ㄴ ② ㄱ, ㄷ ③ ㄴ, ㄷ ④ ㄴ, ㄹ ⑤ ㄷ, ㄹ

20. 다음 자료에 대한 옳은 분석을 <보기>에서 고른 것은? [3점]

표는 갑국에서 일하고 있는 갑국 출신 남성 노동자 평균 임금을 100으로 할 때 갑국에서 일하고 있는 노동자 유형별 평균 임금의 상대적 수준을 나타낸 것이다. 단, 갑국 출신 남성 노동자의 평균 임금은 매년 지속적으로 상승하였다.

노동자 유형	연도	
	2013년	2018년
갑국 출신 여성 노동자	80	90
을국 출신 남성 노동자	50	50
을국 출신 여성 노동자	40	45

< 보 기 >

- ㄱ. 2013년에 갑국 출신 노동자의 성별 평균 임금 차이와 을국 출신 노동자의 성별 평균 임금 차이는 동일하다.
- ㄴ. 2018년에 을국 출신 여성 노동자의 평균 임금은 갑국 출신 여성 노동자의 평균 임금의 50%이다.
- ㄷ. 2013년과 2018년의 을국 출신 남성 노동자의 평균 임금은 동일하다.
- ㄹ. 2013년과 2018년 모두 갑국 출신 노동자의 평균 임금이 을국 출신 노동자의 평균 임금보다 높다.

- ① ㄱ, ㄴ ② ㄱ, ㄷ ③ ㄴ, ㄷ ④ ㄴ, ㄹ ⑤ ㄷ, ㄹ

※ 확인 사항

◦ 답안지의 해당란에 필요한 내용을 정확히 기입(표기)했는지 확인하십시오.