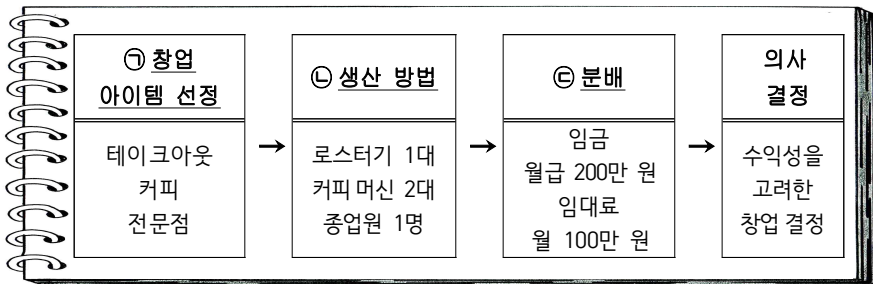


제 4 교시

사회탐구 영역 (경제)

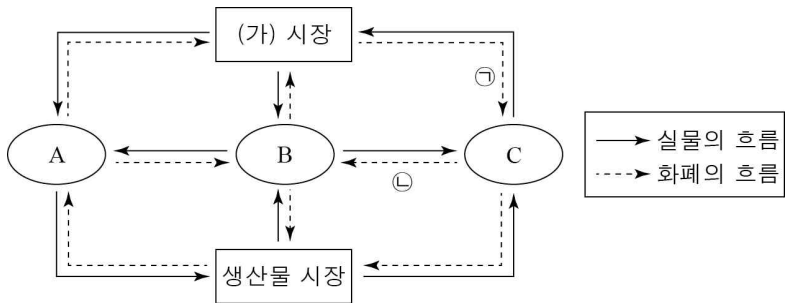
성명		수험번호							3			
----	--	------	--	--	--	--	--	--	---	--	--	--

1. 그림은 경제의 기본 문제에 대한 수행 평가로 학생이 제출한 창업 계획서의 일부를 나타낸다. 밑줄 친 ㉠ ~ ㉣에 대한 설명으로 옳은 것은?



- ① ㉠은 '어떻게 생산할 것인가?'에 해당하는 문제이다.
- ② ㉡은 '누구를 위해 생산할 것인가?'에 해당하는 문제이다.
- ③ ㉢은 생산물의 종류와 수량을 결정하는 문제이다.
- ④ ㉢과 달리 ㉠, ㉡은 형평성을 고려해야 한다.
- ⑤ ㉠ ~ ㉣ 모두 효율성을 고려해야 한다.

2. 그림은 국민 경제의 순환을 나타낸다. 이에 대한 설명으로 옳은 것은?



- ① (가) 시장에서는 노동, 토지, 자본이 거래된다.
- ② ㉠은 기업의 판매 수입이다.
- ③ ㉢이 증가하면 C의 처분 가능 소득은 증가한다.
- ④ B는 이윤의 극대화를 추구하는 경제 주체이다.
- ⑤ 생산물 시장에서 A는 수요자, C는 공급자이다.

3. 그림은 갑이 X재를 구입할 때, 적용되는 조건 및 혜택을 나타낸다. 이에 대한 분석으로 옳은 것은? (단, 갑은 A 신용카드가 있다.) [3점]

파일(F) 편집(E) 보기(V) 즐겨찾기(A) 도구(T) 도움말(H)

http://www.☆☆쇼핑.com

■ X재 가격 10,000원
 (단, 배송비는 X재 1개 당 2,000원 별도 부담, 주문 시 결제해야 구입 가능함)

(가) A 신용카드로 구입 시 상품 가격의 20% 할인
 (나) 3개 구입 시마다 1개 무료 증정
 (다) 5개 이상 구입 시 무료 배송

* 유의 사항 1. 무료 증정 상품도 배송비는 결제해야 함.
 2. (가), (나), (다) 중 하나의 혜택만 선택 가능함.

- ① 6만 원으로 구입 가능한 최대 수량은 8개이다.
- ② 4개가 필요할 경우 (나)보다 (가)를 선택하는 것이 합리적이다.
- ③ 10개가 필요할 경우 (가)와 (다)의 구입 비용은 동일하다.
- ④ 12개가 필요할 경우 (다)를 선택하는 것이 가장 합리적이다.
- ⑤ 20개가 필요할 경우 최저 구입 비용은 15만 원이다.

4. 밑줄 친 ㉠, ㉡의 경제적 유인에 대한 옳은 설명을 <보기>에서 고른 것은?

A 항공사는 노쇼*를 줄이기 위해 환불 수수료 외에 10만원의 ㉠ 위약금을 부과하는 제도를 시행하였다. 이후 노쇼 비율이 4분의 1 수준으로 감소하였다. 한편 B 항공사는 성인 항공권 2매를 구입할 경우, 12세 미만 동반 자녀 1인에게 동급 좌석 항공권을 무료로 제공하는 2+1의 ㉡ 프로모션을 진행한 결과 상반기 이윤이 증가하였다.

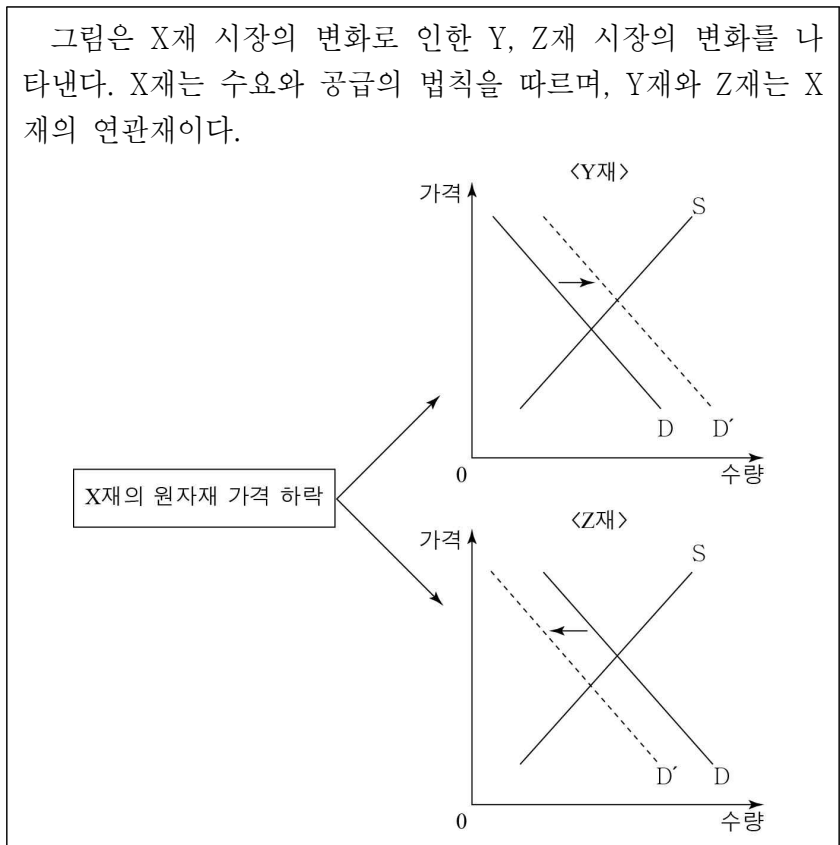
* 노쇼(No-Show, 예약 부도): 예약 후 취소하지 않고 나타나지 않는 고객

< 보 기 >

ㄱ. ㉠과 같은 성격을 가진 사례로는 불법 주·정차에 대한 과태료 부과를 들 수 있다.
 ㄴ. ㉡을 이용하여 항공권을 구매한 소비자는 이익을 얻을 수 있다.
 ㄷ. ㉠은 긍정적 유인, ㉡은 부정적 유인에 해당한다.
 ㄹ. ㉠과 달리 ㉡은 사람들이 합리적으로 행동한다는 것을 전제로 한다.

- ① ㄱ, ㄴ ② ㄱ, ㄷ ③ ㄴ, ㄷ ④ ㄴ, ㄹ ⑤ ㄷ, ㄹ

5. 다음 자료를 바탕으로 X, Y, Z재의 관계에 대한 설명으로 옳은 것은? [3점]



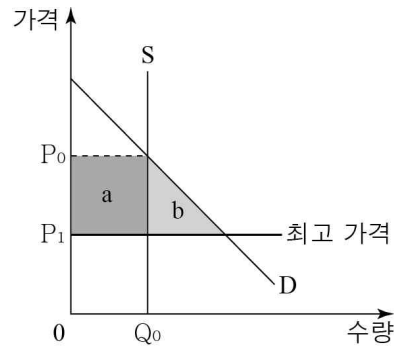
- ① X재의 공급이 감소하면 Y재의 가격은 상승한다.
- ② X재의 가격이 상승하면 Y재의 거래량은 증가한다.
- ③ X재의 생산 비용이 상승하면 Z재의 매출액은 증가한다.
- ④ Y재의 공급이 증가하면 X재의 수요는 감소한다.
- ⑤ X재와 Y재는 대체재, X재와 Z재는 보완재 관계이다.

6. 다음 자료를 통해 추론할 수 있는 영지버섯 시장의 변화로 옳은 것은? (단, 영지버섯 시장은 수요와 공급의 법칙을 따른다.)

최근 영지버섯에 베타글루칸이라는 성분이 함유되어 있어 면역력에 도움을 준다는 사실이 언론에 소개되면서 영지버섯에 대한 소비자들의 선호도가 높아졌다. 그러나 기상 조건 악화와 병충해로 인해 영지버섯 생산은 감소하였다.

- | | 균형 가격 | 균형 거래량 |
|---|--------|--------|
| ① | 알 수 없음 | 감소 |
| ② | 하락 | 증가 |
| ③ | 하락 | 알 수 없음 |
| ④ | 상승 | 증가 |
| ⑤ | 상승 | 알 수 없음 |

7. 그림은 X재 시장에 대한 정부의 최고 가격제 실시 전후 시장 상황을 나타낸다. 이에 대한 옳은 분석을 <보기>에서 고른 것은? [3점]

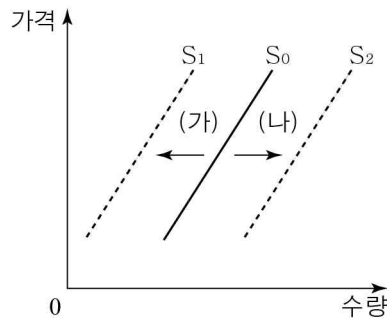


<보 기>

- ㄱ. 가격 규제 전후 사회적 잉여는 동일하다.
- ㄴ. 가격 규제 이후 초과 수요는 발생하지 않는다.
- ㄷ. 가격 규제 이후 생산자 잉여는 a만큼 감소한다.
- ㄹ. 가격 규제 이후 소비자 잉여는 a+b만큼 증가한다.

- ① ㄱ, ㄴ ② ㄱ, ㄷ ③ ㄴ, ㄷ ④ ㄴ, ㄹ ⑤ ㄷ, ㄹ

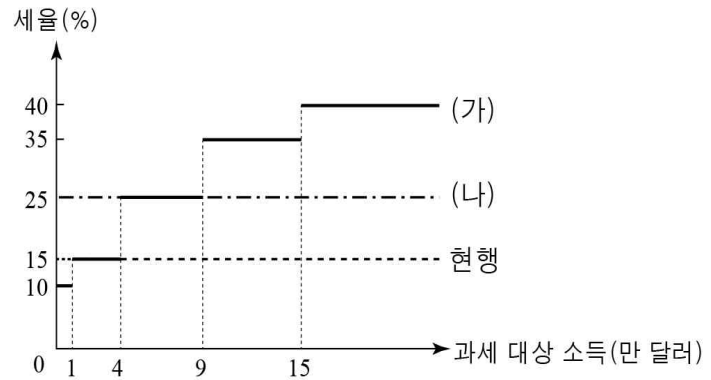
8. 그림은 X재 공급의 변동을 나타낸다. (가), (나)의 요인으로 적절한 것은?



- | (가) | (나) |
|-------------|-------------|
| ① 임금 상승 | 생산 기술의 발전 |
| ② 소득 감소 | 원자재 가격 하락 |
| ③ 선호도 감소 | 소득 증가 |
| ④ 원자재 가격 상승 | 선호도 증가 |
| ⑤ 공급자 수의 감소 | 미래 가격 상승 예상 |

9. 다음 자료에 대한 분석으로 옳은 것은? [3점]

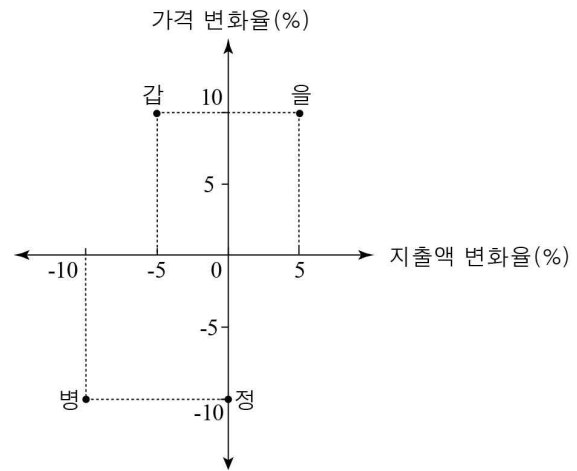
그림은 세율 적용 방식에 따른 소득세 제도를 나타낸다. 갑국은 현행 소득세 제도를 (가) 또는 (나)로 개정하려고 한다.



- 현행은 과세 대상 소득에 관계없이 15%의 세율을 적용한다.
- (가)는 과세 대상 소득 구간에 따라 다른 세율을 적용한다. 예를 들어 과세 대상 소득이 6만 달러인 경우 1만 달러는 10%, 1만 달러 초과 4만 달러 이하의 구간에 해당하는 3만 달러는 15%, 나머지 2만 달러는 25%의 세율을 적용한다.
- (나)는 과세 대상 소득에 관계없이 25%의 세율을 적용한다.

- ① (가)로 개정할 경우 과세 대상 소득 증가율과 세액 증가율은 같다.
- ② (나)로 개정할 경우 누진세율이 적용된다.
- ③ (가)에 비해 (나)로 개정할 경우 소득 재분배 효과가 크다.
- ④ 과세 대상 금액이 10만 달러인 사람은 (나)에 비해 (가)로 개정할 경우 납부할 세액이 크다.
- ⑤ 과세 대상 금액이 5만 달러인 사람은 (나)로 개정할 경우 증가하는 세액이 (가)로 개정할 경우 증가하는 세액의 10배이다.

10. 그림은 X재의 가격 변화율에 따른 수요자 갑 ~ 정의 지출액 변화율을 나타낸다. 이에 대한 옳은 분석을 <보기>에서 고른 것은? [3점]

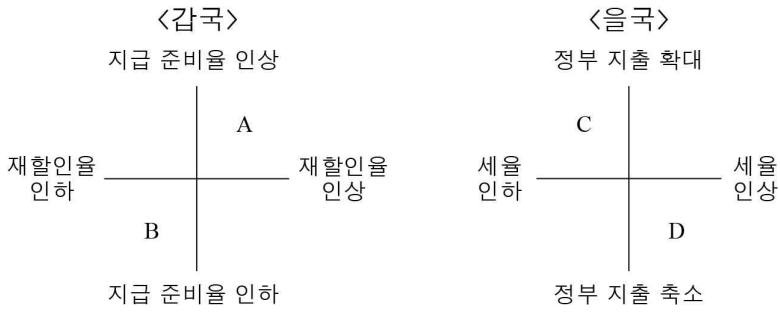


<보 기>

- ㄱ. 수요의 가격 탄력성은 갑이 가장 크다.
- ㄴ. 을의 수요는 가격에 대해 비탄력적이다.
- ㄷ. 병의 경우 가격 하락률과 수요량 증가율은 같다.
- ㄹ. 정은 수요는 가격에 대해 완전 비탄력적이다.

- ① ㄱ, ㄴ ② ㄱ, ㄷ ③ ㄴ, ㄷ ④ ㄴ, ㄹ ⑤ ㄷ, ㄹ

11. 그림은 갑국과 을국의 경제 안정화 정책을 나타낸다. 이에 대한 설명으로 옳은 것은?



- ① 갑국은 경기 침체 시 B를 실시하는 것이 효과적이다.
- ② 을국은 경기 과열 시 C를 실시하는 것이 효과적이다.
- ③ A와 달리 D는 경제를 활성화시키는 정책에 해당한다.
- ④ A와 B는 재정 정책, C와 D는 통화 정책에 해당한다.
- ⑤ 갑국과 달리 을국의 정책은 총수요를 조절하려는 것이다.

12. 밑줄 친 ㉠ ~ ㉣에 대한 옳은 설명을 <보기>에서 고른 것은? (단, 주류 시장은 수요와 공급의 법칙을 따른다.)

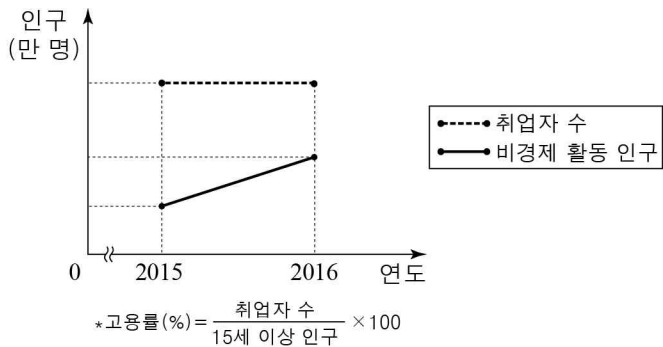
㉠ 과도한 음주는 개인의 신체 및 정신뿐만 아니라 가정, 직장 및 경제 활동 등 사회 전반에 걸쳐 많은 피해를 발생시킨다. 음주로 인한 폐해가 커짐에 따라 음주를 줄이는 정책을 강화해야 한다는 목소리가 높다. 그래서 정부는 주류의 ㉡수요 감소 방안과 ㉢생산자에게 부과하는 조세의 세율을 인상하는 방안을 고려하고 있다.

<보 기>

- ㄱ. ㉠은 사회적 편익이 사적 편익보다 크다.
- ㄴ. ㉠은 시장 균형 소비량이 사회적 최적 소비량보다 적다.
- ㄷ. ㉡의 사례로는 음주의 유해성을 알리는 광고를 들 수 있다.
- ㄹ. ㉢은 가격 하락, ㉣은 가격 상승 요인이다.

- ① ㄱ, ㄴ ② ㄱ, ㄷ ③ ㄴ, ㄷ ④ ㄴ, ㄹ ⑤ ㄷ, ㄹ

13. 그림은 갑국의 비경제 활동 인구나 취업자 수의 변화를 나타낸다. 이에 대한 옳은 분석을 <보기>에서 고른 것은? (단, 15세 이상 인구는 변화가 없다.) [3점]



<보 기>

- ㄱ. 경제 활동 참가율은 증가하였다.
- ㄴ. 실업자 수와 실업률은 모두 감소하였다.
- ㄷ. 고용률은 일정하고 취업률은 하락하였다.
- ㄹ. 비경제 활동 인구가 증가한 만큼 실업자 수는 감소하였다.

- ① ㄱ, ㄴ ② ㄱ, ㄷ ③ ㄴ, ㄷ ④ ㄴ, ㄹ ⑤ ㄷ, ㄹ

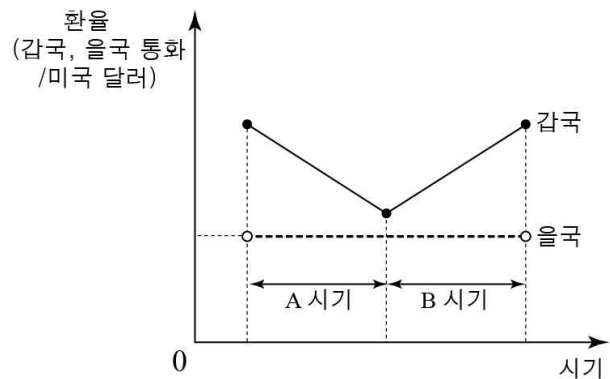
14. 밑줄 친 ㉠ ~ ㉣의 일반적인 특징에 대한 설명으로 옳지 않은 것은?



- ① 시중 금리가 상승하면 ㉣의 가격은 하락한다.
- ② 명목 이자율이 연 2%이고, 물가 상승률이 연 3%라면 ㉣에 가입하는 것보다 현금으로 보유하는 것이 이익이다.
- ③ ㉣은 원금과 이자를 합한 금액에 대해 이자가 붙는 방식이다.
- ④ ㉣에 비해 ㉠은 수익성이 높지만 안전성은 낮다.
- ⑤ ㉠은 시세 차익과 배당금, ㉣은 시세 차익과 이자를 얻을 수 있다.

15. 다음 자료에 대한 옳은 설명을 <보기>에서 고른 것은? (단, 환율 변화 이외의 변수는 고려하지 않는다.) [3점]

그림은 갑국과 을국의 환율 변화 추세를 나타낸다. 양국은 각각 고정 환율 제도와 변동 환율 제도 중 하나를 채택하고 있다.

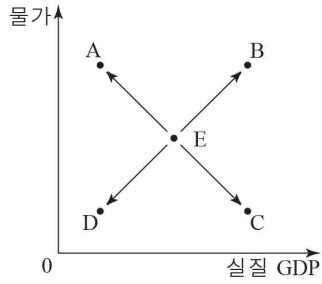


<보 기>

- ㄱ. A 시기에 갑국의 미국 달러 표시 수출품 가격은 하락한다.
- ㄴ. B 시기에 갑국 국민의 미국 여행 경비 부담은 증가한다.
- ㄷ. 갑국과 달리 을국의 제도는 인위적인 환율 조정으로 인한 무역 분쟁 발생 우려가 크다.
- ㄹ. 을국과 달리 갑국의 제도는 환율 변동의 불확실성이 적어 기업의 장기 계획 수립이 용이하다.

- ① ㄱ, ㄴ ② ㄱ, ㄷ ③ ㄴ, ㄷ ④ ㄴ, ㄹ ⑤ ㄷ, ㄹ

16. 그림은 갑국의 국민 경제 균형점 E의 변화 방향을 나타낸다. 이에 대한 옳은 설명을 <보기>에서 고른 것은? (단, 총수요 곡선은 우하향하고, 총공급 곡선은 우상향한다.)



<보 기>

- ㄱ. 순수출이 증가하면 A로 이동할 수 있다.
- ㄴ. 가계 소비가 증가하면 B로 이동할 수 있다.
- ㄷ. 생산 비용이 상승하면 C로 이동할 수 있다.
- ㄹ. 기업 투자가 감소하면 D로 이동할 수 있다.

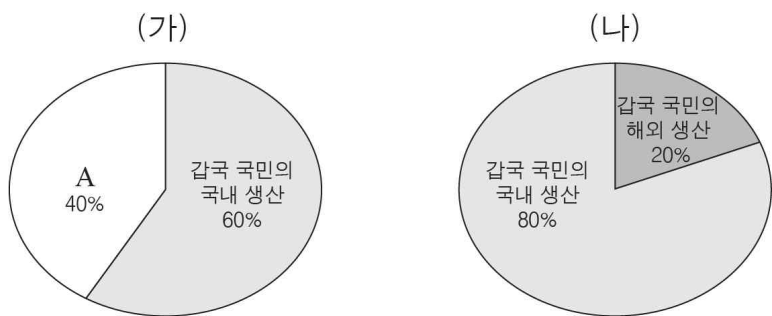
- ① ㄱ, ㄴ ② ㄱ, ㄷ ③ ㄴ, ㄷ ④ ㄴ, ㄹ ⑤ ㄷ, ㄹ

17. 표는 갑국의 전년 대비 상품 수지 변화율과 상품 수출액 변화율을 나타낸다. 이에 대한 분석으로 옳은 것은? (단, 2013년 상품 수지는 100억 달러 흑자, 상품 수출액은 200억 달러이다.) [3점] (단위: %)

구분	2014년	2015년	2016년
상품 수지 변화율	0	-10	10
상품 수출액 변화율	25	-10	20

- ① 2015년의 상품 수지는 적자이다.
- ② 2016년의 상품 수지가 가장 크다.
- ③ 2016년은 2014년보다 상품 수입액이 크다.
- ④ 2014년 이후 상품 수출액과 상품 수입액의 합은 지속적으로 증가하였다.
- ⑤ 2015년의 전년 대비 상품 수출액 변화율은 상품 수입액 변화율보다 크다.

18. (가), (나)는 2016년 갑국의 GNP와 GDP 중 하나를 나타낸다. 이에 대한 설명으로 옳지 않은 것은? (단, (가)는 200억 달러, (나)는 150억 달러이다.)



- ① GDP가 GNP보다 크다.
- ② A는 외국인의 갑국 내 생산을 나타낸다.
- ③ A는 갑국 국민의 해외 생산액의 2배이다.
- ④ 갑국 국민의 국내 생산액은 120억 달러이다.
- ⑤ (나)에 비해 (가)는 갑국 국내 경제의 전반적인 생산 수준을 파악하기에 유용하다.

19. 표에 대한 옳은 분석을 <보기>에서 고른 것은? (단, 갑국은 X재와 Y재만 생산하며, 두 재화는 모두 최종 생산물이다. 기준 연도는 2015년이다.) [3점]

(단위: 달러, 만 개)

구분	2015년		2016년	
	가격	생산량	가격	생산량
X재	50	8	60	10
Y재	100	12	120	10
인구(명)	100		90	

<보 기>

- ㄱ. 2016년의 GDP 디플레이터는 120이다.
- ㄴ. 2016년 경제 성장률은 양(+)의 값이다.
- ㄷ. 명목 GDP는 2015년에 비해 2016년에 증가하였다.
- ㄹ. 1인당 실질 GDP는 2015년에 비해 2016년에 감소하였다.

- ① ㄱ, ㄴ ② ㄱ, ㄷ ③ ㄴ, ㄷ ④ ㄴ, ㄹ ⑤ ㄷ, ㄹ

20. 다음 자료에 대한 옳은 분석만을 <보기>에서 있는 대로 고른 것은? [3점]

표는 갑국과 을국이 X재와 Y재를 각각 1단위 생산하는 데 필요한 노동자 수를 나타낸다. 양국은 노동만을 생산 요소로 사용하여 X재와 Y재를 생산한다. 양국은 무역 이익이 발생할 경우만 교역에 참여하며, 교역에 따른 거래 비용은 발생하지 않는다.

구분	갑국	을국
X재	3명	6명
Y재	4명	5명
전체 노동자 수	180명	390명

<보 기>

- ㄱ. 갑국은 교역 후 X재 소비에 따른 기회비용이 증가한다.
- ㄴ. Y재 1단위 생산의 기회비용은 갑국에 비해 을국이 크다.
- ㄷ. 교역 전 X재와 Y재의 최대 생산량은 갑국에 비해 을국이 많다.
- ㄹ. X재와 Y재를 7:8의 비율로 교환한다면 양국은 교역에 참여할 것이다.

- ① ㄱ, ㄴ ② ㄱ, ㄷ ③ ㄴ, ㄹ
④ ㄱ, ㄷ, ㄹ ⑤ ㄴ, ㄷ, ㄹ

* 확인 사항

○ 답안지의 해당란에 필요한 내용을 정확히 기입(표기)했는지 확인 하시오.