

제 4 교시

사회탐구 영역 (한국 지리)

성명

수험번호

3

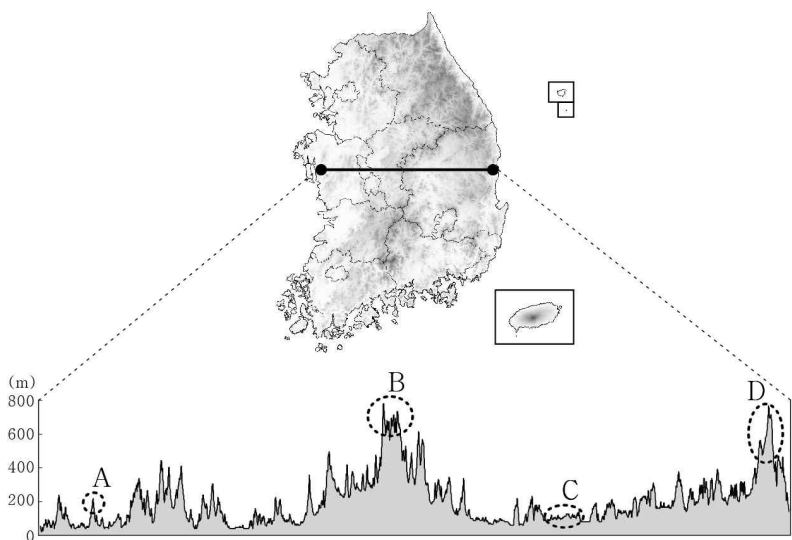
1. (가), (나)는 조선 시대에 제작된 지리서의 일부이다. 이에 대한 설명으로 옳은 것은?

(가) **【관원】** 목사·판관·교수 각 1인
【군명】 탐라·탁라·탐모라·동영주
【풍속】 초목과 곤충은 겨울이 지나도 죽지 않으며 폭풍이 자주 인다. 또 ㉠초가가 많고 빈친한 백성들은 부역과 운들이 없고 땅바닥에서 자고 거처한다. 등에 나무통을 짊어지고 다니고 머리에 이는 자가 없다. 『동문감(東文鑑)』에, “그 땅에 돌이 많고 건조하여 본래 논은 없고 ㉡오직 보리·콩·조만 생산된다.”고 하였다.

(나) 태백산과 소백산 또한 토산이지만, 흙빛이 모두 수려하다. 태백산에는 황지라는 훌륭한 곳이 있다. ㉢산 위에 들판이 펼쳐져 두메 사람들이 제법 마을을 이루었다. 화전을 일구어 살고 있었으나 지세가 높고 서리가 일찍 내린다. 그러므로 주민들은 ㉣오직 조와 보리를 심는다.

- ① (가)는 (나)보다 제작 시기가 늦다.
- ② (가)는 개인, (나)는 국가 주도로 편찬되었다.
- ③ ㉠은 田자형 가옥 구조로 정주간이 있다.
- ④ ㉢에서는 오늘날 고랭지 농업이 이루어지고 있다.
- ⑤ ㉡, ㉣은 연 강수량이 적기 때문이다.

2. 그림은 두 지점 간의 지형 단면을 나타낸 것이다. A~D에 대한 옳은 설명을 <보기>에서 고른 것은? [3점]

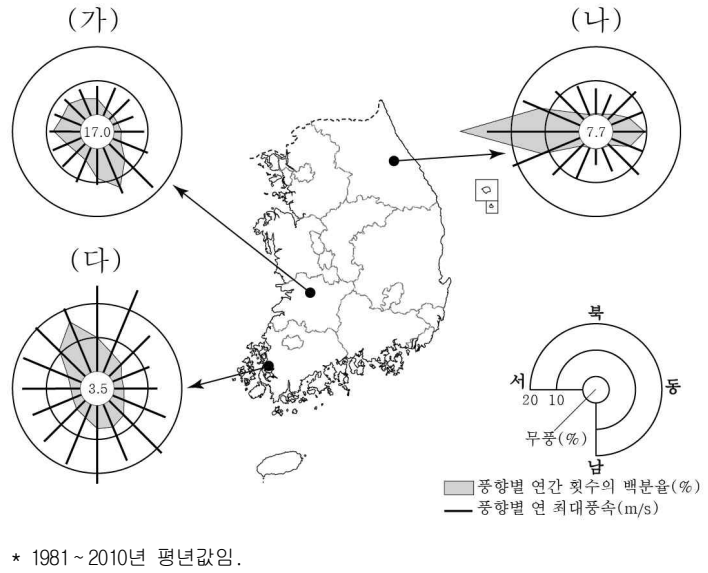


<보 기>

- ㄱ. A는 침식을 많이 받아 낮아진 구릉성 산지이다.
- ㄴ. B가 속한 산맥은 1차 산맥으로 분류된다.
- ㄷ. C는 기반암이 용식 작용을 받아 형성된 내륙 분지이다.
- ㄹ. D의 서사면은 북서풍의 바람받이로 폭설이 자주 내린다.

- ① ㄱ, ㄴ ② ㄱ, ㄷ ③ ㄴ, ㄷ ④ ㄴ, ㄹ ⑤ ㄷ, ㄹ

3. 그림은 세 지점의 풍향과 풍속을 나타낸 것이다. (가)~(다)에 대한 옳은 설명을 <보기>에서 고른 것은?



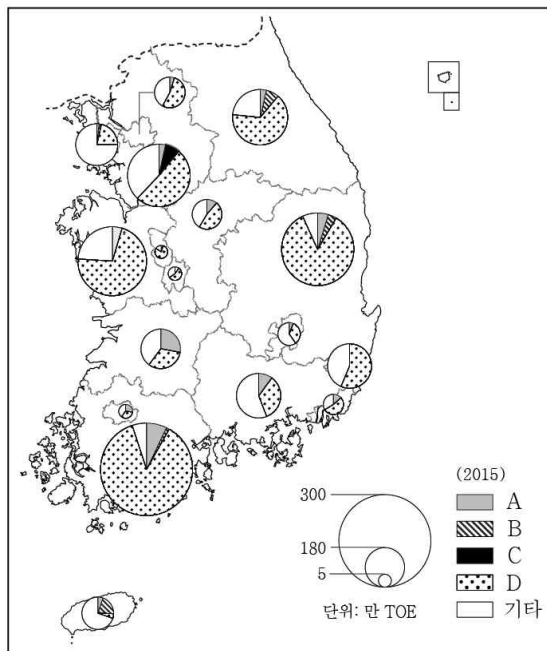
* 1981~2010년 평년값임.

<보 기>

- ㄱ. (가)는 (나)보다 연 최대 풍속이 빠르다.
- ㄴ. (나)는 (다)보다 풍향의 편중성이 크다.
- ㄷ. (다)는 (가)보다 북풍 계열의 바람이 우세하다.
- ㄹ. (가)~(다) 중 무풍 비율은 해안에 위치한 지역이 가장 높다.

- ① ㄱ, ㄴ ② ㄱ, ㄷ ③ ㄴ, ㄷ ④ ㄴ, ㄹ ⑤ ㄷ, ㄹ

4. 지도는 신·재생 에너지의 지역별 생산량 비중을 나타낸 것이다. A~D에 대한 옳은 설명을 <보기>에서 고른 것은? (단, A~D는 조력, 태양광, 풍력, 폐기물 중 하나임.)



<보 기>

- ㄱ. A는 일조 시간이 긴 지역이 발전소 입지에 유리하다.
- ㄴ. B는 C보다 우리나라에서 상용화된 시기가 늦다.
- ㄷ. C는 조수 간만의 차를 이용하여 전기를 생산한다.
- ㄹ. A~C의 전국 생산량 비중의 합은 D보다 크다.

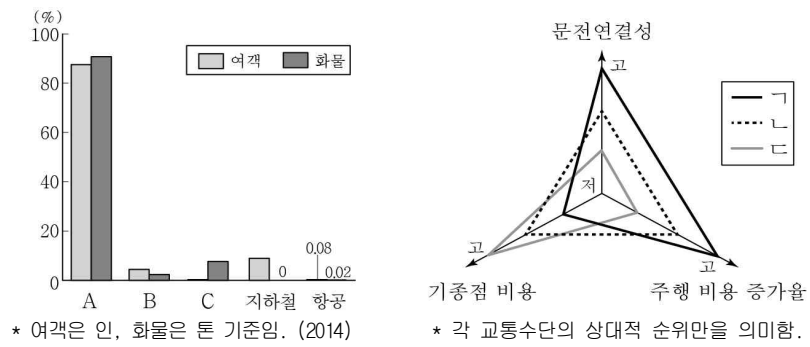
- ① ㄱ, ㄴ ② ㄱ, ㄷ ③ ㄴ, ㄷ ④ ㄴ, ㄹ ⑤ ㄷ, ㄹ

5. 다음 글의 밑줄 친 ㉠~㉣에 대한 설명으로 옳은 것은? [3점]

중생대의 지층은 대부분 ㉠ 육성층으로 전기의 대동계층과 후기의 경상계층으로 구성되어 있다. 대동계층은 쥐라기의 퇴적층으로 충남 보령, 경기도 김포 등에 분포하며, ㉡ 경상계층은 백악기의 퇴적층으로 경상남·북도에 주로 분포한다.
중생대 초기 북부 지역을 중심으로 ㉢ 송림 운동이 있었고, 중생대 쥐라기에서 백악기에 걸쳐 일어난 ㉣ 대보 조산 운동은 한반도 전체에 영향을 주었다. 그 과정에서 대규모의 마그마가 관입되어 ㉤ 화강암이 형성되었다.

- ① ㉠에는 주로 석회석과 무연탄이 매장되어 있다.
- ② ㉡은 수평 누층으로 공룡 발자국 화석이 분포한다.
- ③ ㉢의 영향으로 동고서저의 경동 지형이 형성되었다.
- ④ ㉣의 영향으로 라오동(동북동~서남서) 방향의 지질 구조선이 형성되었다.
- ⑤ ㉤은 지리산, 덕유산과 같은 휴산의 기반암을 이루고 있다.

6. 그래프는 교통수단별 국내 여객 및 화물 수송 분담률을 나타낸 것이다. A~C 교통수단에 대한 상대적 특성을 그림의 ㄱ~ㄷ에서 고른 것은?

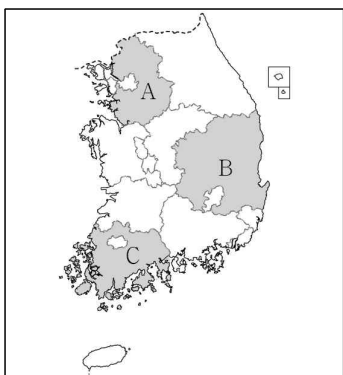


- | | | | | | | | |
|---|----------|----------|----------|---|----------|----------|----------|
| | <u>A</u> | <u>B</u> | <u>C</u> | | <u>A</u> | <u>B</u> | <u>C</u> |
| ① | ㄱ | ㄴ | ㄷ | ② | ㄱ | ㄷ | ㄴ |
| ③ | ㄴ | ㄷ | ㄱ | ④ | ㄷ | ㄱ | ㄴ |
| ⑤ | ㄷ | ㄴ | ㄱ | | | | |

7. 표는 세 지역의 농업 현황을 나타낸 것이다. (가)~(다)에 해당하는 지역을 지도의 A~C에서 고른 것은?

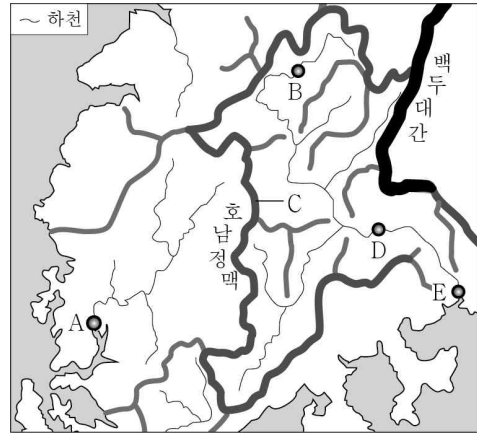
구분 지역	농가 수 (호)	전업농가 수 (호)	총 경지 면적 대비 논 면적 비율(%)	과실 생산량 (톤)
(가)	184,642	118,897	46.2	897,089
(나)	150,141	89,086	60.8	249,236
(다)	126,679	53,322	54.5	99,828

(2015)



- | | | | |
|---|------------|------------|------------|
| | <u>(가)</u> | <u>(나)</u> | <u>(다)</u> |
| ① | A | B | C |
| ② | A | C | B |
| ③ | B | A | C |
| ④ | B | C | A |
| ⑤ | C | A | B |

8. 지도는 호남지방 일부지역의 전통적인 산줄기 인식 체계를 표현한 것이다. A~E에 대한 설명으로 옳은 것은? [3점]



- ① A에는 대규모의 삼각주가 형성되어 있다.
- ② B는 D보다 하천의 평균 유량이 많다.
- ③ B에서 E로 갈수록 퇴적물의 평균 입자가 크다.
- ④ C는 A와 E로 유입되는 하천의 분수계를 이룬다.
- ⑤ E에는 염해 방지를 위해 하굿둑이 건설되어 있다.

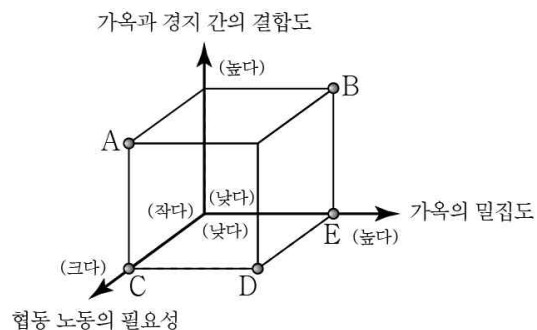
9. 지도에 표시된 지역에 대한 탐구 주제로 적절한 것은? [3점]

<p>A</p> <p>폐광 시설을 활용한 관광 자원의 개발 현황</p>		<p>B</p> <p>전자 산업 첨단화를 통한 지역의 경쟁력 향상 방안</p>
<p>C</p> <p>람사르 협약에 등록된 내륙 습지의 보전 활동 방안</p>		<p>D</p> <p>세계문화유산으로 지정된 전통 마을의 보존 실태</p>

- ① A, B ② A, C ③ B, C ④ B, D ⑤ C, D

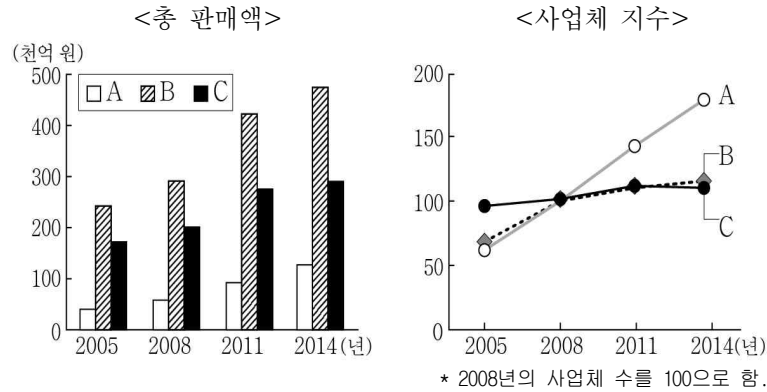
10. 다음 글은 전통 촌락의 유형을 기술한 것이다. (나)에 대한 (가)의 상대적 특성을 그림의 A~E에서 고른 것은?

남부 지방에서는 (가) 이가 일반적이다. 북부 지방에는 석회질 세일과 최근에 형성된 용암 대지상에서와 같이 물을 얻기 어려운 곳에 흔히 형성된다. 멀리서 보면 낮고 웅기종기 모인 깎듯한 둥근 초가 지붕을 한 작은 집들이 둥글게 마모된 큰 돌더미를 연상하게 한다.
...(중략)... (나) 은/는 북부 지방의 개척 지대에 주로 국한되어 있다. 주로 개천이나 강을 따라 나타나지만, 범람의 위험 때문에 직접 접하는 경우는 드물고, 홍수의 위험이 없는 곳에서도 흔히 사면의 산록을 따라 취락이 드문드문 형성되어 있다.
- 헤르만 라우텐자흐의 『코리아』 중에서 -



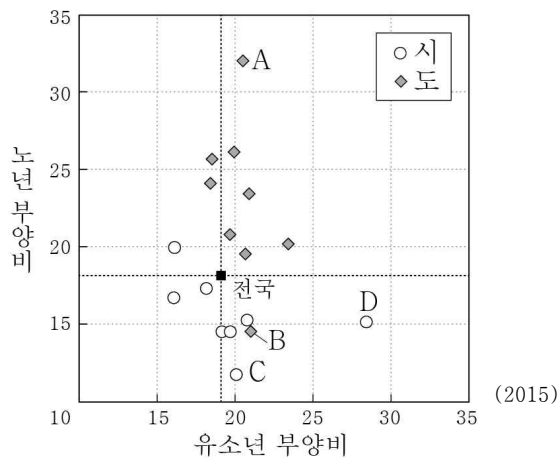
- ① A
- ② B
- ③ C
- ④ D
- ⑤ E

11. 그래프는 국내 소매업의 유형별 현황이다. A~C 유형에 대한 설명으로 옳은 것은? (단, A~C는 대형마트, 백화점, 편의점 중 하나임.) [3점]



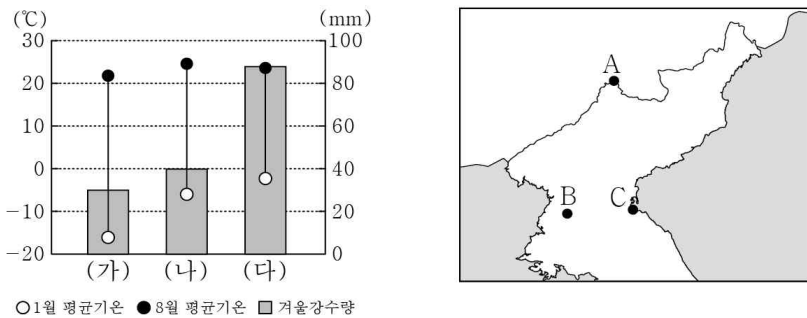
- ① A는 B보다 사업체당 종사자 수가 많다.
- ② B는 C보다 주로 도심에 입지하려는 경향이 크다.
- ③ C는 A보다 자가용 이용 고객의 비율이 높다.
- ④ A~C 중 최소 요구치가 가장 큰 것은 A이다.
- ⑤ 재화의 도달 범위는 A>B>C 순이다.

12. 그래프는 시·도별 인구 부양비를 나타낸 것이다. 이에 대한 설명으로 옳은 것은? (단, A~D는 경기, 세종, 울산, 전남 중 하나임.) [3점]



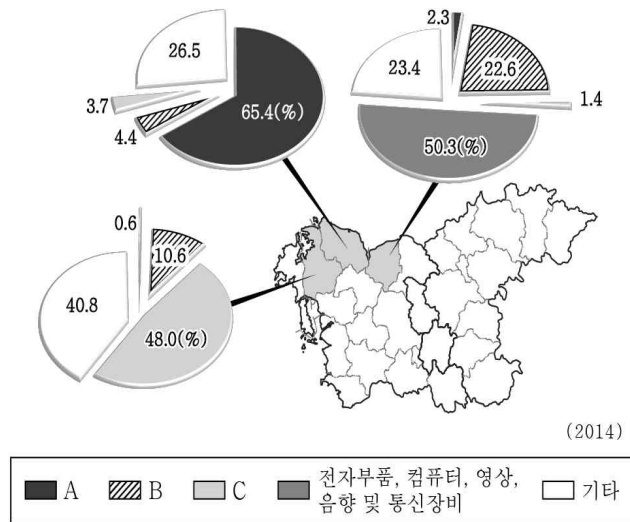
- ① A는 경기, C는 세종이다.
- ② A는 B보다 청장년층 인구 비중이 크다.
- ③ B는 D보다 노령화 지수가 낮다.
- ④ C는 전국 평균에 비해 중위 연령이 높다.
- ⑤ D는 A보다 총 부양비가 낮다.

13. 그래프는 세 지역의 기후 특성을 나타낸 것이다. (가)~(다)에 해당하는 지역을 지도의 A~C에서 고른 것은? [3점]



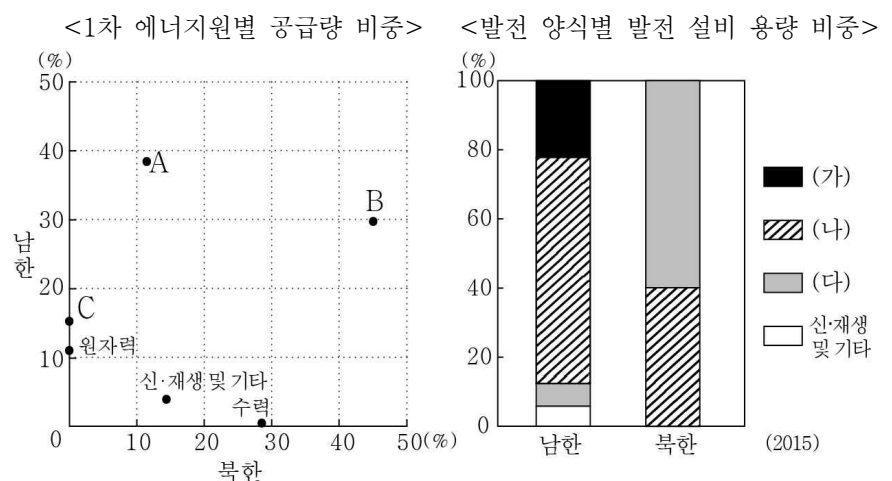
- | | | | | | | | |
|---|-------|-------|-------|---|-------|-------|-------|
| ① | (가) A | (나) B | (다) C | ② | (가) A | (나) C | (다) B |
| ③ | (가) B | (나) A | (다) C | ④ | (가) C | (나) A | (다) B |
| ⑤ | (가) C | (나) B | (다) A | | | | |

14. 자료는 세 지역의 제조업별 출하액 구성비를 나타낸 것이다. A~C 제조업에 대한 설명으로 옳은 것은? (단, A~C는 1차 금속, 자동차 및 트레일러, 화학물질 및 화학제품(의약품 제외) 중 하나임.) [3점]



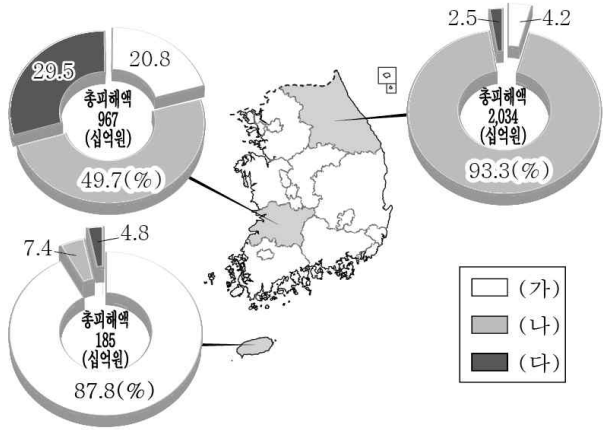
- ① A는 1960년대 우리나라 공업화를 주도하였다.
- ② B는 타 산업에 기초 원료를 제공하는 소재 산업이다.
- ③ C는 종합 조립 산업으로 전후방 연계 효과가 크다.
- ④ B에서 생산된 제품은 A의 주요 원료로 이용된다.
- ⑤ C는 B보다 원자재의 해외 의존도가 높다.

15. 그래프는 남·북한의 에너지 자원 현황을 나타낸 것이다. 이에 대한 설명으로 옳은 것은? (단, A~C는 석유, 석탄, 천연가스 중 하나이며, (가)~(다)는 수력, 원자력, 화력 중 하나임.)



- ① A는 B보다 수송용으로 사용되는 비중이 작다.
- ② B는 C보다 연소 시 대기 오염 물질의 배출량이 적다.
- ③ (가) 발전소는 주로 내륙에 위치한다.
- ④ (나)는 A를 이용한 발전 비중이 가장 크다.
- ⑤ (다)는 (나)에 비해 기후의 제약을 많이 받는다.

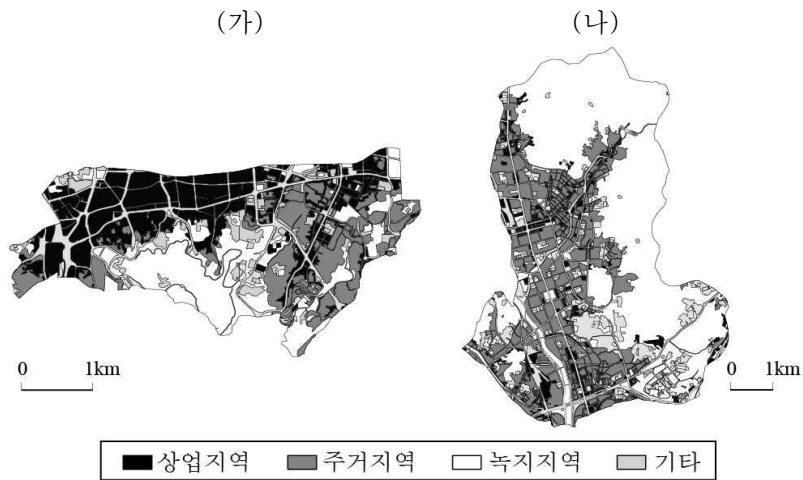
16. 다음 자료는 세 지역의 자연재해로 인한 피해액을 나타낸 것이다. (가)~(다)에 해당하는 자연재해로 옳은 것은? [3점]



* 1993년부터 2013년까지의 (가)~(다) 재해의 피해액을 합산하여 100으로 환산한 비중임.

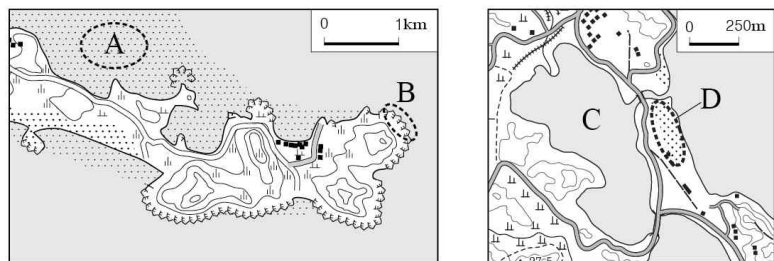
- | | | | | | |
|------|-----|-----|------|-----|-----|
| (가) | (나) | (다) | (가) | (나) | (다) |
| ① 대설 | 태풍 | 호우 | ② 대설 | 호우 | 태풍 |
| ③ 태풍 | 호우 | 대설 | ④ 태풍 | 대설 | 호우 |
| ⑤ 호우 | 태풍 | 대설 | | | |

17. 지도는 ○○시 두 구(區)의 토지 이용 현황을 나타낸 것이다. (나)에 대한 (가)의 상대적 특징으로 옳은 것은?



- 주간 인구 지수가 낮다.
- 초등학교의 학급 수가 적다.
- 상업지의 평균 지가가 낮다.
- 출근 시간대에 유입 인구가 적다.
- 생산자 서비스업체 수의 비중이 작다.

18. 지도의 A~D 해안 지형에 대한 옳은 설명을 <보기>에서 고른 것은?



<보기>

- A는 다양한 생물 종의 서식처로 생태적 가치가 높다.
- B는 파랑 에너지가 집중하는 곳에 잘 발달한다.
- C는 면적이 확대되고 있으며 농업 용수로 이용된다.
- D는 주로 조류의 퇴적 작용으로 형성되었다.

- 가, 나
- 가, 다
- 나, 다
- 나, 라
- 다, 라

19. 표는 수도권 통근·통학 인구에 관한 것이다. 이에 대한 옳은 분석을 <보기>에서 고른 것은? [3점]

(단위: 만 명)

출발 \ 도착	1990년			2010년		
	서울	인천	경기	서울	인천	경기
서울	468.0	4.5	29.1	525.7	7.7	49.5
인천	10.0	64.4	4.8	17.3	123.7	13.1
경기	56.9	3.7	176.8	125.1	12.0	511.1

<보기>

- 인천은 서울보다 경기로의 통근·통학 인구가 많다.
- 1990년 서울의 통근·통학 인구는 유출보다 유입이 많다.
- 2010년 경기로의 전체 통근·통학 인구는 인천으로의 전체 통근·통학 인구의 2배 이상이다.
- 1990년 대비 2010년에 경기는 지역 내보다 지역 간의 통근·통학 인구 증가율이 높다.

- 가, 나
- 가, 다
- 나, 다
- 나, 라
- 다, 라

20. 다음 자료의 밑줄 친 ㉠~㉣에 대한 설명으로 옳지 않은 것은?

<지리 정보>

- 의미: 지표 위의 많은 지리적 현상들을 확인하여 분석하고 그 특성을 파악하는 데 필요한 정보
- 유형: ㉠ 공간 정보, 속성 정보, 관계 정보
- 수집: 문헌 조사, ㉡ 현지 조사, ㉢ 원격 탐사
- 표현 방법
 - 도표, 그래프, 지형도, ㉣ 수치 지도 등
 - 통계 지도: 점지도, 등치선도, 단계 구분도, ㉤ 유선도, 도형 표현도 등

- ㉠은 어떤 장소나 현상의 위치와 형태를 나타내는 정보이다.
- ㉡은 면담, 설문 조사 등을 통해 지리 정보를 수집한다.
- ㉢은 ㉡에 비해 넓은 지역의 지리 정보를 주기적으로 수집하는 데 유리하다.
- ㉣은 종이 지도에 비해 축척 변환, 자료의 중첩이 용이하다.
- ㉤은 기온, 해발 고도 등과 같이 연속된 수치를 표현하기에 적절하다.

* 확인 사항

○ 답안지의 해당란에 필요한 내용을 정확히 기입(표기)했는지 확인 하시오.