

사회탐구 영역(사회·문화)

제 4 교시

성명

수험 번호 3

제 [] 선택

1

1. 밑줄 친 ㉠~㉣과 같은 현상의 일반적인 특징에 대한 설명으로 옳은 것은?

우리 조상들은 예로부터 ㉠ 황토를 일상생활에서 다양하게 활용하며 건강을 지켜왔다. 예를 들어 조상들은 배탈이 나면 ㉡ 맑은 물에 황토를 넣어 만든 지장수를 마시기도 했다. 이러한 민간요법은 ㉢ 황토의 약성이 인체에서 나오는 독성을 중화시키는 작용을 이용한 것이다.

- ① ㉠과 같은 현상은 존재 범칙을 따른다.
- ② ㉠과 같은 현상은 개연성의 원리가 적용된다.
- ③ ㉡과 같은 현상은 가치 함축적이다.
- ④ ㉢과 같은 현상은 ㉣과 같은 현상에 비해 인과 관계가 명확하다.
- ⑤ ㉣과 같은 현상은 ㉠과 같은 현상과 달리 경험적 연구가 가능하다.

2. 다음 글에서 부각된 정보 사회의 특징으로 가장 적절한 것은?

인터넷 공간에서 생성되는 정보가 방대해지면서 이를 활용해 경쟁력을 높이려는 기업의 경영 전략도 다양해지고 있다. 예를 들어 인터넷 쇼핑몰의 경우 고객의 구매 이력 외에 검색한 상품, 쇼핑몰에 머무른 시간 등의 정보도 저장될 수 있다. 기업은 이를 토대로 고객이 좋아할 만한 상품을 선별해서 추천해 주는 맞춤형 서비스를 제공하거나, 주문 예상 고객의 주소지 인근 물류창고에 미리 상품을 옮겨 두어 배송 시간을 단축시키는 시스템을 운영하기도 한다. 이처럼 정보를 어떻게 분석하고 활용하느냐가 중요해짐에 따라 정보를 '21세기의 원유(原油)'에 비유하곤 한다.

- ① 소품종 대량 생산 체제가 확립된다.
- ② 가정과 일터의 통합 정도가 높아진다.
- ③ 다양한 형태의 사이버 공동체가 형성된다.
- ④ 정보가 부가 가치 창출의 원천으로 중시된다.
- ⑤ 정치 참여의 공간적 제약 완화로 참여 민주주의가 활성화된다.

3. 다음은 질문에 따라 자료 수집 방법 A~C를 구분한 것이다. 이에 대한 설명으로 옳은 것은? (단, A~C는 각각 면접법, 실험법, 질문지법 중 하나이다.) [3점]

○ '인위적인 통제 상황에서 변수를 의도적으로 조작하여 나타난 변화를 측정하는가?'라는 질문으로 A와 B를 구분할 수 있다.
 ○ '주로 양적 연구에서 활용하는 자료 수집 방법인가?'라는 질문으로 B와 C를 구분할 수 없다.
 ○ (가) 라는 질문으로 A와 C를 구분할 수 있다.

- ① A는 B에 비해 연구자의 주관이 개입될 가능성이 낮다.
- ② A는 C에 비해 시간과 비용 측면에서 효율성이 높다.
- ③ B는 C와 달리 표준화·구조화된 자료 수집 방법이다.
- ④ C는 A에 비해 대규모 집단을 대상으로 자료를 수집하기 용이하다.
- ⑤ (가)에는 '언어적 응답을 통한 자료 수집이 필수적인가?'가 들어갈 수 있다.

4. 사회·문화 현상을 바라보는 갑, 을의 관점에 대한 설명으로 옳은 것은? [3점]

사회자: 최근 도심 근처의 낙후 지역이 고급 상업 지역이나 고급 주거 지역으로 변화하면서 중산층 이상의 계층이 유입되어 기존의 거주민들을 대체하는 젠트리피케이션 현상이 발생하고 있습니다. 이에 대해 어떻게 생각하십니까?
 갑: 사회적, 경제적으로 우위를 차지하고 있는 계층이 자신들에게 유리한 지배구조를 이용하여 저소득층의 터전을 빼앗는 현상입니다.
 을: 도시의 안정적 유지에 필요한 상업 및 주거 기능을 충족시키기 위해 도시 공간이 재구조화되는 자연스러운 과정입니다.

- ① 갑의 관점은 지배 계급과 피지배 계급의 이익이 양립할 수 있음을 강조한다.
- ② 을의 관점은 사회 유지에 필요한 각 부분이 상호 의존적으로 작용한다고 본다.
- ③ 갑의 관점은 을의 관점과 달리 거시적 관점에서 사회·문화 현상을 설명한다.
- ④ 을의 관점은 갑의 관점과 달리 집단 간 갈등이 사회를 변동시키는 원동력이라고 본다.
- ⑤ 갑, 을의 관점은 모두 기득권층의 이익을 대변하는 논리로 이용된다는 비판을 받는다.

5. 갑과 을이 가진 문화 이해의 관점에 대한 옳은 설명만을 <보기>에서 고른 것은?

○ 갑은 멕시코와 미국의 유명 관련 축제를 연구하며 멕시코에서는 유명을 가족이 돌아온 것이라고 믿어 이들을 환영의 대상으로 여기는 반면, 미국에서는 유명이 산 자를 괴롭힌다고 믿어 유명을 피해야 할 대상으로 여기는 인식 차이에 주목하였다.
 ○ 을은 영국의 차(茶) 문화를 연구하며 물에 석회 성분이 많아서 식수로 적합하지 않은 환경적 요인, 영국의 식민지에서 저렴한 가격으로 차를 들여올 수 있었던 경제적 요인 등이 차 문화와 어떤 관련을 맺고 있는지에 주목하였다.

< 보 기 >

ㄱ. 갑의 관점은 문화 간의 보편성과 특수성을 파악하고자 한다.
 ㄴ. 을의 관점은 특정 문화 현상을 다른 문화 요소와의 관계 속에서 이해하고자 한다.
 ㄷ. 을의 관점은 갑의 관점과 달리 자문화의 객관적인 이해에 기여한다.
 ㄹ. 갑의 관점은 총체론적 관점에, 을의 관점은 비교론적 관점에 해당한다.

- ① ㄱ, ㄴ ② ㄱ, ㄷ ③ ㄴ, ㄷ ④ ㄴ, ㄹ ⑤ ㄷ, ㄹ

2 (사회·문화)

사회탐구 영역

6. 개인과 사회의 관계를 바라보는 을의 관점에 대한 옳은 설명만을 <보기>에서 고른 것은? [3점]

갑: 도시 주변의 일부 지역을 개발 제한 구역으로 지정하는 제도가 개인의 재산권을 침해한다는 논란이 있습니다. 이에 대해 어떻게 생각하십니까?

을: 개발 제한 구역 제도는 도시의 무질서한 확산 방지 및 자연환경 보전이라는 공익 실현에 기여합니다. 이를 위한 개인의 재산권 제한은 불가피한 것입니다. 공익은 사익의 총합으로 설명되지 않는 고유한 특성을 지니고 있어, 개개인의 사익 추구만으로는 실현되지 않습니다.

< 보 기 >

- ㄱ. 개인의 자율적·능동적 측면을 중시한다.
- ㄴ. 사회가 개인 외부에 존재하는 독립적 실체라고 본다.
- ㄷ. 사회 문제의 해결책으로 개인의 의식 개선을 강조한다.
- ㄹ. 개인의 사고와 행동에 대한 사회 구조의 영향력을 중시한다.

- ① ㄱ, ㄴ ② ㄱ, ㄷ ③ ㄴ, ㄷ ④ ㄴ, ㄹ ⑤ ㄷ, ㄹ

7. (가), (나)에 나타난 문화 변동에 대한 설명으로 옳은 것은?

(가) 투피어는 지금의 브라질 지역에 살던 원주민의 언어였다. 하지만 이 지역을 지배한 포르투갈이 자국 언어의 확산을 위하여 투피어 사용을 금지시키면서 이 언어는 사라졌고, 현재 원주민의 후손들은 포르투갈어를 사용하고 있다.

(나) 필리핀의 아티아티한 춤제는 본래 부족들 간 우정을 기념하며 춤과 음악을 즐기는 형태였다. 하지만 스페인 선교사가 전파한 가톨릭의 영향으로 현재는 필리핀의 전통 춤과 음악에 가톨릭 종교 의례가 접목된 새로운 형태가 되었다.

- ① (가)에서는 문화 융합이 나타났다.
- ② (가)에서는 자발적 문화 접변이 나타났다.
- ③ (나)에서는 문화 동화가 나타났다.
- ④ (가)에서는 (나)와 달리 직접 전파가 나타났다.
- ⑤ (나)에서는 (가)와 달리 문화 변동 후에도 기존 문화의 정체성이 남아 있다.

8. 다음 글에 나타난 일탈 이론에 대한 설명으로 옳은 것은? [3점]


사람들은 일상 속에서 사소한 일탈을 종종 행하지만 스스로를 일탈자라고 생각하지 않는다. 그러나 어떤 일탈 행동이 알려져 일탈자로서의 사회적 지위가 부여된 개인은 학교나 가정, 직장 등에서 지속적으로 부정적인 상호 작용을 경험하게 된다. 이에 따라 자신에 대한 일탈자라는 평가에 순응한 개인은 일탈자로서의 정체성을 형성하고, 이것이 또 다른 일탈로 이어진다.

- ① 부정적 자아가 형성되어 일탈 행동이 반복된다고 본다.
- ② 일탈 행동에 대한 대책으로 사회 규범 확립을 강조한다.
- ③ 급격한 사회 변동으로 인해 일탈 행동이 발생한다고 본다.
- ④ 타인과의 상호 작용을 통한 일탈 행동의 학습 과정에 주목한다.
- ⑤ 문화적 목표와 제도적 수단의 괴리를 일탈 행동의 원인으로 본다.

9. 사회 불평등 현상을 설명하는 갑, 을의 이론에 대한 설명으로 옳은 것은? (단, 갑과 을의 이론은 각각 계급론, 계층론 중 하나이다.)

생산 수단의 소유 여부가 사회 불평등의 근본적인 요인입니다. 이러한 경제적 요인을 바탕으로 사회 불평등을 설명해야 합니다.

경제적 요인이 중요하다는 데는 동의하지만 정치적, 사회적 요인 등도 복합적으로 고려해서 사회 불평등을 설명해야 합니다.



- ① 갑의 이론은 지위 불일치 현상을 설명하기에 적합하다.
- ② 을의 이론은 사회 불평등 현상을 연속적인 서열화 상태로 본다.
- ③ 갑의 이론은 을의 이론과 달리 다차원적인 기준으로 불평등한 분배 상태를 설명한다.
- ④ 을의 이론은 갑의 이론과 달리 동일한 경제적 위치에 속한 구성원 간의 강한 귀속 의식을 강조한다.
- ⑤ 갑, 을의 이론은 모두 정치적 불평등이 경제적 불평등에 종속된다고 본다.

10. 다음 연구에 대한 옳은 설명만을 <보기>에서 있는 대로 고른 것은? [3점]

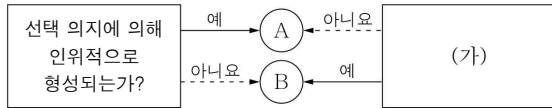
- 연구 주제: 우리나라 노인의 생활 만족도에 영향을 주는 요인
- 연구 가설
 - <가설 1> 소득 수준이 높을수록 노인의 생활 만족도가 높을 것이다.
 - <가설 2> 여가 활동을 많이 할수록 노인의 생활 만족도가 높을 것이다.
- 자료 수집
 - 조사 방법: ㉠ 전국의 70대 노인 1,000명을 무작위로 선정하여 설문 조사 실시
 - 조사 내용: ㉡ 월 평균 소득, ㉢ 주당 평균 여가 활동 시간, 생활 만족도 지수
- 자료 분석 결과
 - 노인의 월 평균 소득과 생활 만족도 지수 간에는 ㉣ 통계적으로 유의미한 양(+)의 상관관계가 나타났다. 한편, 노인의 주당 평균 여가 활동 시간과 생활 만족도 지수 간에는 통계적으로 유의미한 상관관계가 나타나지 않았다.

< 보 기 >

- ㄱ. ㉠을 통해 표본의 대표성이 확보되었다.
- ㄴ. ㉡, ㉢은 모두 독립 변수를 조작적으로 정의한 것이다.
- ㄷ. ㉢은 1차 자료를 분석하여 얻은 결과이다.
- ㄹ. 자료 분석 결과에 따르면 <가설 2>는 <가설 1>과 달리 수용되었다.

- ① ㄱ, ㄹ ② ㄴ, ㄷ ③ ㄷ, ㄹ
④ ㄱ, ㄴ, ㄷ ⑤ ㄱ, ㄴ, ㄹ

11. 그림은 질문을 통해 사회 집단 A, B를 구분한 것이다. 이에 대한 설명으로 옳은 것은? (단, A와 B는 각각 공동 사회, 이익 사회 중 하나이다.) [3점]



- ① 비공식 조직은 A에 해당한다.
- ② B는 가입과 탈퇴가 자유롭다.
- ③ A는 B와 달리 결합 자체를 목적으로 한다.
- ④ A의 사례로 친족을, B의 사례로 학교를 들 수 있다.
- ⑤ (가)에는 '형식적 인간관계가 지배적인가?'가 들어갈 수 있다.

12. 밑줄 친 ㉠ ~ ㉣에 대한 옳은 설명만을 <보기>에서 고른 것은?

㉠ 전 재산을 사회에 환원하여 존경을 받아 온 ㉡ 기업가 갑의 과거가 새롭게 알려져 화제가 되고 있다. 젊은 시절 그는 평범한 ㉢ 가정으로 살아가며 남몰래 ㉣ 독립운동 단체에서 활동하였다. 그러던 중 갑은 이 단체에서 비밀 작전을 지시받고, 작전을 수행하는 것과 가정으로서 책임을 다하는 것 사이에서 ㉤ 고민하였으나 결국 임무 수행을 위해 가족의 곁을 떠났다. 갑의 자녀들은 어린 시절 갑자기 떠난 ㉥ 아버지를 원망하였지만, 그동안 몰랐던 갑의 과거를 알게 되어 아버지를 이해하게 되었다.


< 보기 >
 가. ㉠은 ㉡으로서의 역할이다.
 나. ㉢은 ㉣과 달리 성취 지위이다.
 다. ㉢은 2차적 사회화 기관이다.
 라. ㉢은 갑의 역할 갈등에 해당한다.

- ① 가, 나 ② 가, 다 ③ 나, 다 ④ 나, 라 ⑤ 다, 라

13. (가) ~ (다)의 일반적인 특징에 대한 설명으로 옳은 것은? (단, (가) ~ (다)는 각각 공공 부조, 사회 보험, 사회 서비스 중 하나이다.)


그림은 우리나라 사회 보장 제도 유형 (가) ~ (다)의 사례입니다.

(가)의 사례




장애로 인해 거동이 불편하여 장애인 활동 지원 서비스를 신청했어요. 외출과 가사 활동 등을 도와주는 서비스를 받고 있지요.

(나)의 사례



직장을 다니던 동안 꾸준히 보험료를 납부한 덕에 현재 매달 연금 급여를 받고 있어 은퇴 후의 생활 유지에 보탬이 됩니다.

(다)의 사례



생계가 어려워져 주민 센터에 지원 신청을 했어요. 소득 인정액 기준을 충족해서 주거 급여, 의료 급여 등을 받고 있지요.

- ① (가)는 강제 가입 원칙이 적용된다.
- ② (나)는 미래의 위험에 대한 사전 예방적 성격을 지닌다.
- ③ (다)는 수혜 정도에 따른 비용 부담을 원칙으로 한다.
- ④ (다)는 (나)와 달리 소득 재분배 효과가 있다.
- ⑤ (가), (나)는 모두 국가나 지방 자치 단체가 비용을 전액 부담하는 것을 원칙으로 한다.

14. 밑줄 친 ㉠ ~ ㉣에 대한 옳은 설명만을 <보기>에서 있는 대로 고른 것은?

네오비트족은 패션이나 ㉠ 음식, 여가 생활 등 다방면에서 직접 체험을 중시하는 소비 집단을 뜻한다. 이들은 새로운 기술 습득 능력과 SNS 활용 능력이 뛰어나며 역동적인 여가 활동을 즐긴다. 이 용어는 1950년대 미국의 저항적인 ㉡ 청년 문화를 형성했던 비트족에서 유래했다. 비트족은 당시 기성세대가 중시했던 출세, 교육 등의 가치를 거부하는 태도를 보였다. ㉢ 네오비트족의 문화는 창의성과 도전 정신으로 새로운 트렌드를 만들어내는 것을 특징으로 하지만 사회 참여나 소통도 중시한다는 점에서 무조건적으로 사회에 반항했던 ㉣ 비트족의 문화와는 차이가 있다.

< 보기 >
 가. ㉠은 비물질문화에 해당한다.
 나. ㉡에서 '문화'는 넓은 의미로 사용되었다.
 다. ㉢은 한 사회의 문화적 다양성을 높이는 데 기여할 수 있다.
 라. ㉣은 주류 문화를 거부하는 반문화적 성격을 지닌다.

- ① 가, 나 ② 가, 라 ③ 다, 라
- ④ 가, 나, 다 ⑤ 나, 다, 라

15. 표는 갑국의 연도별 소득 5분위 배율을 나타낸 것이다. 이에 대한 분석으로 옳은 것은? (단, 갑국의 가구 유형은 남성 가구주 가구, 여성 가구주 가구로만 구분된다.) [3점]

구분	2016년	2017년	2018년	2019년
전체 가구	13.2	12.8	13.0	12.7
남성 가구주 가구	12.3	11.9	12.0	11.6
여성 가구주 가구	13.0	12.4	12.5	12.6

* '소득 5분위 배율 = 5분위 평균 소득 / 1분위 평균 소득'이며, 5분위는 소득 상위 20% 이내, 1분위는 소득 하위 20% 이내 가구들을 의미함.
 ** 각 연도에서 개별 가구의 소득은 서로 다름.
 *** 여성 가구주 가구의 경우, 1분위 평균 소득은 매년 상승하였음.

- ① 2016년 전체 가구 중 과반이 여성 가구주 가구이다.
- ② 2016년 남성 가구주 가구가 여성 가구주 가구에 비해 5분위 평균 소득이 낮다.
- ③ 2017년 여성 가구주 가구가 남성 가구주 가구에 비해 5분위 평균 소득과 1분위 평균 소득 간 액수 차가 크다.
- ④ 2018년 남성 가구주 가구의 경우, 소득 상위 10% 이내 가구들의 평균 소득은 소득 하위 10% 이내 가구들의 평균 소득의 12배보다 크다.
- ⑤ 2019년 여성 가구주 가구의 경우, 5분위 평균 소득은 2018년에 비해 감소하였다.

4 (사회·문화)

사회탐구 영역

16. 다음 자료에 대한 설명으로 옳은 것은? [3점]

사회·문화 현상의 연구 방법 중 A는 연구 대상이 되는 현상을 관찰하여 규칙성을 찾는 데 목적이 있다. 반면 B는 사회·문화 현상에 담긴 의미를 이해하고 해석하는 데 목적이 있다. 그림은 A, B의 일반적인 특징을 연결한 것이다.

- ① A는 행위 자체보다 행위의 동기를 주된 분석 대상으로 삼는다.
- ② B는 계량화된 자료의 통계 분석을 중시한다.
- ③ (가)에는 '연구자와 연구 대상을 분리할 수 없다고 본다.'가 들어갈 수 있다.
- ④ (나)에는 '직관적 통찰을 통해 사회·문화 현상의 의미를 해석한다.'가 들어갈 수 있다.
- ⑤ (다)에는 '사회·문화 현상과 자연 현상은 본질적으로 다르다고 전제한다.'가 들어갈 수 있다.

17. 밑줄 친 ㉠, ㉡에 부각되어 있는 문화의 속성에 대한 설명으로 가장 적절한 것은? [3점]

태극기는 1882년 조선이 외국과 조약을 체결하는 자리를 위해 처음 만들어졌다. ㉠ 당시 만들어진 태극기의 형태는 지금과 차이가 있었다. 태극 모양도 달랐으며 지금처럼 4괘가 아니라 8괘로 이루어져 있었다. 오늘날 우리는 국경일과 기념일에 국기를 게양하여 그 의미를 되새긴다. 예를 들어 현충일에는 태극기를 깃면 너비만큼 내려 다는데 ㉡ 이는 우리나라 국민에게 국가를 위하여 희생한 사람들을 추모하는 의미를 갖는다.

- ① ㉠: 문화가 구성원 간 상호 작용의 토대가 됨을 보여 준다.
- ② ㉠: 문화는 타고나는 것이 아니라 습득되는 것임을 보여 준다.
- ③ ㉠: 시간의 흐름에 따라 문화 요소의 의미나 형태가 변화함을 보여 준다.
- ④ ㉡: 문화가 이전의 문화를 토대로 점차 풍부해짐을 보여 준다.
- ⑤ ㉡: 한 문화 요소의 변화가 다른 문화 요소의 연쇄적인 변화를 초래할 수 있음을 보여 준다.

18. 표는 사회 조직 운영 원리 A, B를 비교한 것이다. 이에 대한 설명으로 옳은 것은? (단, A와 B는 각각 관료제, 탈관료제 중 하나이다.)

질문	A	B
상향식 의사결정 방식을 강조하는가?	예	㉠
효율적인 과업 수행을 지향하는가?	㉡	예
(가)	예	아니요

- ① ㉠, ㉡은 모두 '아니요'이다.
- ② A는 B에 비해 중간 관리층의 비중이 높다.
- ③ B는 A에 비해 연공서열에 따른 보상을 중시한다.
- ④ B는 A에 비해 업무 담당자에게 주어진 재량권이 크다.
- ⑤ (가)에는 '비공식적 규범을 통한 구성원의 통제가 지배적인가?'가 들어갈 수 있다.

19. 다음 글에 나타난 사회 변동을 설명하는 이론에 대한 옳은 설명만을 <보기>에서 고른 것은?

문화에도 인간과 유사하게 생애주기가 있어 문화마다 유년기, 청년기, 성년기, 노년기를 경험한다. 인류의 역사란 그러한 문화들의 집합적 전기(傳記)이다. 어떤 문화가 창조되고 형성되는 시기를 거쳐 정점에 다다를수록 그 문화가 지닌 힘은 더욱 명확하고 강력해진다. 그리고 모든 유기체가 성장 이후 소멸의 과정을 거치듯이 문화도 정점을 지난 후에는 쇠퇴기가 오며 궁극적으로 몰락하는 운명을 맞는다.

< 보기 >

- ㄱ. 사회가 단순한 형태에서 복잡한 형태로 진화한다고 본다.
- ㄴ. 사회 변동이 항상 진보와 발전을 의미하는 것은 아니라고 본다.
- ㄷ. 미래의 사회 변동에 대한 역동적 대응이 곤란하다는 비판을 받는다.
- ㄹ. 서구 제국주의를 정당화하는 수단으로 악용된다는 비판을 받는다.

- ① ㄱ, ㄴ ② ㄱ, ㄷ ③ ㄴ, ㄷ ④ ㄴ, ㄹ ⑤ ㄷ, ㄹ

20. 다음 자료에 대한 분석으로 옳은 것은? [3점]

다음은 갑국의 부모 세대와 자녀 세대의 계층을 조사하여 분석한 결과이다. 단, 계층은 상층, 중층, 하층으로만 구분하며, 모든 부모의 자녀는 1명씩이다.

<전체 자녀 중 부모와 계층이 일치하는 자녀의 비율>

부모와 자녀가 모두 상층인 경우	5%
부모와 자녀가 모두 중층인 경우	40%
부모와 자녀가 모두 하층인 경우	25%

<부모 세대 계층 대비 부모 세대와 자녀 세대의 계층 불일치 비율>

상층	50%
중층	0%
하층	50%

* 자녀 세대 중층에서 부모 세대와의 계층 일치 비율은 100%이다.

- ① 상층의 비율은 부모 세대가 자녀 세대보다 높다.
- ② 부모 세대와 자녀 세대 모두 피라미드형 계층 구조이다.
- ③ 세대 간 상승 이동 비율이 세대 간 하강 이동 비율보다 낮다.
- ④ 하층 부모를 둔 상층 자녀 수는 상층 부모를 둔 하층 자녀 수의 5배이다.
- ⑤ 자녀 세대 계층 대비 부모 세대와 자녀 세대의 계층 일치 비율은 상층이 하층보다 높다.

※ 확인 사항

답안지의 해당란에 필요한 내용을 정확히 기입(표기)했는지 확인하십시오.