

사회탐구 영역(경제)

제 4 교시

성명

수험번호

1

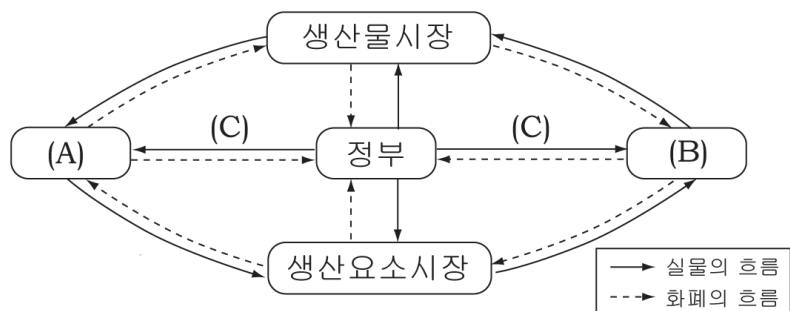
- 먼저 수험생이 선택한 과목의 문제지인지 확인하십시오.
- 반드시 자신이 선택한 과목의 문제지를 풀어야 합니다.
- 문제지에 성명과 수험 번호를 정확히 기입하십시오.
- 답안지에 수험 번호, 선택 과목, 답을 표기할 때에는 반드시 '수험생이 지켜야 할 일'에 따라 표기하십시오.
- 문항에 따라 배점이 다르니, 각 물음의 끝에 표시된 배점을 참고하십시오. 3점 문항에만 점수가 표시되어 있습니다. 점수 표시가 없는 문항은 모두 2점씩입니다.

1. 다음에서 알 수 있는 경제와 법의 관계에 대한 설명으로 가장 적절한 것은?

영화 상영의 취소와 지연에 따른 소비자와 사업자 간의 분쟁이 증가함에 따라 재정경제부는 소비자정책심의위원회를 열어 다음과 같은 내용의 '소비자피해보상규정' 개정안을 확정했다. 개정안에 따르면 소비자가 상영 20분 전까지 영화 관람을 취소하거나 사업자 때문에 영화 상영이 30분 이상 지연되면 관람료 전액을, 1시간 이상 지연되면 관람료의 2배를 환급받을 수 있게 되었다.

- ① 법보다 경제 활동이 우선한다.
- ② 법은 경제 활동의 자유를 보장한다.
- ③ 법의 목적은 경제 활동을 통제하는 것이다.
- ④ 법은 경제 활동의 물질적 기반을 제공한다.
- ⑤ 법은 경제 활동에 대해 규제 기능을 수행한다.

2. 그림은 국내 경제 활동의 흐름을 나타낸 것이다. (A)~(C)에 대한 설명으로 옳은 것은?



- ① (A)는 이윤의 극대화를 추구한다.
- ② (B)는 생산물시장의 수요자이고, 생산요소시장의 공급자이다.
- ③ (B)는 생산에 참여한 대가로 소득을 얻어 생활하는 소비 주체이다.
- ④ (C)는 사용 비용을 지불하지 않은 경제 주체의 소비를 제한하기 어려운 경향이 있다.
- ⑤ (C)는 시장 자율 기능에 맡길 경우, 사회적 필요 이상으로 공급되는 문제점이 발생한다.

3. 다음 (가), (나)에 대한 설명으로 옳지 않은 것은?

(가) 개인은 자신에게 최고의 이익이 발생하는 곳으로 생산요소를 배분한다. 개인들의 이런 노력으로 인해 모든 생산요소들이 최고의 성과를 올리면 사회 전체의 부는 자연히 증대된다.
 (나) 정부의 기능 확대는 자유방임에 대한 무서운 침해가 아니라 현존하는 경제형식의 붕괴를 피하는 유일한 수단이며, 개인의 창조 기능이 성과를 거둘 수 있는 유일한 조건이다.

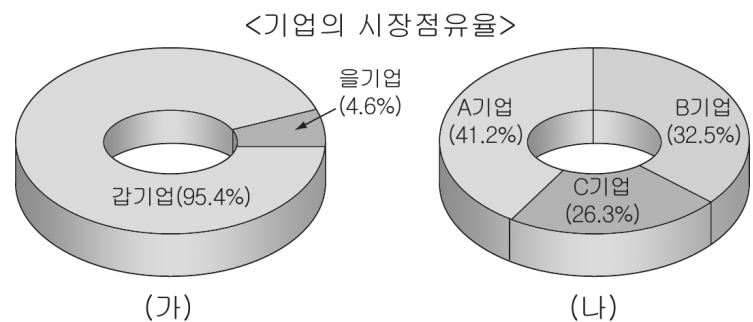
- ① (가)는 형평성보다 경제적 효율성을 더 중시한다.
- ② (가)는 '보이지 않는 손'의 자동 조절 기능을 신뢰한다.
- ③ (나)는 대공황이 계기가 되어 등장하였다.
- ④ (나)는 유효 수요 창출을 위한 정부의 역할을 강조한다.
- ⑤ (나)는 각종 규제 완화, 공기업의 민영화 등을 강조한다.

4. 다음 사례를 통해 알 수 있는 시장 경제의 원리로 가장 적절한 것은?

갑은 자신이 운영하는 식당의 음식물 쓰레기 처리로 곤란을 겪게 되자, "음식을 남기지 않으시면, 다음에 사용할 수 있는 할인쿠폰을 드립니다!" 라는 캠페인을 벌였다. 캠페인 후, 고객들은 좋아하지 않는 반찬을 주문하지 않아 메뉴의 구성이 간편하게 되었으며 음식물 쓰레기도 대폭 줄게 되었다. 뿐만 아니라 할인쿠폰을 사용하고자 하는 고객들로 인해 매출도 증가하게 되었다.

- ① 경쟁의 원리
- ② 분업의 원리
- ③ 교환 자유의 원리
- ④ 경제적 유인의 원리
- ⑤ 한계 효용 체감의 원리

5. (가), (나)와 같은 형태를 띠는 시장의 특징에 대한 설명으로 옳은 것을 <보기>에서 고르면? [3점]



< 보기 >

- ㄱ. (가)는 필요한 양보다 초과 공급될 가능성이 높다.
- ㄴ. (나)는 새로운 기업의 시장 진입에 장벽이 존재할 것이다.
- ㄷ. (가)는 (나)보다 가격 결정력이 낮다.
- ㄹ. (나)는 (가)보다 규모의 경제를 달성하기 어렵다.

- ① ㄱ, ㄴ
- ② ㄱ, ㄷ
- ③ ㄴ, ㄹ
- ④ ㄴ, ㄹ
- ⑤ ㄷ, ㄹ

2

사회탐구 영역(경제)

6. 다음은 갑이 만년필을 구입하기 위해 작성한 대안 평가표이다. 이에 대한 분석으로 옳지 않은 것은?

항 목 제 품	필기감 (35점)	브랜드 (20점)	디자인 (20점)	가격 (15점)	사후관리 (10점)	총계 (100점)
A	30	20	15	10	10	85
B	25	15	10	15	10	75
C	30	20	20	10	10	90
D	30	20	15	5	10	80
E	25	15	10	10	10	70

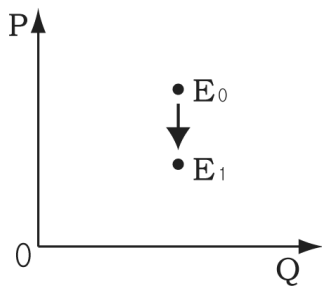
- ① B의 가격이 제일 저렴하다.
- ② C를 구입하는 것이 가장 합리적이다.
- ③ D나 E를 구입할 때의 기회비용은 동일하다.
- ④ 다른 항목에 비해 필기감이 더 중시된다.
- ⑤ 브랜드가 제품 차별화의 가장 핵심적 요소이다.

7. 다음을 통해 공통적으로 도출할 수 있는 결론으로 적절한 것은? [3점]

- 중고 자동차 시장에서 자동차 판매자는 자기 차의 결함에 대한 정보를 숨겨야 이익이 크고, 또한 그러한 정보를 제공할 의무가 없으므로 그 차를 산 사람이 피해를 입게 되는 경우가 발생한다.
- 생명보험에 가입하고자 하는 사람은 자신의 건강 상태에 대해 보험회사보다 잘 알고 있다. 남에게 알려지지 않는 않지만 건강에 문제가 있는 사람이 그렇지 않은 사람에 비해 생명보험에 가입할 가능성이 높기 때문에 보험료는 건강이 나쁜 사람들의 의료 비용을 반영한 수준이 된다. 그 결과 건강 상태가 좋은 사람들은 높아진 보험료 때문에 생명보험에 가입할 유인을 상실한다.

- ① 소비자는 과시를 목적으로 소비하기도 한다.
- ② 재화의 특성으로 인해 무임승차 현상이 나타난다.
- ③ 정부의 규제는 자원의 비효율적 배분을 초래한다.
- ④ 시장에서 가격 기구가 제 기능을 발휘하지 못할 수 있다.
- ⑤ 개별 경제 주체의 합리적 행동은 사회적 편익을 증진시킨다.

8. 그래프는 LCD TV 시장 가격의 변화를 나타낸 것이다. 균형점을 E₀에서 E₁으로 이동시킬 수 있는 원인을 <보기>에서 고른 것은? (단, 다른 조건은 일정함) [3점]



< 보기 >

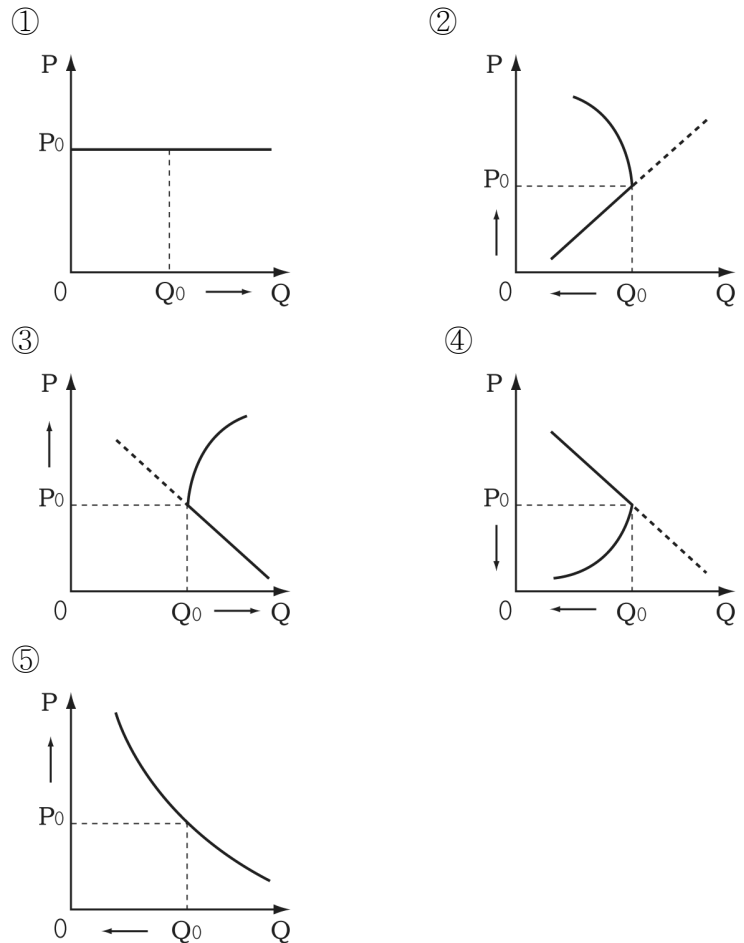
- ㄱ. 소득의 증가
- ㄴ. 대체재인 PDP TV 가격 하락
- ㄷ. 외국산 LCD TV의 수입 감소
- ㄹ. 원자재인 플라즈마의 가격 하락

- ① ㄱ, ㄴ
- ② ㄱ, ㄷ
- ③ ㄴ, ㄷ
- ④ ㄴ, ㄹ
- ⑤ ㄷ, ㄹ

9. 다음 뉴스를 통해 추론할 수 있는 굴비 시장의 수요 곡선은? [3점]

앵커 : 명절을 앞두고 대표적 제수용품인 굴비의 가격이 심상치 않다죠?

기자 : 요즘은 시기적으로도 우리나라 연근해에서 조기가 많이 잡히지 않을 뿐 더러, 그 동안의 무분별한 남획으로 조기 어획량은 평년의 2/3 수준입니다. 게다가 올해는 흐리고 비가 오는 날도 많아 굴비의 생산이 많은 차질을 빚었고, 주변국과의 어업 분쟁으로 조기의 공급 감소를 예상한 소비자들이 미리 굴비를 사두려고 해서 굴비 시장은 매우 불안정한 상황입니다.



10. 표는 어느 국가의 주요 경제지표이다. 이에 대한 분석으로 옳은 것을 <보기>에서 모두 고르면? [3점]

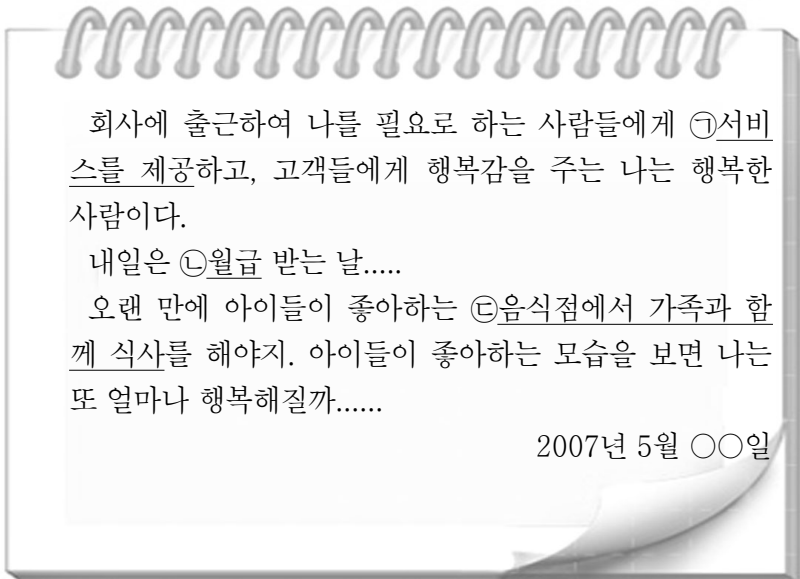
항 목	연 도	2002	2003	2004	2005	2006
1인당 명목임금		160만원	165만원	171만원	177만원	183만원
경상수지(억달러)		57.3	34.8	10.3	- 5.6	- 24.3
실업률 (%)		6.2	7.4	9.5	10.4	11.1
물가상승률 (%)		5.1	5.3	6.4	6.7	7.5

< 보기 >

- ㄱ. 가계의 경제 상황은 전반적으로 나아지고 있다.
- ㄴ. 2006년의 실업자 수는 2005년에 비해 증가하였다.
- ㄷ. 국제 거래로 인한 통화 감소 요인이 발생하고 있다.
- ㄹ. 이러한 추세가 계속된다면 스태그플레이션이 나타날 수 있다.

- ① ㄱ, ㄴ
- ② ㄱ, ㄷ
- ③ ㄷ, ㄹ
- ④ ㄱ, ㄴ, ㄷ
- ⑤ ㄴ, ㄷ, ㄹ

11. 다음 ㉠~㉣과 같은 경제 활동에 대한 설명으로 옳은 것을 <보기>에서 모두 고르면?

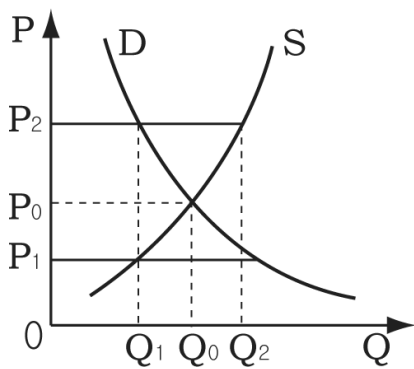


< 보기 >

- ㄱ. ㉠은 경제적 가치를 창출하는 행위이다.
- ㄴ. ㉡과 같은 경제 활동은 경제 체제에 따라 나타나지 않기도 한다.
- ㄷ. ㉢과 같은 경제 활동의 사례로 지대(地代), 이자를 들 수 있다.
- ㄹ. ㉣은 비용보다 편익이 작은 선택이 합리적이다.

- ① ㄱ, ㄷ ② ㄱ, ㄹ ③ ㄴ, ㄹ
- ④ ㄱ, ㄴ, ㄷ ⑤ ㄴ, ㄷ, ㄹ

12. 그래프는 정부가 시장에서 가격을 규제하는 경우를 나타낸 것이다. 이에 대한 추론으로 옳은 것을 <보기>에서 모두 고르면? [3점]



< 보기 >

- ㄱ. P₁으로 규제할 경우 암시장이 형성될 것이다.
- ㄴ. P₂로 규제할 경우 공급자는 공급량을 줄이려 할 것이다.
- ㄷ. 주택 임대 시장에서 P₁으로 규제할 경우 초과 수요가 발생할 것이다.
- ㄹ. 노동 시장에서 P₂로 규제할 경우 미숙련 노동자의 실업이 감소할 것이다.

- ① ㄱ, ㄴ ② ㄱ, ㄷ ③ ㄴ, ㄹ
- ④ ㄱ, ㄷ, ㄹ ⑤ ㄴ, ㄷ, ㄹ

13. 다음 사례를 통해 알 수 있는 바람직한 경제 활동의 평가 기준으로 가장 적절한 것은?

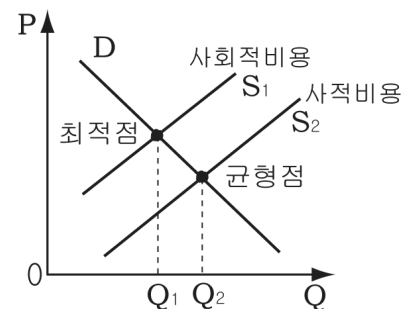
○〇협회는 남북통일과 대한민국의 번영을 기원하는 의미에서 한 반도 지형을 상징하는 농악 춤과 부채춤으로 표현한 그림을 특허 출원하였다. 이것을 활용하여 기념품을 제작하면 경제적 효과 뿐 아니라 외국인들에게 한국을 알리는 효과도 클 것으로 예상된다.



○△△기업은 툭툭 튀는 아이디어와 틈새시장을 노리는 전략을 통해 네모난 오이, 컬러 쌀 등 새로운 기술과 모양으로 농산물에 대한 시장점유율을 높여 가고 있다.

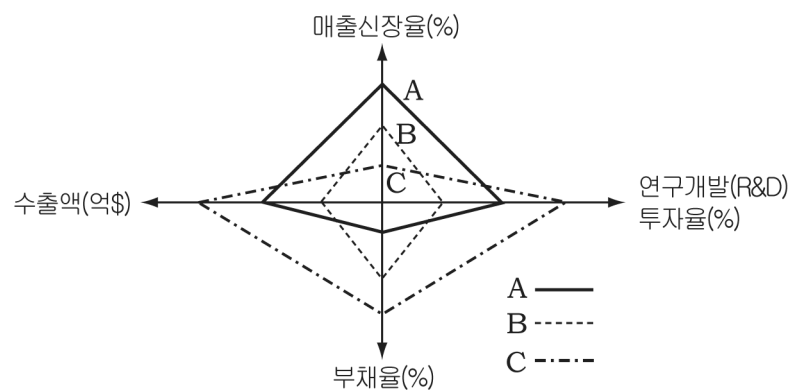
- ① 경쟁의 효율성 ② 창의적 사고 ③ 공정한 경쟁
- ④ 품질 관리 ⑤ 규칙 준수

14. 그래프는 외부 효과의 영향을 나타낸 것이다. 이에 대한 분석으로 옳은 것은? [3점]



- ① 공급자가 부담하는 비용이 사회적 비용보다 크다.
- ② 시장 균형 생산량이 Q₂로 결정되는 것은 시장 실패이다.
- ③ 시장에서 생산을 장려하기 위해 정부 보조금을 지급한다.
- ④ 시장 기능에 맡기면 사회적 최적 생산량보다 적게 생산된다.
- ⑤ 사회적인 최적 가격보다 더 높은 수준에서 시장 가격이 결정된다.

15. 그래프는 A, B, C 기업의 경영 정보를 나타낸 것이다. 이에 대한 분석으로 옳은 것을 <보기>에서 모두 고르면? [3점]



< 보기 >

- ㄱ. A는 B보다 많은 매출액 증가를 보이고 있다.
- ㄴ. A는 C보다 금리 인상에 따른 영향을 적게 받는다.
- ㄷ. C는 A보다 환율 상승에 따른 경영 부담이 크다.
- ㄹ. 이러한 추세가 지속될 경우 B보다 A의 경쟁력은 강화된다.

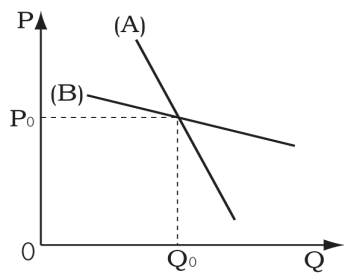
- ① ㄱ, ㄴ ② ㄱ, ㄷ ③ ㄴ, ㄹ
- ④ ㄱ, ㄷ, ㄹ ⑤ ㄴ, ㄷ, ㄹ

16. 다음과 같은 상황에서 유기농 농산물 시장의 변화를 바르게 짚지 않은 것은? (단, 다른 조건은 일정함)

국민 소득의 증가로 보다 질 높은 삶을 추구하는 웰빙 추세가 급속히 확산되고 있는 가운데 잔류 농약을 우려하는 사회적 목소리가 커지고 있다. 이에 따라 최근 농가에서는 벼농사에 오리를 이용한 친환경 유기농법으로 무공해 농산물을 재배하고 있다. 이는 기존의 유기농 재배보다 생산비를 절감시킬 뿐만 아니라 수확량 증대를 가져와 많은 이익을 창출하고 있다.

- | | | | |
|----------|-------|----------|-------|
| 균형가격 | 균형거래량 | 균형가격 | 균형거래량 |
| ① 알 수 없음 | 증가 | ② 알 수 없음 | 감소 |
| ③ 하락 | 증가 | ④ 상승 | 증가 |
| ⑤ 상승 | 감소 | | |

17. 그래프는 서로 다른 두 재화의 수요곡선을 나타낸 것이다. (A), (B) 재화에 대한 설명으로 옳은 것을 <보기>에서 모두 고르면? [3점]



< 보기 >

- ㄱ. (A)는 (B)에 비해 대체재가 적을 것이다.
- ㄴ. (A)는 (B)에 비해 공급자의 가격 인상 유인이 크다.
- ㄷ. (B)는 (A)에 비해 수요량의 변동률이 가격의 변동률보다 더 작다.
- ㄹ. (B)는 (A)에 비해 가격 하락시 공급자의 총판매수입은 감소할 것이다.

- ① ㄱ, ㄴ ② ㄱ, ㄷ ③ ㄷ, ㄹ
 ④ ㄱ, ㄴ, ㄷ ⑤ ㄴ, ㄷ, ㄹ

18. 표는 경제 체제에 따른 경제 문제의 해결 방법을 나타낸 것이다. (A)~(C)에 대한 설명으로 옳지 않은 것은?

경제 문제	해결 방법	
	(B)	계획경제
(A)	생산물 가격	정부의 계획과 명령
어떻게 생산할 것인가?	(C)	
누구에게 분배할 것인가?	생산물 가격과 생산 요소 가격	

- ① (A)는 비용과 편익 두 측면을 고려해야 한다.
- ② (A)는 경제적 가치를 창출하고자 하는 양(量)도 포함된다.
- ③ (B)는 가격 기구에 의한 경제 문제 해결을 강조한다.
- ④ (C)는 임금, 지대(地代), 금리 등을 통해 해결할 수 있다.
- ⑤ (C)에서는 경제적 선택 기준으로 성장보다는 분배를 우선한다.

19. 합리적 의사 결정 모형과 관련하여 I~IV단계에 대한 설명으로 옳은 것을 <보기>에서 고르면?

사장 : 세계화의 물결 속에 영문 번역기의 수요가 증가할 것으로 예상됩니다. 영문 번역기의 시장 규모와 제조 방법에 대해 말씀해 보세요. -----(I 단계)
 임원 : 현재 영문 번역기는 년 간 약 100억 원의 시장 규모를 가지고 있으며 매년 약 12%씩 급성장하고 있습니다. 영문 번역기의 제조 방법 총 4 가지 중 대표적 방법은 (A), (B)입니다. -----(II 단계)
 임원 : 영문 번역기 제조 방법에 따른 소요비용은 (A)가 25만원, (B)가 27만원입니다. -----(III 단계)
 사장 : 그럼, 가장 합리적인 (A)방법으로 우리 회사도 영문 번역기를 생산하도록 합시다. -----(IV 단계)

< 보기 >

- ㄱ. I 단계에서는 문제의 필요성과 내용을 파악하였다.
- ㄴ. II 단계에서는 조사의 대상이 소수일 경우에는 표본조사가 바람직하다.
- ㄷ. III 단계에서는 생산비용과 이윤 뿐 아니라 사회적 영향력도 고려하는 것이 바람직하다.
- ㄹ. IV 단계에서는 선택된 방안을 검토하고 평가하고 있다.

- ① ㄱ, ㄴ ② ㄱ, ㄷ ③ ㄴ, ㄷ
 ④ ㄴ, ㄹ ⑤ ㄷ, ㄹ

20. 다음 자료에 대한 분석으로 옳은 것을 <보기>에서 모두 고르면? (단, 다른 조건은 일정함) [3점]

A식당은 주방장 1명이 하루 열심히 일하면 갈비탕 5그릇 또는 설렁탕 8그릇을 요리할 수 있다. 이에 비해 B식당은 주방장 1명이 하루 열심히 일하면 갈비탕 6그릇 또는 설렁탕 8그릇을 요리할 수 있다.

< 보기 >

- ㄱ. A식당은 설렁탕을, B식당은 갈비탕을 특화하는 것이 합리적이다.
- ㄴ. A식당의 갈비탕 1그릇 생산에 따른 기회비용은 설렁탕 1.6 그릇이다.
- ㄷ. B식당의 설렁탕 생산에 따른 기회비용은 A식당보다 크다.
- ㄹ. B식당이 A식당에 비해 갈비탕과 설렁탕 모두 생산에 있어 효율적이다.

- ① ㄱ, ㄴ ② ㄱ, ㄷ ③ ㄷ, ㄹ
 ④ ㄱ, ㄴ, ㄷ ⑤ ㄴ, ㄷ, ㄹ

※ 확인사항

○ 문제지와 답안지의 해당란을 정확히 기입(표기)했는지 확인하시오.