

# 2007학년도 5월 경기도학업성취도평가 문제지

## 직업탐구 영역(인간발달)

제 4 교시

성명

수험번호

1

- 먼저 수험생이 선택한 과목의 문제지인지 확인하시오.
- 반드시 자신이 선택한 과목의 문제지를 풀어야 합니다.
- 문제지에 성명과 수험 번호를 정확히 기입하시오.
- 답안지에 수험 번호, 선택 과목, 답을 표기할 때에는 반드시 '수험생이 지켜야 할 일'에 따라 표기하시오.
- 문항에 따라 배점이 다르니, 각 물음의 끝에 표시된 배점을 참고하시오. 3점 문항에만 점수가 표시되어 있습니다. 점수 표시가 없는 문항은 모두 2점씩입니다.


1. (가)와 관련된 인간 발달 이론으로 적절한 것은?

개정된 아동 복지법에서는 아동 학대를 누구라도 신고할 수 있고 특히 교원, 의료인, 아동 복지 업무를 담당하는 사람 등에게 신고 의무를 부과하고 있다. 신고 의무 부과에 대한 의문에도 불구하고 이번 개정은 (가)아동의 발달을 개인과 가정의 책임으로만 보았던 것과는 달리 학교, 병원, 사회 복지 시설 등 아동을 둘러싼 주변 환경 체계와의 상호 작용도 중요한 영향 요인으로 보았다는 점에서 의의가 있다.

- ○○일보 -

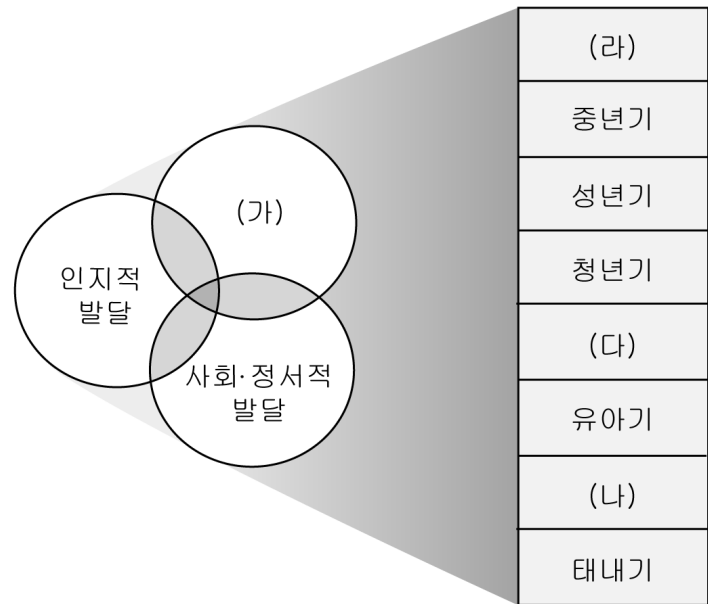
- ① 매슬로(Maslow)의 인본주의 이론
- ② 반두라(Bandura)의 사회 학습 이론
- ③ 로렌츠(Lorenz)의 동물 행동학 이론
- ④ 프로이트(Freud)의 심리 성적 발달 이론
- ⑤ 브론펜브레너(Bronfenbrenner)의 생태학 이론

2. 다음의 수업 상황에서 선생님의 질문에 대한 대답으로 가장 적절한 것은? [3점]



- ① 놀이터에 자주 데려 가서 또래와 어울릴 수 있게 해요.
- ② 때가 되면 저절로 말을 잘 할 테니 기다려야 할 것 같아요.
- ③ 말하는 중간에 끊지 말고 끝날 때까지 기다리면 어떨까요.
- ④ 말을 잘 할 때마다 좋아하는 간식을 만들어 주는 것이 좋겠어요.
- ⑤ 우선 마음의 상처가 있는지 살펴서 치유하는 것이 좋을 것 같아요.

3. 그림은 인간 발달의 영역과 단계를 간략히 표현한 것이다. (가)~(라)에 대한 설명으로 적절한 것을 <보기>에서 고르면? [3점]



< 보기 >

- ㄱ. (가)의 속도는 청년기에 가장 빠르다.
- ㄴ. 피아제(Piaget)는 (나)를 감각 운동기로 구분하였다.
- ㄷ. 프로이트(Freud)는 (다)를 항문기 단계로 구분하였다.
- ㄹ. 에릭슨(Erikson)은 (라)의 발달과업을 자아통합이라고 하였다.

- ① ㄱ, ㄴ
- ② ㄱ, ㄷ
- ③ ㄴ, ㄷ
- ④ ㄴ, ㄹ
- ⑤ ㄷ, ㄹ

4. 다음 인간 발달의 쟁점과 관련된 예시를 <보기>에서 고른 것은?

- 다른 환경에서 자라난 일관성 쌍생아는 성인이 되어서도 비슷한 성향을 지닌다.
- 남성의 정자나 여성의 난자 안에 크기만 작을 뿐 완전한 형상을 갖춘 인간이 들어 있다.

< 보기 >

- ㄱ. 순희는 사춘기 때 2차 성징이 나타났다.
- ㄴ. 경수는 태어날 때부터 아빠를 닮은 멋진 쌍꺼풀이 있다.
- ㄷ. 영희는 일본어를 매일 1시간씩 테이프를 들으며 공부했다.
- ㄹ. 철수는 누나와 함께 자전거를 배우기 위해 매일 연습하였다.

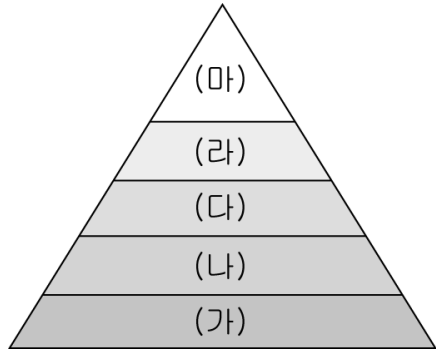
- ① ㄱ, ㄴ
- ② ㄱ, ㄷ
- ③ ㄴ, ㄷ
- ④ ㄴ, ㄹ
- ⑤ ㄷ, ㄹ

# 2

## 직업탐구 영역(인간발달)

5. 그림은 매슬로(Maslow)의 위계적 욕구 단계를 나타낸 것이다. (가)~(마)에 대한 예시를 <보기>에서 골라 바르게 연결한 것은?

[3점]

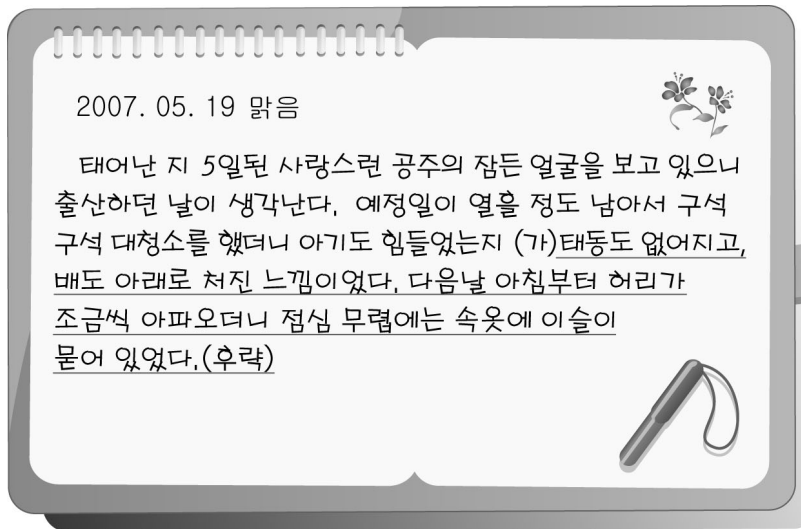


< 보기 >

- ㄱ. 난 배부르고 등 따뜻하면 제일 행복해.
- ㄴ. 나는 학교에 가서 친구들과 노는 게 좋아.
- ㄷ. 엄마, 내가 어디에 있는지 걱정되지도 않아?
- ㄹ. 내 꿈은 사람들을 감동시키는 음악가가 되는 거야.
- ㅁ. 나는 나중에 성공해서 어려운 사람들을 많이 도울 거야.

- ① (가) - ㄱ, ㄴ                      ② (나) - ㄱ, ㄷ
- ③ (다) - ㄴ, ㄹ                      ④ (라) - ㄷ, ㅁ
- ⑤ (마) - ㄹ, ㅁ

6. (가)와 같은 상황에서 임신부가 취해야 할 적절한 행동을 <보기>에서 고른 것은?



< 보기 >

- ㄱ. 예정일이 남았으니 참고 기다린다.
- ㄴ. 도와줄 수 있는 가족에게 연락한다.
- ㄷ. 분만을 예약한 곳에 상황을 알린다.
- ㄹ. 태아가 위험한 상황이므로 구급차를 부른다.

- ① ㄱ, ㄴ                      ② ㄱ, ㄹ                      ③ ㄴ, ㄷ
- ④ ㄴ, ㄹ                      ⑤ ㄷ, ㄹ

7. 다음 질문에 대한 답변으로 적절한 것은?

○○지식창고 통합검색 ▼ 임신  검색

지식통합    묻고 답하기    지식사전    전문지식

**질문** 임신 4주인데 해야할 일과 주의할 점은 무엇인가요?

**답변**

- 쁘리 ... 태아 건강을 위해 풍진 예방 접종을 하세요.
- 래미 ... 소화제는 의사의 처방을 받아서 복용하세요.
- 둥이 ... X선 검사를 해서 기형아 여부를 확인하세요.
- 나나 ... 초음파 검사를 통해 아기의 성별을 확인하세요.
- 캔디 ... 임신 4주 정도만 지나면 머리 염색도 괜찮아요.

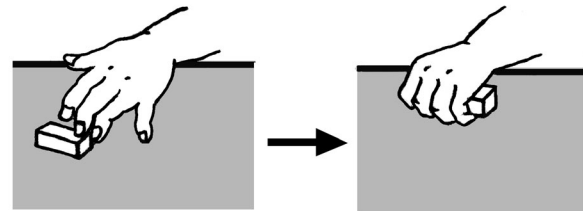
- ① 뿌리                      ② 래미                      ③ 둥이
- ④ 나나                      ⑤ 캔디

8. 다음에서 설명하는 분만법의 특징으로 가장 알맞은 것은? [3점]

- 산모뿐만 아니라 태아의 입장도 배려하였다.
- 분만실의 환경을 엄마 뱃속과 비슷하게 만들었다.
- 프랑스의 의사 르보이에(Leboyer)가 주장하였다.

- ① 태아의 머리를 끌어당겨서 분만 시간을 줄여준다.
- ② 몸과 마음의 훈련을 통해 분만할 때의 고통을 극복한다.
- ③ 부부가 훈련을 받고 남편의 주도에 따라 분만하는 방법이다.
- ④ 출생 후 산모의 배 위에 놓아 안정감을 얻게 한 후 탯줄을 자른다.
- ⑤ 분만대가 그네 형태이므로 힘주기에 적합한 자세를 취할 수 있다.

9. 그림과 같은 영아기의 운동 발달에 도움을 줄 수 있는 동작을 <보기>에서 모두 고른 것은?



< 보기 >

- ㄱ. 찹찹찹                      ㄴ. 짹짹
- ㄷ. 도리도리                      ㄹ. 곤지곤지

- ① ㄱ, ㄷ                      ② ㄴ, ㄹ                      ③ ㄱ, ㄴ, ㄷ
- ④ ㄱ, ㄴ, ㄹ                      ⑤ ㄱ, ㄷ, ㄹ

10. (가)에 들어갈 말로 적절하지 않은 것은? [3점]

임신부 : 요즘 모유를 먹이는 엄마들이 늘어난다고 하던데, 나는 모유 수유에 자신이 없어.  
 친구 A : 분유는 아기한테 적합한 성분으로 조제해서 아기 건강에 딱 맞는 식품이야. 그냥 분유 먹여.  
 친구 B : 그래도 모유가 더 좋아. 아기에게는 \_\_\_\_\_ (가) \_\_\_\_\_  
 또 엄마의 산후 회복도 빨라진대.  
 임신부 : 알겠어, 힘들어도 모유를 먹여야겠어.

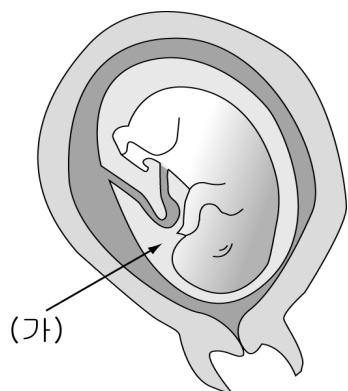
- ① 알레르기 반응이 적어서 좋대.
- ② 초유가 태변을 빨리 배설하도록 도와준대.
- ③ 엄마와의 피부 접촉이 정서적인 안정을 줘.
- ④ 모유에 단백질 함량이 더 많아 성장에 도움이 돼.
- ⑤ 병에 대한 저항력이 생겨서 질병에 잘 걸리지 않아.

11. (가)에 들어갈 용어에 대한 설명으로 적절한 것은?

남편 : 여보, 수민이가 내 목걸이를 움켜잡고 안 봐 주네.  
 아내 : 태어난 지 일주일밖에 안 됐는데? 신기하다.  
 아! 이게 바로 \_\_\_\_\_ (가) \_\_\_\_\_ 인가봐.

- ① 무의식적인 행동이다.
- ② 청각 능력과 관련이 있다.
- ③ 생후 1년 정도에 사라진다.
- ④ 성인의 놀람 반사로 대치된다.
- ⑤ 기분이 좋을수록 자주 나타난다.

12. (가)의 기능을 <보기>에서 고르면?

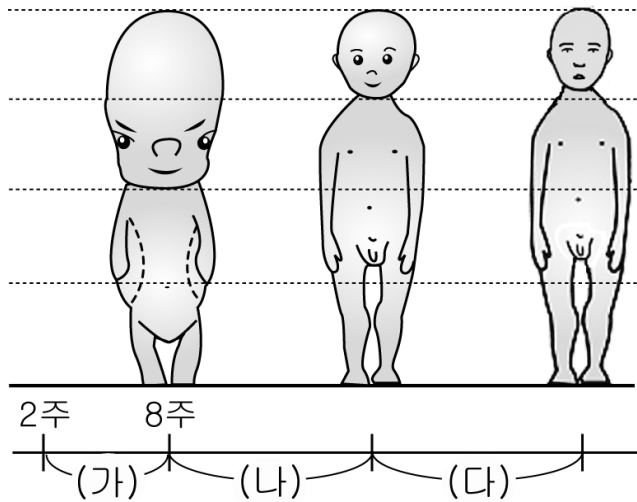


〈 보기 〉

ㄱ. 태아의 자유로운 활동을 돕는다.  
 ㄴ. 산도를 부드럽게 해서 출산을 돕는다.  
 ㄷ. 태아에게 산소와 영양분이 전달되는 통로이다.  
 ㄹ. 외부의 압박이나 충격으로부터 태아를 보호한다.  
 ㅁ. 태아의 폐, 소화 기관, 신장, 간의 역할을 대행한다.

- ① ㄱ, ㄴ, ㄷ                      ② ㄱ, ㄴ, ㄹ                      ③ ㄱ, ㄹ, ㅁ
- ④ ㄴ, ㄷ, ㅁ                      ⑤ ㄷ, ㄹ, ㅁ

[13~14] 다음은 신장에 대한 머리 크기의 비율을 나타낸 것이다. 물음에 답하시오.



13. (가), (나)에 대한 설명으로 옳은 것을 <보기>에서 모두 고르면? [3점]

〈 보기 〉

ㄱ. (가)는 배란에서 착상까지의 시기로 정착기라고 한다.  
 ㄴ. (가)는 빠른 속도로 신체 기관이 형성되는 결정적 시기이다.  
 ㄷ. (나) 시기에는 배아기에 형성된 신체 기관이 양적으로 더욱더 커진다.  
 ㄹ. (나) 시기는 임신 기간 중 모체의 환경이 태아에게 가장 치명적인 영향을 미치는 때이다.

- ① ㄱ, ㄷ                              ② ㄱ, ㄹ                              ③ ㄴ, ㄷ
- ④ ㄱ, ㄴ, ㄹ                        ⑤ ㄴ, ㄷ, ㄹ

14. (다) 시기의 감각 반응 중에서 가장 늦게 나타나는 것은?

- ① 박수치는 쪽으로 고개를 돌린다.
- ② 소리의 높고 낮음을 구별할 수 있다.
- ③ 엄마의 웃는 얼굴을 보고 따라 웃는다.
- ④ 쓴 약을 주면 혀로 밀어내고 쩡그린다.
- ⑤ 모유를 묻힌 수건 쪽으로 얼굴을 돌린다.

15. 다음 사례를 에릭슨(Erikson)의 발달 이론과 관련지었을 때, 과업 수행 과정에서 획득되는 심리 사회적 특성으로 적절한 것은? [3점]

18개월 된 영이는 소변 가리기를 연습하고 있다. 소변이 마려울 때 엄마에게 “쉬”라고 말하면, 엄마가 바지를 내려서 변기에 앉혀 준다. 어떤 때는 놀다가 바닥에 싸버리는 경우도 있고, 너무 늦게 말해서 엄마가 바지를 내려주는 동안 못 참고 싸기도 한다.

- ① 반복적으로 실패하면 불신감이 형성된다.
- ② 성공할 때마다 칭찬을 해주면 자율성이 발달한다.
- ③ 실수하더라도 관대하게 대하면 친밀감이 발달한다.
- ④ 더 어린 시기에 훈련을 시작하면 근면성이 발달한다.
- ⑤ 엄격한 훈련을 통해 빨리 습득하면 주도성이 발달한다.

# 4

## 직업탐구 영역(인간발달)

[16~17] 다음 한국 소아 발육 표준치를 보고 물음에 답하시오.

나이	남아		여아	
	체중(kg)	신장(cm)	체중(kg)	신장(cm)
신생아	3.40	51.4	3.24	50.5
4개월	7.62	65.1	7.15	64.0
8개월	9.05	72.1	8.48	70.3
1년	10.26	77.8	9.49	76.2
2년	12.56	87.9	12.01	86.9

16. 위의 표와 같이 연령별 발달을 수치화하는 데 공헌한 이론으로 알맞은 것은?

- ① 게젤(Gesell)의 성숙 이론
- ② 피아제(Piaget)의 인지 발달 이론
- ③ 반두라(Bandura)의 사회 학습 이론
- ④ 로렌츠(Lorenz)의 동물 행동학 이론
- ⑤ 프로이트(Freud)의 심리 성적 발달 이론

17. 위의 표에 대한 설명으로 옳은 것을 <보기>에서 고르면? [3점]

< 보기 >

- ㄱ. 신장보다 체중의 발달 속도가 느리다.
- ㄴ. 여아가 남아에 비해 발달 속도가 빠르다.
- ㄷ. 연령에 따른 발달의 속도는 일정하지 않다.
- ㄹ. 생후 1년이 되면 체중은 신생아의 3배 정도가 된다.

- ① ㄱ, ㄴ                      ② ㄱ, ㄷ                      ③ ㄴ, ㄷ
- ④ ㄴ, ㄹ                      ⑤ ㄷ, ㄹ

18. 다음에서 연령에 비해 발달 정도가 느린 영역에 해당하는 것은?

[3점]

영아 관찰 기록지	
2-3, 20번 △△△	
대상 : ○○○(만 2세)	
관찰일시 : 2007. 5. 5(토)	
발달 영역	관찰 내용
사회성 발달	낮가림이 매우 심하다.
운동 발달	공을 잡으려고 달려간다.
신체 발달	젖니가 20개 모두 나와 있다.
인지 발달	거울 속의 자기 모습을 알아본다.
언어 발달	두 단어를 사용하여 의사를 표현한다.

- ① 사회성 발달              ② 운동 발달              ③ 신체 발달
- ④ 인지 발달                ⑤ 언어 발달

19. 안정된 애착 관계를 형성한 영아가 그림과 같은 상황에서 엄마가 돌아온 후 보이는 행동으로 적절한 것은?



- ① 엄마에게 관심을 보이지 않는다.
- ② 엄마 뒤에 숨어서 나오지 않는다.
- ③ 기뻐하며 반긴 후 혼자서 잘 논다.
- ④ 엄마가 안아 주려고 해도 밀어낸다.
- ⑤ 울면서 엄마에게 안겨 떨어지지 않는다.

20. 다음과 관련하여 바람직한 부모 자녀 관계를 형성할 수 있는 예시를 <보기>에서 고르면? [3점]

기질이란 생후 초기부터 아기가 표현하는 정서의 뚜렷한 개인차를 말한다. 부모 자녀 관계의 질은 아기의 기질과 부모의 기질 및 양육 가치 체계의 상호 작용에 따라 달라진다.

< 보기 >

- ㄱ. 까다로운 기질의 아기를 순한 기질로 바꾸기 위해 엄격하게 기른다.
- ㄴ. 순한 기질의 아기에게 적응력을 길러 주기 위해 양육 태도를 자주 바꾼다.
- ㄷ. 늦되는 기질의 아기는 서서히 적응한다고 이해하여 여유를 가지고 기다려 준다.
- ㄹ. 까다로운 기질의 아기는 자주 울지만 욕구를 적극적으로 표현한다고 받아들인다.

- ① ㄱ, ㄴ                      ② ㄱ, ㄹ                      ③ ㄴ, ㄷ
- ④ ㄴ, ㄹ                      ⑤ ㄷ, ㄹ

※ 확인사항

○ 문제지와 답안지의 해당란을 정확히 기입(표기)했는지 확인하시오.