

사회탐구 영역(국사)

제 4 교시





성명

수험번호

1

- 먼저 수험생이 선택한 과목의 문제지인지 확인하시오.
- 반드시 자신이 선택한 과목의 문제지를 풀어야 합니다.
- 문제지에 성명과 수험 번호를 정확히 기입하시오.
- 답안지에 수험 번호, 선택 과목, 답을 표기할 때에는 반드시 '수험생이 지켜야 할 일'에 따라 표기하시오.
- 문항에 따라 배점이 다르니, 각 물음의 끝에 표시된 배점을 참고하시오. 3점 문항에만 점수가 표시되어 있습니다. 점수 표시가 없는 문항은 모두 2점씩입니다.

1. 연표의 (가)~(라)를 통해 알 수 있는 당시의 모습으로 적절한 것을 <보기>에서 고르면?

B.C. 8,000년경	B.C. 2,000년경	B.C. 400년경
(가) 	(나) 	(다) 
		(라) 

< 보기 >

- ㄱ. (가) - 농경 생활이 시작되었다.
- ㄴ. (나) - 실을 뽑아 옷이나 그물을 만들었다.
- ㄷ. (다) - 평등한 공동체 생활을 하였다.
- ㄹ. (라) - 중국과 교류가 이루어지고 있었다.

- ① ㄱ, ㄴ ② ㄱ, ㄷ ③ ㄴ, ㄷ
- ④ ㄴ, ㄹ ⑤ ㄷ, ㄹ

2. 다음 자료와 관련 있는 국가에 대한 설명으로 옳은 것은?

- 나라마다 각각 장수가 있어서 세력이 강대한 사람은 스스로 신지라 하고, 그 다음은 읍차라 하였다. 마한이 가장 강대하여 그 종족들이 함께 왕을 세워 진왕으로 삼았다. 목지국에 도읍하여 전체 지역의 왕으로 군림하였다. - 후한서 -

- 해마다 5월이면 씨뿌리기를 마치고 귀신에게 제사지낸다. 떼지어 모여서 노래와 춤을 즐긴다. 술 마시고 노는데 밤낮을 가리지 않는다. 춤은 수십 명이 모두 일어나서 뒤를 따라간다. 땅을 밟고 몸을 구부렸다 펴면서 손과 발로 장단을 맞추며 춘다. 10월에 농사일을 마치고 나서도 이렇게 한다. - 삼국지 위서 동이전 -

- ① 민며느리제라는 혼인 풍습이 있었다.
- ② 12월에는 영고라는 제천 행사를 행하였다.
- ③ 가(加)는 저마다 행정 구획인 사출도를 다스렸다.
- ④ 군장의 세력이 미치지 못하는 소도라는 곳이 있었다.
- ⑤ 다른 부족의 생활권을 침범하면 노비와 소, 말로 변상하였다.

3. 다음에서 설명하는 제도의 실패 원인으로 가장 적절한 것은? [3점]

춘추좌씨전이나 예기, 문선을 읽어 뜻이 능통하고 겸하여 논어, 효경에도 밝은 자를 상품(上品)으로 하고, 곡례, 논어, 효경을 읽은 자를 중품(中品)으로 하고, 곡례, 효경을 읽은 자를 하품(下品)으로 한다. 또 오경과 삼사와 제자백가의 책을 능히 두루 통하는 자가 있으면 특채해서 등용한다. - 삼국사기 -

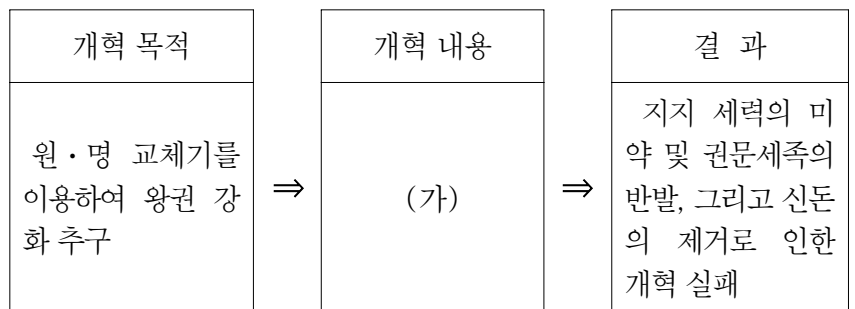
- ① 골품 제도의 모순 ② 지방 세력의 성장
- ③ 외적의 잦은 침입 ④ 6두품 세력의 몰락
- ⑤ 유교 정치 이념의 쇠퇴

4. (가), (나)로 대표되는 정치 세력을 비교한 내용으로 적절하지 않은 것은?



구 분	(가)	(나)
① 중심 인물	묘청	김부식
② 중심 세력	지방 신진 세력	중앙 문벌 귀족 세력
③ 계승 의식	신라 계승	고구려 계승
④ 대외 정책	북진 정책	사대 정책
⑤ 사상적 기반	풍수지리 사상	유교 사상

5. 고려 시대에 실시된 정치 개혁을 정리한 것이다. (가)에 들어갈 내용으로 가장 적절한 것은?



- ① 과전법 실시 ② 별무반 창설
- ③ 노비안검법 실시 ④ 사심관 제도 실시
- ⑤ 전민변정도감 설치

6. 지도는 고대 문화의 일본 전파를 나타낸 것이다. 이에 대한 탐구 활동으로 적절한 것을 <보기>에서 고르면? [3점]



< 보기 >

- ㄱ. 일본 성리학의 발전에 영향을 준 인물을 조사한다.
- ㄴ. 수산리 고분 벽화와 다카마쓰 고분 벽화를 비교해본다.
- ㄷ. '한인의 연못'이라는 이름이 생기게 된 배경을 찾아본다.
- ㄹ. 헤허의 관음보살도가 일본에 소장된 과정을 조사한다.

- ① ㄱ, ㄴ ② ㄱ, ㄷ ③ ㄴ, ㄷ
- ④ ㄴ, ㄹ ⑤ ㄷ, ㄹ

7. 밑줄 친 ㉠의 내용을 뒷받침하는 자료로 적절한 것을 <보기>에서 고르면?

역사 영상물 제작 기획서

- 제목 : 우리 땅 · 우리 역사! 발해를 찾아서!
- 기획 의도
중국의 '동북공정(東北工程)'이 문제가 되고 있는 것은 한국 고대사와 관련된 연구들이 한국사를 크게 왜곡하고 있기 때문이다. 중국은 발해의 옛 수도인 상경 용천부 유적을 복원해 유네스코에 세계 문화 유산으로 등록할 계획이다. 이에 맞서 ㉠**발해가 고구려를 계승하고 고려로 이어졌다는 것을 밝힘으로써 우리 역사를 지키고 민족 공동체에 대한 자긍심을 고취시키고자 한다.**

< 보기 >

- ㄱ. 발해의 중앙 관제표
- ㄴ. 상경 궁궐의 주작대로
- ㄷ. 정혜 공주 묘의 모죽임 천장 구조
- ㄹ. 고려국왕의 명칭을 사용한 발해 국서

- ① ㄱ, ㄴ ② ㄱ, ㄷ ③ ㄴ, ㄷ
- ④ ㄴ, ㄹ ⑤ ㄷ, ㄹ

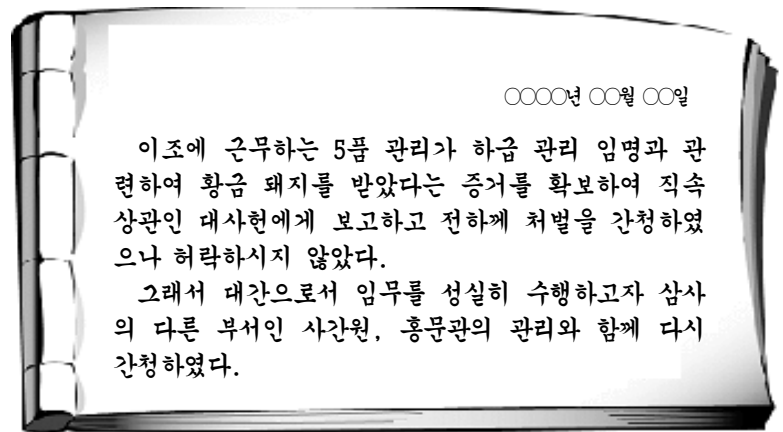
8. (가)에 들어갈 내용으로 가장 적절한 것은? [3점]

탐구 활동 계획서

- 주제 : _____ (가) _____
- 시기 : 통일 신라 시대
- 활동 : 녹읍을 혁파한 이유를 찾아본다.
문무 관료전을 지급한 목적과 의미를 알아본다.
백성에게 정전을 지급하게 된 배경을 파악한다.

- ① 농업 생산력 증대
- ② 지방 경제의 활성화
- ③ 국가의 토지 지배력 강화
- ④ 지주 전호제의 확대 방지
- ⑤ 고리대의 이자 부담 경감

9. 다음은 조선 시대 어느 관리의 가상 근무 일지이다. 이 관리가 소속된 정치 기구에 대한 설명으로 옳은 것은?



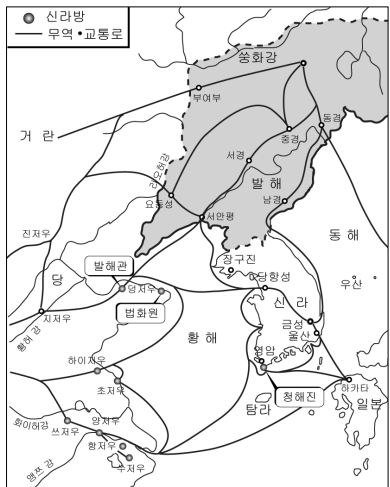
- ① 왕명의 출납을 담당하였다.
- ② 역사서를 편찬하여 보관하였다.
- ③ 교육과 과거 시험을 주관하였다.
- ④ 서울의 행정과 치안을 담당하였다.
- ⑤ 관리를 감찰하고 풍속을 교정하였다.

10. (가)~(다)를 실시한 공통된 목적으로 가장 적절한 것은?

- (가) 서얼의 자손은 문과, 생원 · 진사시에 응시할 수 없다. - 경국대전 -
- (나) 문무관 2품 이상 양첩 자손은 정3품까지 한하고 천첩 자손은 정5품까지 한하며, 6품 이상 양첩 자손은 정4품까지 한하고 천첩 자손은 정6품까지 한하여 승진한다. - 경국대전 -
- (다) 세상의 도덕이 날로 나빠진 뒤로부터 여자의 덕이 정숙하지 못하여 사족의 딸이 예의를 생각지 아니하고, 자진해서 재가 하니 엄하게 금령을 세우지 않는다면 이제부터 재가한 여자의 자손은 관료가 되지 못하게 하여 풍속을 바르게 하라. - 성종실록 -

- ① 노비의 수를 증가시키기 위해
- ② 중인의 직역을 세습시키기 위해
- ③ 과거 시험의 권위를 높이기 위해
- ④ 성리학적 사회 질서를 유지하기 위해
- ⑤ 평민층에게 신분 상승 기회를 주기 위해

11. 지도를 통해 추론할 수 있는 당시의 경제 활동으로 적절하지 않은 것은?



- ① 벽란도는 국제 무역항으로 번성하였다.
- ② 신라인의 당 진출로 신라방이 설치되었다.
- ③ 발해는 당, 신라, 거란, 일본과 무역을 하였다.
- ④ 당은 발해관을 설치하여 무역의 편의를 제공하였다.
- ⑤ 장보고는 청해진을 설치하여 해상 무역을 장악하였다.


12. 다음과 같은 경제관이 반영된 정부의 정책으로 옳지 않은 것은? [3점]

○ 농사와 양잠은 의식(衣食)의 근본이니, 왕도 정치에서 우선이 되는 것이다.
 ○ 검소한 것은 덕(德)이 함께 하는 것이며, 사치는 악(惡)의 큰 것이니, 사치스럽게 사는 것보다는 차라리 검소해야 할 것이다.
 - 조선경국전 -

- ① 사·농·공·상으로 구분하여 차별하였다.
- ② 농경지를 확대하고 농업 기술을 보급하였다.
- ③ 서울 근교와 지방의 장시 발전을 억제하였다.
- ④ 기술자를 공장안(工匠案)에 등록시켜 관리하였다.
- ⑤ 민간인에게 광산 개발을 허용하고 세금을 징수하였다.

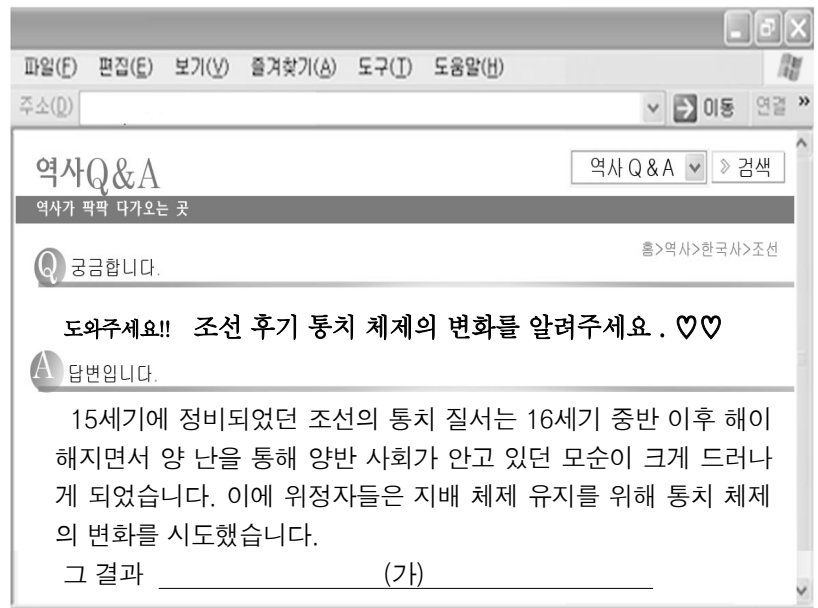
13. 다음 사실을 뒷받침하는 비석을 찾으려면?

장수왕은 남진 정책을 추진하여 평양으로 도읍을 옮기고 백제의 수도 한성을 함락시켰다. 또한 한강 전 지역을 포함하여 죽령 일대에서 남양만을 연결하는 선까지 판도를 넓혀 고구려가 한반도 중부 이남까지 진출하는 계기가 되었다.




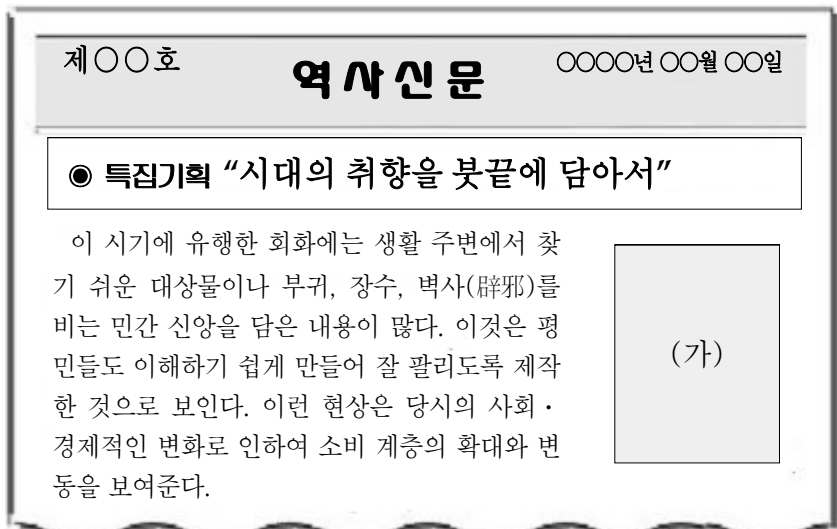
- ① (가) ② (나) ③ (다) ④ (라) ⑤ (마)

14. 밑줄 친 (가)에 들어갈 내용으로 적절하지 않은 것은? [3점]



- ① 지방군은 속오군 체제로 편성되었습니다.
- ② 임시 회의 기구로 비변사가 설치되었습니다.
- ③ 국방력 강화를 위하여 5군영이 설치되었습니다.
- ④ 1결당 4두로 고정 징수하는 영정법이 실시되었습니다.
- ⑤ 군포 2필을 1필로 감하여 주는 균역법이 실시되었습니다.

15. (가)에 들어갈 그림으로 가장 적절한 것은? [3점]



16. (가), (나) 책이 편찬된 시기를 연표에서 찾으시오. [3점]

(가) 일연이 엮은 것으로 불교사를 중심으로 고대의 민간 설화나 전래 기록을 수록하는 등 우리 문화와 전통을 중시하였으며, 단군의 건국 이야기를 수록하였다.
 (나) 이승휴의 저서로서 우리 나라의 역사를 단군에서부터 서술하면서 우리 역사를 중국사와 대등하게 파악하는 자주성을 나타내었다.

918	1019	1170	1232	1388	1485
㉠	㉡	㉢	㉣	㉤	㉥
고려 건국	귀주 대첩	무신 정변	강화 천도	위화도 회군	경국대전 완성
① ㉠	② ㉡	③ ㉢	④ ㉣	⑤ ㉤	

17. 다음은 조선 시대 어느 인물의 약력이다. ㉠~㉥의 결과에 대한 설명으로 옳은 것을 <보기>에서 고르면? [3점]

중종 5년 사마시 장원 급제, 성균관 입학
 중종 10년 문과 급제
 중종 12년 ㉠ 여씨향약 반포·간행
 중종 13년 ㉡ 소격서 폐지 요청
 중종 13년 ㉢ 현량과 실시 건의
 중종 14년 ㉣ 위훈 삭제 요청

< 보 기 >

㉠. ㉠ - 우리 풍토에 맞는 약재와 치료 방법이 보급되었다.
 ㉡. ㉡ - 연등회와 팔관회가 중지되었다.
 ㉢. ㉢ - 사림이 대거 정계에 등용되었다.
 ㉣. ㉣ - 훈구 세력의 반발로 사회가 발생하였다.

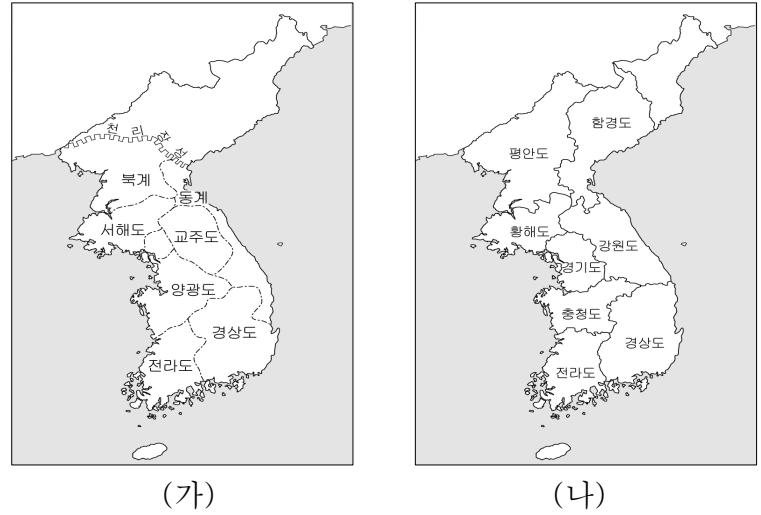
① ㉠, ㉡ ② ㉠, ㉢ ③ ㉡, ㉣
 ④ ㉡, ㉣ ⑤ ㉢, ㉣

18. 그림의 왕이 통치하던 시기의 정치 상황으로 옳은 것은?



- ① 잦은 환국으로 봉당 간의 대립이 심화되었다.
- ② 왕위 정통성을 둘러싼 예송 논쟁이 발생하였다.
- ③ 친위 부대인 장용영을 설치하여 왕권을 강화하였다.
- ④ 삼정이정청을 설치하여 삼정의 문란을 해결하고자 하였다.
- ⑤ 백두산에 정계비를 세워 청과의 국경 분쟁을 해결하려 하였다.

19. (가), (나) 시대의 지방 행정 조직에 대한 설명으로 옳지 않은 것은? [3점]



- ① (가) 시대에는 행정 조직을 이원적으로 운영하였다.
- ② (나) 시대에 속현은 주현을 통해서 중앙의 통제를 받았다.
- ③ (가), (나) 시대에 지방관은 행정권과 사법권을 행사하였다.
- ④ (가)에서 (나) 시대로 바뀌면서 향·소·부곡이 소멸되었다.
- ⑤ (가)에서 (나) 시대로 바뀌면서 향리 세력이 점차 약화되었다.

20. 그림은 어느 사적지의 안내판이다. ○○에 들어갈 건축물에 대한 설명으로 적절한 것을 <보기>에서 고르면? [3점]

병 산 ○ ○

소재지 : 경상북도 안동시 풍천면 사적 제 260호

이 ○○은 유성룡을 기념하기 위해 건립된 것으로 존덕사 건물에 위패가 모셔져 있다. 제향 공간으로 존덕사, 신문, 전사청이 있고, 강학 공간으로 입교당, 동재, 서재가 있다. 이 ○○은 1863년에 사액(賜額)을 받았다.

구성도
 ① 존덕사
 ② 장판각
 ③ 전사청
 ④ 신문
 ⑤ 입교당
 ⑥ 서재
 ⑦ 동재
 ⑧ 반대루
 ⑨ 주수

- < 보 기 >
- ㉠. 수령이 집무를 보는 곳으로 사용되었다.
 ㉡. 사림의 여론 형성 장소로 이용되었다.
 ㉢. 초등 교육을 담당하는 사립 교육 기관이었다.
 ㉣. 선현에게 제사하고 후진을 양성하는 장소였다.
- ① ㉠, ㉡ ② ㉠, ㉢ ③ ㉡, ㉣
 ④ ㉡, ㉣ ⑤ ㉢, ㉣

※ 확인사항
 ○ 문제지와 답안지의 해당란을 정확히 기입(표기)했는지 확인하십시오.