

제 4 교시


사회탐구 영역 (세계지리)

성명		수험번호					3		
----	--	------	--	--	--	--	---	--	--

- 자신이 선택한 과목의 문제지인지 확인하십시오.
- 문제지에 성명과 수험번호를 정확히 써 넣으십시오.
- 답안지에 성명과 수험번호를 써 넣고, 또 수험번호와 답을 정확히 표시하십시오.
- 과목을 선택한 순서대로 풀고, 답은 답안지의 '제1선택'란에서부터 차례대로 표시하십시오.
- 문항에 따라 배점이 다르니, 각 물음의 끝에 표시된 배점을 참고하십시오. 3점 문항에만 점수가 표시되어 있습니다. 점수 표시가 없는 문항은 모두 2점입니다.

1. 자료에 나타난 인간과 환경의 관계와 유사한 사례로 가장 적절한 것은?

국토의 일부분이 해수면보다 낮은 네덜란드는 톨립 모양의 인공섬을 그림과 같이 건설할 예정이다. 이 섬은 해안이 침수되는 것을 막는 방파제의 역할뿐만 아니라 스포츠 시설, 농업 및 양식장으로 이용되고, 풍력 발전과 같은 청정 에너지 개발의 전초 기지로도 활용될 수 있을 것이다.



- ① 열대 지역의 가옥은 지붕의 경사가 급하다.
- ② 캘리포니아에 이주한 중국인은 벼농사를 주로 하였다.
- ③ 한대 지역에서는 체온을 유지하기 위해 가죽 옷을 입는다.
- ④ 오스트레일리아 내륙에서는 관정을 개발하여 목양을 한다.
- ⑤ 관개 농업 확대에 아랄해는 면적이 축소되고 염도가 높아졌다.

2. 자료와 같은 경관이 나타나는 이유로 알맞은 것을 <보기>에서 고른 것은?

이곳에는 마치 미로처럼 구불구불하게 이어진 좁은 길이 있다. 이 길을 따라 희고 넓은 집들이 다닥다닥 붙어 있어 그늘이 지고 한낮에도 항상 어두침침하다.



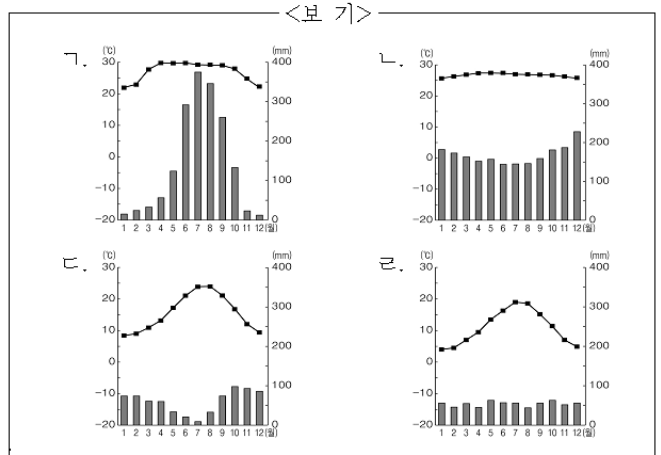
<보기>

- ㄱ. 강한 일사 광선을 피하기 위해
- ㄴ. 해충(害蟲) 피해를 줄이기 위해
- ㄷ. 사막의 모래 폭풍을 피하기 위해
- ㄹ. 열대 이동성 저기압의 피해를 줄이기 위해

- ① ㄱ, ㄴ ② ㄱ, ㄷ ③ ㄴ, ㄷ ④ ㄴ, ㄹ ⑤ ㄷ, ㄹ

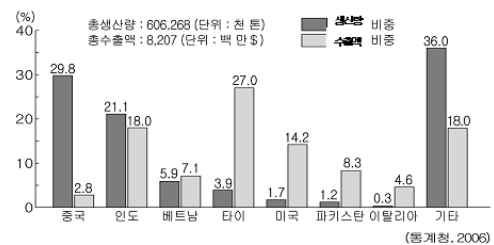
3. (가), (나)에 해당하는 지역의 기후 그래프를 <보기>에서 찾아 알맞게 연결한 것은? [3점]

- (가) 활발한 용탈 작용으로 토양이 매우 척박하여 일부 원주민들은 삼림을 불태우고 그 재를 이용해 경작하다가 지력이 쇠퇴하면 다른 곳으로 이동한다.
- (나) 포도는 뿌리를 깊이 내려 뜨겁고 건조한 여름철에도 잘 자라고, 긴 일조 시간은 당도를 높여 주기 때문에 이 지역 사람들이 많이 재배하고 있다.



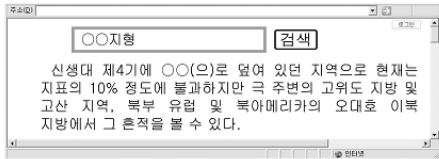
- | | | | | | |
|---|-----|-----|---|-----|-----|
| | (가) | (나) | | (가) | (나) |
| ① | ㄱ | ㄴ | ② | ㄱ | ㄷ |
| ③ | ㄴ | ㄷ | ④ | ㄴ | ㄹ |
| ⑤ | ㄷ | ㄹ | | | |

4. 그래프에 나타난 작물의 특징으로 알맞은 것은? [3점]



- ① 단위 면적당 생산량이 많아 인구 부양력이 높다.
- ② 냉량하고 건조한 기후 환경에서도 재배가 가능하다.
- ③ 유럽인의 이주 및 가톨릭교의 전파에 따라 확산되었다.
- ④ 바이오 디젤의 원료로 활용되어 재배 면적이 확대되고 있다.
- ⑤ 초콜릿의 원료로 고온다습하고 배수가 양호한 곳에서 재배된다.

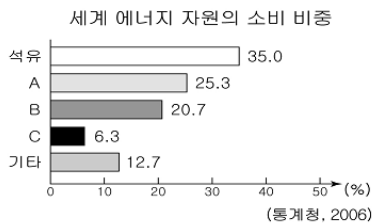
5. 자료는 ○○지형의 인터넷 검색 결과이다. 이에 해당하는 지형의 사진으로 알맞은 것은?



- ①
- ②
- ③
- ④
- ⑤

6. (가)~(다)에 해당하는 에너지 자원을 그래프에서 골라 알맞게 연결한 것은? [3점]

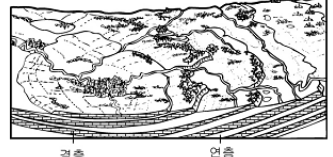
(가) 지구 온난화 문제가 부각되고, 고유가 시대가 이어지면서 관심이 높아졌지만 안전 및 폐기물 처리에 많은 어려움이 있다.
 (나) 다른 화석 에너지에 비해 공해가 적고 열효율이 높으며, 파이프라인 건설 등으로 장거리 수송이 가능해지면서 생산과 소비가 증가하고 있다.
 (다) 가정용, 발전용, 산업용 연료로 널리 활용되지만 온실가스를 가장 많이 배출하기 때문에 최근 국제적으로 배출량 규제를 받고 있다.



- | | | | |
|---|-----|-----|-----|
| | (가) | (나) | (다) |
| ① | A | B | C |
| ② | A | C | B |
| ③ | B | C | A |
| ④ | C | A | B |
| ⑤ | C | B | A |

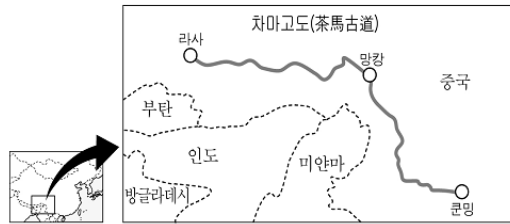
7. 자료와 같은 지형의 주된 형성 원인으로 알맞은 것은?

리우데자네이루와 브라질리아 중간쯤을 통과했을 때 비행기의 창밖으로 낮고 긴 구름의 열이 겹겹이 뻗어 있는 모습이 시야에 펼쳐졌는데 마치 여러 대의 기차가 경주를 하는 모습 같았다. 지난번 여행 중 파리 주변에서 본 것과 비슷하였다.



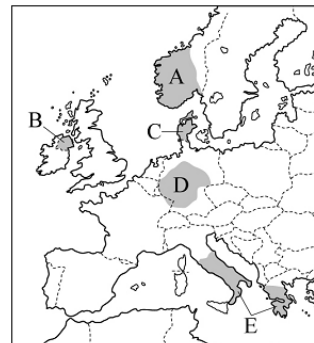
- ① 수분의 동결과 용해 반복
- ② 빗물과 지하수에 의한 용식
- ③ 화산 활동에 의한 용암 분출
- ④ 파랑의 침식과 기반암의 융기
- ⑤ 기반암의 차이에 따른 차별 침식

8. 지도에 나타난 교통로 주변에서 볼 수 있는 경관으로 알맞지 않은 것은? [3점]



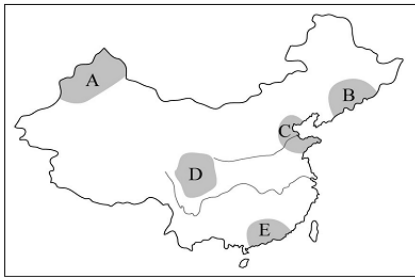
- ① 지평선 위로 끝없이 펼쳐진 붉은 수수밭
- ② '오체투지' 수행을 하고 있는 라마교 승려
- ③ 말에 소금과 차(茶)를 싣고 가는 상인들의 행렬
- ④ 고원의 초지에서 한가로이 풀을 뜯고 있는 야크 떼
- ⑤ 고갯마루에서 안녕(安寧)을 기원하며 나부끼는 룡다

9. 지도의 A~E 지역에 대한 탐구 주제로 적절하지 않은 것은? [3점]



- ① A : 편서풍으로 인한 산성비의 피해 정도
- ② B : 인종 차별로 발생하는 지역 간의 분쟁
- ③ C : 국가 경제에서 차지하는 낙농업의 중요성
- ④ D : 수운 기능이 산업 발달에 끼친 영향
- ⑤ E : 관광 산업이 지역 경제에 미치는 영향

10. 지도의 A~E 지역에 대한 설명으로 알맞지 않은 것은?



- ① A : 석유 및 천연 가스의 매장량이 많고 소수 민족 비율이 높다.
- ② B : 조선족이 많이 거주하며 세계적인 잠곡 생산지이다.
- ③ C : 정치·행정 중심지이며 우리나라 중소기업의 진출이 매우 활발하다.
- ④ D : 풍부한 자원을 바탕으로 중화학 공업이 발달한 최대의 공업 지역이다.
- ⑤ E : 개혁·개방의 전초 기지로 국내 총생산, 수출액 등에서 1위를 차지하고 있다.

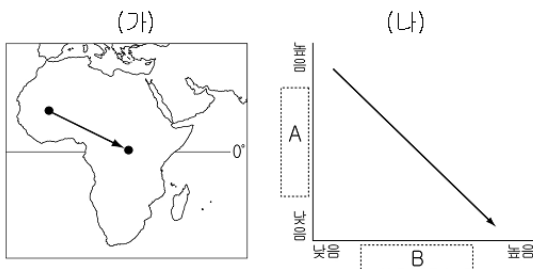
11. 다음 글의 ㉠~㉣에 대한 설명으로 알맞지 않은 것은? [3점]

뉴질랜드 남섬의 웨스트랜드는 남알프스 산맥 서쪽의 해안에 위치한다.

이곳은 바다의 습기를 포함한 ㉠편서풍이 남알프스 산맥에 부딪치면서 ㉡연강수량 6,000mm 이상의 다우지를 이룬다. 그러나 ㉢남알프스 산맥의 동사면에 위치한 ㉣켄터베리 평야는 ㉠편현상으로 건조한 편이다.

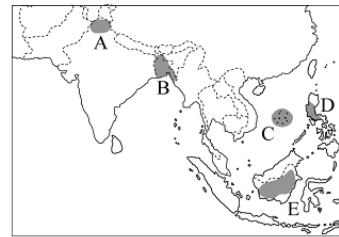
- ① ㉠ : 이 바람의 영향으로 연교차가 작다.
- ② ㉡ : 지형성 강수 현상 때문이다.
- ③ ㉢ : 동서 간 교통의 장애와 문화적 경계를 이룬다.
- ④ ㉣ : 대규모로 소를 방목하는 모습이 나타난다.
- ⑤ ㉣ : 유사한 현상으로 미국 서부 지역의 치누크가 있다.

12. (가)의 화살표 방향으로 이동했을 때 (나)와 같이 나타나는 A, B 두 지표가 알맞게 연결된 것은? [3점]



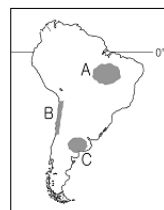
- | | |
|-------------|------------|
| A | B |
| ① 연강수량 | 식생 밀도 |
| ② 유목민 비중 | 적색토 비중 |
| ③ 연평균기온 | 관개농업 비중 |
| ④ 일 최고 기온 | 이슬람교도 비율 |
| ⑤ 대류성 강우 빈도 | 코카서스 인종 비중 |

13. 지도의 A~E 지역에서 나타나는 문제로 알맞지 않은 것은?



- ① A : 이슬람교도와 불교도 간의 분쟁
- ② B : 열대 이동성 저기압으로 인한 풍수해
- ③ C : 석유 자원 확보를 둘러싼 국가 간 갈등
- ④ D : 화산 폭발로 인한 피해
- ⑤ E : 열대림의 남벌로 인한 생태계 파괴

14. (가)~(다)와 같은 경관이 나타나는 지역을 지도에서 찾아 알맞게 연결한 것은?



- | | | | |
|---|-----|-----|-----|
| | (가) | (나) | (다) |
| ① | A | B | C |
| ② | A | C | B |
| ③ | B | A | C |
| ④ | B | C | A |
| ⑤ | C | B | A |

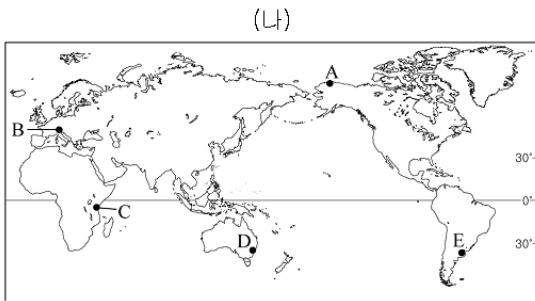
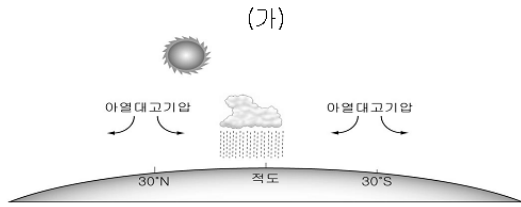
15. 자료의 ○○산업이 인도에서 발달하게 된 요인으로 알맞은 것을 <보기>에서 고른 것은?

○○산업은 2005년 전 세계 시장 규모가 170억 달러로 그 중 인도의 비중은 46%이며, ○○산업의 핵심인 BPO 분야에서는 65%로 더 크게 나타난다.

※ BPO(Business Process Outsourcing) : 고객지원, 물류, 회계 등 기업의 업무 처리 공정을 전산화하여 외부에 맡기는 것

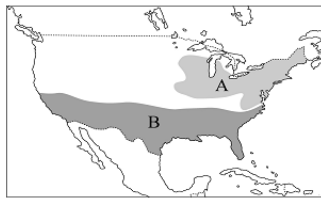
- <보기>
- ㄱ. 풍부한 동력 및 지하자원
 - ㄴ. 영어 사용이 가능한 전문 기술 인력
 - ㄷ. 내륙 수로를 이용한 물류 비용 절감
 - ㄹ. 시차를 이용한 실리콘밸리와와의 업무 연계
- ① ㄱ, ㄴ ② ㄱ, ㄷ ③ ㄴ, ㄷ ④ ㄴ, ㄹ ⑤ ㄷ, ㄹ

16. 자료의 (가)시기에 (나)의 A~E 지역에 나타나는 현상으로 알맞은 것은? [3점]



- ① A : 밤에도 해가 지지 않아 커튼을 치고 잠을 잔다.
- ② B : 목동들은 풀을 찾아 양떼를 끌고 산 아래로 이동한다.
- ③ C : 우기가 시작되어 초식 동물들이 먹이를 찾아 이동한다.
- ④ D : 무더위가 지속되어 냉방기 판매량이 증가한다.
- ⑤ E : 바닷가에는 해수욕을 즐기는 사람들이 많다.

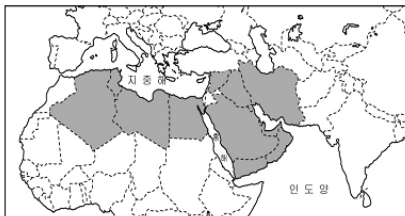
17. 지도에 표시된 A, B 두 지역의 특색을 알맞게 비교한 것을 <보기>에서 고른 것은?



- <보 기>
- ㄱ. A보다 B에서 인구유입이 활발하다.
 - ㄴ. A보다 B는 공업 발달의 역사가 짧다.
 - ㄷ. A보다 B는 공업 생산액의 비중이 높다.
 - ㄹ. A보다 B에서 공업의 집적 불이익이 크다.

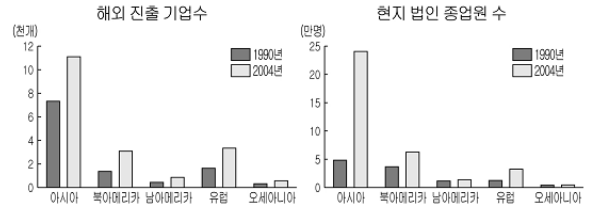
- ① ㄱ, ㄴ ② ㄱ, ㄷ ③ ㄴ, ㄷ ④ ㄴ, ㄹ ⑤ ㄷ, ㄹ

18. 지도에 표시된 지역에 대한 설명으로 알맞지 않은 것은?



- ① 일교차가 연교차보다 크다.
- ② 1인당 에너지 소비량이 유럽보다 많다.
- ③ 자원 개발의 영향으로 유목민의 수가 줄어들고 있다.
- ④ 관개 시설을 통해 대추야자, 채소 등을 재배하고 있다.
- ⑤ 라마단 기간 동안은 해가 떠서 지기 전까지 금식을 한다.

19. 그래프는 일본 기업의 해외 진출 현황을 나타낸 것이다. 이를 통해 추론한 내용으로 알맞은 것을 <보기>에서 고른 것은? [3점]



- <보 기>
- ㄱ. 기업의 공간적 분업이 약화될 것이다.
 - ㄴ. 국외 지역에서 얻은 이익은 감소할 것이다.
 - ㄷ. 무역 마찰 해소와 시장 개척에 유리할 것이다.
 - ㄹ. 인건비 절감이 아시아 지역 진출의 목적일 것이다.

- ① ㄱ, ㄴ ② ㄱ, ㄷ ③ ㄴ, ㄷ ④ ㄴ, ㄹ ⑤ ㄷ, ㄹ

20. 지도에 나타난 도시들의 특성을 알맞게 추론한 것을 <보기>에서 고른 것은? [3점]



- <보 기>
- ㄱ. 세계 경제의 중심지 역할을 할 것이다.
 - ㄴ. 인구의 증가로 불량 주택 지구가 확대될 것이다.
 - ㄷ. 자국 내 타 도시와의 격차가 완화되고 있을 것이다.
 - ㄹ. 도시 내 기반 시설의 확충에 따른 재정 지출이 확대될 것이다.

- ① ㄱ, ㄴ ② ㄱ, ㄷ ③ ㄴ, ㄷ ④ ㄴ, ㄹ ⑤ ㄷ, ㄹ

* 확인 사항
 ◦ 답안지의 해당란에 필요한 내용을 정확히 기입(표기)했는지 확인 하시오.