

제 4 교시

사회탐구 영역 (세계사)

성명		수험번호					3		
----	--	------	--	--	--	--	---	--	--

- 자신이 선택한 과목의 문제지인지 확인하십시오.
- 문제지에 성명과 수험번호를 정확히 써 넣으시오.
- 답안지에 성명과 수험번호를 써 넣고, 또 수험번호와 답을 정확히 표시하십시오.
- 과목을 선택한 순서대로 풀고, 답은 답안지의 '제1선택'란에서부터 차례대로 표시하십시오.
- 문항에 따라 배점이 다르니, 각 물음의 끝에 표시된 배점을 참고하십시오. 3점 문항에만 점수가 표시되어 있습니다. 점수 표시가 없는 문항은 모두 2점입니다.

1. 엽서의 발신자가 여행 중인 국가의 고대 문명에 대한 옳은 설명을 <보기>에서 고른 것은?

Post Card

어제 카이로에 도착해서 파피루스 연구소에 갔어요. ... (중략) ... 내일은 태양신 '라'와 더불어 중요한 신으로 생각하던 '아문' 신을 기리는 카르낙 신전을 보러 루소르로 갈 예정입니다.

PS : (사랑한다는 말이예요. ^^)

From 카이로 에서

To Korea

○○시 ○○분

엄마에게

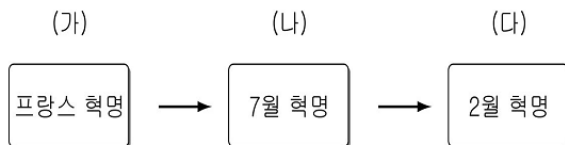
□□□-□□□

<보기>

- ㉠. 사후 세계를 믿어 '사자의 서'를 남겼다.
- ㉡. 파라오에 의해 신정 정치가 시행되었다.
- ㉢. 개방적 지형으로 인해 왕조의 교체가 빈번하였다.
- ㉣. 옛 법을 집대성하여 「함무라비 법전」을 편찬하였다.

- ① ㉠, ㉡ ② ㉠, ㉢ ③ ㉡, ㉣ ④ ㉡, ㉣ ⑤ ㉢, ㉣

2. 도표의 (가) ~ (다)에 해당하는 내용으로 옳지 않은 것은? [3점]



- ① (가) - 직접적 원인은 재정 문제였다.
- ② (가) - 국민의회는 인권선언문을 발표하였다.
- ③ (나) - 샤를 10세의 반동 정치에 대항하였다.
- ④ (나) - 루이 나폴레옹을 대통령으로 선출하였다.
- ⑤ (다) - 노동자들이 선거권의 확대를 요구하였다.

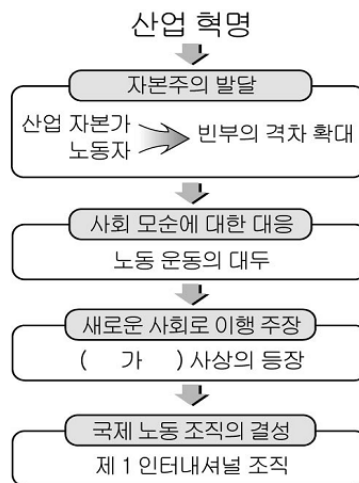
3. (가), (나) 사상에 대한 설명으로 옳은 것은?

(가) 천하의 군자들이 서로 어렵다고 말하는 것은 겸애의 이로움을 깨닫지 못하고 어려운 까닭만을 생각했기 때문이다. ... (중략) ... 차별 없이 사랑하고 서로 이롭게 하는 것이 어려운 일인가?

(나) 무릇 백성들의 본성은 힘든 것을 싫어하고 편히 노는 것을 좋아한다. 그들이 편히 놀면 나라가 황폐해진다. 나라가 황폐해지면 사회의 안정을 찾을 수 없다. 사회가 안정되지 않으면 필시 혼란해지게 마련이다. 그래서 상과 벌을 천하에 실시하지 않으면 나라의 운명이 다하게 된다.

- ① (가)는 상앙과 한비자 등에 의해 발전하였다.
- ② (가)는 사치와 낭비를 부정하고 전쟁을 반대하였다.
- ③ (나)는 인과 예를 중심으로 한 도덕 정치를 주장하였다.
- ④ (나)는 인위적인 것을 부정하고 무위자연을 강조하였다.
- ⑤ (가)와 (나)는 신선 사상과 결합되어 도교로 발전하였다.

4. 다음은 산업 혁명 이후 노동 운동의 발전 과정을 정리한 것이다. (가)의 내용으로 가장 적절한 것은? [3점]



- ① 상공업을 중시하고 국가의 부를 증대해야 한다.
- ② 국부(國富)의 원천을 토지와 농업에서 찾아야 한다.
- ③ 사유 재산 제도를 폐지하고 생산 수단을 공유해야 한다.
- ④ 경제 활동의 자유를 보장하고 국가의 간섭을 배제해야 한다.
- ⑤ 적자 생존의 원칙을 깨는 국가의 구빈 사업을 폐지해야 한다.

5. 자료와 관련된 막부에 대한 옳은 설명을 <보기>에서 고른 것은?

조선 통신사 일행 475명이 한양을 떠났다. 일행 중에는 각종 문서의 기초를 담당하는 제술관, 서기, 사자관, 의원, 화원 등 제1급의 인물들이 있었다. ... (중략) ... 모리야마로부터 히코네를 거쳐 토리이모토까지 이르는 길은 '조선인 가도'라는 새로운 이름이 붙었으며, 이 가도는 쇼군이 상경할 때와 통신사가 지나갈 때만 이용되었다.

<보기>
㉠. 국왕 중심의 정치 제도를 완성하였다.
㉡. 미나모토 요리토모가 권력을 장악하였다.
㉢. 네덜란드의 영향으로 난학이 발달하였다.
㉣. 산킨고타이 제도를 통해 다이묘들을 통제하였다.

- ① ㉠, ㉡ ② ㉠, ㉢ ③ ㉡, ㉣ ④ ㉡, ㉣ ⑤ ㉢, ㉣

6. 밑줄 친 '이 나라'에 해당하는 사실로 옳은 것은? [3점]

중국 ○○통신은 840여 년 전 광둥성 앞바다에서 침몰한 이 나라의 무역선 난하이 1호가 인양된다고 보도했다. 중국 언론들은 난하이 1호가 당시 교역에 관한 중요한 사실을 제공할 것이라고 기대했다. 당시 이 나라는 교자, 회자라는 지폐를 발행할 정도로 상품 화폐 경제가 발달하였으며, 대외 교역 또한 활발히 전개하였다. 난하이 1호는 이 나라의 뛰어난 도자기 제작 기술, 조선 기술 수준 등과 더불어 항저우, 광저우와 인도, 이집트를 잇는 해상 비단길의 전모를 알려줄 것이다.

- ① 환관 정화에게 남해를 원정하게 하였다.
② 주요 수출품인 차가 재배되기 시작하였다.
③ 특허 상인인 공행에게만 무역을 허락하였다.
④ 무역항에 시박사를 두어 세금을 징수하였다.
⑤ 색목인에게 제정의 실무를 담당하게 하였다.

7. 자료와 관련된 전쟁에 대한 옳은 설명을 <보기>에서 고른 것은?

합중국 대통령인 나는 합중국의 권위와 정부에 대해 일어난 현재의 무장 반란을 앞에 두고, 합중국 육해군 최고 사령관으로서 나에게 주어진 권한에 따라 이 반란을 진압하기 위해 적절하고 필요한 전투 수단으로써, 오늘을 기해 ... (중략) ... 남부의 노예들은 영원히 자유의 몸이 될 것임을 선포한다.

<보기>
㉠. 프랑스 혁명에 영향을 주었다.
㉡. 먼로 선언을 발표하는 계기가 되었다.
㉢. 남북 간의 경제 구조 차이가 원인이었다.
㉣. 국민적 통합이 진전되는 토대를 마련하였다.

- ① ㉠, ㉡ ② ㉠, ㉢ ③ ㉡, ㉣ ④ ㉡, ㉣ ⑤ ㉢, ㉣

8. 다음 안내문과 관련 있는 왕조에서 볼 수 있는 사회 모습으로 옳지 않은 것은?

모시는 글
○○ 법사를 모시고 법회를 개최하고자 합니다. 많은 참석 바랍니다.
1. 날짜 : 정관 ○○년 ○월 ○일
2. 장소 : 장안 ○○사 (약도 참조)

- ① 비단을 사러 온 서역 상인
② 부병제에 의해 동원된 병사
③ 조공을 위해 찾아온 외국 사신
④ 선교 활동을 하는 예수회 선교사
⑤ 불경을 구하기 위해 인도로 떠나는 승려

9. (가) ~ (다)의 조세 제도와 관련된 내용으로 옳은 것은? [3점]

(가) 토지를 대상으로 거두는 조(租), 호(戶)를 대상으로 거두는 조(調), 역에 종사하지 않을 경우 그 대신 현물로 납부하는 용(庸)을 징수하였다.
(나) 토지와 재산의 많고 적음에 따라 지세와 호세를 부과하되, 여름과 가을에 나누어 징수하였다.
(다) 정세를 토지세에 포함시켜 은으로 징수하는 제도로 농민들은 다른 사람의 정세를 떠맡을 부담이 사라졌다.

- ① (가)는 안·사의 난 이후 시행되었다.
② (나)는 균전제를 기반으로 운영되었다.
③ (다)는 세금이 토지세와 인두세로 통합되었다.
④ (나), (다)는 빈부 격차를 반영하여 시행되었다.
⑤ (나) → (가) → (다)의 순서로 변화되었다.

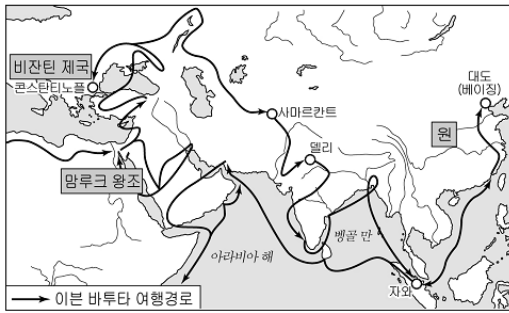
10. 자료와 관련된 종교에 대한 설명으로 옳은 것은?

태초에 앙그라 마이뉴는 악을 선택하여 그에 수반되는 파괴·불의·죽음의 힘을 얻었고, 스펀다 마이뉴는 선을 선택하여 진리·정의·생명의 속성을 얻었다. ... (중략) ... 짜라투스트라가 죽고 3000년이 되면 세상의 종말이 오는데, 그 때 구세주가 나타나 천국과 지옥에 있는 모든 인간이 부활하고, 최후의 심판이 행해진다. - 「아베스타」 -

- ① 사산 왕조 페르시아에서 국교로 채택하였다.
② 창시자 무하마드를 최후의 예언자로 규정하였다.
③ 콘스탄티누스 황제가 밀라노 칙령을 통해 공인하였다.
④ 율회 사상에 기반을 두어 폐쇄적인 신분제를 합리화하였다.
⑤ 고행을 통한 구제와 철저한 불살생주의를 기본으로 하였다.

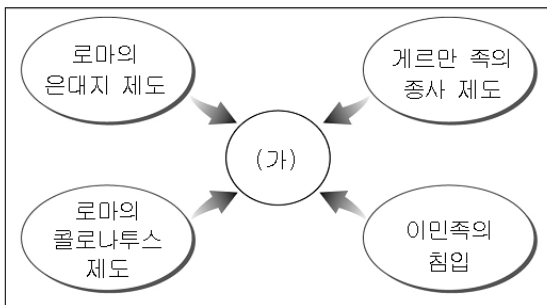
11. 지도를 보고 이븐 바투타의 여행 경험을 잘못 추론한 학생은?

[3점]



- ① 갑 : 자와 섬에서는 이슬람 교도를 만났을 거야.
- ② 을 : 중국을 여행할 때에는 역참을 이용했을 거야.
- ③ 병 : 타지마할을 보고는 깊은 감명을 받았을 거야.
- ④ 정 : 성 소피아 성당에서는 출입을 제한받았을 거야.
- ⑤ 무 : 사마르칸트에서는 몽고 침입의 흔적을 보았을 거야.

12. (가) 제도에 대한 옳은 설명을 <보기>에서 고른 것은?



<보기>

- ㄱ. 영주의 불입권을 인정하였다.
- ㄴ. 농노의 재산 소유를 인정하지 않았다.
- ㄷ. 상품 화폐 경제의 발달로 인해 쇠퇴하였다.
- ㄹ. 혈연을 기반으로 한 주종 관계를 특징으로 하였다.

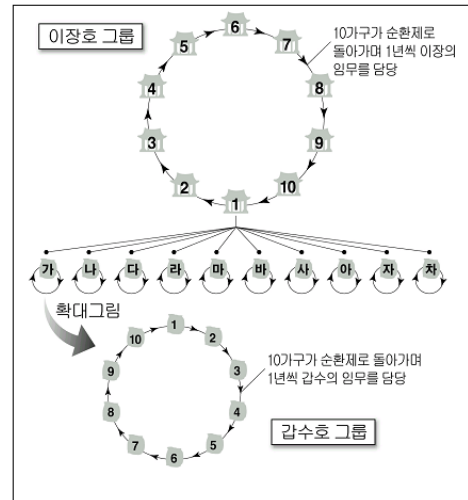
- ① ㄱ, ㄴ ② ㄱ, ㄷ ③ ㄴ, ㄷ ④ ㄴ, ㄹ ⑤ ㄷ, ㄹ

13. 자료와 같은 상황을 해결하기 위해 영국이 취한 정책으로 옳은 것은?

18세기에 영국의 차 수요는 기하급수적으로 증가하였다. 영국의 차 수입은 1684년의 5상자에서 1720년 무렵 181톤으로 증가하였고, 1800년에는 50배 이상인 1만 419톤에 달하였다. 이 무렵 영국은 중국에서 판매된 차의 약 7분의 1을 구매하고 있었고, 차 수입세가 국세의 10분의 1을 차지하였다. 중국으로 유출되는 은의 양은 1760년대에는 매년 약 84 킬로그램에서 1780년대에는 450톤으로 증가하였다.

- ① 차 수입을 제한하였다.
- ② 중국과의 조공 무역을 확대하였다.
- ③ 중국에서 동인도 회사를 철수시켰다.
- ④ 국내에서 유통되는 은의 수량을 제한하였다.
- ⑤ 인도의 아편을 이용해 중국과 삼각 무역을 실시하였다.

14. 다음 제도에 대한 옳은 설명을 <보기>에서 고른 것은? [3점]



<보기>

- ㄱ. 부족제와 군사제를 융합한 것이다.
- ㄴ. 「부역황책」의 작성 및 조세 징수에 활용되었다.
- ㄷ. 향촌의 치안 유지와 교화를 목적으로 운용되었다.
- ㄹ. 한족과 유목 민족을 분리 통치하는데 이용되었다.

- ① ㄱ, ㄴ ② ㄱ, ㄷ ③ ㄴ, ㄷ ④ ㄴ, ㄹ ⑤ ㄷ, ㄹ

15. 다음은 중국 역사 인물과의 가상 인터뷰이다. (가) ~ (다)에 들어갈 내용으로 옳은 것은? [3점]

조정에 진출하게 된 계기가 무엇입니까?

(가) 저는 양쯔 강 유역 안후이 성의 지주 출신으로 **(가)**이 일어났을 때 '회군'이라는 향응을 조직하여 이를 진압하였으며, 이후 관직을 얻어 **(나)**를 주도하고 있습니다.

외세의 침략으로부터 중국을 구하기 위해 필요한 것은 무엇이라 생각하십니까?

(다) 서양의 우수한 기계를 만드는 기술을 찾고, 이를 통해 부국 강병을 꾀한다면 100년 후에는 자립하고도 남음이 있을 것입니다. 즉, 저의 생각을 한마디로 표현하면 **(다)**입니다.

- | | | | |
|---|----------|----------|------|
| | (가) | (나) | (다) |
| ① | 의화단 운동 | 양무 운동 | 중체서용 |
| ② | 의화단 운동 | 변법 자강 운동 | 부청명양 |
| ③ | 태평 천국 운동 | 양무 운동 | 중체서용 |
| ④ | 태평 천국 운동 | 변법 자강 운동 | 부청명양 |
| ⑤ | 태평 천국 운동 | 변법 자강 운동 | 중체서용 |

16. (가), (나)와 관련된 국가의 문화에 대한 설명으로 옳지 않은 것은?

(가) 도시의 가장 높은 언덕인 이 곳에는 시민의 정신적 지주인 각종 신전이 자리 잡았다. 페르시아의 공격을 받아 파괴된 신전을 페리클레스가 화려하게 재단장하였다. 한편, 이 도시민들은 세계를 인간의 모습과 감정을 지닌 신들의 활동으로 설명하였다.
 (나) 왕은 유럽·아시아 제국을 경영하기 위한 조치로 자신을 위시하여 장교 및 병사들 1만 여명과 페르시아 여인들의 집단 혼인을 주선하고 아시아 청년들을 병력으로 양성하였다.

- ① (가) - 인간 중심적이고 합리적인 성격을 띠었다.
- ② (가) - 법률과 토목 등 실용적인 분야가 발달하였다.
- ③ (나) - 간다라 미술 형성에 영향을 끼쳤다.
- ④ (나) - 세계 시민주의와 개인주의 경향이 강하였다.
- ⑤ (가), (나) - 서양 고전 문화의 형성에 기여하였다.

17. (가)에 들어갈 내용으로 가장 적절한 것은?

1. 학습 주제

(가)

2. 학습 내용

- 동대사 대불의 조성
- 만엽집에 수록된 시가
- 평성경(헤이조쿄) 구획도

- ① 선진 문화가 수용된 나라 시대
- ② 불교 문화가 발달한 아스카 시대
- ③ 국풍 문화가 등장한 헤이안 시대
- ④ 조닌 문화가 성장한 에도 막부 시대
- ⑤ 선종 문화가 확산된 가마쿠라 막부 시대

18. 삼화의 상황 이후 발생한 사실로 옳은 것은? [3점]

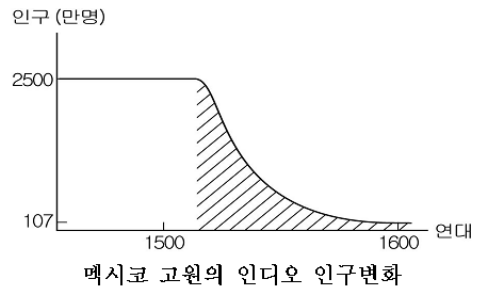
성직자에 대한 과세를 위해 삼부회를 소집하겠소.

필리프 4세, 세상의 모든 군주들은 교황권에 종속된 존재일 뿐이오.



- ① 교황청이 프랑스의 아비뇽으로 이동하였다.
- ② 성지 탈환을 위한 십자군 원정을 시작하였다.
- ③ 클뤼니 수도원이 교회 정화 운동을 시작하였다.
- ④ 보름스 협약을 통해 교황이 서민권을 차지하였다.
- ⑤ 국왕 하인리히 4세와 교황 그레고리우스 7세가 대립하였다.

19. 그래프에 나타난 인구 변화의 원인으로 옳은 것을 <보기>에서 고른 것은? [3점]

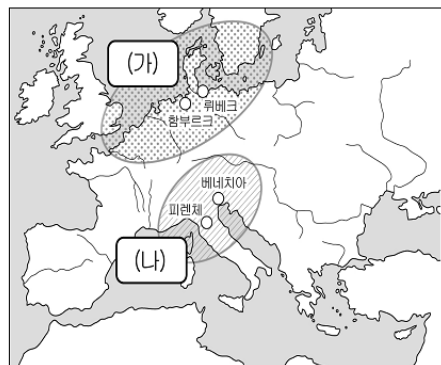


<보기>

- ㄱ. 고대 잉카 문명이 파괴되었다.
- ㄴ. 인디오들이 아프리카에 노예로 팔려갔다.
- ㄷ. 유럽인들을 통해 각종 전염병이 유입되었다.
- ㄹ. 인디오들은 광산이나 대농장에 강제로 동원되었다.

- ① ㄱ, ㄴ ② ㄱ, ㄷ ③ ㄴ, ㄷ ④ ㄴ, ㄹ ⑤ ㄷ, ㄹ

20. 중세 유럽의 (가), (나) 무역권에 대한 옳은 설명을 <보기>에서 고른 것은? [3점]



<보기>

- ㄱ. (가)는 백년 전쟁으로 쇠퇴하였다.
- ㄴ. (나)의 상인들은 르네상스의 후원자가 되었다.
- ㄷ. (가)와 (나)는 내륙 무역권을 통해 연결되었다.
- ㄹ. (가)와 (나)는 한자 동맹을 맺어 결속을 강화하였다.

- ① ㄱ, ㄴ ② ㄱ, ㄷ ③ ㄴ, ㄷ ④ ㄴ, ㄹ ⑤ ㄷ, ㄹ

* 확인 사항

○ 답안지의 해당란에 필요한 내용을 정확히 기입(표기)했는지 확인 하시오.