

제 4 교시

사회탐구 영역 (사회 · 문화)

성명		수험번호							3				
----	--	------	--	--	--	--	--	--	---	--	--	--	--

- 자신이 선택한 과목의 문제지인지 확인하십시오.
- 문제지에 성명과 수험번호를 정확히 써 넣으시오.
- 답안지에 성명과 수험번호를 써 넣고, 또 수험번호와 답을 정확히 표시하십시오.
- 과목을 선택한 순서대로 풀고, 답은 답안지의 '제1선택'란에서부터 차례대로 표시하십시오.
- 문항에 따라 배점이 다르니, 각 물음의 끝에 표시된 배점을 참고하십시오. 3점 문항에만 점수가 표시되어 있습니다. 점수 표시가 없는 문항은 모두 2점입니다.

1. 다음은 사회·문화 수업의 한 과정이다. 수업 활동을 적절하게 수행한 학생은?

교사 : 1471년 스위스 바젤에서는 선천적으로 암탉의 생식구조를 가진 수탉이 알을 낳자, (A) 법칙을 어긴 죄로 그 닭을 법정에서 세워 화형에 처했습니다. 이처럼 동물을 재판하는 것은 (B) 현상으로서 (A) 현상과는 다른 특징이 나타납니다. 그러면 다음 빈 칸에 알맞은 말을 넣어 보세요.

(A) 현상의 특징	(B) 현상의 특징
(⊕)	(⊖)

- ① 갑 : ①에 확률성과 규칙성을 넣을 수 있습니다.
- ② 을 : ②에 재현 가능한 반복성을 넣을 수 있습니다.
- ③ 병 : ①에 개연성을, ②에 당위성을 넣을 수 있습니다.
- ④ 정 : ①에 몰가치성을, ②에 가치 함축성을 넣을 수 있습니다.
- ⑤ 무 : 보편성은 ①, ②에 모두 해당되나, 특수성은 ①에만 해당됩니다.

2. 다음 글에 나타난 사회·문화 현상에 대한 관점과 부합하지 않는 것은?

시장 경제의 원리는 자원의 희소성 문제를 가장 효율적으로 해결할 수 있는 제도이며, 그 과정에서 발생한 빈부 격차 역시 효율성을 높이는 데 도움이 된다. 빈부 격차는 가난한 자들에게 더 열심히 일하게 만들고, 그로 인해 계층 간 이동도 가능하게 한다. 그리고 빈부 격차가 있기 때문에 가진 자는 부를 유지하기 위해, 없는 자는 부를 얻기 위해 창의력을 극대화하려고 노력한다.

- ① 사회 계층화 현상은 진화 과정을 통해 변동한다.
- ② 사회 계층화 현상의 긍정적 측면을 부각시키고 있다.
- ③ 사회 불평등 체계는 여러 가지 사회 문제의 원인이 된다.
- ④ 사회 불평등 체계는 사회적 필요성에 의해 생겨난 것이다.
- ⑤ 사회 계층화는 사회 성원 모두가 공유하는 가치를 반영한 것이다.

3. 그림을 통해 추론할 수 있는 사회·문화 현상을 탐구하는 바람직한 태도로 가장 적절한 것은?



- ① 자신의 주장에 대한 비판을 허용할 수 있어야 한다.
- ② 이해 관계나 주관적 가치의 개입은 배제해야 한다.
- ③ 동일 현상에 대한 다양한 해석은 가급적 피해야 한다.
- ④ 연구 결과에 대해 끝까지 책임지는 자세를 가져야 한다.
- ⑤ 연구 과정에서 사실 문제보다 가치 문제를 더 중시해야 한다.

4. 다음 연구 활동과 관련된 적절한 진술을 <보기>에서 고른 것은? [3점]

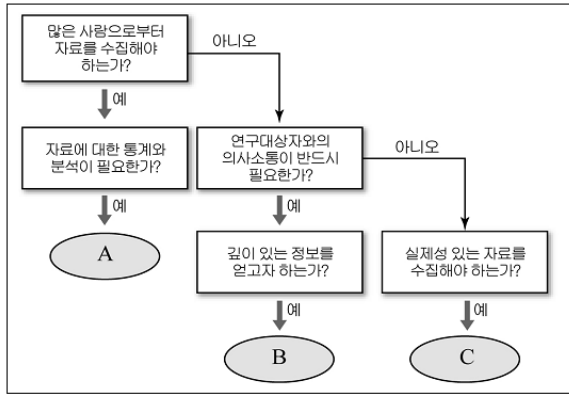
- 주제 : 일상 생활에서의 언어 사용에 관한 연구
- 연구 방법
연구자는 일상 대화에서 어떤 보편적인 표현이라도 그 의미를 분명히 밝혀내면서 대화를 시도한다. 예를 들어 상대편이 “즐거운 하루 보내세요!” 라고 한다면 “정확히 어떤 의미에서 ‘즐겁게’ 라는 말씀입니까?” 혹은, “오늘 하루 중 ‘언제’ 말입니까?” 등으로 응답하면서 연구 대상자의 반응을 관찰한다.
- 결론
대화의 의미가 통하기 위해서는 대화 당사자들이 사회적 맥락에 대한 지식을 가지고 있어야 한다. 대화의 관행이 지켜지지 않으면 의미 있는 의사 소통 및 사회 생활은 불가능하다.

<보기>

- ㄱ. 사회의 구성 요소들을 대립과 갈등 관계로 파악한다.
- ㄴ. 의사 소통을 위해서는 대화 당사자들의 상징 체계를 이해해야 한다.
- ㄷ. 일상 생활에서의 사회적 상호작용에 기반하여 사회 현상을 이해하고자 한다.
- ㄹ. 인간의 역동적인 관계와 행동에 의해 사회 질서가 형성, 유지, 변동된다는 점을 소홀히 한다.

- ① ㄱ, ㄴ ② ㄱ, ㄷ ③ ㄴ, ㄷ ④ ㄴ, ㄹ ⑤ ㄷ, ㄹ

5. A~C는 자료 수집 방법이다. 이를 사용하기에 적절한 연구 주제를 가장 바르게 짚은 것은? [3점]



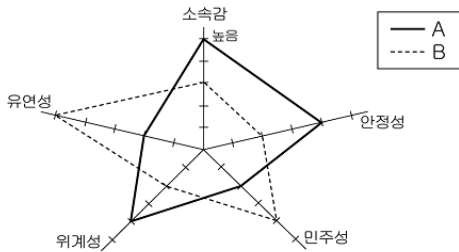
- ① A - 뉴기니 원시 부족의 결혼 풍습
- ② B - 경제 성장률과 이혼율의 상관 관계
- ③ B - 조선 시대의 사회 이동에 관한 연구
- ④ C - 신생아의 감정 표현 및 의사 소통 방식
- ⑤ C - 연령별, 성별, 지역별 정당 지지율 비교 분석

6. 밑줄 친 ㉠~㉣에 대한 설명으로 적절하지 않은 것은? [3점]

㉠일본에 살고있는 제일 동포 2세 ○○○씨는 자신이 조국으로 생각하는 한국의 선거에 참여할 권리가 없다는 사실을 알고 괴로워하던 중 한국 유학을 통해 자신의 정체성을 찾았다. 그는 ㉡조국 참정권 시민 연대를 만들어 12년 간 재외 동포 참정권 운동에 앞장섰다. 그의 의견을 바탕으로 헌법 소원에 대해 2007년 6월 ㉢헌법 재판소가 '헌법 불합치' 결정을 내림에 따라 마침내 그의 노력은 결실을 맺게 되었다.

- ① ㉠은 준거 집단과 소속 집단의 불일치로 발생할 수 있다.
- ② ㉡은 공동의 목표를 달성하기 위한 자발적 결사체이다.
- ③ ㉢의 구성원 간의 관계는 수단적, 형식적 특성이 강하다.
- ④ ㉡은 비공식 조직이지만, ㉢은 공식 조직에 해당한다.
- ⑤ ㉡과 ㉢은 모두 선택적 의지에 의해 결합된 집단이다.

7. 조직의 속성이 A에서 B로 변화될 때 나타날 수 있는 현상으로 적절한 것을 <보기>에서 고른 것은?



- <보기>
- ㄱ. 중간 관리층의 역할이 강화될 것이다.
 - ㄴ. 상향식 의사 결정 구조가 강화될 것이다.
 - ㄷ. 창의적인 업무 수행으로 역동성이 강화될 것이다.
 - ㄹ. 외부 환경에 대한 대처 능력과 부서 간 경계가 강화될 것이다.

- ① ㄱ, ㄴ ② ㄱ, ㄷ ③ ㄴ, ㄷ ④ ㄴ, ㄹ ⑤ ㄷ, ㄹ

8. 자료는 수행 평가 문항지의 일부이다. 적절한 답안을 작성한 학생은? [3점]

다음의 (가)와 (나)는 개인과 사회에 대한 서로 다른 관점을 취하고 있다. 이를 바탕으로 (다)에 대한 자신의 견해를 밝히시오.

(가) 사회의 구성원은 바뀌어도 사회는 생명력을 가지고 지속적으로 존재한다. 사람들의 가치관이나 태도는 거대한 사회 질서를 이루는 한 부분에 지나지 않으며 ... (이하 생략)

(나) 사회는 개인들의 집합체에 불과하므로 개인에 대한 이해를 통해서 사회를 설명할 수 있다. 사회 질서는 개인의 자율적 판단과 선택적인 의지에 의하여 형성되며 ... (이하 생략)

(다) 대체복무제를 허용해서는 안 된다. 개인의 권리만을 강조하고, 국가 구성원으로서 의무를 다하지 않는 것은 양심의 자유를 핑계로 한 이기적인 행동이다. ... (이하 생략)

- ① 갑 : (가) 관점에서 사회 유기체설을 근거로 (다)를 지지했다.
- ② 을 : (가) 관점에서 자율적 인간관을 토대로 (다)를 비판했다.
- ③ 병 : (나) 관점에서 사회를 강조하면서 (다)를 비판했다.
- ④ 정 : (나) 관점에서 사회 계약설에 근거하여 (다)를 지지했다.
- ⑤ 무 : (가)에서 개인주의, (나)에서 전체주의를 추론하여 (다)의 대안을 제시했다.

9. 다음에 나타난 사회 이동과 관련된 진술로 옳지 않은 것은?

프랑스 법무장관 라시다 다티는 모로코 출신의 일용직 노동자의 딸로 태어났다. 14세 때부터 화장품 판매원, 보조 간호사로 일하던 그녀는 경리 직원으로 일하면서 경제학과에 진학하였다. 그 후 다시 국립사법관학교를 졸업하여 고등 판사, 검사 등을 거치며 엘리트 사회에 진입하였으나, 이에 만족하지 않고 당시 사르코지 내무장관에게 세 번의 편지를 보내 보좌관에 임명되었고 이후 법무장관에 기용되었다.

- ① 사회 계층의 구조적 이동이 발생하였다.
- ② 교육이 계층의 개인적 이동에 기여하였다.
- ③ 성취 지위의 획득으로 수직 이동이 나타났다.
- ④ 개방적 계층 구조에서 일어난 사회 이동이다.
- ⑤ 세대 간 이동과 세대 내 이동이 모두 일어났다.

10. 다음은 자기 소개서의 일부이다. 밑줄 친 ㉠~㉣에 대한 설명으로 적절한 것은? [3점]

저는 고등학교 입학식 때 ㉠신입생 대표로 선서를 한 것과 교내 논술 대회에서 ㉡최우수상을 수상한 것을 자랑하고 싶습니다. 그리고 학교 축제 때 ㉢영어 연극반으로서 공연에 참여한 일이 가장 기억에 남습니다. 2학년 때 공연에서는 '백설 공주'의 대본을 작성하고, ㉣왕자 배역을 맡았습니다. 부원들과 함께 ㉤시험 기간에도 밤 10시까지 고되게 연습하면서 협동의 의미와 가치를 깨닫는 소중한 체험을 하였습니다.

- ① ㉠과 동일한 성격의 지위에는 학생, 청소년 등이 있다.
- ② ㉡은 개인의 사회적 지위에 대한 평가 결과이다.
- ③ ㉢은 초기 사회화가 이루어지는 비공식적 사회화 기관이다.
- ④ ㉣은 후천적인 노력보다는 선천적으로 결정되는 지위이다.
- ⑤ ㉤에서는 서로 다른 역할이 상충할 수 있다.

11. 다음 (A)와 관련된 진술로 적절한 것을 <보기>에서 고른 것은? [3점]

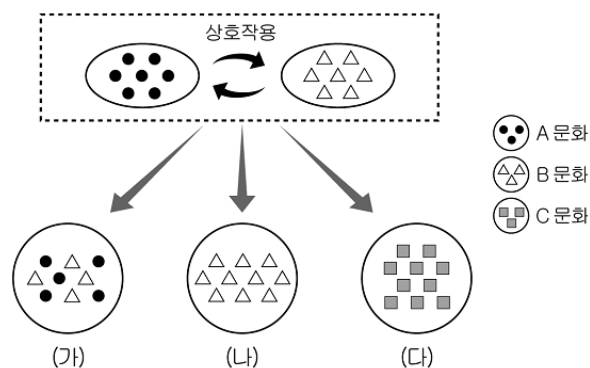
현재 빠르게 진행되고 있는 전(全) 지구화 현상은 문화적 경계를 허물고 문화적 정체성을 혼란스럽게 하고 있다. 오늘날 대도시에 사는 사람들은 문화적으로 농촌 사람들보다 선진국의 대도시 사람들과 더 가깝게 느끼지 모른다. 이러한 현상은 기본적으로 선진국 또는 강대국의 초국적 자본에 의해 촉진된다. 강대국의 영화가 모든 나라의 영화 산업을 지배한 다든가, 햄버거와 콜라가 세계인의 입맛을 바꾸는 것 등이 그 예에 속한다. 이러한 자본의 예측에 따른 문화의 예측 현상을 가리켜 (A)(이)라고 일컫는다.

<보 기>

- ㄱ. 문화의 상대성과 다양성을 중시할수록 가속화될 것이다.
- ㄴ. 강대국에 의한 일방적인 문화 전파 및 상품화로 문화의 획일화가 나타날 수 있다.
- ㄷ. 자기 문화를 기준으로 다른 민족이나 사회의 문화를 평가하는 경향에서 비롯된 것이다.
- ㄹ. 특정의 문화는 그 사회의 필요 또는 요구에 의해 나타난 것이므로 각 문화에 대한 질적 평가는 할 수 없다.

- ① ㄱ, ㄴ ② ㄱ, ㄷ ③ ㄴ, ㄷ ④ ㄴ, ㄹ ⑤ ㄷ, ㄹ

12. 그림은 문화 변동 과정 및 양상을 나타낸 것이다. (가)~(다)와 관련된 내용으로 가장 적절한 것은? [3점]



- ① (가)는 외국인들이 우리 문화에 흡수되는 경우이다.
- ② (나)는 동남아시아 고유의 문화와 이슬람 문화가 공존하는 경우이다.
- ③ (다)는 외래 종교와 토속 신앙이 혼합되어 새로운 종교 체계가 만들어지는 경우이다.
- ④ (가), (나)는 성격이 같은 문화 체계들 간에 일어나는 단기간의 문화 변동이다.
- ⑤ (나)는 (다)보다 문화의 다양성에 기여하는 문화 변동 양상이다.

13. 다음 자료를 통해 추론할 수 있는 내용으로 적절한 것을 <보기>에서 고른 것은?

- 도시에 살고 있는 영식은 토요일에 갈 시골의 주말 농장 위치를 인터넷에서 검색하면서, 유기농 감자로 만든 튀김을 먹고 있다. 동생은 전통 문화를 익히기 위해 지리산 청학동으로 체험 학습을 갔다.
- 농촌에 살고 있는 주영이는 ○○시청의 인터넷 강의를 듣고 있는 중이며, 누나는 잡지를 보면서 서울에서 유행하는 옷차림을 찾고 있다. 거실에서는 로봇 청소기가 청소를 하고 있다.

<보 기>

- ㄱ. 농촌과 도시 간 문화적 격차가 늘어날 것이다.
- ㄴ. 농촌과 도시의 상호 의존성이 증대될 것이다.
- ㄷ. 도시와 농촌 주민의 가치관이 획일화될 것이다.
- ㄹ. 도시와 농촌 간의 공간적 구분이 점차 모호해질 것이다.

- ① ㄱ, ㄴ ② ㄱ, ㄷ ③ ㄴ, ㄷ ④ ㄴ, ㄹ ⑤ ㄷ, ㄹ

14. 다음 글에서 갑과 을이 중시하는 연구 방법의 일반적 특징을 옳게 표시한 것은?

갑 : 기업의 재무 상태를 나타내는 대차 대조표, 경영 성과를 보여주는 손익 계산서 등을 분석하여 투자를 결정해야 한다. 주가 수익률, 매출액 증가율 등을 분석하면 기업의 수익성을 파악할 수 있다.

을 : 기업의 재무 구조보다 기업 내부의 인간적 요소를 파악하여 투자를 결정해야 한다. 기업 활동과 관련된 인쇄물, 편지, 전화 등 이면자료를 통해 사원 간의 상호작용과 친밀성, 애사심, 윤리 의식 등을 고려해야 한다.

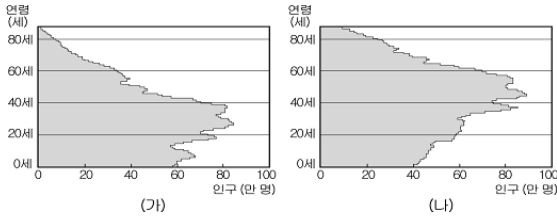
	연구 방법의 일반적 특징	갑	을
①	보편적인 법칙 발견을 목적으로 한다.		✓
②	연역적 추론의 과정을 주로 사용한다.		✓
③	연구 대상과 일정한 거리를 유지한다.	✓	
④	인간의 주관적 영역 연구에 적합하다.	✓	
⑤	자연과 인간이 존재론적으로 다름을 전제로 한다.	✓	

15. 다음 사례에서 나타나는 문화 인식의 태도에 대한 설명으로 옳은 것은?

- (가) 중국인들은 중화 사상을 바탕으로 주변의 모든 민족을 오랑캐로 여겼다.
- (나) 우리 고유의 풍습은 무시하면서 발렌타인데이나 할로윈 데이에 요란한 행사를 즐기는 젊은이가 늘고 있다.
- (다) 신생국이나 후진국에서는 서구를 기준으로 전통적 제도와 생활 양식을 포기하고 경제 성장을 추구하였다.

- ① (가)는 문화의 개방성을 강조하여 국제 교류를 증진시킨다.
- ② (나)는 상대적 기준으로 타문화를 평가하는 태도이다.
- ③ (다)는 세계화 시대에 갖추어야 할 바람직한 태도이다.
- ④ (나)는 (가)에 비해 집단 내 일체감을 형성하는데 기여한다.
- ⑤ (나), (다)는 민족 문화의 가치를 과소평가하여 정체성을 상실할 수 있다.

16. 어떤 나라의 인구 구조가 (가)에서 (나)로 변화될 때 나타날 수 있는 현상에 대해 옳게 추론한 것을 <보기>에서 고른 것은? [3점]



<보 기>

- ㉠. 노인들의 정치적 영향력이 위축될 것이다.
- ㉡. 노인의 사회·경제적 지위가 약화될 것이다.
- ㉢. 가족의 사회 성원 재생산 기능이 감소할 것이다.
- ㉣. 노인을 부양하기 위한 사회적 부담이 증가할 것이다.

- ① ㉠, ㉡ ② ㉠, ㉢ ③ ㉡, ㉣ ④ ㉢, ㉣ ⑤ ㉣, ㉣

17. 다음 자료에 근거하여 일어나게 될 사회적 변화로 옳은 것을 <보기>에서 모두 고른 것은?

가족 관계 등록 제도의 시행으로 개인이 각자의 가족 관계 등록부를 가지게 되었다. 가족 관계 등록부에는 부모나 가족의 이혼, 재혼 등 신분 변동 사항이 기록되지 않으며, 법률에 정해진 경우 외에는 신분 등록 사항 전부를 임의로 확인할 수 없다. 자녀가 어머니의 성을 따를 수 있고, 재혼 가정의 자녀가 새아버지의 성으로 바꿀 수 있으며, 이혼 여성도 자녀와의 부모 관계를 인정받을 수 있다.

<보 기>

- ㉠. 이혼이나 재혼에 의한 사회적 불이익이 감소될 것이다.
- ㉡. 개인 정보 노출 방지 및 사생활 보호에 기여할 것이다.
- ㉢. 가부장적 문화와 친족 집단의 영향력이 강화될 것이다.
- ㉣. 양성 평등 실현과 사회적 다양성 강화에 기여할 것이다.

- ① ㉠, ㉡ ② ㉠, ㉢ ③ ㉡, ㉣
④ ㉠, ㉡, ㉣ ⑤ ㉡, ㉢, ㉣

18. 다음 글이 우리에게 시사하는 바로 가장 적절한 것은?

○ 중국인뿐만 아니라 서양인들까지도 온돌이 연출하는 훈훈한 주거 환경에 매료되면서 한국식 온돌이 확산되고 있다.
○ 서양에서 불고 있는 대체 의학 바람에 힘입어 우리의 한의학(韓醫學)이 세계로 진출하고 있다. 앞으로 동서 의학을 상호 보완하여 제3의 의학을 탄생시킬 나라가 바로 우리 한국이다.

- ① 전통 문화는 보편화된 세계 문화와 일치되어야 한다.
- ② 문화적 자부심을 바탕으로 다른 문화를 흡수해야 한다.
- ③ 물질 문화의 발전 정도에 따라 민족 문화의 수준이 결정된다.
- ④ 문화의 다양화를 위해 고유의 전통 문화를 있는 그대로 재현해야 한다.
- ⑤ 전통 문화 속에서 세계적으로 보편화될 수 있는 문화 요소를 발견하여 재창조해야 한다.

19. 다음 신문 기사에 나타난 문화의 속성에 대한 설명으로 적절한 것을 <보기>에서 고른 것은? [3점]

전통적으로 남자는 ‘브레드 워너(Bread Winner)’, 즉 밥벌이 역할이 강조돼 왔지만 요즘은 꼭 그렇지만도 않다. 아내가 능력이 뛰어나다면 과감히 ‘전업 주부’를 선택하는 남편이 많다. 통계청 조사에서 육아·가사만 전담하는 남성들은 2006년 15만 명으로, 3년 새 42.5% 늘어났다. 미국에서는 성공한 아내를 위해 가사와 육아를 책임지는 남편을 ‘트로피 남편’이라고 부르며, 영국 선데이타임스는 ‘알파 걸’을 내조하는 남성을 ‘베타 남’이라고 소개하기도 했다.

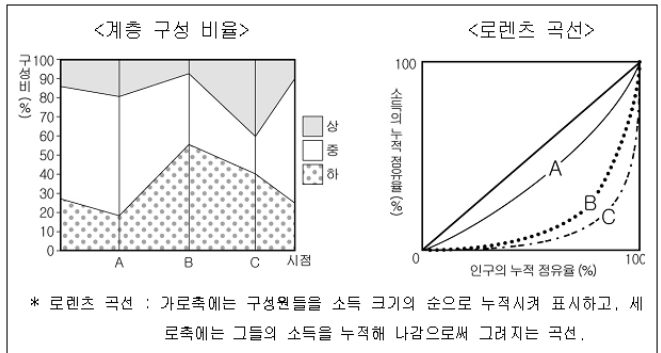
- ○○일보 -

<보 기>

- ㉠. 문화의 구체적인 양상은 시간의 흐름에 따라 변화한다.
- ㉡. 급속한 문화의 변동 과정에서는 가치관의 혼란이 수반된다.
- ㉢. 문화는 기존 문화에 점점 새로운 지식이나 경험이 첨가되는 것이다.
- ㉣. 문화 과정에 새로운 문화 요소가 등장하면 필연적으로 문화의 변동을 초래한다.

- ① ㉠, ㉡ ② ㉠, ㉢ ③ ㉡, ㉣ ④ ㉢, ㉣ ⑤ ㉣, ㉣

20. 어떤 사회의 각 시점에서 계층 구성 비율과 로렌츠 곡선을 아래와 같이 가정할 때, 이에 대한 분석으로 적절한 것을 <보기>에서 고른 것은? [3점]



* 로렌츠 곡선 : 가로축에는 구성원들을 소득 크기의 순으로 누적시켜 표시하고, 세로축에는 그들의 소득을 누적해 나감으로써 그려지는 곡선.

<보 기>

- ㉠. A 시점이 B 시점 보다 계층 구조가 안정적이고, 소득 분배는 더 균등하다.
- ㉡. B 시점에서 사회 보장 제도를 확충하면 로렌츠 곡선은 C 방향으로 이동할 것이다.
- ㉢. C 시점에서 누진 소득세제의 시행은 소득 불균등 정도를 완화시킬 것이다.
- ㉣. C 시점보다 A 시점에서 사회 통합을 위한 정책이 더 필요하다.

- ① ㉠, ㉡ ② ㉠, ㉢ ③ ㉡, ㉣ ④ ㉢, ㉣ ⑤ ㉣, ㉣

* 확인 사항

○ 답안지의 해당란에 필요한 내용을 정확히 기입(표기)했는지 확인하십시오.