

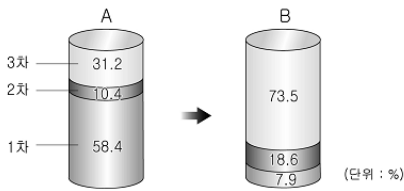
제 4 교시

사회탐구 영역(경제지리)

성명		수험번호				3			
----	--	------	--	--	--	---	--	--	--

- 자신이 선택한 과목의 문제지인지 확인하십시오.
- 문제지에 성명과 수험번호를 정확히 써 넣으시오.
- 답안지에 성명과 수험번호를 써 넣고, 또 수험번호와 답을 정확히 표시하십시오.
- 과목을 선택한 순서대로 풀고, 답은 답안지의 '제1선택'란에서부터 차례대로 표시하십시오.
- 문항에 따라 배점이 다르니, 각 물음의 끝에 표시된 배점을 참고하십시오. 3점 문항에만 점수가 표시되어 있습니다. 점수 표시가 없는 문항은 모두 2점입니다.

1. 어느 국가의 산업별 인구 구조가 A에서 B로 변화할 때 나타나는 현상으로 알맞은 것은?



- ① 1인당 에너지 소비량: 그래프 A에서 B로 감소
- ② 기업의 공간적 분업: 그래프 A에서 B로 감소
- ③ 도시 인구 비율: 그래프 A에서 B로 증가
- ④ 생산요소 중 토지비중: 그래프 A에서 B로 증가
- ⑤ 실버 산업의 규모: 그래프 A에서 B로 감소

2. 자료와 같은 농업 방식의 문제점을 <보기>에서 모두 고른 것은?



<보 기>

- ㄱ. 시설 재배를 위한 과도한 투자 비용
- ㄴ. 자본 투자국과 생산국과의 빈부 격차 심화
- ㄷ. 경작지 확대에 의한 토양 침식 등 환경 파괴
- ㄹ. 기호 작물의 대규모 재배로 식량 부족 현상 초래

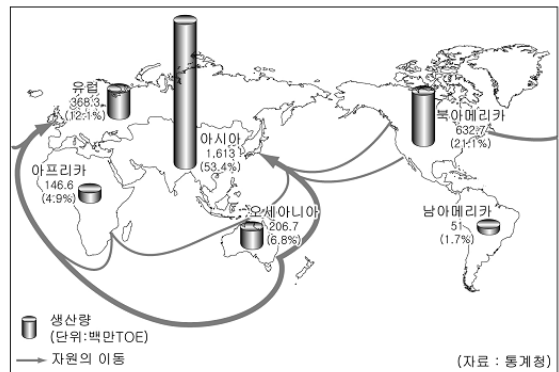
- ① ㄱ, ㄴ      ② ㄱ, ㄷ      ③ ㄱ, ㄴ, ㄷ
- ④ ㄴ, ㄷ, ㄹ      ⑤ ㄱ, ㄴ, ㄷ, ㄹ

3. 지도는 지리적 등록 상표의 사례 지역을 나타낸 것이다. 이에 대한 설명으로 알맞지 않은 것은? [3점]



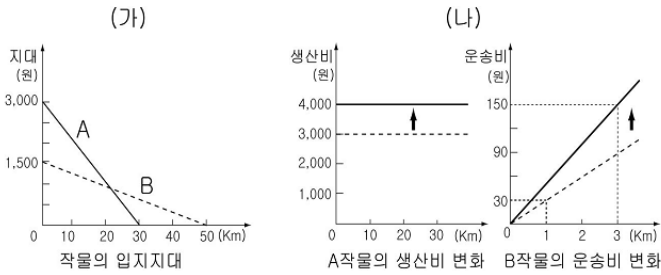
- ① 지역성을 나타낼 수 있는 작물이 주로 선정되었다.
- ② 지역 명칭을 사용하여 상품을 브랜드화할 수 있다.
- ③ 우리 농산물 및 가공품의 경쟁력을 강화할 수 있다.
- ④ 생산 품목의 전문화로 지역 특화를 유도할 수 있다.
- ⑤ 등록된 지역에서만 해당 작물을 재배 및 판매할 수 있다.

4. 그림은 어떤 자원의 생산량과 이동을 나타낸 것이다. 이 자원에 대한 설명으로 알맞은 것은?



- ① 구대륙에서 신대륙으로의 이동이 활발하다.
- ② 전기·통신 산업의 발달로 사용량이 급증하고 있다.
- ③ 광물의 경도가 강하고 공업의 원료나 귀금속으로 가공된다.
- ④ 산업혁명 초기 주 에너지 자원으로 환경 문제의 원인이 되고 있다.
- ⑤ 특수강을 만드는 합금의 원료로 사용되며 국내 매장량이 풍부하다.

5. (가)의 입지지대가 (나)와 같이 변화하였을 때 나타나는 현상으로 알맞은 것을 <보기>에서 고른 것은? [3점]  
(단, 입지지대=시장가격-생산비-운송비)



- <보기>
- ㉠. A작물은 B보다 재배 면적이 넓다.
  - ㉡. A작물은 B보다 운송비 변화에 민감하다.
  - ㉢. B작물은 A보다 시장 가격과 생산비의 차이가 크다.
  - ㉣. 시장에서 20km 지점에서는 B작물을 재배하는 것이 유리하다.

① ㉠, ㉡    ② ㉠, ㉢    ③ ㉡, ㉢    ④ ㉡, ㉣    ⑤ ㉢, ㉣

6. 자료는 국가별 에너지 소비 현황을 나타낸 것이다. 이를 토대로 적절하게 추론한 것을 <보기>에서 고른 것은? [3점]

국가	구분	에너지 소비량 (단위: 백만TOE)	1인당 에너지 소비량 (단위: TOE)	에너지 원단위 (단위: 백\$/TOE)
이탈리아		185.19	3.16	1.64
한국		213.77	4.43	3.33
영국		233.93	3.88	1.44
프랑스		275.97	4.40	1.93
독일		344.75	4.18	1.76
일본		530.46	4.15	1.06
미국		2,340.29	7.89	2.13

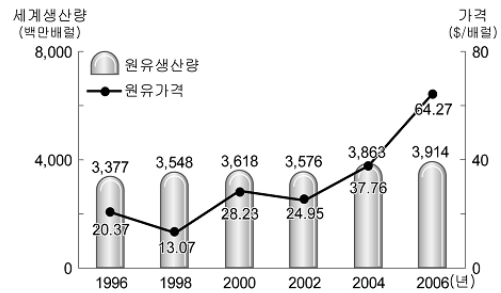
(자료: 국제에너지기구, 2005)

\* 에너지 원단위: GDP 100달러를 생산하기 위해 투입되는 에너지 소비량

- <보기>
- ㉠. 에너지 소비량이 많은 국가일수록 자원 매장량이 풍부할 것이다.
  - ㉡. 1인당 에너지 소비량이 많은 국가일수록 경제 규모가 클 것이다.
  - ㉢. 미국은 일본에 비해 환경 관련 산업에 대한 투자의 필요성이 클 것이다.
  - ㉣. 에너지 원단위가 낮은 국가일수록 자원 절약형 산업의 비중이 클 것이다.

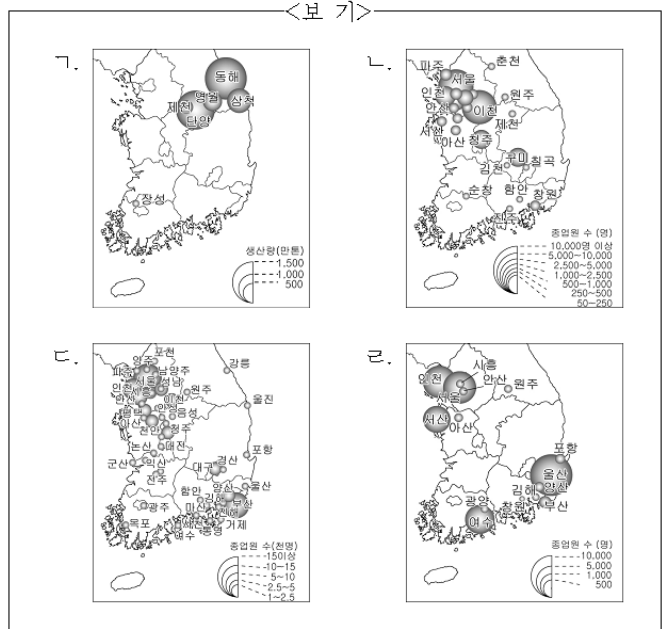
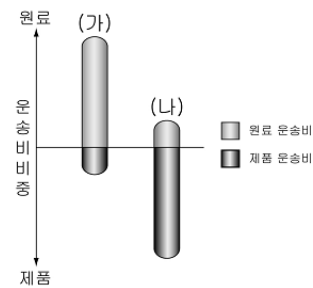
① ㉠, ㉡    ② ㉠, ㉢    ③ ㉡, ㉢    ④ ㉡, ㉣    ⑤ ㉢, ㉣

7. 그래프와 같은 현상이 지속될 때 예상되는 문제점에 대한 우리나라의 대책으로 적절하지 않은 것은? [3점]



- ① 탄력 근무제를 도입하여 교통량을 분산시킨다.
- ② 건축물의 에너지 효율 등급 인증을 제도화한다.
- ③ 석유 제품의 유통 구조를 개선하여 가격을 낮춘다.
- ④ 신·재생 에너지에 대한 개발 및 투자를 확대한다.
- ⑤ 건물 설계 시 에너지 소비 총량 규제 제도를 도입한다.

8. 그래프의 (가), (나)와 같은 운송비 구조를 보이는 공업의 분포를 <보기>에서 찾아 알맞게 연결한 것은? (단, 원료와 제품의 운송비만 고려한다.)



(가)    (나)    (가)    (나)

- ①    ㉠    ㉡    ②    ㉠    ㉡
- ③    ㉡    ㉢    ③    ㉡    ㉢
- ④    ㉢    ㉣    ④    ㉢    ㉣
- ⑤    ㉣    ㉣    ⑤    ㉣    ㉣

9. 자료에서 설명하는 (가)의 특색으로 알맞은 것을 <보기>에서 고른 것은? [3점]

(가)는 지구상에서 가장 풍부하고 생산성이 높은 생물 군집이며, 지구상에 생물이 출현한 이후 자연이 지표면에 베풀어 준 가장 큰 축복이라 할 수 있다. (가)는 아마존 유역과 인도네시아 일대에 집중 분포하며, 특히 아마존 유역은 전 세계 산소의 20% 이상을 생산하여 지구의 허파 역할을 하고 있다. 그러나 과거 지구 표면의 14%를 덮고 있던 (가)는 매년 약 1,700만 ha가 파괴되고 있다.


<보 기>

- ㄱ. 임야 면적이 넓고 임목 축적량이 가장 많다.
- ㄴ. 나무에 윤이 나고 고와서 가구용으로 많이 이용된다.
- ㄷ. 대부분의 숲이 벌채되어 인공림이 조성된 경우가 많다.
- ㄹ. 굵은 가지가 적고 목질이 연하여 가공 비용이 적게 든다.

- ① ㄱ, ㄴ    ② ㄱ, ㄷ    ③ ㄴ, ㄷ    ④ ㄴ, ㄹ    ⑤ ㄷ, ㄹ

10. 자료의 밑줄 친 현상이 나타나는 배경으로 가장 알맞은 것은?

1인당 GDP가 1,000달러 수준인 인도는 아직 승용차 시장 규모가 한국(120만~130만대)보다 적은 117만대(2007년)에 불과하다. 그럼에도 우리나라의 ○○를 비롯하여 여러 나라의 ☆☆, △△, □□, ▽▽ 자동차 등이 저마다 현지에 공장을 건설하기 위해 치열한 각축전을 벌이고 있다.



인도에 진출한 세계 자동차 회사들

(자료 : 한국자동차산업연구원)

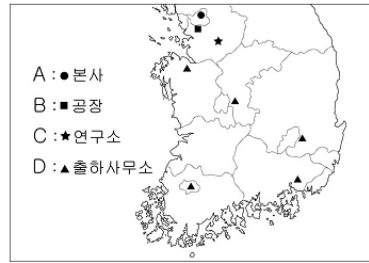
- ① 용이한 원료 확보
- ② 쾌적한 기후 환경
- ③ 경쟁 업체 간의 집적 이익
- ④ 잠재력이 큰 소비 시장 확보
- ⑤ 제품 개발에 필요한 기술 확보

11. 자료와 같은 현상으로 나타날 수 있는 변화를 알맞게 추론한 것은?



- ① 기업의 광고 비용이 감소할 것이다.
- ② 직접 방문 구매자의 비중이 증가할 것이다.
- ③ 상품의 유통 단계가 더욱 복잡해질 것이다.
- ④ 기업 활동의 분화와 전문화가 확대될 것이다.
- ⑤ 신기술 개발을 위한 투자 비용이 감소할 것이다.

12. 지도는 어느 기업의 사업장 분포를 나타낸 것이다. A~D의 입지 특색으로 알맞은 것을 <보기>에서 고른 것은? [3점]

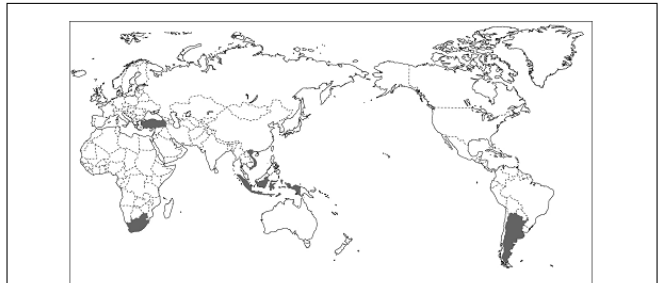


<보 기>

- ㄱ. A-자본이 풍부하고 정보 접근성이 높은 대도시 지역
- ㄴ. B-저렴한 비용으로 넓은 부지를 확보할 수 있는 지역
- ㄷ. C-접근성과 운송의 편리성을 갖춘 지역
- ㄹ. D-전문 연구 인력과 관련 시설이 집적된 지역

- ① ㄱ, ㄴ    ② ㄱ, ㄷ    ③ ㄴ, ㄷ    ④ ㄴ, ㄹ    ⑤ ㄷ, ㄹ

13. 지도에 표시된 국가들의 공통적인 성장 배경으로 알맞은 것을 <보기>에서 고른 것은?



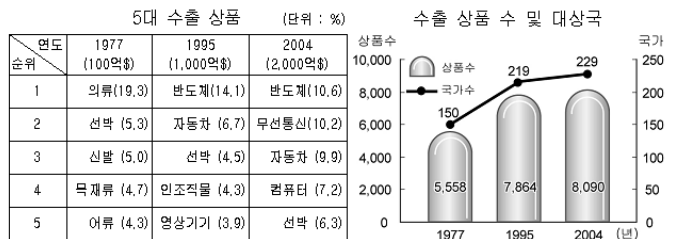
브라질, 러시아, 인도, 중국 등 브릭스(BRICs) 4개국의 뒤를 이을 신흥 성장국으로 '비스타(VISTA : 전망 좋은 장소)'가 급부상하고 있다.

<보 기>

- ㄱ. 축적된 고급 기술
- ㄴ. 급속한 구매력 성장
- ㄷ. 적극적인 해외 투자
- ㄹ. 풍부한 자원과 노동력

- ① ㄱ, ㄴ    ② ㄱ, ㄷ    ③ ㄴ, ㄷ    ④ ㄴ, ㄹ    ⑤ ㄷ, ㄹ

14. 자료를 토대로 우리나라 무역에 대해 추론한 것으로 적절하지 않은 것은? [3점]

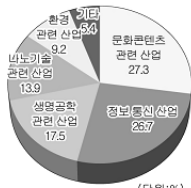


- ① 1차 상품의 수출 비중은 감소할 것이다.
- ② 수출 품목과 수출 지역이 다양해질 것이다.
- ③ 원자재의 수입량은 지속적으로 증가할 것이다.
- ④ 가공 무역 형태의 공업이 더욱 발달할 것이다.
- ⑤ 노동 집약적인 공업 제품의 수출 비중이 증가할 것이다.

15. 자료를 바탕으로 추론할 수 있는 산업의 변화로 적절한 것을

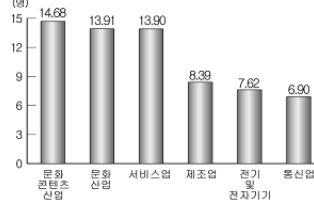
<보기>에서 고른 것은?

젊은층(15~35세)이 본 21세기 성장주도산업



산업별 고용유발계수

(매출액 10억 원당 고용 근로자 수)

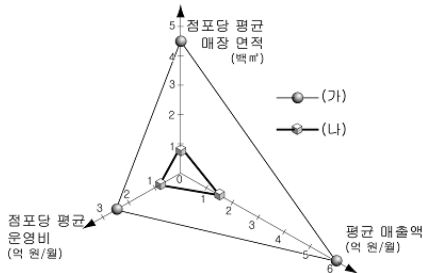


<보기>

- ㉠. 지적 재산권의 중요성이 증가할 것이다.
- ㉡. 문화콘텐츠 산업종사자 비율이 가장 높아질 것이다.
- ㉢. 성장주도산업이 GDP에서 차지하는 비중은 증가할 것이다.
- ㉣. 성장주도산업은 넓은 매장이 필요하여 주로 도시 주변에 집중될 것이다.

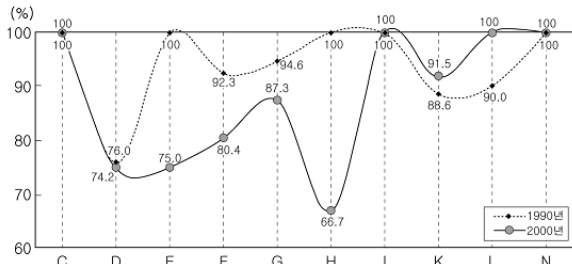
- ① ㉠, ㉡    ② ㉠, ㉢    ③ ㉡, ㉣    ④ ㉡, ㉣    ⑤ ㉢, ㉣

16. 동일업종 (가), (나) 상점에 대한 설명으로 알맞지 않은 것은?



- ① (가)는 (나)보다 상점의 수가 많다.
- ② (가)는 (나)보다 최소 요구치가 크다.
- ③ (가)는 (나)보다 제화의 도달 범위가 넓다.
- ④ (가)는 (나)보다 접근성이 좋은 곳에 입지한다.
- ⑤ (가)는 (나)보다 판매하는 상품의 종류가 많다.


17. 자료는 우리나라 500대 기업 본사의 산업별 수도권 입지 비중 변화를 나타낸 것이다. 이에 대한 분석으로 알맞은 것은? [3점]



\* C(공업), D(제조업), E(전기, 가스 및 수도사업), F(건설업), G(도매 및 소매업), H(숙박 및 음식점업), I(운수, 창고 및 통신업), K(금융 및 보험업), L(부동산 및 임대업), N(사회 및 개인서비스업)

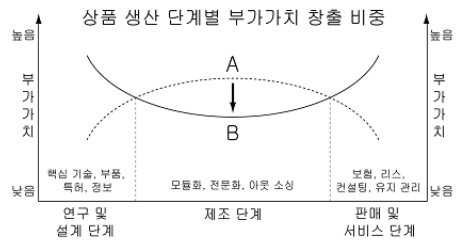
- ① 소비자 서비스업의 비중이 증가하였다.
- ② 집중도가 큰 산업일수록 생산액이 많다.
- ③ 제2차 산업의 수도권 집중도가 높아졌다.
- ④ 생산자 서비스업의 지방 이전이 활발해졌다.
- ⑤ 인구 집중으로 부동산 및 임대업 비중이 높아졌다.

18. 자료를 통해 추론한 내용으로 적절하지 않은 것은? [3점]



- ① 영국은 우리나라에 비해 녹색 GDP의 규모가 클 것이다.
- ② 우리나라가 프랑스보다 환경 보호 지출액이 많을 것이다.
- ③ GDP 대비 녹색 GDP의 비중이 높은 국가는 저공해 산업이 발달했을 것이다.
- ④ 오·폐수 관리 및 대기 오염 정화 비용이 증가할수록 녹색 GDP는 감소할 것이다.
- ⑤ GDP 대비 녹색 GDP의 비중이 낮은 국가는 친환경 기술 개발에 대한 투자의 필요성이 클 것이다.

19. 그래프와 같이 A에서 B 시기로 변화할 때 나타나는 특징으로 알맞은 것은? [3점]



- ① 소품종 대량 생산 방식이 확산된다.
- ② 기업 활동의 공간적 분업이 축소된다.
- ③ 단일 공장에서의 일괄 생산 체제가 확대된다.
- ④ 제조 단계에서의 부가 가치 창출 비중이 커진다.
- ⑤ 자본과 기술보다 지식과 정보의 중요성이 커진다.

20. 자료에 나타난 지역의 관광 자원 개발 방법으로 가장 적절한 것은?

치타슬로(cittaslow, slow city) : 느리게 살기 마을 국제연맹은 급격한 글로벌화와 도시화 가운데서도 전통적 삶의 방식과 공동체 정신을 아름답게 지켜내고 있는 우리나라의 4곳을 치타슬로 마을로 선정하였다.

- ① 체험 관광 프로그램을 개발한다.
- ② 재개발 사업을 통하여 경관을 현대화한다.
- ③ 산업 시설 유치를 통해 지역 생산성을 향상시킨다.
- ④ 주거 단지를 조성하여 토지 이용의 효율성을 높인다.
- ⑤ 지역 내에 관광객을 위한 대규모 숙박 시설을 건설한다.

\* 확인 사항  
○ 답안지의 해당란에 필요한 내용을 정확히 기입(표기)했는지 확인 하시오.